

الأخبار

مكتبة تحريية للابنة
مجانية

6

الدراسات الاجتماعية

الصف السادس الابتدائي
الفصل الدراسي الأول

2025

• المهام الأدائية
• أكبر بنك أسئلة
• على المنهج

مدرسين
هاتف

المحتويات

المحور الأول: البيئة الطبيعية

الوحدة الأولى وحدة أرض وتاريخ شعب



- الدرس الأول: الموقع الجغرافي لوطننا العربي ٩
 الدرس الثاني: قصة ظهور الإسلام ٢٠
 الدرس الثالث: هجرة الرسول ﷺ وتأسيس الدولة الإسلامية ٣٠
 الدرس الرابع: لمحات من حياة الخلفاء الراشدين ٤٠
 اختبارات الأضواء على الوحدة الأولى ٥١
 النماذج الاسترشادية على الشهر الأول ٥٣

الوحدة الثانية الملامح الطبيعية لوطننا العربي



- الدرس الأول: مظاهر سطح وطننا العربي ٥٦
 الدرس الثاني: العوامل المؤثرة في مناخ وطننا العربي ٦٦
 الدرس الثالث: الأقاليم المناخية والنباتية في وطننا العربي ٧٨
 الدرس الرابع: المشكلات البيئية في وطننا العربي ٨٨
 شخصيات عربية مؤثرة: الخليفة أبو بكر الصديق - الخليفة عمر بن الخطاب ٩٩
 اختبارات الأضواء على الوحدة الثانية ١٠١
 النماذج الاسترشادية على الشهر الثاني ١٠٣
 بنك الأسئلة على المحور الأول ١٠٥
 مراجعة الكتاب المدرسي على المحور الأول ١١٢

المحور الثاني: الموارد والتنمية

الوحدة الثالثة الموارد والأنشطة الاقتصادية في وطننا العربي



- الدرس الأول: الزراعة في وطننا العربي ١١٦
 الدرس الثاني: الثروة الحيوانية والسمكية في وطننا العربي ١٢٨
 الدرس الثالث: التعدين والصناعة في وطننا العربي ١٣٩
 الدرس الرابع: السياحة في وطننا العربي ١٥١
 الدرس الخامس: التجارة في وطننا العربي ١٦١
 هيئات مؤثرة في المجتمع العربي: المنظمة العربية للتنمية الزراعية - المنظمة العربية للسياحة ١٧٢
 اختبارات الأضواء على الوحدة الثالثة ١٧٤
 بنك الأسئلة على المحور الثاني ١٧٦
 مراجعة الكتاب المدرسي على المحور الثاني ١٧٩
 مشروع الكتاب المدرسي على الفصل الدراسي الأول ١٨١

الملحق الداخلي



- المهام الأدائية المقترحة ١٨٣
 الأطلس المصور ١٨٥
 المراجعة النهائية ١٩٤
 مراجعة الكتاب المدرسي على الفصل الدراسي الأول ٢٠٤
 بنك أسئلة الأضواء على الفصل الدراسي الأول ٢٠٨
 امتحانات المحافظات والإدارات للعام الدراسي ٢٠٢٣ - ٢٠٢٤ م ٢١١
 الإجابات النموذجية ٢٣٨

خريطة المنهج



المحور الأول: البيئة الطبيعية

شخصيات عربية مؤثرة: الخليفة أبو بكر الصديق (رضي الله عنه) - الخليفة عمر بن الخطاب (رضي الله عنه).
السؤال الرئيسي: ما أهم الملامح الطبيعية لوطننا العربي؟ وكيف ظهر الإسلام وانتشر في أرجاء وطننا العربي؟

القضايا والتحديات	القيم	المهارات الحياتية	الموضوعات	الوحدة الأولى وحدة أرض وتاريخ شعب
• المواطنة. • العولمة.	• حب الوطن. • الانتماء.	• إدراك العلاقات. • توليد الأفكار. • جمع المعلومات وتسجيلها. • الملاحظة.	• الموقع الجغرافي للوطن العربي بالنسبة إلى العالم. • أهمية الموقع الجغرافي لوطننا العربي. • النتائج المترتبة على الموقع الجغرافي لوطننا العربي.	الدرس الأول: الموقع الجغرافي لوطننا العربي
• المواطنة.	• الصبر. • التأمل. • احترام العمل. • الأمانة. • احترام الاختلاف.	• التمييز بين أوجه التشابه والاختلاف. • جمع المعلومات وتسجيلها. • إدراك العلاقات. • التعاطف.	• ميلاد الرسول ﷺ وصفاته. • ملامح الحياة في شبه الجزيرة العربية قبل الإسلام. • مراحل الدعوة الإسلامية. • الصعوبات التي واجهت الرسول ﷺ في نشر دعوته.	الدرس الثاني: قصة ظهور الإسلام
• المواطنة. • الحقوق. • الواجبات. • العولمة.	• تحمل المسؤولية. • المشاركة. • احترام الاختلاف. • التسامح.	• إدراك العلاقات. • توليد الأفكار. • المرونة. • حل المشكلات. • اتخاذ قرار.	• هجرة الرسول ﷺ إلى يثرب. • أسس بناء الدولة الإسلامية. • بعض غزوات الرسول ﷺ. • آداب الحرب في الإسلام. • أهم قيم المواطنة في صحيفة المدينة.	الدرس الثالث: هجرة الرسول ﷺ وتأسيس الدولة الإسلامية
• المواطنة. • العولمة.	• الإتيان. • تحمل المسؤولية. • المشاركة. • احترام الاختلاف.	• التمييز بين أوجه التشابه والاختلاف. • جمع المعلومات وتسجيلها. • إدراك العلاقات. • الطلاقة والمرونة في طرح الأفكار.	• بعض إنجازات الخلفاء الراشدين (أبو بكر الصديق - عمر بن الخطاب - عثمان بن عفان - علي بن أبي طالب). • القيم التي التزم بها الخلفاء الراشدون (رضي الله عنهم) في حياتهم.	الدرس الرابع: لمحات من حياة الخلفاء الراشدين (رضي الله عنهم)

القضايا والتحديات	القيم	المهارات الحياتية	الموضوعات	الوحدة الثانية الملامح الطبيعية لوطننا العربي
• البيئة والتنمية. • المواطنة.	• تقدير جمال الطبيعة. • المحافظة على الموارد. • حب الاستطلاع.	• الملاحظة. • توليد الأفكار. • إدراك العلاقات.	• مظاهر سطح الوطن العربي وعوامل تشكيلها (الجبال - الهضاب - السهول). • علاقة مظاهر السطح بالأنشطة الاقتصادية في الوطن العربي.	الدرس الأول: مظاهر سطح وطننا العربي
• البيئة والتنمية. • العولمة.	• تقدير العلم والعلماء. • تحمل المسؤولية. • حب الاستطلاع.	• إدراك العلاقات. • الملاحظة. • جمع المعلومات وتسجيلها. • الطلاقة في طرح الأفكار.	• تأثير كل من الموقع الفلكي والمساحات المائية ومظاهر السطح والتيارات البحرية على مناخ وطننا العربي. • مناخ وطننا العربي صيفاً وشتاءً. • تأثير المناخ على الأنشطة الاقتصادية.	الدرس الثاني: العوامل المؤثرة في مناخ وطننا العربي
• البيئة والتنمية.	• تقدير العلم. • حب الاستطلاع. • تحمل المسؤولية.	• الملاحظة. • التمييز بين أوجه التشابه والاختلاف. • جمع المعلومات. • المرونة في طرح الأفكار.	• التوزيع الجغرافي للأقاليم المناخية في وطننا العربي. • الخصائص المناخية والنباتية للأقاليم المناخية في الوطن العربي (إقليم البحر المتوسط - الإقليم الصحراوي الحار - الإقليم المداري). • المحميات الطبيعية في وطننا العربي.	الدرس الثالث: الأقاليم المناخية والنباتية في وطننا العربي

<ul style="list-style-type: none"> • البيئة والتنمية. • الصحة والسكان. 	<ul style="list-style-type: none"> • المشاركة. • المحافظة على الموارد. 	<ul style="list-style-type: none"> • الأصالة والمرونة فى طرح الأفكار. • جمع المعلومات. • تقييم الإيجابيات والسلبيات المرتبطة بالقرارات والمواقف. 	<ul style="list-style-type: none"> • بعض مشكلات البيئة الطبيعية فى وطننا العربى (الجفاف - ندرة المياه العذبة - التصحر). • أثر المشكلات البيئية على وطننا العربى. • جهود الدول العربية فى مواجهة المشكلات البيئية. 	<p>الدرس الرابع: المشكلات البيئية فى وطننا العربى</p>
--	--	---	--	---

المحور الثانى: الموارد والتنمية

هيئات مؤثرة فى المجتمع العربى: المنظمة العربية للتنمية الزراعية - المنظمة العربية للسياحة.

السؤال الرئيسى: ما أهم الموارد الطبيعية والأنشطة الاقتصادية فى وطننا العربى؟ وكيف يمكن تحقيق التنمية المستدامة فى مجالات الأنشطة الاقتصادية المختلفة؟

القضايا والتحديات	القيم	المهارات الحياتية	الموضوعات	الوحدة الثالثة الموارد والأنشطة الاقتصادية فى وطننا العربى
<ul style="list-style-type: none"> • البيئة والتنمية. • المواطنة. 	<ul style="list-style-type: none"> • الإبتقان. • التعاون. • تقدير العلم والعلماء. • الانتماء. • تحمل المسؤولية. 	<ul style="list-style-type: none"> • تقييم الإيجابيات والسلبيات المرتبطة بالقرار. • إدراك العلاقات. • تحديد المشكلات. • البحث وجمع المعلومات وتسجيلها. 	<ul style="list-style-type: none"> • مقومات الزراعة فى وطننا العربى. • المحاصيل الزراعية فى وطننا العربى. • أهمية الزراعة. • مشكلات الزراعة فى وطننا العربى. • جهود الدول العربية لمواجهة مشكلات الزراعة. 	<p>الدرس الأول: الزراعة فى وطننا العربى</p>
<ul style="list-style-type: none"> • البيئة والتنمية. • المواطنة. 	<ul style="list-style-type: none"> • تحمل المسؤولية. • تقدير العلم والعلماء. 	<ul style="list-style-type: none"> • الملاحظة. • إدراك العلاقات. • تطبيق الحلول. • تحديد المشكلات. • جمع المعلومات وتسجيلها. 	<ul style="list-style-type: none"> • أهم الحيوانات التى تربي فى وطننا العربى. • مصايد الأسماك فى الوطن العربى. • أهمية الثروة الحيوانية والسمكية لاقتصاد الوطن العربى. • المشكلات التى تواجه الثروة الحيوانية والثروة السمكية. • جهود الدول العربية لتنمية الثروة الحيوانية والسمكية. 	<p>الدرس الثانى: الثروة الحيوانية والسمكية فى وطننا العربى</p>
<ul style="list-style-type: none"> • المواطنة. • البيئة والتنمية. • العولمة. 	<ul style="list-style-type: none"> • الإبتقان. • التعاون. • المحافظة على الموارد. 	<ul style="list-style-type: none"> • تقييم القرارات. • تحديد المشكلات. • اقتراح حلول للمشكلات. • التنبؤ. 	<ul style="list-style-type: none"> • مقومات الصناعة فى وطننا العربى. • المعادن ومصادر الطاقة فى وطننا العربى. • أهمية الصناعة فى وطننا العربى. • أنواع الصناعات فى وطننا العربى. • المشكلات التى تواجه التعدين والصناعة فى وطننا العربى. • جهود الدول العربية لتنمية التعدين والصناعة. 	<p>الدرس الثالث: التعدين والصناعة فى وطننا العربى</p>
<ul style="list-style-type: none"> • المواطنة. • البيئة والتنمية. 	<ul style="list-style-type: none"> • المشاركة. • المحافظة على الموارد. 	<ul style="list-style-type: none"> • التخيل. • البحث. • اقتراح حلول للمشكلات. • اتخاذ قرار. 	<ul style="list-style-type: none"> • مقومات السياحة فى وطننا العربى. • أنواع السياحة فى وطننا العربى. • أهمية النشاط السياحى فى وطننا العربى. • جهود الدول العربية لتحقيق السياحة المستدامة. 	<p>الدرس الرابع: السياحة فى وطننا العربى</p>
<ul style="list-style-type: none"> • العولمة. • المواطنة الرقمية. 	<ul style="list-style-type: none"> • تحمل المسؤولية. • المشاركة. 	<ul style="list-style-type: none"> • إدراك العلاقات. • التمييز بين أوجه الشبه والاختلاف. • اتخاذ قرار. • تحديد المشكلات. • تقييم المواقف. 	<ul style="list-style-type: none"> • التجارة فى عصر الدولة الإسلامية. • أهمية التجارة. • أنواع التجارة فى وطننا العربى. • جهود الدول العربية للنهوض بالتجارة البينية. • التجارة الإلكترونية. 	<p>الدرس الخامس: التجارة فى وطننا العربى</p>

البيئة الطبيعية

المحور

الأول

مقدمة المحور الأول


- يتناول المحور الأول الموقع الجغرافي للوطن العربي، وأهميته ومظاهر السطح والمناخ، وأبرز المشكلات البيئية التي تواجهه.

سوف نستكشف

- ظهور الإسلام وقيام الدولة الإسلامية في شبه الجزيرة العربية، ونلقى الضوء على عصر الخلفاء الراشدين رضي الله عنهم وأهم إنجازاتهم.

السؤال الرئيسي

ما أهم الملامح الطبيعية لوطننا العربي؟
وكيف ظهر الإسلام وانتشر في أرجاء وطننا العربي؟



الدرس الأول: الموقع الجغرافي لوطننا العربي.

الدرس الثاني: قصة ظهور الإسلام.

الدرس الثالث: هجرة الرسول ﷺ وتأسيس الدولة الإسلامية.

الدرس الرابع: لمحات من حياة الخلفاء الراشدين ؓ.

المفاهيم الرئيسية:

النظام القبلي. المهاجرون. الأنصار. المرتدون.

أبرز المواقع والشخصيات:

مضيق جبل طارق. مضيق هرمز. مكة المكرمة. مضيق باب المندب. الكعبة المشرفة. المدينة. كنيسة القيامة. الأضرحة الشريفة. الخلفاء الراشدون ؓ. النبي محمد ﷺ.



الموقع الجغرافي للوطن العربي

الدرس الأول

الموقع الجغرافي لوطننا العربي



تفاعل

تحرص مصر على مر العصور على إقامة علاقات صداقة وتعاون مع جيرانها من الدول العربية الأخرى، فهل تعرف عدد الدول العربية وأسماءها؟ حدّد بعض الخصائص التي تشترك فيها الدول العربية.

تعلم

الموقع الجغرافي للوطن العربي ومساحته

تقع مصر في وسط مجموعة من الدول العربية يطلق عليها «الوطن العربي».

ما المقصود بالوطن العربي؟

هو مجموعة من الدول العربية التي يجمعها تاريخ ولغة وثقافة مشتركة.



موقع الوطن العربي بالنسبة للعالم

الموقع الجغرافي

- يقع الوطن العربي وسط قارات العالم القديم الثلاث (آسيا - إفريقيا - أوروبا).
- تمتد أراضيه عبر قارتي آسيا وإفريقيا، أما دولة **جزر القمر** فتقع في المحيط الهندي.
- يحد الوطن العربي من:

البحر المتوسط، وجبال طوروس

الشمال



جبال كردستان، جبال زاغروس، الخليج العربي، خليج عُمان

الشرق

المحيط الهندي، بحر العرب، الصحراء الكبرى

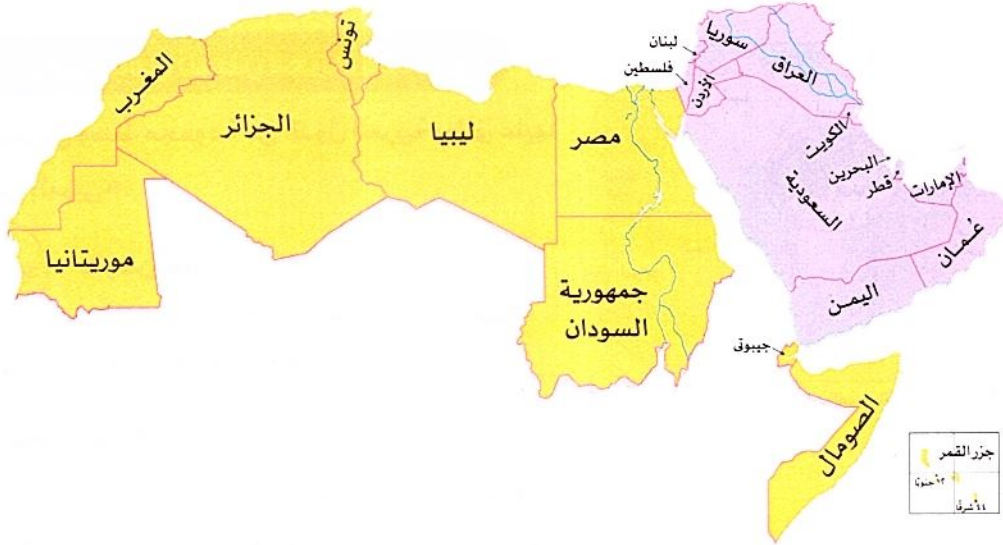
الجنوب

المساحة ٢

• تبلغ مساحة الوطن العربي نحو ١٣ مليون كيلومتر مربع، ويضم الوطن العربي ٢٢ دولة، حيث:

◀ **دول الوطن العربي:** تنقسم دول الوطن العربي إلى جناحين، هما:

- الجناح الآسيوي، وعدد دوله ١٢ دولة، وتمثل ٢٨٪ من مساحة الوطن العربي.
- الجناح الإفريقي، وعدد دوله ١٠ دول، وتمثل ٧٢٪ من مساحة الوطن العربي.



دول الجناح الإفريقي

- ١- مصر
- ٢- السودان
- ٣- ليبيا
- ٤- تونس
- ٥- الجزائر
- ٦- المغرب
- ٧- موريتانيا
- ٨- جيبوتي
- ٩- الصومال
- ١٠- جزر القمر

دول الجناح الآسيوي

- ١- سوريا
- ٢- لبنان
- ٣- الأردن
- ٤- فلسطين
- ٥- العراق
- ٦- الكويت
- ٧- البحرين
- ٨- قطر
- ٩- الإمارات
- ١٠- السعودية
- ١١- عُمان
- ١٢- اليمن

دول الوطن العربي



البحرين

أصغر دول الوطن العربي مساحة (تقع في الجناح الآسيوي).



الجزائر

أكبر الدول العربية مساحة (تقع في الجناح الإفريقي).

سؤال

(أ) أكمل العبارة الآتية بما يناسبها من كلمات:

- يحد الوطن العربي من جهة الشمال و.....

(ب) دلل على صحة العبارة الآتية:

- أغلب مساحة الوطن العربي تقع في الجناح الإفريقي

• لموقع الوطن العربي أهمية كبيرة تظهر في النواحي التالية:

١ الأهمية الاقتصادية

- لموقع الوطن العربي أهمية اقتصادية كبيرة **بم تفسر** لأنه:
 - يشرف على مسطحات مائية مهمة، مثل: البحر الأحمر والبحر المتوسط والخليج العربي.
 - يتحكم في ممرات مائية مهمة وهي (مضيق^{*} هُرمز، ومضيق باب المنذب، ومضيق جبل طارق، بالإضافة إلى قناة السويس) **مما أدى إلى**: تحكمه في أهم الطرق التجارية العالمية.
- **وبذلك** تمتع الوطن العربي بموقع جغرافي متميز ما النتائج المترتبة على **؟**
- أصبح وطننا العربي مطمئناً لكثير من الدول للسيطرة على ثرواته على مر العصور.



٢ الأهمية الدينية

• لموقع الوطن العربي أهمية دينية **بم تفسر** لأنه:

- موطن الديانات السماوية (اليهودية، المسيحية، الإسلام).
- يضم أماكن مقدسة ذات أهمية دينية كبيرة، مثل:



الأزهر الشريف في مصر



كنيسة القيامة في فلسطين



الكعبة المشرفة في السعودية

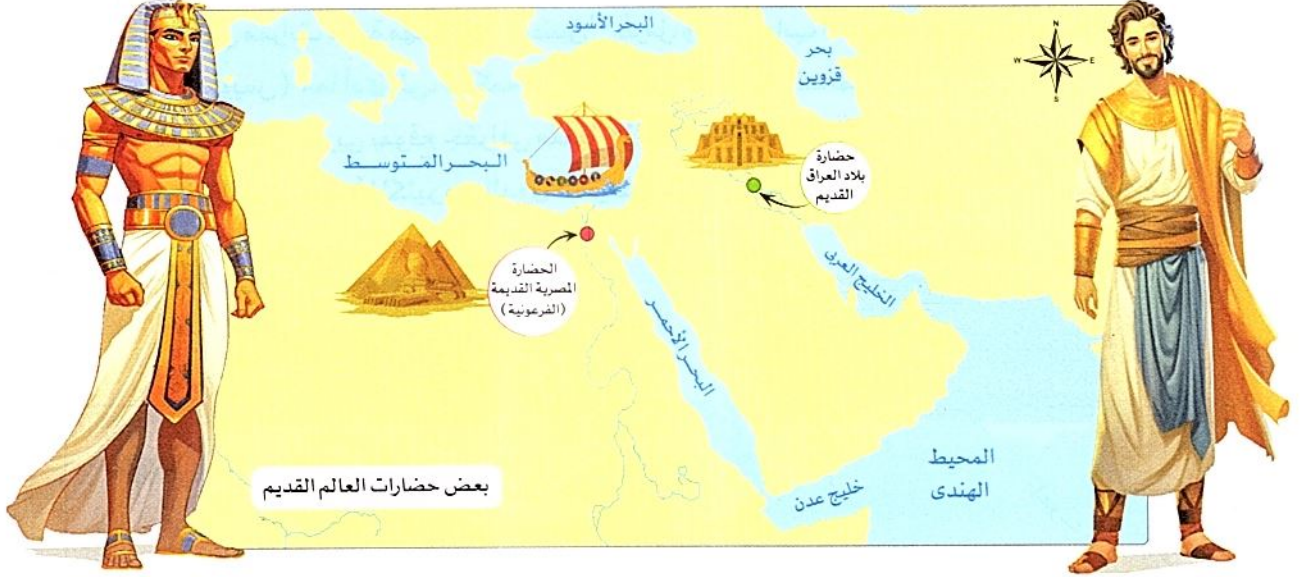
(*) المضيق: ممر مائي يصل بين مسطحين مائيين.

٣ الأهمية الثقافية والحضارية

لموقع الوطن العربي أهمية حضارية به تفسر لأنه :

• قامت أقدم الحضارات في العالم على أرضه مثل :

- الحضارة المصرية القديمة . - حضارة بلاد العراق القديم .



سؤال

(أ) أكمل العبارتين الآتيتين بما يناسبهما من كلمات :

- ١- يتحكم الوطن العربي في ممرات بحرية مهمة مثل مضيق ومضيق
- ٢- يضم الوطن العربي أماكن مقدسة ذات أهمية دينية كبيرة مثل في فلسطين .

(ب) بم تفسر...؟

- ١- أهمية الوطن العربي الاقتصادية
- ٢- لموقع الوطن العربي أهمية حضارية

(ج) ما النتائج المترتبة على...؟

- تمتع الوطن العربي بموقع جغرافي متميز

استكشف وراجع

استكشف:

- استعن بشبكة المعلومات الدولية (الإنترنت)، وابحث عن الحضارات القديمة التي ظهرت على أرض وطننا العربي، موضحاً اسم الحضارة ومكان نشأتها وأبرز إنجازاتها.

راجع:

- ١- بم تفسر...؟ الأهمية الثقافية والحضارية لموقع الوطن العربي .
- ٢- ما النتائج المترتبة على تحكم وطننا العربي في الممرات المائية؟

(١) لاحظ خريطة الوطن العربي ص ٩، وأجب عن الأسئلة التالية:

- ١- حدد دول الجناح الإفريقي ودول الجناح الآسيوي، مع ذكر عاصمة كل دولة (يمكنك الاستعانة بالأطلس المصور).
- ٢- ما الدول العربية الآسيوية التي تطل على البحر المتوسط؟ ٣- ما الدول العربية الإفريقية التي تطل على البحر الأحمر؟
- ٤- اكتب اسم دولة عربية تطل على بحر ومحيط معًا.

(ب) اقرأ وأجب: يتحكم الوطن العربي في العديد من الممرات المائية، استعن بخريطة الوطن العربي ص ١١، واختر أحدها، وحدد المسطحات المائية التي يصل بينها، والدول العربية التي تُشرف عليها.

(ج) الكتابة الإبداعية: (١) التكامل مع اللغات

اكتب مقالاً باللغة العربية أو بإحدى اللغات الأجنبية تُعبّر فيه عن اعتزازك بوطنك العربي وانتمائك له.

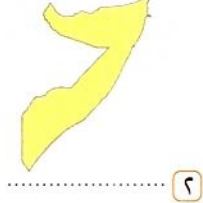
(د) أمامك مجموعة خرائط لبعض الدول العربية، بالاستعانة بخريطة الوطن العربي ص ٩ حدد الدولة التي تمثلها كل خريطة، واكتب اسمها.



٤



٣



٢



١

(هـ) اقرأ وأجب:

نص إثرائي

التراث الثقافي العربي المشترك

لكل دولة عربية تاريخها الثري منذ القدم، وقد كان لتواصل الشعوب العربية أثره في تشابه اللغة والتاريخ والعادات والتقاليد وتبني قيم اجتماعية مشتركة، مما أدى إلى وجود تراث ثقافي مشترك بينهم:

- ١- استنتج الخصائص المشتركة بين الدول العربية.
- ٢- في رأيك، كيف يمكن أن تستثمر الدول العربية تراثها الثقافي المشترك لتكون قوة مؤثرة في العالم؟
- ٣- تعاون مع زملائك وصمم ألبوماً مصوراً (ورقياً / إلكترونياً) لأعلام الدول العربية، واكتب مدلول الألوان والرموز في كل علم.

(١) التكامل مع التربية الفنية

(و) لنبحث عن المعرفة: (١) التكامل مع تكنولوجيا المعلومات والاتصالات

استعن بشبكة المعلومات الدولية (الإنترنت)، واختر دولة عربية آسيوية وأخرى إفريقية، ثم صمم عرضاً تقديمياً (power point) عنهما، بحيث يتضمن العرض النقاط التالية: المساحة، الموقع الجغرافي وأهميته، العاصمة، العملة، وأوجه التشابه والاختلاف بينهما.

قيم نفسك

- أعدد الموقع الجغرافي للوطن العربي بالنسبة إلى العالم. جيد جداً جيد بحاجة إلى مجهود أكبر
- أشرح أهمية الموقع الجغرافي للوطن العربي. جيد جداً جيد بحاجة إلى مجهود أكبر
- أوضح النتائج المترتبة على الموقع الجغرافي للوطن العربي. جيد جداً جيد بحاجة إلى مجهود أكبر
- أعبر عن اعتزازي بانتمائي إلى وطني العربي. جيد جداً جيد بحاجة إلى مجهود أكبر

الموقع الجغرافي للوطن العربي ومساحته

- يقع الوطن العربي في وسط قارات العالم القديم، ويمتد في قارتي آسيا وإفريقيا.
- تتمثل حدود الوطن العربي في:



- تبلغ مساحة الوطن العربي نحو ١٣ مليون كيلومتر مربع، ويضم ٢٢ دولة يجمعها تاريخ ولغة وثقافة مشتركة.
- تعد البحرين أصغر دول الوطن العربي مساحة، أما الجزائر فهي أكبر الدول العربية مساحة.

أهمية موقع الوطن العربي

الثقافية والحضارية

قامت على أرضه أقدم الحضارات في العالم، مثل: الحضارة المصرية القديمة، وحضارة بلاد العراق القديم.

الدينية

يضم أماكن مقدسة ذات أهمية دينية كبيرة مثل الكعبة المشرفة - الأزهر الشريف - كنيسة القيامة.

الاقتصادية

- إشرافه على مسطحات مائية مهمة.
- يتحكم في ممرات مائية مهمة مثل مضيق (هُرمز- باب المنذب- جبل طارق)، قناة السويس.



مجاب عنها

الدرس الأول

الموقع الجغرافي لوطننا العربي



تدريب

السؤال الأول: اكتب كلمة (صواب) أمام العبارة الصحيحة، وكلمة (خطأ) أمام العبارة غير الصحيحة:

- ١ تحرص مصر على مر العصور على إقامة علاقات صداقة وتعاون مع جيرانها من الدول العربية الأخرى. ()
- ٢ يتمتع الوطن العربي بموقع جغرافي متميز. ()
- ٣ يتحكم الوطن العربي في ممرات مائية مهمة. ()
- ٤ يحد الوطن العربي من جهة الشرق المحيط الأطلنطي. ()
- ٥ قامت على أرض الوطن العربي العديد من الحضارات، منها: حضارة بلاد العراق القديم. ()
- ٦ يتحكم الوطن العربي في أهم الطرق التجارية العالمية. ()

المستوى الأول

السؤال الثاني: أكمل العبارات الآتية بما يناسبها من كلمات:

- ١ يقع الوطن العربي وسط قارات العالم
- ٢ تمتد أراضي الوطن العربي في قارتي و
- ٣ يحد الوطن العربي من الجنوب و
- ٤ توجد النسبة الكبرى من مساحة الوطن العربي في قارة
- ٥ أكبر الدول العربية من حيث المساحة دولة
- ٦ يتحكم الوطن العربي في ممرات مائية مهمة منها قناة
- ٧ يحد الوطن العربي من جهة الشرق خليج والخليج
- ٨ يطل الوطن العربي على المحيط والمحيط

السؤال الثالث: صوب ما تحته خط مما يلي:

- ١ يحد الوطن العربي من جهة الشمال جبال زاجروس.
- ٢ يمتد الوطن العربي في قارتي آسيا وأوروبا.
- ٣ قامت على أرض الوطن العربي العديد من الحضارات القديمة، ومنها الحضارة الرومانية.
- ٤ لموقع الوطن العربي أهمية دينية لوجود العديد من الممرات المائية.
- ٥ يطل الوطن العربي من جهة الشرق على خليج عدن.
- ٦ أكبر دول الوطن العربي من حيث المساحة هي دولة ليبيا.

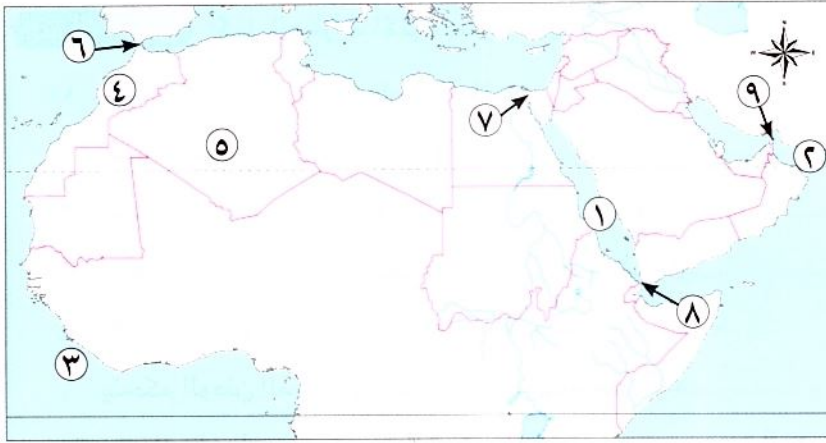
المستوى الثاني

السؤال الرابع: اختر الإجابة الصحيحة مما بين القوسين:

- ١ توجد النسبة الكبرى من مساحة الوطن العربي في قارة..... (آسيا - إفريقيا - أوروبا - أستراليا)
- ٢ يقع البحر المتوسط بالنسبة للوطن العربي جهة..... (الشمال - الجنوب - الشرق - الغرب)
- ٣ يحد الوطن العربي غربًا المحيط..... (الهندي - الأطلنطي - الهادي - القطبي)

- ٤ يشغل الوطن العربي مساحة ١٣ مليون كيلو متر مربع ويضم عدد..... دولة. (٢٢ - ٢٣ - ٢٤ - ٢٥)
- ٥ يبلغ عدد الممرات المائية التي يتحكم فيها الوطن العربي ممرات. (ثلاثة - أربعة - خمسة - ستة)
- ٦ يمر في جنوب الوطن العربي المحيط..... (الهادي - الأطلنطي - الهندي - القطبي)
- ٧ يوجد بالوطن العربي أماكن مقدسة مثل الجامع الأزهر الذي يوجد في دولة.....
- (مصر - فلسطين - السعودية - الجزائر)
- ٨ أصغر الدول العربية من حيث المساحة هي دولة..... (المغرب - الجزائر - البحرين - العراق)
- ٩ تطل دولتا السعودية ومصر على البحر..... (الأحمر - المتوسط - الميت - الأسود)

السؤال الخامس أمامك خريطة صماء للوطن العربي، اكتب ما تدل عليه الأرقام:



- ١ البحر.....
- ٢ خليج.....
- ٣ المحيط.....
- ٤ دولة.....
- ٥ دولة.....
- ٦ مضيق.....
- ٧ قناة.....
- ٨ مضيق.....
- ٩ مضيق.....

السؤال السادس أمامك خريطة صماء للوطن العربي، اكتب ما تدل عليه الأرقام:



- ١ البحر.....
- ٢ دولة.....
- ٣ دولة.....
- ٤ دولة.....
- ٥ الخليج.....
- ٦ الصحراء.....
- ٧ جبال.....
- ٨ جبال.....
- ٩ المحيط.....
- ١٠ بحر.....

السؤال السابع بالاستعانة بالخريطة السابقة، استخراج الاسم غير المناسب في كل مجموعة من المجموعات الآتية:

- ١ مصر - السودان - الجزائر - العراق.
- ٢ اليمن - الأردن - المغرب - الكويت.
- ٣ البحر المتوسط - البحر الأسود - بحر العرب - البحر الأحمر.
- ٤ خليج عُمان - الخليج العربي - جبال زاغروس - جبال طوروس.
- ٥ مصر - السعودية - السودان - الجزائر.
- ٦ سوريا - فلسطين - تونس - العراق.

السؤال الثامن بم تفسر...؟

- ١ الأهمية الاقتصادية لموقع الوطن العربي.....
- ٢ تحكُّم الوطن العربي في أهم طرق التجارة العالمية.....
- ٣ لموقع الوطن العربي أهمية حضارية.....

السؤال التاسع ما النتائج المترتبة على...؟

- ١ تحكُّم الوطن العربي في الممرات المائية.....
- ٢ تمتع الوطن العربي بموقع جغرافي متميز.....

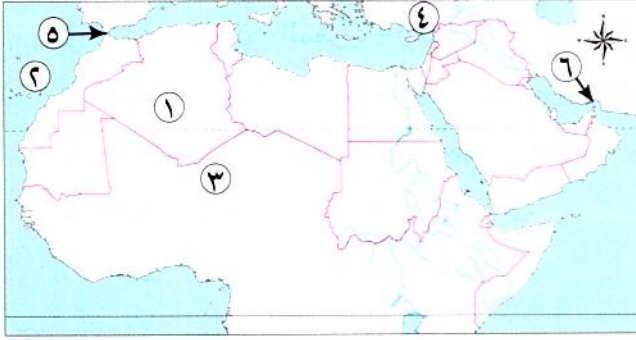
السؤال العاشر دُل على صحة العبارات الآتية:

- ١ للوطن العربي أهمية ثقافية وحضارية.....
- ٢ للوطن العربي مكانة دينية مهمة.....
- ٣ يتمتع الوطن العربي بموقع جغرافي متميز.....
- ٤ يتحكَّم وطننا العربي في العديد من الممرات المائية.....
- ٥ أغلب مساحة الوطن العربي تقع في الجناح الإفريقي.....

السؤال الحادي عشر ماذا يحدث إذا...؟

- ١ لم توجد أماكن مقدسة في الوطن العربي.....
- ٢ اختلفت اللغات التي يتحدث بها سكان وطننا العربي.....
- ٣ لم يتحكَّم الوطن العربي في ممرات مائية.....

السؤال الأول: أمامك خريطة صماء للوطن العربي، اكتب ما تشير إليه الأرقام على الخريطة:



- ١- أكبر دول الوطن العربي مساحة (المنيا ٢٠٢٤)
- ٢- المحيط (القليوبية ٢٠٢٤)
- ٣- صحراء تقع جنوب الوطن العربي (القليوبية ٢٠٢٤)
- ٤- جبال (بورسعيد ٢٠٢٤)
- ٥- مضيق (البحيرة ٢٠٢٤)
- ٦- مضيق (الجيزة ٢٠٢٤)

السؤال الثاني: اكتب كلمة (صواب) أمام العبارة الصحيحة، وكلمة (خطأ) أمام العبارة غير الصحيحة:

- ١- تشرف دولة السودان على مضيق باب المندب. (الشرقية ٢٠٢٤)
- ٢- يحد الوطن العربي غربًا المحيط الأطلنطي. (البحيرة ٢٠٢٤)
- ٣- جيبوتي من دول الجناح الإفريقي. (الدقهلية ٢٠٢٤)
- ٤- الجزائر وموريتانيا من دول الجناح الآسيوي. (القاهرة ٢٠٢٤)
- ٥- تونس من دول الجناح العربي الإفريقي. (البحيرة ٢٠٢٤)
- ٦- أكبر دولة عربية من حيث المساحة هي دولة قطر. (القاهرة ٢٠٢٤)
- ٧- تقع ليبيا في الجناح الإفريقي للوطن العربي. (الجيزة ٢٠٢٤)
- ٨- توجد كنيسة القيامة في دولة الأردن. (دمياط ٢٠٢٤)

السؤال الثالث: اختر الإجابة الصحيحة مما بين الأقواس:

- ١- يحد الوطن العربي غربًا المحيط (الهندي - الأطلنطي - الهادي - القطبي) (الشرقية ٢٠٢٤)
- ٢- السودان من الدول العربية الإفريقية التي تطل على (البحر المتوسط - البحر الأحمر - خليج عدن - خليج عُمان) (القاهرة ٢٠٢٤)
- ٣- أصغر الدول العربية من حيث المساحة (المغرب - الجزائر - البحرين - العراق) (الإسكندرية ٢٠٢٤)

السؤال الرابع: أكمل العبارتين الآتيتين:

- ١- يتميز الوطن العربي بإشرافه على مسطحات مائية مما أدى إلى تحكمه في أهم طرق (كفر الشيخ ٢٠٢٤)
- ٢- توجد النسبة الكبرى من مساحة الوطن العربي في قارة (البحيرة ٢٠٢٤)

السؤال الخامس: اكتب ما تشير إليه العبارة الآتية:

- أكبر الدول العربية من حيث المساحة. (الجيزة ٢٠٢٤)

السؤال السادس: صوب ما تحته خط:

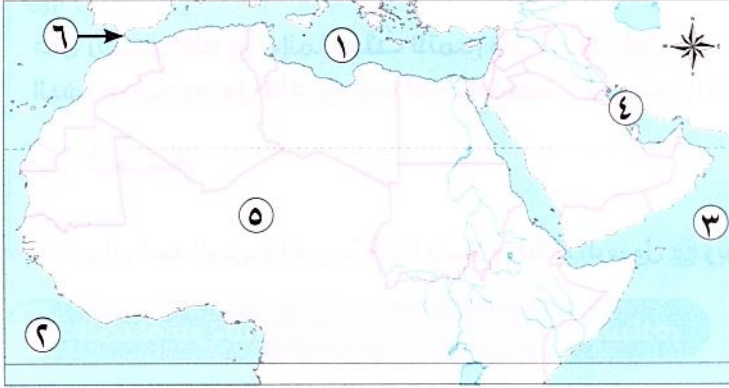
- ١- توجد جبال طوروس في جنوب الوطن العربي. (بنى سويف ٢٠٢٤)
- ٢- تمتد أراضي الوطن العربي في ثلاث قارات. (الجيزة ٢٠٢٤)

السؤال السابع: أجب عما يلي:

- ١- وضح: الأهمية الاقتصادية لموقع الوطن العربي (المنيا ٢٠٢٤)
- ٢- بم تفسر...؟ الأهمية الحضارية للوطن العربي (الشرقية ٢٠٢٤)



السؤال الأول: (١) أمامك خريطة صماء للوطن العربي، اكتب ما تدل عليه الأرقام:



- ١- البحر
- ٢- المحيط
- ٣- بحر
- ٤- الخليج
- ٥- الصحراء
- ٦- مضيق

(ب) بم تفسر...؟

- ١- لموقع وطننا العربي أهمية اقتصادية
- ٢- لوطننا العربي أهمية دينية كبيرة

السؤال الثاني: اكتب كلمة (صواب) أمام العبارة الصحيحة، وكلمة (خطأ) أمام العبارة غير الصحيحة:

- ١- يحد الوطن العربي من جهة الشرق جبال طوروس. ()
- ٢- يمتد الوطن العربي في قارتي آسيا وإفريقيا. ()
- ٣- قام على أرض الوطن العربي العديد من الحضارات القديمة، ومنها الحضارة المصرية القديمة. ()
- ٤- يطل الوطن العربي من جهة الشمال على المحيط الأطلسي. ()
- ٥- أكبر دول الوطن العربي من حيث المساحة هي دولة البحرين. ()

السؤال الثالث: (١) اختر الإجابة الصحيحة مما بين الأقواس:

- ١- توجد بالوطن العربي أماكن مقدسة ذات أهمية دينية كبيرة مثل كنيسة القيامة في
- (مصر - الكويت - فلسطين - السعودية)
- ٢- أصغر الدول العربية من حيث المساحة هي دولة
- (المغرب - الجزائر - البحرين - العراق)
- ٣- تطل دولتا جيبوتي واليمن على مضيق
- (هُرمز - باب المندب - جبل طارق - البسفور)

(ب) ما النتائج المترتبة على...؟

- ١- قيام حضارات قديمة على أرض وطننا العربي.

- ٢- تحكم وطننا العربي في الممرات المائية.





مكتبة التفسير

الدرس الثاني

قصة ظهور الإسلام



تفاعل



قال رسول الله ﷺ: «إنما بُعِثْتُ لأتمم مكارم الأخلاق». اذكر بعض القيم التي دعا إليها محمد رسول الله ﷺ. وما أهمية تمسك المجتمع بهذه القيم؟

تعلم



• أحوال شبه الجزيرة العربية قبل الإسلام ونشأة الرسول ﷺ وبعثته.

الحياة في شبه الجزيرة العربية قبل الإسلام

- كان نظام الحكم السائد في شبه الجزيرة العربية هو النظام القبلي.
- أشهر القبائل العربية: قبيلة قريش بمكة.
- عرف العرب ب: البلاغة وحب الشعر.
- الحرفة السائدة: رعي الأغنام.

عمل العرب في:

بالنظام القبلي؟

ما المقصود

- نظام يتكون من قبائل متفرقة لكل قبيلة شيخ يحكمها.

الصناعات الخفيفة، مثل:

الأواني الفخارية

الرماح

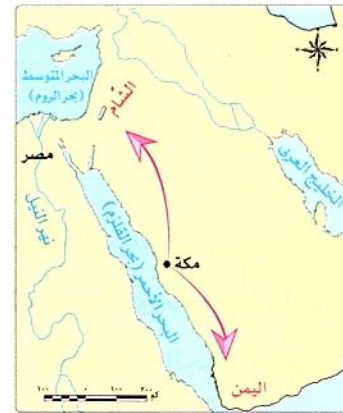
السيوف



التجارة وكانت أشهر الرحلات



رحلة الصيف إلى الشام



رحلة الشتاء إلى اليمن

صفات وعادات العرب قبل الإسلام

عادات سيئة

مثل

شرب الخمر

الأخذ بالثأر

وأد البنات

صفات حسنة

مثل

الوفاء بالعهود

الكرم

الشجاعة

• اختفت العادات السيئة مع ظهور الإسلام، وانتشرت بينهم العديد من القيم والأخلاق الحميدة.

١- مولده

- ولد سيدنا محمد ﷺ في مكة، وكان يتيمًا.
- في ١٢ من شهر ربيع الأول عام ٥٧٠ م.
- سمى العام الذي ولد فيه الرسول ﷺ **بعام الفيل** **بم تفسر** لأنه العام الذي حاول فيه أبرهة الحبشي هدم الكعبة بجيش كبير، لكن الله حفظها.

٢- في سن الثامنة

- عاش الرسول ﷺ في بيت عمه **أبي طالب**.
- عمل في رعي **الأغنام بم تفسر** لأنه لم يرغب أن يكون عبئًا على عمه.



٣- عمل بالتجارة



- واشتهر بالأمانة والصدق، ولقب **ب(الصادق الأمين)**.

٤- زواجه

- تزوج الرسول ﷺ من السيدة **خديجة بنت خويلد**.

نزول الوحي على الرسول ﷺ

في سن الأربعين • نزل جبريل ﷺ برسالة الإسلام على سيدنا محمد ﷺ عندما كان يتعبد.

زمان النزول إحدى ليالى شهر رمضان

مكان النزول غار حراء (مكة)

- كان الرسول ﷺ يخلو بنفسه في **غار حراء بم تفسر** ليفكر ويتأمل في الكون وقدرة الله سبحانه وتعالى.
- كانت أول كلمة يتلقاها الرسول ﷺ من الوحي هي كلمة (اقرأ).
- ثم بدأ الرسول ﷺ في الدعوة للدين الإسلامي وقيمته وتعاليمه السمحة ما النتائج المترتبة على **ب**.
- أدى ذلك إلى تغيير حياة سكان شبه الجزيرة العربية نحو الأفضل.

سؤال

(أ) أكمل العبارتين التاليتين بما يناسبهما من كلمات:

١- ولد الرسول ﷺ في مدينة

٢- عمل الرسول ﷺ بحرفتي و

(ب) **دلل على صحة العبارة التالية:** ساد النظام القبلي في شبه الجزيرة العربية قبل ظهور الإسلام

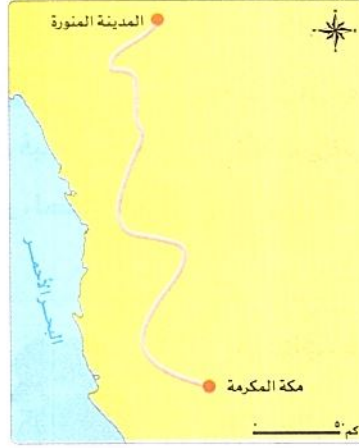
مراحل الدعوة إلى الإسلام

• مرت الدعوة إلى الإسلام بأربع مراحل:

المرحلتان الثالثة والرابعة

المكان: المدينة.

- مرحلة بناء الدولة الإسلامية وصد أذى المشركين.
- مرحلة الفتح والدعوة العالمية للإسلام.



المرحلتان الأولى والثانية

المكان: مكة المكرمة.

- كانت كلتا المرحلتين قبل الهجرة إلى المدينة وهما:
- مرحلة الدعوة السرية.
- مرحلة الدعوة الجهرية.

◀ المرحلة الأولى: الدعوة السرية.

• بدأت الدعوة الإسلامية سرًا بم تفسر لتجنب أذى قريش.

• مدتها: استمرت ثلاث سنوات.

- بدأ فيها الرسول ﷺ بدعوة أصحابه والمقربين منه في مكة، مثل: (زوجته السيدة خديجة ، ابن عمه علي بن أبي طالب ، صديقه أبي بكر الصديق).

◀ المرحلة الثانية: الدعوة الجهرية.

• سببها: أمر الله نبيه محمدًا ﷺ أن يعلن دعوته بين الناس، فدعا إلى عبادة الله الواحد وترك عبادة الأصنام.

موقف قريش

• حاربت قريش دعوة الرسول ﷺ بم تفسر خوفًا على مكانتها بين القبائل حيث قامت ب:

قاموا بمقاطعة وحصار المسلمين.

لجأت إلى التفاوض مع الرسول ﷺ، وعرضوا عليه المال والسلطة مقابل ترك هذا الدين.

إيذاء الرسول ﷺ والمسلمين.

موقف الرسول ﷺ

• واجه الرسول ﷺ قريشًا بالأساليب السلمية والحكمة دلل

حيث حث الرسول ﷺ المسلمين على الصبر والتحمل وأمر أصحابه بالهجرة إلى الحبشة.

١ الهجرة إلى الحبشة

- تعد أول هجرة في الإسلام.
- لأن فيها ملكًا عادلاً يلقب بالنجاشي.

٢ نشر الدعوة بين القبائل العربية

- لجأ الرسول ﷺ إلى نشر دعوته بين القبائل العربية التي تفرقت إلى مكة في موسم الحج ما النتائج المترتبة على

النتائج



لتبدأ بعدها مرحلة جديدة من مراحل الدعوة الإسلامية.

سؤال

(١) أكمل العبارتين التاليتين بما يناسبهما من كلمات:

- 1- بدأت المرحلتان الأولى والثانية من الدعوة إلى الإسلام في مدينة
 - 2- بدأ الرسول ﷺ في دعوة المقربين منه، وكان منهم صديقه
- (ب) بم تفسر...؟ - بدأ الرسول ﷺ بالدعوة السرية إلى الإسلام.

نص إثرائي

«طلب ملك الحبشة (النجاشي) من المهاجرين تعريفه بدينهم، فرد عليه جعفر بن أبي طالب وقال: أيها الملك؛ كنا قومًا أهل جاهلية، نعبد الأصنام... ونقطع الأرحام، ونسئ الجوار... حتى بعث الله إلينا رسولًا منا نعرف نسبه وصدقه وأمانته وعفافه، فدعانا إلى الله عز وجل لنوحده ونعبده، وأمرنا بصدق الحديث وأداء الأمانة وصلة الرحم وحسن الجوار، ونهانا عن شهادة الزور وأكل مال اليتيم... فصدقناه وأمانا به. فعدا (اعتدى) علينا قومنا فعذبونا... واخترتناك ورجونا ألا نُظلم عندك أيها الملك. فقال النجاشي: إن هذا والذي جاء به عيسى ليخرجنا من مشكاة واحدة. ورفض تسليم المسلمين لوفد قريش، وقال لجعفر ومن معه: انطلقوا فعيشوا في أرضي آمين».

استكشف وراجع

استكشف:

- لقد تعرض الرسول ﷺ للاضطهاد والأذى في سبيل تبليغه لرسالة الإسلام. استخدم شبكة المعلومات الدولية (الإنترنت)، وابحث عن أهم الصعوبات والتحديات التي واجهت الرسول ﷺ في نشر دعوته، ووضح كيف تغلب عليها.

راجع:

- 1- لماذا كانت الدعوة إلى الإسلام سرية في البداية؟
- 2- وضح موقف قريش من دعوة الرسول ﷺ.

افهم واطبق

(١) اقرأ واستنتج:

نص إثرائي

صحيفة المقاطعة

- قررت قريش فرض الحصار على المسلمين ومقاطعتهم، فلا يتزوجون من نسائهم، ولا يبيعون لهم، ولا يشترون منهم شيئاً، ولا يخالطونهم، ولا يدخلون بيوتهم، ولا يقبلون منهم صلحاً أبداً. وسجلوا هذه القرارات في صحيفة، وعُلقت في الكعبة.
- ١- ما هدف قريش من إصدار تلك الصحيفة؟
- ٢- استنتج الصفات التي اتسمت بها قريش في ضوء هذه الصحيفة.
- ٣- ابحث عن الصعوبات التي مر بها المسلمون نتيجة هذه المقاطعة.

(لنبحث عن المعرفة)

(ب)

- ١- ابحث ولخص: استخدم شبكة المعلومات الدولية (الإنترنت) وابحث عن سبب رغبة أبرهة في هدم الكعبة، وكيف حماها الله؟ ثم اكتب ملخصاً لهذا الحدث.
- ٢- ابحث وسجل: كان للمقربين من الرسول ﷺ دور مهم في مساندته في نشر رسالة الإسلام، باستخدام شبكة المعلومات الدولية (الإنترنت)، ابحث عن بعض المواقف التي توضح دور كل من (السيدة خديجة بنت خويلد) - أبو بكر الصديق (رضي الله عنه) - علي بن أبي طالب (رضي الله عنه) - أبو طالب (رضي الله عنه) في حياة الرسول ﷺ، موضحاً (صلة الشخصية بالرسول ﷺ) - دور الشخصية في مساندة الرسول ﷺ في دعوته):

(ج) اقرأ وأجب (الهجرة إلى الحبشة) ص ٢٣:

- ١- بم تفسر هجرة المسلمين إلى الحبشة؟
- ٢- ما رأيك في موقف الملك النجاشي؟
- ٣- استنتج أهم القيم التي يدعو إليها الإسلام، ووضح تأثيرها على المجتمع.

(د) اقرأ واستنتج:

- ١- استنتج أسباب حرص الرسول ﷺ على الخلو بنفسه في غار حراء.
- ٢- علام يدل أمر الله سبحانه وتعالى للرسول ﷺ بالقراءة؟
- ٣- وضح أهمية ممارسة عادتي التأمل والقراءة في حياتنا من وجهة نظرك.

(هـ) الكتابة الإبداعية: التكامل مع التربية المسرحية

- تنظم مدرستك احتفالاً بمناسبة المولد النبوي الشريف. اكتب نصاً مسرحياً عن مولد الرسول ﷺ ونشأته، والصعوبات التي واجهته في سبيل نشر الدعوة الإسلامية، وسجل أهم الشخصيات التي تتضمنها هذه المسرحية، والأحداث الرئيسية فيها.

(و) ابحث وصمم: التكامل مع التربية الفنية

- بالاستعانة بشبكة المعلومات الدولية (الإنترنت) صمم شجرة عائلة توضح نسب الرسول ﷺ، وأعرضها على زملائك.

قيم نفسك

- أتعرف نشأة النبي محمد ﷺ وبعثته. جيد جداً جيد بحاجة إلى مجهود أكبر
- أصف ملامح الحياة في شبه الجزيرة العربية قبل الإسلام. جيد جداً جيد بحاجة إلى مجهود أكبر
- أميز بين مراحل الدعوة الإسلامية. جيد جداً جيد بحاجة إلى مجهود أكبر
- أوضح الصعوبات التي واجهت الرسول ﷺ في نشر دعوته. جيد جداً جيد بحاجة إلى مجهود أكبر
- أستنتج بعض الصفات التي تميز بها الرسول محمد ﷺ. جيد جداً جيد بحاجة إلى مجهود أكبر

الحياة في شبه الجزيرة العربية قبل الإسلام



قبيلة قريش بمكة

أشهر القبائل

النظام القبلي

نظام الحكم

الرعى والتجارة وبعض الصناعات الخفيفة

الحرف السائدة

مراحل حياة الرسول ﷺ

- عمل الرسول ﷺ بحرفة الرعى والتجارة.
- لقب بالصادق الأمين.
- تزوج من السيدة خديجة بنت خويلد.

في سن الثامنة عاش الرسول ﷺ في بيت عمه أبي طالب.

ولد محمد ﷺ في مكة المكرمة، في ١٢ من شهر ربيع الأول ٥٧٠م، وكان يتيمًا. وسمى هذا العام بعام الفيل.

نزول الوحي على الرسول ﷺ

٢ كان الرسول ﷺ في سن الأربعين.

١ نزل جبريل عليه السلام برسالة الإسلام على سيدنا محمد ﷺ في غار حراء.

٤ أدى ذلك إلى تغير حياة سكان شبه الجزيرة العربية للأفضل.

٣ بدأ الرسول ﷺ في الدعوة للدين الإسلامي وقيمه وتعاليمه السمحة.

مراحل الدعوة إلى الإسلام

٤ الفتح والدعوة العالمية للإسلام

٣ بناء الدولة وصد أذى المشركين

٢ الدعوة الجهرية

١ الدعوة السرية

٢ الدعوة الجهرية

نتيجة لإيذاء قريش للمسلمين:
- أمر الرسول ﷺ أصحابه بالهجرة إلى الحبشة.
- اتبع الرسول ﷺ أسلوبًا جديدًا لنشر الدعوة بعرضها على القبائل العربية في موسم الحج.
- تفكير الرسول ﷺ بالهجرة إلى (المدينة).

١ الدعوة السرية

- استمرت ثلاث سنوات.
- قام الرسول ﷺ بدعوة أصحابه والمقربين، مثل: السيدة خديجة، علي بن أبي طالب، أبي بكر الصديق.



تدريب

الدرس الثاني

محباب عنها

قصة ظهور الإسلام



السؤال الأول

اكتب كلمة (صواب) أمام العبارة الصحيحة، وكلمة (خطأ) أمام العبارة غير الصحيحة:

- ١ كانت مكة تقوم برحلة واحدة في الشتاء إلى اليمن. ()
- ٢ ولد الرسول ﷺ في عام الحزن. ()
- ٣ عرف الرسول ﷺ بالصدق والأمانة. ()
- ٤ ولد الرسول ﷺ يتيماً. ()
- ٥ الشجاعة والكرم من صفات العرب الحسنة. ()
- ٦ نزل جبريل عليه السلام برسالة الإسلام على الرسول ﷺ في سن الأربعين. ()
- ٧ رحبت قريش بالدعوة إلى الإسلام. ()
- ٨ هجرة المسلمين الأولى كانت إلى يثرب. ()
- ٩ عند الجهر بالدعوة قامت قريش بحصار ومقاطعة المسلمين. ()

المستوى الأول

السؤال الثاني

أكمل العبارات الآتية بما يناسبها من كلمات:

- ١ أشهر قبائل العرب قبل الإسلام قبيلة
- ٢ قام أهل مكة برحلة الصيف إلى
- ٣ نظام الحكم السائد في شبه الجزيرة العربية قبل الإسلام كان النظام
- ٤ عمل الرسول ﷺ وهو في بيت عمه بحرفة
- ٥ كان الرسول ﷺ أثناء بداية نزول الوحي متزوجاً من السيدة
- ٦ نزل جبريل عليه السلام على الرسول ﷺ في غار

السؤال الثالث

صوب ما تحته خط:

- ١ كانت رحلة قريش شتاء إلى الشام.
- ٢ الأخذ بالتأثر من العادات الحسنة عند العرب قبل الإسلام.
- ٣ أمر الرسول ﷺ بالهجرة إلى يثرب؛ لأن بها ملكاً لا يظلم عنده أحد.
- ٤ استجاب لدعوة الرسول ﷺ وفود من ثقيف.
- ٥ كانت أول مرحلتين للدعوة إلى الإسلام في يثرب.

المستوى الثاني

السؤال الرابع

اختر الإجابة الصحيحة مما بين القوسين:

- ١ رحلة أهل مكة في فصل الشتاء كانت إلى (اليمن - الشام - يثرب - مصر)
- ٢ من الصفات الحسنة عند العرب قبل الإسلام (وأد البنات - شرب الخمر - الوفاء بالعهد - الأخذ بالتأثر)
- ٣ إحدى الحرف التي كانت سائدة في شبه الجزيرة العربية قبل الإسلام (الزراعة - السياحة - الصناعة - الرعى)

- ٤ ولد الرسول ﷺ بمكة في الثاني عشر من شهر
- ٥ نزل جبريل ﷺ على الرسول ﷺ في إحدى ليالي شهر
- ٦ كانت هجرة المسلمين الثانية إلى مدينة

السؤال الخامس لمن تنسب الأعمال التاريخية الآتية...؟

- ١ تولى رعاية الرسول ﷺ بعد وفاة جده عبد المطلب. (.....)
- ٢ نزل على الرسول ﷺ برسالة الإسلام. (.....)
- ٣ ملك الحبشة الذي هاجر إليه المسلمون في بداية الدعوة. (.....)

السؤال السادس بم تفسر...؟

- ١ شهرة مكة تجارياً.
- ٢ بدأ الرسول ﷺ بالدعوة إلى الإسلام سراً.
- ٣ رفض قريش لدعوة الإسلام.

السؤال السابع ما النتائج المترتبة على...؟

- ١ انتشار الإسلام في شبه الجزيرة العربية.
- ٢ جهر الرسول ﷺ بالدعوة الإسلامية في مكة.
- ٣ إيذاء قريش للمسلمين في بداية الدعوة.
- ٤ نشر الرسول ﷺ الدعوة بين الوفود التي وفد إلى مكة في موسم الحج.

السؤال الثامن ماذا كان يحدث إذا...؟

- ١ لم يقيم أهل مكة برحلتى الشتاء والصيف.
- ٢ كان ملك الحبشة النجاشي ظالماً.

السؤال التاسع أجب عن الأسئلة التالية:

- ١ رتب الأحداث التاريخية من القديم للحديث:
(الهجرة إلى الحبشة - نزول جبريل ﷺ بدعوة الإسلام - الدعوة السرية - الهجرة إلى يثرب)
- ٢ حدد مدى صحة العبارة الآتية: الدعوة إلى الإسلام مرت بعدة مراحل.
- ٣ دلل: تنوع أساليب قريش ضد الدعوة إلى الإسلام.

السؤال الأول: اختر الإجابة الصحيحة مما بين الأقواس:

- ١- إحدى مراحل الدعوة الإسلامية استمرت ثلاث سنوات هي الدعوة
 (السرية - الجهرية - الفتح - البناء) (الشرقية ٢٠٢٤)
 ٢- ولد الرسول ﷺ في مدينة
 (يثرب - جدة - الطائف - مكة) (الإسكندرية ٢٠٢٤)
 ٣- عمل الرسول ﷺ في صغره، عندما كان في بيت عمه أبي طالب بحرفة.....
 (الرعى - التجارة - الزراعة - الصناعة) (القاهرة ٢٠٢٤)
 ٤- كان تجار مكة يتجهون في فصل الصيف إلى
 (الشام - الحبشة - اليمن - الهند) (الجيزة ٢٠٢٤)

السؤال الثاني: اكتب كلمة (صواب) أمام العبارة الصحيحة، وكلمة (خطأ) أمام العبارة غير الصحيحة:

- ١- كانت هجرة المسلمين الأولى إلى الحبشة. () (البحيرة ٢٠٢٤)
 ٢- ساد نظام الحكم القبلي شبه الجزيرة العربية قبل ظهور الإسلام. () (المنوفية ٢٠٢٤)
 ٣- مرت الدعوة الإسلامية بأربع مراحل وكانت أول مرحلتين في مكة. () (القاهرة ٢٠٢٤)
 ٤- أول من أسلم من الرجال هو عمر بن الخطاب . () (البحيرة ٢٠٢٤)
 ٥- نزل جبريل ﷺ على سيدنا (محمد) ﷺ عندما كان يتعبد في غار ثور. () (بورسعيد ٢٠٢٤)
 ٦- كانت حرفة الزراعة هي الحرفة السائدة في شبه الجزيرة العربية. () (القاهرة ٢٠٢٤)
 ٧- عمل الرسول ﷺ بحرفة الزراعة وتعلم منها الرحمة والرأفة. () (الجيزة ٢٠٢٤)
 ٨- من رحلات العرب التجارية رحلة الصيف إلى الشام. () (الإسكندرية ٢٠٢٤)
 ٩- استجابت لدعوة الرسول ﷺ وفود من يثرب في موسم الحج. () (المنوفية ٢٠٢٤)

السؤال الثالث: أكمل العبارتين الآتيتين:

- ١- عمل الرسول ﷺ بحرفتي الرعى و
 (المنيا ٢٠٢٤)
 ٢- كانت أول هجرة للمسلمين إلى
 (الإسكندرية ٢٠٢٤)

السؤال الرابع: صوب ما تحته خط:

- ١- ولد الرسول ﷺ في المدينة. () (السويس ٢٠٢٤)
 ٢- ساد النظام الملكي في شبه الجزيرة العربية عند الإسلام. () (دمياط ٢٠٢٤)

السؤال الخامس: اذكر الصفات الحسنة والصفات السيئة للعرب قبل الإسلام:

الصفات السيئة	الصفات الحسنة

السؤال السادس: أجب عما يلي:

- ١- اذكر: مراحل الدعوة الإسلامية. (المنيا ٢٠٢٤)
 ٢- بم تفسر: هجرة المسلمين إلى الحبشة؟ (الإسكندرية ٢٠٢٤)
 ٣- بم تفسر: بداية الدعوة للإسلام سرًا؟ (بورسعيد ٢٠٢٤)
 ٤- بم تفسر: رفض قريش لدعوة الإسلام؟ (بنى سويف ٢٠٢٤)



السؤال الأول: أكمل العبارات الآتية بما يناسبها من كلمات :

- ١- كان أهل مكة يقومون برحلة الشتاء التجارية إلى
- ٢- عمل الرسول ﷺ بحرفتي
- ٣- من الصفات الحسنة عند العرب قبل الإسلام
- ٤- تمتد دول الوطن العربي عبر قارتي و.....
- ٥- أكبر الدول العربية مساحة تقع في الجناح

السؤال الثاني: اكتب كلمة (صواب) أمام العبارة الصحيحة، وكلمة (خطأ) أمام العبارة غير الصحيحة:

- ١- أشهر القبائل العربية قبل الإسلام قبيلة قريش. ()
- ٢- استمرت المرحلة الأولى من الدعوة السرية خمس سنوات. ()
- ٣- الصومال من دول الجناح الإفريقي. ()
- ٤- كانت هجرة المسلمين الأولى إلى الحبشة. ()
- ٥- استجاب لدعوة الرسول ﷺ وفود من يثرب. ()

السؤال الثالث: (أ) صوب ما تحته خط :

- ١- وجود ممرات مائية في الوطن العربي أعطته أهمية ثقافية.
- ٢- كانت المرحلتان الثالثة والرابعة للدعوة إلى الإسلام في مكة.
- ٣- استجاب لدعوة الرسول ﷺ وفود من ثقيف.

(ب) أجب عن السؤالين الآتيين:

- ١- دلل على صحة العبارة الآتية:
- سيادة النظام القبلي في شبه الجزيرة العربية.

٢- بم تفسر...؟

- هجرة المسلمين إلى الحبشة.





السلامة الإلكترونية

الدرس الثالث

هجرة الرسول ﷺ وتأسيس الدولة الإسلامية



تفاعل



لماذا كانت هجرة المسلمين إلى يثرب ضرورية؟ وكيف استقبل أهل يثرب الرسول ﷺ وأصحابه؟

تعلم



- دعا الرسول ﷺ وفودًا من أهل يثرب في موسم الحج إلى الإسلام، وقد آمنوا به وبايعوه على حمايته ونصرتيه، فلما عادوا إلى يثرب بدءوا في دعوة الناس إلى الإسلام.

الهجرة إلى يثرب

- عندما اشتد إيذاء قريش للرسول ﷺ أمر أصحابه بالهجرة إلى يثرب.

مؤامرة قريش ضد الرسول ﷺ



أسبابها: لأنها أدركت خطورة تجمع المسلمين على مصالحها، فحاولت منع النبي ﷺ من الهجرة.

أحداثها: اجتمع زعماء قريش في **دار الندوة**، وتآمروا على قتله.

نتائجها: فشلت قريش في قتل الرسول ﷺ.

أسباب نجاح الهجرة



نجح الرسول ﷺ في الهجرة من مكة إلى يثرب، **بم تفسر** بسبب:

- ١- تخطيط الرسول ﷺ للهجرة بشكل جيد.
 - ٢- السرية التامة حيث هاجر ليلاً مع صديقه أبي بكر الصديق (رضي الله عنه).
 - ٣- اختار الرسول ﷺ طريقاً غير معروف حتى وصلا إلى يثرب.
- واستقبلهما أهل يثرب بالترحاب، وأطلق الرسول ﷺ عليها اسم **(المدينة)**.

سؤال

(أ) أكمل العبارتين الآتيتين بما يناسبهما من كلمات:

١- اجتمع سادة قريش للاتفاق على منع الرسول ﷺ من الهجرة في دار.....

٢- أطلق الرسول ﷺ على يثرب اسم.....

(ب) بم تفسر...؟

- فشل قريش في منع الرسول ﷺ من الهجرة.....

◀ المرحلة الثالثة: بناء الدولة وصد أذى المشركين.

أسس بناء الدولة الإسلامية

• وضع النبي ﷺ أسسًا لبناء دولة موحدة قائمة على النظام والعدل حيث قام بـ:

١ بناء المسجد

◀ تعددت أدوار المسجد في الإسلام دلل في حيث:

- كان المسجد: مقرًا للحكم وإدارة شئون الدولة الداخلية والخارجية.
- مركزًا للعبادة وتعليم أصول الدين.

٢ المؤاخاة

• عمل الرسول ﷺ على المؤاخاة بين المهاجرين والأنصار
بم تفسر في:

ما المقصود بـ...؟

- المهاجرين: الذين هاجروا من مكة إلى المدينة.
- الأنصار: سكان المدينة الذين نصرُوا الرسول ﷺ في دعوته.

٣ صحيفة المدينة

• وضع الرسول ﷺ وثيقة عرفت باسم صحيفة المدينة بم تفسر في:
- لتنظيم شئون المسلمين فيما بينهم.
- لتنظيم علاقاتهم بالطوائف الأخرى الموجودة في المدينة خاصة اليهود.
وتحديد ما لهم من حقوق وما عليهم من واجبات تجاه الدولة.

غزوات الرسول ﷺ

• قام الرسول ﷺ بعدة غزوات (*) بم تفسر في من أجل:
- حماية الدين الإسلامي. - الدفاع عن النفس ضد المشركين.
• من هذه الغزوات:

غزوة بدر ٢ هـ

الأطراف: المسلمون وقريش.

نتائجها: انتصار المسلمين على قريش رغم قلة عددهم.

غزوة أحد ٣ هـ

الأطراف: المسلمون وقريش.

الأحداث: انتصر جيش المسلمين في بداية المعركة.

نتائجها: تحول نصر المسلمين إلى هزيمة بم تفسر في بسبب مخالفة الرماة أوامر النبي ﷺ، وترك مواقعهم فوق جبل أحد، ونزولهم لجمع الغنائم.

(*) الغزوة: معركة قام بها المسلمون بقيادة الرسول ﷺ ضد المشركين.



غزوة الخندق ٥ هـ

الأطراف: المسلمون و قريش وحلفاؤها.

الأحداث: - أشار **سلمان الفارسي** على النبي ﷺ بحفر خندق حول المدينة.

- جعل هذا الخندق من المستحيل على جيش قريش مهاجمة المسلمين رغم حصارهم لفترة طويلة.

نتائجها: - انتصر المسلمون على قريش وحلفائها دون قتال.

◀ **المرحلة الرابعة: الفتح والدعوة العالمية للإسلام.**

صلح الحديبية ٦ هـ

أطرافه: المسلمون وأهل مكة (قريش).

أسبابه: خروج النبي ﷺ مع بعض أصحابه لأداء العمرة، ولكن منعتهم قريش من دخول مكة، وبعد مفاوضات بينهما تم عقد صلح الحديبية.

تم الاتفاق على هدنة بين قريش والمسلمين.

• نتائجه: مكن هذا الاتفاق الرسول ﷺ من نشر دعوته خارج الجزيرة العربية، فبدأ في إرسال الرسائل إلى الملوك والحكام يدعوهم إلى الإسلام.

فتح مكة ٨ هـ


• أسبابه: نقض قريش الهدنة واعتداؤها على قبيلة **بنو خزاعة** حليفة الرسول ﷺ.

أحداثه: خروج الرسول ﷺ بجيش كبير لفتح مكة عام ٨ هـ.

نتائجه: ١- فتح الرسول ﷺ مكة وحطم الأصنام التي كانت حولها وطاف بالكعبة.

٢- قدم الرسول ﷺ مثالاً عظيماً في التسامح؛ **دلك** حيث عفا عن أهل مكة وأعطاهم الأمان رغم إيدائهم له ولأصحابه، وقال لهم: «اذهبوا فأنتم الطلقاء».

٣- نتيجة لعفو الرسول ﷺ بدأ الناس يدخلون الإسلام أفواجا.



وفاة الرسول ﷺ

• في العام ١٠ هـ خرج النبي ﷺ لأداء فريضة الحج، وبعد عودته إلى المدينة مرض مرضاً شديداً، وفي العام التالي توفي الرسول ﷺ بعد أن أتم رسالته.

استكشف وراجع

استكشف:

- «تعد الهجرة إلى المدينة نقطة تحول في التاريخ الإسلامي». ناقش ذلك مع زملائك في الفصل، موضِّحاً أسباب ونتائج الهجرة إلى المدينة، والدروس المستفادة منها.

راجع: ١- اشرح سبب حرص الرسول ﷺ على المؤاخاة بين المهاجرين والأنصار.

٢- ما سبب قيام الرسول ﷺ بعدد من الغزوات؟

٣- ما النتائج التي ترتبت على مخالفة الرماة لأوامر الرسول ﷺ في غزوة أحد.

(١) اقرأ واستنتج :

نص إثرائي

شروط صلح الحديبية

عقد النبي ﷺ مع قريش صلح الحديبية عام ٦ هـ ، وكان من شروطه : «إيقاف الحرب بين الطرفين لمدة عشر سنوات ، وتأجيل دخول المسلمين إلى مكة للعام القادم ، وألا ترد قريش من يأتيها من المسلمين ، بينما يرد محمد ﷺ من يأتيه من قريش » . وقد اعترض بعض الصحابة على هذه الشروط ، ولكن رأى فيها النبي ﷺ نصراً وفتحاً للمسلمين حيث بدأت مرحلة نشر الدعوة الإسلامية عالمياً .

- ١- فى رأيك ، لماذا اعترض بعض الصحابة على شروط صلح الحديبية؟
- ٢- لماذا اعتبر النبي ﷺ صلح الحديبية فتحاً للمسلمين؟
- ٣- إذا كنت معاصراً لفترة كتابة شروط صلح الحديبية ، فما الشروط التى ترغب فى حذفها أو إضافتها مع تبرير وجهة نظرك؟

(ب) ابحث ولخص :

- بالاستعانة بشبكة المعلومات الدولية (الإنترنت) ، ابحث فى سيرة الرسول ﷺ ، واكتب موقفاً يدل على كل صفة من صفات الرسول ﷺ (التسامح ، التواضع ، العفو)

(ج) استنتج وقارن

نص إثرائي

آداب الحرب فى الإسلام

كان الرسول ﷺ يأمر جيشه بألا يقاتلوا إلا من قاتلهم ، وحرص على حماية الناس وممتلكاتهم أثناء الحرب ، فكان ﷺ يوصى أصحابه فى الغزوات بما يلى :

- ١- لا تقطعوا شجرة ، ... ، ولا تهديموا بيتاً ، وألا تقتلوا امرأة ولا صبياً ولا وليداً ولا شيخاً كبيراً ولا مريضاً ، ولا تسرفوا فى القتل .
- ١- استخلص القيم التى تضمنتها وصايا النبي ﷺ للجيش .
- ٢- استنتج بعض آداب الحرب فى الإسلام ، ووضّح أثر الالتزام بها فى الحروب التى يشهدها العالم حالياً .
- ٣- أصدرت منظمة الأمم المتحدة القانون الدولى الإنسانى بهدف حماية المدنيين والمنشآت أثناء الحروب ، فضلاً عن توفير الرعاية الطبية للجرحى . استخدم شبكة المعلومات الدولية (الإنترنت) ، وابحث عن مواد القانون الدولى الإنسانى التى تؤيد ذلك ، ثم وضّح إلى أى مدى تتفق هذه المواد مع آداب الحرب فى الإسلام .
- ٤- فكّر ورَتب : من قراءتك للدرس ، رَتب الأحداث التاريخية على خط زمنى ، ثم اكتب ملخصاً لكل حدث . (فتح مكة - غزوة أحد - غزوة بدر - غزوة الخندق - صلح الحديبية) .

(التفكير الناقد)

(د) اقرأ وحلّ:

نص إثرائي

صحيفة المدينة

حدد النبي محمد ﷺ في صحيفة المدينة حقوق وواجبات كل من يعيش في المدينة وقد تضمنت بنودًا تؤكد على حرية العقيدة، والعيش بأمن وسلام. اقرأ بعض بنود صحيفة المدينة، ثم أجب.

- المسلمون من قريش ويثرب ومن تبعهم أمة واحدة من دون الناس.
- لليهود دينهم وللمسلمين دينهم إلا من ظلم وأثم فإنه لا يهلك إلا نفسه وأهله.
- من خرج من المدينة آمن، ومن قعد آمن إلا من ظلم وأثم.

١- فسراهتمام النبي ﷺ بكتابة صحيفة المدينة.

٢- استخلص أهم قيم المواطنة الواردة في صحيفة المدينة.

٣- إذا كنت تعيش في زمن النبي ﷺ، فما البنود التي تقترح إضافتها إلى صحيفة «المدينة» لتحقيق التعايش السلمى بين الناس؟

٤- أصدرت الأمم المتحدة عام ١٩٤٨ م وثيقة الإعلان العالمي لحقوق الإنسان لحث دول العالم على مراعاة حقوق الإنسان واحترام الحريات الأساسية. باستخدام شبكة المعلومات الدولية (الإنترنت)، ابحث عن الإعلان العالمي لحقوق الإنسان وحدد الحقوق التي تتفق مع الحقوق التي تضمنتها صحيفة المدينة.

(هـ) اقرأ واستنتج:

نص إثرائي

الإيثار

عندما وصل المهاجرون إلى المدينة تسابق الأنصار للترحاب بهم واستضافتهم وعرضوا عليهم مشاركتهم في أموالهم وممتلكاتهم، ولكن رفض المهاجرون أن يكونوا عبئًا على الأنصار؛ لذلك اتجهوا إلى العمل بالزراعة والتجارة، وكانت العلاقة بينهم قائمة على الودّ والمؤاخاة.

- ١- استنتج القيم التي تمسك بها المهاجرون والأنصار. ٢- وضح أثر التمسك بتلك القيم على الفرد والمجتمع.
- ٣- اذكر موقفًا طبقت فيه إحدى هذه القيم، ووصف شعورك وقتها.

النكامل مع: اللغات والإعلام التربوي (الكتابة الإبداعية)

(و) فكروا كتب كلمة لتلقبها في الإذاعة المدرسية باللغة العربية أو بإحدى اللغات الأجنبية عن أحد الموضوعات التالية، مراعيًا استخدام قواعد اللغة:

- الهجرة إلى المدينة.
- غزوات الرسول ﷺ والدروس المستفادة منها.
- السمات الشخصية للنبي محمد ﷺ.

قيم نفسك

- أشرح أهمية الهجرة إلى يثرب (المدينة).
 - أفسر أهمية أسس بناء الدولة الإسلامية.
 - أتعرف بعض غزوات الرسول ﷺ.
 - أستنتج آداب الحرب في الإسلام.
 - أستخلص أهم قيم المواطنة في صحيفة المدينة.
- جيد جدًا جيد بحاجة إلى مجهود أكبر
 جيد جدًا جيد بحاجة إلى مجهود أكبر
 جيد جدًا جيد بحاجة إلى مجهود أكبر
 جيد جدًا جيد بحاجة إلى مجهود أكبر
 جيد جدًا جيد بحاجة إلى مجهود أكبر

الهجرة إلى يثرب

عندما اشتد
إيذاء قريش
لرسول،

أمر أصحابه
بالهجرة إلى
يثرب.

اجتمع سادة قريش في
دار الندوة، واتفقوا على
قتل رسول الله ﷺ،
ومنعوه ومنع أصحابه
من الهجرة.

لكن قريشاً فشلت في
قتل رسول الله ﷺ،
ومنعوه من الهجرة.

وصل رسول الله ﷺ
إلى يثرب وأطلق
عليها اسم المدينة.



أسس بناء الدولة



بناء المسجد

- مقراً للحكم وإدارة شئون
الدولة الداخلية والخارجية.
- مركزاً للعبادة وتعليم
أصول الدين.

المؤاخاة

آخى النبي ﷺ بين
المهاجرين والأنصار.

صحيفة المدينة

وثيقة لتنظيم شئون
المسلمين فيما بينهم
وتنظيم علاقاتهم بالطوائف
الأخرى الموجودة في المدينة.

أهم الغزوات

غزوة بدر
٢ هـ

انتصر المسلمون
على قريش.

غزوة أحد
٣ هـ

تحول نصر
المسلمين إلى
هزيمة.

غزوة الخندق
٥ هـ

انتصر المسلمون
دون قتال.

صلح الحديبية
٦ هـ

مكن الرسول ﷺ
من نشر دعوته
خارج الجزيرة
العربية.

فتح مكة
٨ هـ

نجح النبي ﷺ
وأصحابه في فتح
مكة دون قتال.



السؤال الأول اكتب كلمة (صواب) أمام العبارة الصحيحة، وكلمة (خطأ) أمام العبارة غير الصحيحة:

- ١ أمر الرسول ﷺ أصحابه بالهجرة إلى الطائف. ()
- ٢ وضع الرسول ﷺ بعد الهجرة إلى المدينة أسس بناء الدولة الإسلامية. ()
- ٣ أطلق الرسول ﷺ على الطائف اسم «المدينة». ()
- ٤ خرج الرسول ﷺ لأداء فريضة الحج في العام العاشر من الهجرة. ()
- ٥ اجتمعت قريش في دارالحكمة لمنع الرسول ﷺ من الهجرة. ()
- ٦ عقد المسلمون صلح الحديبية مع قريش. ()

السؤال الثاني أكمل العبارات الآتية بما يناسبها من كلمات:

- ١ دعا الرسول ﷺ أهل يثرب إلى الإسلام في موسم
- ٢ اتفقت قريش على قتل الرسول ﷺ في دار
- ٣ هاجر الرسول ﷺ إلى يثرب وأخى بين
- ٤ تم نشر الدعوة الإسلامية خارج الجزيرة العربية بعد صلح
- ٥ انتصر المسلمون على قريش عام ٢ هـ في غزوة
- ٦ أحد أسس بناء الدولة وكان مقرراً للحكم

السؤال الثالث اكتب ما تشير إليه العبارات الآتية:

- ١ مكان اتفقت فيه قريش على قتل الرسول ﷺ ومنعه من الهجرة. (.....)
- ٢ وثيقة وضعها الرسول ﷺ لتنظيم شئون المسلمين في المدينة. (.....)
- ٣ اسم أطلق على يثرب بعد هجرة النبي ﷺ إليها. (.....)

السؤال الرابع اختر الإجابة الصحيحة مما بين الأقواس:

- ١ انتصر المسلمون رغم قلة عددهم على قريش في غزوة (بدر - أحد - الخندق - تبوك)
- ٢ تمكن الرسول ﷺ عام ٨ هـ من فتح (المدينة - مكة - الحديبية - الطائف)
- ٣ غزوة انتصر فيها المسلمون على قريش دون قتال (بدر - أحد - الخندق - تبوك)
- ٤ تحول نصر المسلمين إلى هزيمة في غزوة (بدر - أحد - الخندق - تبوك)
- ٥ منعت قريش الرسول ﷺ وأصحابه في العام السادس الهجري من دخول (يثرب - الطائف - مكة - حنين)

السؤال الخامس لمن تنسب الأعمال التاريخية الآتية...؟

- ١ أشار على النبي ﷺ بحفر خندق حول المدينة. (.....)
- ٢ اتفقت على قتل الرسول ﷺ ومنعه من الهجرة. (.....)
- ٣ أمر أصحابه بالهجرة إلى يثرب عندما اشتد إيذاء قريش. (.....)

السؤال السادس رتب الأحداث التاريخية من القديم إلى الحديث:

- ١ صلح الحديبية - غزوة بدر - فتح مكة - غزوة أحد - غزوة الخندق.
- ٢ خروج الرسول ﷺ لأداء فريضة الحج - وفاة الرسول ﷺ - هجرة الرسول ﷺ إلى يثرب.

السؤال السابع بم تفسر...؟

- ١ أمر الرسول ﷺ أصحابه بالهجرة إلى يثرب.
- ٢ اجتماع قريش في دار الندوة.
- ٣ نجاح خطة هجرة الرسول ﷺ إلى يثرب.
- ٤ اهتمام الرسول ﷺ بكتابة صحيفة المدينة.
- ٥ تحول نصر المسلمين إلى هزيمة في غزوة أحد.
- ٦ اعتبار النبي ﷺ صلح الحديبية فتحاً للمسلمين.

السؤال الثامن ما النتائج المترتبة على...؟

- ١ مبايعة وفود من أهل يثرب للرسول ﷺ في موسم الحج.
- ٢ إشارة سلمان الفارسي بحفر خندق حول المدينة ٥ هـ.
- ٣ غزوة الخندق ٥ هـ.
- ٤ نقض قريش صلح الحديبية.
- ٥ عفو النبي ﷺ عن أهل مكة.

السؤال التاسع دلل على صحة العبارات التالية:

- ١ تعددت عوامل نجاح خطة الرسول ﷺ في الهجرة من مكة إلى المدينة.
- ٢ رفضت قريش فكرة هجرة الرسول ﷺ وأصحابه إلى يثرب.
- ٣ تعتبر الهجرة إلى المدينة نقطة تحول في التاريخ الإسلامى.

السؤال العاشر ماذا كان يحدث إذا لم...؟

- ١ تنقض قريش عهدها الذي وقَّع بالحديبية مع النبي ﷺ.
- ٢ يقم المسلمون بحفر خندق حول المدينة عام ٥ هـ.

المستوى الثالث - المستوى الرابع

السؤال الأول: اختر الإجابة الصحيحة مما بين الأقواس:

- ١- أولى غزوات الرسول ﷺ للدفاع عن الإسلام (الخدق - بدر - أحد - حنين) (القليوبية ٢٠٢٤)
 ٢- كانت هجرة المسلمين الثانية إلى مدينة (الحبشة - يثرب - الطائف - حنين) (البحيرة ٢٠٢٤)
 ٣- أشار على سيدنا (محمد) ﷺ بحفر خندق حول المدينة الصحابي
 (سلمان الحلبي - سلمان المغربي - سلمان الفارسي - سلمان علي) (القاهرة ٢٠٢٤)

السؤال الثاني: أكمل العبارات الآتية بكلمات مناسبة مما بين القوسين:

- ١- اسم أطلق على يثرب بعد هجرة النبي ﷺ إليها (البحيرة ٢٠٢٤)
 ٢- عندما اشتد إيذاء قريش للرسول ﷺ أمر أصحابه بالهجرة إلى (الإسماعيلية ٢٠٢٤)
 ٣- تأثر المسلمون بالفكر العسكري الفارسي في غزوة (البحيرة ٢٠٢٤)
 ٤- اجتمع زعماء قريش وتآمروا على قتل سيدنا محمد ﷺ في دار (القاهرة ٢٠٢٤)
 ٥- غزوة هزم فيها المسلمون لمخالفتهم أمر الرسول ﷺ (الشرقية ٢٠٢٤)
 ٦- أشار على الرسول ﷺ بحفر خندق حول المدينة في غزوة الخندق (الإسكندرية ٢٠٢٤)

السؤال الثالث: اكتب كلمة (صواب) أمام العبارة الصحيحة، وكلمة (خطأ) أمام العبارة غير الصحيحة:

- ١- اقتصر دور المسجد على العبادة. () (البحيرة ٢٠٢٤)
 ٢- هزم المسلمون في غزوة أحد بسبب قلة عددهم. () (المنيا ٢٠٢٤)
 ٣- أول عمل قام به الرسول ﷺ بعد الهجرة هو بناء المسجد. () (الجيزة ٢٠٢٤)
 ٤- انتصر المسلمون على قريش في غزوة الخندق. () (الإسكندرية ٢٠٢٤)

السؤال الرابع: اكتب ما تشير إليه العبارة الآتية:

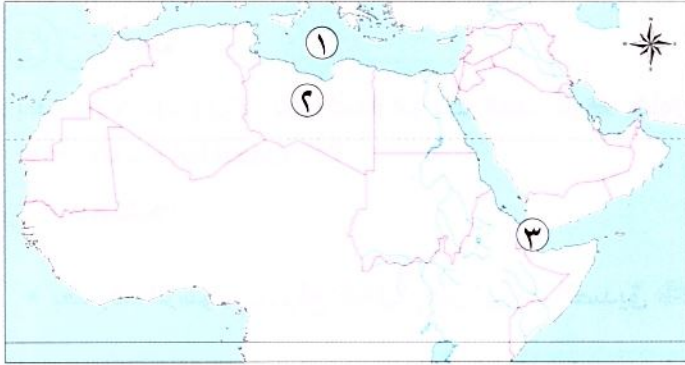
- الصلح الذي عقد بين قريش والمسلمين عام (٦ هـ). (دمياط ٢٠٢٤)

السؤال الخامس: صوب ما تحته خط:

- انتصر المسلمون على قريش وحلفائها دون قتال في غزوة أحد. (القليوبية ٢٠٢٤)

السؤال السادس: أجب عما يلي:

- ١- بم تفسر: هزيمة المسلمين في غزوة أحد؟ (الشرقية ٢٠٢٤)
 ٢- دلل على صحة العبارة: تسامح النبي ﷺ مع أهل مكة (المنيا ٢٠٢٤)
 ٣- اذكر نتيجة واحدة ل: عقد صلح الحديبية بين سيدنا محمد ﷺ وقريش عام ٦ هجرية (البحيرة ٢٠٢٤)
 ٤- اكتب دليلاً واحداً على صحة العبارة الآتية: وقوف أهل يثرب بجانب سيدنا محمد ﷺ والتعهد بحمايته ونصرته (السويس ٢٠٢٤)
 ٥- ماذا كان يحدث إذا: لم يخالف الرماة أمر الرسول ﷺ في غزوة أحد ٣ هـ (القاهرة ٢٠٢٤)
 ٦- ما النتائج المترتبة على: زيادة إيذاء قريش للمسلمين؟ (الجيزة ٢٠٢٤)



السؤال الأول: (١) أمامك خريطة صماء للوطن العربي، اكتب ما تدل عليه الأرقام:

- ١- البحر.....
٢- دولة.....
٣- مضيق.....

(ب) بم تفسر...؟

- ١- نجاح خطة هجرة الرسول ﷺ إلى يثرب.....
٢- تحول نصر المسلمين إلى هزيمة في غزوة أحد.....

السؤال الثاني: اكتب كلمة (صواب) أمام العبارة الصحيحة، وكلمة (خطأ) أمام العبارة غير الصحيحة:

- ١- هاجر المسلمون إلى الحبشة لأن بها ملكاً عادلاً. ()
٢- اجتمعت قريش في دار الأرقم بن أبي الأرقم لمنع الرسول ﷺ من الهجرة. ()
٣- أطلق على يثرب اسم المدينة بعد الهجرة. ()
٤- رحب الأنصار بالمهاجرين في منازلهم واعتبروهم إخوة لهم. ()
٥- جهز النبي ﷺ جيشاً وخرج سرّاً لفتح مكة في العام العاشر من الهجرة. ()

السؤال الثالث: (١) اختر الإجابة الصحيحة مما بين الأقواس:

- ١- لجأ الرسول ﷺ إلى نشر دعوته بين القبائل العربية في موسم الحج واستجابت له وفود من أهل.....
(الطائف - مكة - يثرب - الحبشة)
٢- أولى غزوات المسلمين ضد قريش هي غزوة.....
(بدر - أحد - الخندق - تبوك)
٣- منعت قريش الرسول ﷺ من أداء فريضة العمرة، وذلك قبل.....
(غزوة بدر - غزوة أحد - غزوة الخندق - صلح الحديبية)

(ب) اقرأ العبارة التالية، ثم أجب عن الأسئلة التالية لها:

« اذهبوا فأنتم الطلقاء ».

- ١- من قائل هذه العبارة؟ وفي أي مناسبة قيلت؟.....
٢- علام تدل هذه العبارة؟.....





تعليمية الشرح

الدرس الرابع

لمحات من حياة الخلفاء الراشدين



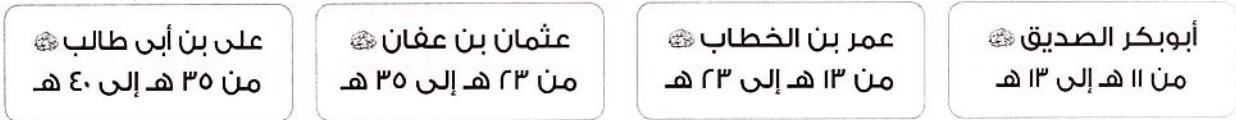
تفاعل

بعد وفاة الرسول ﷺ تم اختيار أبو بكر الصديق ؓ كأول خليفة للمسلمين؛ فهل تعرف السبب؟ ومن هم الخلفاء الراشدون؟

تعلم

- بعد وفاة الرسول ﷺ، وقع الاختيار على أبي بكر الصديق ؓ كخليفة للمسلمين.

الخلفاء الراشدون



أبو بكر الصديق ؓ

- وقع اختيار المسلمين على أبي بكر الصديق ؓ ليكون خليفة لرسول الله ﷺ. بم تفسر؟ لأنه:

١- أول من أسلم من الرجال.

٢- شارك الرسول ﷺ في جميع غزواته.

٣- جعله الرسول ﷺ إمامًا للمسلمين في الصلاة أثناء مرضه.

فترة خلافته:

- لقد استمرت خلافة^(١) أبي بكر الصديق ؓ من (١١-١٣ هـ).

أهم أعماله:

- ١ تأمين حدود الدولة الإسلامية
- ٢ محاربة المرتدين
- ٣ جمع القرآن الكريم
- ٤ الفتوحات الإسلامية

١ تأمين حدود الدولة الإسلامية

قام أبو بكر بإرسال جيش أسامة بن زيد الذي جهزه الرسول ﷺ قبل وفاته إلى الشام بم تفسر؟ ل:

• محاربة الروم.

• تأمين حدود الدولة الإسلامية.




(* الخلافة: شكل من أشكال الحكم، اتبعه المسلمون بعد وفاة الرسول ﷺ، يقوم على اختيار من يتولى أمور المسلمين.

٢ محاربة المرتدين

بالمرتدين

ما المقصود

- هم الذين رفضوا دفع الزكاة، وادعى البعض منهم النبوة مثل مسيلمة الكذاب.



- أرسل أبو بكر الصديق ﷺ عدة جيوش لمحاربة المرتدين عن الإسلام حتى عادوا إلى الإسلام مرة أخرى.

٣ جمع القرآن الكريم

- أمر الخليفة أبو بكر الصديق ﷺ **زيد بن ثابت** بجمع القرآن به تفسر بسبب استشهاد عدد كبير من حفظة القرآن في حروب المرتدين.

٤ الفتوحات الإسلامية

- أرسل أبو بكر الصديق ﷺ الجيوش الإسلامية خارج شبه الجزيرة العربية به تفسر
 - ١- لنشر الإسلام.
 - ٢- لتأمين حدود الدولة الإسلامية.
- ◀ **وفاته:** توفي أبو بكر الصديق ﷺ عن عمر ٦٣ عامًا في عام ١٣ هـ.

عمر بن الخطاب

أسباب اختياره للخلافة:

- قبل وفاة أبي بكر الصديق ﷺ أوصى لعمر بن الخطاب ﷺ بتولي الخلافة من بعده، بعد أن استشار عددًا من الصحابة.

فترة خلافته:

- استمرت خلافة عمر بن الخطاب ﷺ من (١٣-٢٣ هـ).

أهم أعماله:

- ١ التقويم الهجري
- ٢ استكمال الفتوحات الإسلامية
- ٣ إنشاء الدواوين^(*)

١ التقويم الهجري

- وضع التقويم الهجري الذي يبدأ من هجرة الرسول ﷺ من مكة إلى المدينة.

٢ استكمال الفتوحات الإسلامية

- استكمل الفتوحات الإسلامية التي بدأت في عهد الخليفة أبي بكر الصديق ﷺ، وفتح:
 - بلاد العراق
 - بلاد فارس
 - الشام
 - مصر

٣ إنشاء الدواوين^(*)

- أنشأ عددًا من الدواوين، مثل ديوان الجند وديوان بيت المال.

(*) الديوان: كلمة فارسية معناها السجل أو الدفتر.




◀ فترة خلافته:

تولى عثمان بن عفان ؓ الخلافة من عام (٢٣ - ٣٥ هـ).

◀ أهم أعماله:

- ١ كتابة القرآن الكريم فى مصحف واحد ٢ إنشاء الأسطول البحرى الإسلامى ٣ استكمال الفتوحات الإسلامية

١ كتابة القرآن الكريم فى مصحف واحد



أمر عثمان بن عفان ؓ بكتابة القرآن فى مصحف واحد وتوزيعه على كل البلاد الإسلامية؛ **بم تفسر؟** حتى تتوحد قراءة القرآن.

٢ إنشاء الأسطول البحرى الإسلامى



أمر عثمان بن عفان ؓ بإنشاء أول أسطول بحرى فى الإسلام؛ **بم تفسر؟** لتأمين سواحل مصر والشام من هجمات الروم.

٣ استكمال الفتوحات الإسلامية

قام عثمان بن عفان ؓ بالعديد من الفتوحات الإسلامية **بم تفسر؟** لتأمين حدود الدولة الإسلامية.

سؤال

(أ) أكمل العبارات الآتية بما يناسبها من كلمات:

- ١- تولى خلافة المسلمين بعد أبى بكر الصديق ؓ الخليفة
 ٢- قام أبو بكر ؓ بإرسال جيش إلى الشام بقيادة
 ٣- أنشأ عمر بن الخطاب ؓ عددًا من الدواوين مثل ديوان

(ب) صوب ما تحته خط:

- ١- أمر عثمان بن عفان ؓ بإنشاء أسطول بحرى لتأمين سواحل مصر واليمن من هجمات الروم.
 ٢- أمر أبو بكر الصديق ؓ بكتابة القرآن فى مصحف واحد.

(ج) بم تفسر...؟

- ١- اختيار أبى بكر الصديق ؓ ليكون خليفة للمسلمين
 ٢- كتابة عثمان بن عفان ؓ القرآن الكريم فى مصحف واحد



◀ فترة خلافته:

تولى علي بن أبي طالب رضي الله عنه الخلافة من (٣٥ - ٤٠ هـ).

◀ أهم أعماله:

١ نقل مقر الخلافة ٢ تنظيم الشرطة

١ نقل مقر الخلافة

نقل مقر الخلافة إلى الكوفة في العراق بدلاً من المدينة **بم تفسر** ؟
 • ليسهل الانتقال بين أرجاء الدولة الإسلامية خاصة بعد اتساعها.

٢ تنظيم الشرطة

قام بتنظيم الشرطة **بم تفسر** ؟ للحفاظ على أمن وسلامة المواطنين؛
 حيث:

- عين رئيساً للشرطة أطلق عليه اسم صاحب الشرطة.
- عين شرطة لحراسة بيت المال.

- كان علي بن أبي طالب رضي الله عنه حريصاً على تطبيق العدل، وخصص يوماً للنظر في مظالم الناس.
 وبنهاية حكم علي بن أبي طالب رضي الله عنه انتهى عصر الخلفاء الراشدين رضي الله عنهم.

سؤال

(١) اكتب كلمة (صواب) أمام العبارة الصحيحة، وكلمة (خطأ) أمام العبارة غير الصحيحة:

- ١- نقل علي بن أبي طالب رضي الله عنه مقر الخلافة إلى الكوفة في الشام. ()
 ٢- قام علي بن أبي طالب رضي الله عنه بتنظيم الجيش للحفاظ على سلامة المواطنين. ()

(ب) بم تفسر...؟

- قيام الخليفة علي بن أبي طالب رضي الله عنه بتنظيم الشرطة

استكشف وراجع

استكشف:

- اتسعت أرجاء الدولة الإسلامية في عصر الخلفاء الراشدين رضي الله عنهم، استخدم شبكة المعلومات الدولية (الإنترنت)، ثم اجمع معلومات عن أهم الفتوحات الإسلامية في عصرهم والنتائج التي ترتبت عليها.

راجع:

- ١- ما أهمية كتابة القرآن الكريم في مصحف واحد؟
 ٢- توقع ماذا كان سيحدث لو لم يحارب أبو بكر الصديق رضي الله عنه المرتدين.

(لنتعمق في الفهم)

- (أ) اقرأ وسجل: أعد قراءة الدرس مرة أخرى، ثم حدّد أهم إنجاز قام به كل خليفة من الخلفاء الراشدين رضي الله عنهم من وجهة نظرك.
(ب) اقرأ وأجب:

نص إثرائي

وصايا أبي بكر الصديق رضي الله عنه في الحروب

من وصايا الخليفة أبي بكر الصديق رضي الله عنه إلى جيش أسامة بن زيد الذي أرسله إلى الشام بعد وفاة الرسول صلى الله عليه وسلم:
«لا تخونوا، ولا تغلوا، ولا تغدروا، ولا تقتلوا طفلاً صغيراً أو شيخاً كبيراً ولا امرأة...، ولا تقطعوا شجرة مثمرة، ولا تبحوا شاة ولا بقرة ولا بعيراً إلا لمأكلة...».

- ١- استنتج القيم المتضمنة في وصايا أبي بكر الصديق رضي الله عنه.
- ٢- أثبت بالأدلة سير الخليفة أبي بكر الصديق رضي الله عنه على منهج الرسول صلى الله عليه وسلم.
- ٣- قارن بين ما يحدث في الحروب في عالمنا اليوم وبين وصايا أبي بكر الصديق رضي الله عنه لجيشه في الحرب.

(المهارات الحياتية)

(ج) تخيل واكتب: النكامل مع اللغة العربية والإعلام التربوي

تخيل أنك تشارك في إعداد برنامج إذاعي عن أحد الخلفاء الراشدين رضي الله عنهم، اختر الخليفة وحدّد أهم صفاته والسبب الذي يجعله قدوة تحتذى بها في حياتك.

(د) اقرأ واستنتج:

نص إثرائي

بلاغة علي بن أبي طالب رضي الله عنه

كان علي بن أبي طالب رضي الله عنه على درجة عالية من الحكمة، وعُرف ببلاغته، وفطنته. ومن أقواله: «يا بني، اجعل نفسك ميزاناً فيما بينك وبين غيرك؛ فأجب لغيرك ما تحب لنفسك، واکره له ما تكرهه لها، ولا تظلم كما لا تحب أن تُظلم، وأحسب كما تحب أن يُحسب إليك...، ولا تقل ما لا تحب أن يُقال لك».

- ١- استنتج أهمية تطبيق القيم التي أشار إليها علي بن أبي طالب رضي الله عنه.
- ٢- اذكر موقفاً طبقت فيه إحدى هذه القيم.

(لنبحث عن المعرفة)

(هـ) اقرأ وحل:

نص إثرائي

سخاء عثمان بن عفان رضي الله عنه

أنفق عثمان بن عفان رضي الله عنه كثيراً من ماله في سبيل نصرته الإسلام؛ فشارك في تجهيز الجيش الذي أعده النبي صلى الله عليه وسلم لغزوة تبوك عام ٩هـ، وقام بتوسيع مسجد النبي صلى الله عليه وسلم، واشترى بئر رومة وجعلها وقفاً للمسلمين. كما اشترك في العديد من الغزوات فيما عدا غزوة بدر، وذلك لانشغاله بتمريض زوجته السيدة رقية رضي الله عنها، ابنة الرسول صلى الله عليه وسلم.

- ١- استنتج أهم القيم التي ظهرت في مواقف عثمان بن عفان رضي الله عنه.
- ٢- ما رأيك في موقف عثمان بن عفان رضي الله عنه مع زوجته السيدة رقية رضي الله عنها؟
- ٣- ما أكثر صفة أعجبتك في شخصية عثمان بن عفان رضي الله عنه؟ ولماذا؟

(لنبحث عن المعرفة)

(و) فكر وأجب:

- ١- انسب كل عمل مما يلي إلى الخليفة الذى قام به :
 - وضع التقويم الهجرى الذى يبدأ من هجرة الرسول ﷺ. (.....)
 - أرسل عدّة جيوش لمحاربة المرتدين عن الإسلام. (.....)
 - أمر بإنشاء أول أسطول بحرى فى الإسلام. (.....)
 - اهتم بتنظيم الشرطة وعيّن رئيسًا للشرطة أطلق عليه اسم صاحب الشرطة. (.....)
- ٢- بم تفسر...؟
 - أمر عثمان بن عفان ؓ بكتابة القرآن فى مصحف واحد وتوزيعه على كل البلاد الإسلامية.
 - نقل الخليفة على بن أبى طالب ؓ مقر الخلافة إلى الكوفة فى العراق بدلًا من المدينة.
 - أرسل الخليفة أبو بكر الصديق ؓ الجيوش الإسلامية خارج شبه الجزيرة العربية.

(الدراسات الاجتماعية فى حياتنا اليومية)

(ز) اقرأ وأجب:

نص إثرائى

مبادئ حكم أبى بكر الصديق ؓ

- قال أبو بكر الصديق ؓ فى بداية توليه الخلافة: أيها الناس! لقد وليت عليكم ولست بخيركم، فإن أحسنت فأعينونى، وإن أسأت فقومونى، الضعيف فيكم قوى عندى حتى أخذ له الحق، والقوى فيكم ضعيف عندى حتى أخذ منه الحق إن شاء لله، أطيعونى ما أطعت الله ورسوله؛ فإن عصيت الله ورسوله فلا طاعة لى عليكم.
- ١- ما رأيك فى خطبة أبى بكر الصديق ؓ عند توليه الخلافة؟
 - ٢- استنتج أهم المبادئ التى التزم بها أبو بكر الصديق ؓ فى فترة حكمه، ووضّح كيف يمكنك تطبيقها فى حياتك اليومية.

(ح) اقرأ وحلّل:

نص إثرائى

أخلاق عمر بن الخطاب ؓ

- كان عمر بن الخطاب ؓ رغم شدته وقوة شخصيته رحيماً، والمواقف الدالة على ذلك كثيرة. فعندما علم بأن هناك امرأة وأطفالها فى أقصى المدينة قد أصابهم ضرر كبير أسرع إليهم حاملاً على ظهره الدقيق والزيت، ثم نقلهم إلى جواره حتى يُشرف على رعايتهم، وأيضاً عندما رأى امرأة عجوزاً تحمل حملاً ثقيلاً عليها فحمله عنها.
- ١- ما القيم التى طبقها عمر بن الخطاب ؓ فى حياته فى ضوء الفقرة السابقة؟
 - ٢- ما الصفة التى أعجبتك فى شخصية عمر بن الخطاب ؓ؟ وماذا يحدث إذا انتشرت هذه الصفة بين الناس؟

قيم نفسك

- أوضح أهم إنجازات الخلفاء الراشدين ؓ. جيد جدًا جيد بحاجة إلى مجهود أكبر
- استنتج أهم القيم التى التزم بها الخلفاء الراشدون ؓ فى حياتهم. جيد جدًا جيد بحاجة إلى مجهود أكبر
- أستخلص المعلومات الواردة فى النصوص والوثائق التاريخية الخاصة بالخلفاء الراشدين ؓ. جيد جدًا جيد بحاجة إلى مجهود أكبر



أسباب اختياره: ١- أول من آمن من الرجال.

٢- شارك الرسول ﷺ في جميع غزواته.

٣- جعله الرسول ﷺ إمامًا للمسلمين في الصلاة أثناء مرضه.

مدة خلافته: استمرت خلافته سنتين ونصف السنة (١١-١٣ هـ).

أهم أعماله: ١- إرسال جيش أسامة بن زيد لمحاربة الروم وتأمين حدود الدولة الإسلامية.

٢- أرسل الجيوش لمحاربة المرتدين ونجحت في محاربتهم وعادوا إلى الإسلام.

٣- أمر زيد بن ثابت بجمع القرآن الكريم بعد استشهاد الكثير من حفظة القرآن الكريم في حروب المرتدين.

٤- أرسل الجيوش الإسلامية خارج شبه الجزيرة العربية لنشر الإسلام وتأمين حدود الدولة الإسلامية.

وفاته: توفي عام ١٣ هـ.



أسباب اختياره: قبل وفاة أبي بكر الصديق ؓ أوصى عمر بن الخطاب ؓ بتولى الخلافة من بعده، بعد أن استشار عددًا من الصحابة.

مدة خلافته: استمرت خلافته عشر سنوات (١٣-٢٣ هـ).

أهم أعماله: ١- وضع التقويم الهجري الذي يبدأ بهجرة الرسول ﷺ من مكة إلى المدينة.

٢- استكمل الفتوحات الإسلامية ففتح بلاد العراق وفارس والشام ومصر.

٣- أنشأ الدواوين مثل: ديوان الجند وديوان بيت المال.



مدة خلافته: استمرت خلافته اثني عشر عامًا (٢٣-٣٥ هـ).

أهم أعماله: ١- أمر بكتابة القرآن الكريم في مصحف واحد وتوزيعه لتوحيد قراءته.

٢- أنشأ أول أسطول بحري إسلامي لتأمين سواحل مصر والشام من الروم.

٣- استكمل الفتوحات الإسلامية لتأمين حدود الدولة الإسلامية.



مدة خلافته: استمرت خلافته خمس سنوات (٣٥-٤٠ هـ).

أهم أعماله: ١- نقل مقر الخلافة إلى الكوفة لتسهيل الانتقال بين أرجاء الدولة الإسلامية.

٢- قام بتنظيم الشرطة وعين لها (صاحب الشرطة) لحفظ الأمن وحراسة بيت المال.

٣- حرص على تطبيق العدل بين رعاياه، وخصص يومًا للنظر في مظالم الناس.



مجاب عنها

الدرس الرابع

لمحات من حياة الخلفاء الراشدين



تدريب

السؤال الأول اكتب كلمة (صواب) أمام العبارة الصحيحة، وكلمة (خطأ) أمام العبارة غير الصحيحة:

- ١ جعل الرسول ﷺ أثناء مرضه عمر بن الخطاب ؓ إمامًا للمسلمين في الصلاة. ()
- ٢ نجحت الجيوش الإسلامية في عهد أبي بكر ؓ في محاربة المرتدين وعادوا إلى الإسلام. ()
- ٣ تم اختيار عمر بن الخطاب ؓ كخليفة للمسلمين بناءً على رأى فردى. ()
- ٤ استكمل الخليفة عمر بن الخطاب ؓ الفتوحات الإسلامية التي بدأت في عهد الخليفة أبي بكر الصديق ؓ. ()
- ٥ انتهى عصر الخلفاء الراشدين باستشهاد الخليفة عثمان بن عفان ؓ. ()

المستوى الأول

السؤال الثاني أكمل العبارات الآتية بما يناسبها من كلمات:

- ١ جهز الرسول ﷺ قبل وفاته جيشًا بقيادة أسامة بن زيد للذهاب إلى.....
- ٢ أوصى الخليفة أبو بكر الصديق ؓ بتولى الخلافة من بعده ل.....
- ٣ اتخذ الخليفة عمر بن الخطاب ؓ من هجرة الرسول ﷺ إلى المدينة بداية التقويم.....
- ٤ أنشأ الخليفة عمر بن الخطاب ؓ عددًا من الدواوين مثل ديوان..... وديوان.....
- ٥ امتدت الفتوحات الإسلامية في عهد الخليفة عمر بن الخطاب ؓ في بلاد..... وبلاد.....
- ٦ تولى خلافة المسلمين بعد عمر بن الخطاب ؓ الخليفة.....
- ٧ خصص يومًا للنظر في مظالم الناس، الخليفة.....

السؤال الثالث اختر الإجابة الصحيحة مما بين الأقواس:

- ١ ارتدت بعض القبائل عن الإسلام في عهد الخليفة..... (أبي بكر الصديق - عمر بن الخطاب - عثمان بن عفان - علي بن أبي طالب)
- ٢ امتدت الفتوحات الإسلامية في عهد الخليفة عمر بن الخطاب ؓ إلى..... (اليمن وعمان - مصر وليبيا - مصر والشام - اليمن ومصر)
- ٣ تم فتح مصر في عهد الخليفة..... (أبي بكر الصديق - عمر بن الخطاب - عثمان بن عفان - علي بن أبي طالب)
- ٤ من أعمال الخليفة عمر بن الخطاب ؓ..... (وضع التقويم الهجرى - جمع القرآن الكريم - تنظيم الشرطة - محاربة المرتدين)
- ٥ آخر الخلفاء الراشدين هو الخليفة..... (أبو بكر الصديق - عمر بن الخطاب - عثمان بن عفان - علي بن أبي طالب)

المستوى الثاني

السؤال الرابع اكتب ما تشير إليه العبارات الآتية:

- ١ مقرر الخلافة أثناء خلافة علي بن أبي طالب ؓ.

(.....)

- ٢ تقويم بدأ بهجرة الرسول ﷺ من مكة إلى المدينة .
 ٣ نظام أنشئ في عهد الخليفة على بن أبي طالب ؓ بهدف الحفاظ على أمن وسلامة المواطنين .
 (.....)

السؤال الخامس لمن تنسب الأعمال التاريخية الآتية...؟

- ١ قائد جيش المسلمين في عهد أبي بكر الصديق ؓ لمحاربة الروم .
 ٢ أمره الخليفة أبو بكر الصديق ؓ بجمع القرآن .
 ٣ وضع التقويم الهجري وفتح بلاد العراق وبلاد فارس والشام ومصر .
 ٤ أمر بكتابة القرآن في مصحف واحد وتوزيعه على كل البلاد الإسلامية .
 ٥ أول من قام بتنظيم الشرطة في الدولة الإسلامية .
 (.....)

السؤال السادس استخرج المختلف في كل مجموعة من المجموعتين الآتيتين:

- ١ إرسال جيش أسامة - محاربة المرتدين - وضع التقويم الهجري - جمع القرآن .
 ٢ فتح العراق وبلاد الشام - محاربة المرتدين - إنشاء ديوان بيت المال - فتح مصر .

السؤال السابع بم تفسر...؟

- ١ إرسال أبي بكر الصديق ؓ جيش أسامة بن زيد إلى الشام .

- ٢ إرسال أبي بكر الصديق ؓ الجيوش الإسلامية خارج شبه الجزيرة العربية .

- ٣ أمر الخليفة عثمان بن عفان ؓ بكتابة القرآن في مصحف واحد .

- ٤ قيام الخليفة عثمان بن عفان ؓ بالعديد من الفتوحات الإسلامية .

- ٥ قيام الخليفة على بن أبي طالب ؓ بتنظيم الشرطة .

السؤال الثامن ما النتائج المترتبة على...؟

- ١ رفض البعض دفع الزكاة بعد وفاة الرسول ﷺ .

- ٢ استشهاد عدد كبير من حفظة القرآن الكريم في حرب المرتدين .

- ٣ اتساع أرجاء الدولة الإسلامية في عهد الخليفة على بن أبي طالب ؓ .

السؤال التاسع دلل على صحة العبارات الآتية:

- ١ تعدد أعمال الخليفة أبي بكر الصديق ؓ .

- ٢ تعدد الفتوحات الإسلامية في عهد الخليفة عمر بن الخطاب ؓ .

- ٣ اهتم الخليفة على بن أبي طالب ؓ بتطبيق العدل بين الناس .

السؤال الأول: اكتب كلمة (صواب) أمام العبارة الصحيحة، وكلمة (خطأ) أمام العبارة غير الصحيحة:

- ١- أمر أبو بكر الصديق ﷺ زيد بن ثابت بجمع القرآن الكريم. () (القليوبية ٢٠٢٤)
- ٢- أنشأ علي بن أبي طالب ﷺ أول أسطول بحرى فى الإسلام. () (الجيزة ٢٠٢٤)
- ٣- نقل علي بن أبي طالب ﷺ مقر الخلافة إلى الكوفة فى العراق بدلاً من المدينة. () (الإسكندرية ٢٠٢٤)
- ٤- أنشأ الخليفة عمر بن الخطاب ﷺ ديوان الجند. () (المنيا ٢٠٢٤)
- ٥- ظهر نظام الخلافة عند المسلمين بعد وفاة الرسول ﷺ. () (الشرقية ٢٠٢٤)
- ٦- تولى الخليفة عمر بن الخطاب ﷺ مباشرة بعد وفاة الرسول ﷺ. () (البحيرة ٢٠٢٤)
- ٧- نقل الخليفة عمر بن الخطاب ﷺ مقر الخلافة إلى الكوفة فى العراق. () (القاهرة ٢٠٢٤)

السؤال الثانى: اكتب ما تشير إليه كل عبارة:

- ١- رفضوا دفع الزكاة وادعى بعضهم النبوة. (.....) (السويس ٢٠٢٤)
- ٢- أمر بإنشاء أول أسطول بحرى فى الإسلام. (.....) (الإسكندرية ٢٠٢٤)
- ٣- الخليفة الأول للمسلمين بعد وفاة الرسول ﷺ. (.....) (الجيزة ٢٠٢٤)
- ٤- نظام أنشأه الخليفة عمر بن الخطاب ﷺ لإدارة بيت المال والجند. (.....) (الشرقية ٢٠٢٤)

السؤال الثالث: أكمل العبارات الآتية بكلمات مناسبة مما بين القوسين:

- ١- ظهر المرتدون ورفضوا دفع الزكاة فى عهد الخليفة (البحيرة ٢٠٢٤)
- ٢- استشهد كثير من حفظة القرآن الكريم فى حروب (المنيا ٢٠٢٤)
- ٣- أمر بإنشاء أول أسطول بحرى إسلامى الخليفة ﷺ. (القاهرة ٢٠٢٤)

السؤال الرابع: اختر الإجابة الصحيحة مما بين الأقواس:

- ١- الخليفة الذى أمر بتعيين شرطة لحراسة بيت المال هو ﷺ. (عثمان بن عفان - أبو بكر الصديق - علي بن أبي طالب - عمر بن الخطاب) (دمياط ٢٠٢٤)
- ٢- نقل الخليفة علي بن أبي طالب ﷺ مقر الخلافة إلى (القدس - الكوفة - مكة - المدينة) (المنيا ٢٠٢٤)
- ٣- أرسل عدة جيوش لمحاربة المرتدين عن الإسلام الخليفة ﷺ. (أبو بكر الصديق - عمر بن الخطاب - عثمان بن عفان - علي بن أبي طالب) (الجيزة ٢٠٢٤)
- ٤- إرسال جيش أسامة بن زيد إلى الشام من أعمال الخليفة ﷺ. (أبي بكر الصديق - عمر بن الخطاب - عثمان بن عفان - علي بن أبي طالب) (القاهرة ٢٠٢٤)
- ٥- قام بوضع التقويم الهجرى بداية من الهجرة الخليفة ﷺ. (علي بن أبي طالب - عمر بن الخطاب - عثمان بن عفان - أبو بكر الصديق) (بنى سويف ٢٠٢٤)

السؤال الخامس: أجب عما يلي:

- ١- بم تفسر: اختار المسلمون أبا بكر ﷺ خليفة لهم بعد وفاة الرسول ﷺ؟ (القليوبية ٢٠٢٤)
- ٢- ما العلاقة بين: حرب المرتدين وجمع القرآن الكريم؟ (البحيرة ٢٠٢٤)
- ٣- اذكر نتيجة واحدة ل: إنشاء أول أسطول بحرى فى الإسلام (القاهرة ٢٠٢٤)



السؤال الأول: (١) اختر الإجابة الصحيحة مما بين القوسين:

- ١- أول الخلفاء الراشدين هو الخليفة ﷺ .
(أبو بكر الصديق - عمر بن الخطاب - عثمان بن عفان - علي بن أبي طالب)
- ٢- أشار على النبي ﷺ بحفر خندق حول المدينة
(أبو بكر الصديق ﷺ - عمر بن الخطاب ﷺ - سلمان الفارسي - علي بن أبي طالب ﷺ)
- ٣- قام الخليفة علي بن أبي طالب ﷺ بنقل مقر الخلافة من المدينة إلى
(اليمن - مصر - الشام - العراق)

(ب) ما العلاقة بين ...؟

- محاربة المرتدين وجمع القرآن الكريم.

السؤال الثاني: اكتب كلمة (صواب) أمام العبارة الصحيحة، وكلمة (خطأ) أمام العبارة غير الصحيحة:

- ١- استمرت خلافة أبي بكر الصديق ﷺ خمس سنوات ونصف السنة. ()
- ٢- أنشأ عمر بن الخطاب ﷺ ديوان الجند وديوان بيت المال. ()
- ٣- أنشأ عثمان بن عفان ﷺ أول أسطول بحري في الإسلام. ()
- ٤- نقل الخليفة علي بن أبي طالب ﷺ مقر الخلافة الإسلامية إلى القاهرة. ()
- ٥- قامت على أرض الوطن العربي العديد من الحضارات كالحضارة المصرية القديمة. ()

السؤال الثالث: (١) أكمل العبارات الآتية بما يناسبها من كلمات:

- ١- أرسل الخليفة أبو بكر الصديق ﷺ جيش أسامة بن زيد للشام الذي جهزه.....
- ٢- ظلت الدعوة إلى الإسلام سرّاً لمدة
- ٣- قام الخليفة عمر بن الخطاب ﷺ بوضع التقويم الهجري الذي يبدأ ب.....
- ٤- قام بإنشاء أول أسطول بحري في الإسلام

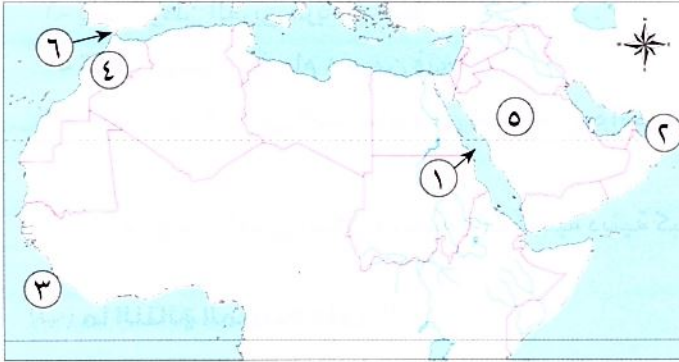
(ب) رتب الأحداث الآتية من الأقدم إلى الأحدث:

إنشاء أول أسطول بحري إسلامي - تنظيم الشرطة - الهجرة إلى الحبشة - وضع التقويم الهجري - جمع القرآن الكريم.





السؤال الأول: (١) أمامك خريطة صماء للوطن العربي، اكتب ما تدل عليه الأرقام:



- ١- البحر
- ٢- خليج
- ٣- المحيط
- ٤- دولة
- ٥- دولة
- ٦- مضيق

(ب) دلل على صحة العبارة الآتية:

- تعتبر الهجرة إلى المدينة نقطة تحول في التاريخ الإسلامي.

.....

السؤال الثاني: اكتب كلمة (صواب) أمام العبارة الصحيحة، وكلمة (خطأ) أمام العبارة غير الصحيحة:

- ١- ساد النظام الملكي في شبه الجزيرة العربية قبل الإسلام. ()
- ٢- اجتمعت قريش في دارالحكمة لمنع الرسول ﷺ من الهجرة. ()
- ٣- يتحكم الوطن العربي في أهم الطرق التجارية العالمية. ()
- ٤- نجحت الجيوش الإسلامية في عهد أبي بكر رضي الله عنه في محاربة المرتدين وعادوا إلى الإسلام. ()
- ٥- رحبت قريش بالدعوة إلى الإسلام. ()

السؤال الثالث: (١) صوب ما تحته خط:

- ١- امتدت الفتوحات الإسلامية في عهد الخليفة عمر بن الخطاب رضي الله عنه إلى مصر وليبيا.
- ٢- يحد الوطن العربي من جهة الشمال جبال زاجروس.
- ٣- ولد الرسول ﷺ في يثرب.

(ب) بم تفسر...؟

- ١- هزيمة المسلمين في غزوة أحد.

.....

- ٢- الأهمية الاقتصادية لموقع الوطن العربي.

.....





السؤال الأول: (١) اختر الإجابة الصحيحة مما بين القوسين:

- ١- يحد الوطن العربي غرباً المحيط (الهندي - الأطلنطي - الهادي - القطبي)
- ٢- تمكن الرسول ﷺ عام ٨ هـ من فتح (المدينة - مكة - الشام - الطائف)
- ٣- إحدى الحرف التي كانت سائدة في شبه الجزيرة العربية قبل الإسلام (الزراعة - السياحة - التعدين - الرعي)
- ٤- يضم الوطن العربي أماكن مقدسة ذات أهمية دينية كبيرة، مثل: كنيسة القيامة في (مصر - فلسطين - السعودية - الجزائر)

(ب) ما النتائج المترتبة على...؟

- ١- مخالفة الرماة أوامر الرسول ﷺ في غزوة أحد.

- ٢- تحكّم الوطن العربي في الممرات البحرية.

السؤال الثاني: اكتب كلمة (صواب) أمام العبارة الصحيحة، وكلمة (خطأ) أمام العبارة غير الصحيحة:

- ١- أطلق على يثرب اسم المدينة بعد الهجرة. ()
- ٢- عين الخليفة عثمان بن عفان ﷺ شرطة لحراسة بيت المال. ()
- ٣- جهز النبي ﷺ جيشاً وخرج سراً لفتح مكة في العام العاشر من الهجرة. ()
- ٤- قامت على أرض الوطن العربي العديد من الحضارات، منها: حضارة بلاد العراق القديم. ()
- ٥- عمل الرسول ﷺ بحرفة الصناعة عندما كان في بيت عمه أبي طالب. ()

السؤال الثالث: (١) لمن تنسب الأعمال التاريخية الآتية...؟

- ١- إنشاء نظام الدواوين. (.....)
- ٢- قام بوضع وثيقة لتنظيم شئون المسلمين. (.....)
- ٣- أمره الخليفة أبو بكر الصديق ﷺ بجمع القرآن. (.....)

(ب) ماذا كان يحدث إذا لم...؟

- ١- تنقض قريش عهدها الذي وقّع بالحديبية مع النبي ﷺ.

- ٢- توجد أماكن مقدسة في الوطن العربي.

(* راجع الوحدة الأولى قبل حل النماذج الاسترشادية على الشهر الأول بالذهاب إلى جزء المراجعة ص ١٩٤.

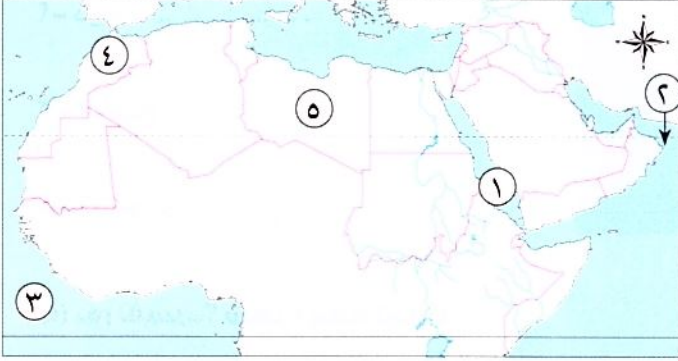


النماذج الاسترشادية على الشهر الأول

مجاب عنه

النموذج الأول

السؤال الأول: أمامك خريطة صماء للوطن العربي، اكتب مدلول الأرقام عليها:



- ١- البحر.....
- ٢- خليج.....
- ٣- المحيط.....
- ٤- دولة.....
- ٥- دولة.....

السؤال الثاني: (أ) اكتب كلمة (صواب) أمام العبارة الصحيحة، وكلمة (خطأ) أمام العبارة غير الصحيحة:

- ١- يتمتع الوطن العربي بموقع جغرافي متميز. ()
- ٢- كانت حرفة الزراعة إحدى الحرف السائدة في شبه الجزيرة العربية. ()
- ٣- اتفقت قريش على قتل الرسول ﷺ ومنعه من الهجرة. ()

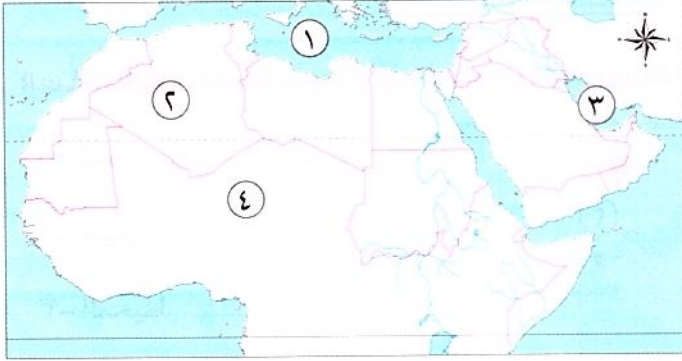
(ب) بم تفسر...؟

- ١- اجتماع قريش في دارالندوة.....
- ٢- إرسال أبي بكر الصديق ؓ الجيوش الإسلامية خارج شبه الجزيرة العربية.....

السؤال الثالث: أكمل العبارات الآتية بما يناسبها من كلمات:

- ١- تمتد أراضي الوطن العربي بين قارتي و.....
- ٢- عمل الرسول ﷺ وهو في بيت عمه بحرفة
- ٣- تحولت دعوة الإسلام إلى خارج الجزيرة العربية بعد صلح
- ٤- جهز الرسول ﷺ قبل وفاته جيشاً بقيادة أسامة بن زيد إلى
- ٥- اتخذ الخليفة عمر بن الخطاب ؓ من هجرة الرسول ﷺ إلى المدينة بداية التقويم

السؤال الأول: (أ) أمامك خريطة صماء للوطن العربي، اكتب مدلول الأرقام عليها:



١- البحر

٢- دولة

٣- الخليج

٤- الصحراء

(ب) بم تفسر...؟ شهرة مكة تجاريًا.

السؤال الثاني: اكتب كلمة (صواب) أمام العبارة الصحيحة، وكلمة (خطأ) أمام العبارة غير الصحيحة:

- ١- يحد الوطن العربي من جهة الشرق المحيط الأطلنطي. ()
- ٢- ساد النظام الملكي في شبه الجزيرة العربية قبل الإسلام. ()
- ٣- وضع الرسول ﷺ بعد الهجرة إلى المدينة وثيقة لتنظيم شئون المسلمين. ()
- ٤- تم اختيار عمر بن الخطاب ؓ كخليفة للمسلمين بناءً على رأى فردى. ()
- ٥- نقل الخليفة على بن أبي طالب ؓ مقر الخلافة الإسلامية إلى الكوفة. ()

السؤال الثالث: صوب ما تحته خط:

- ١- يمتد الوطن العربي بين قارتي آسيا وأوربا.
- ٢- كانت رحلة قريش صيفًا إلى اليمن.
- ٣- كانت حرفة التعدين إحدى الحرف السائدة في شبه الجزيرة العربية.
- ٤- أنشأ عمر بن الخطاب ؓ أول أسطول بحرى في الإسلام.
- ٥- نقل على بن أبي طالب ؓ مقر الحكم إلى بغداد.

الملامح الطبيعية لوطننا العربي

الوحدة

الثانية

الدرس الأول: مظاهر سطح وطننا العربي

الدرس الثاني: العوامل المؤثرة في مناخ وطننا العربي

الدرس الثالث: الأقاليم المناخية والنباتية في وطننا العربي

الدرس الرابع: المشكلات البيئية في وطننا العربي

شخصيات عربية مؤثرة: الخليفة أبو بكر الصديق (رضي الله عنه) - الخليفة عمر بن الخطاب (رضي الله عنه)

المفاهيم الرئيسية:

• الإقليم المناخى.

• الجبال الانكسارية.

• الجبال الالتوائية.

• التصحر.

• الجفاف.

أبرز المواقع:

• واحة عين صالح فى الجزائر.

• واحة الكفرة فى ليبيا.

• واحة سيوة فى مصر.

• محمية أرز الشوف فى لبنان.

• بحيرة عسل فى جيوتسى.

• وادى الدواسر فى السعودية.

• محمية ضانا فى الأردن.



مظاهر سطح الأرض

الدرس الأول

مظاهر سطح وطننا العربي



تفاعل

ما أشهر مظاهر السطح التي تعرفها في وطننا العربي؟

تعلم

- يتميز وطننا العربي بتنوع مظاهر السطح ما بين **أعلى نقطة** في **جبل توبقال** في المغرب (نحو ٤١٦٥ م) و**أدنى نقطة** في الوطن العربي والعالم، وهي **البحر الميت** في الأردن (نحو ٤٣٠ م تحت مستوى سطح البحر).

عوامل تشكل سطح الأرض

• تشكلت مظاهر السطح في الوطن العربي نتيجة عوامل مختلفة منها:

التعرية الهوائية

التعرية المائية

الحركات الانكسارية

الحركات الالتوائية

أولاً الجبال



الجبال الانكسارية

- نشأت نتيجة لحدوث انكسار في قشرة الأرض.

- جبال البحر الأحمر في مصر والسودان.

- سلاسل جبال الحجاز وعسير ومرتفعات اليمن في شبه الجزيرة العربية.

الجبال الالتوائية

- نشأت نتيجة لحركات باطنية تعرضت لها الأرض.

جبال أطلس.

جبال كردستان.

وزاجروس وعمان.

نشأتها

الجناح الإفريقي

الجناح الآسيوي

• يوجد في وطننا العربي العديد من الهضاب وهي أكثر مظاهر السطح انتشاراً:



◀ هضاب الجناح الإفريقي:

هضبة إفريقيا الشمالية وهي:

• أكبر الظواهر التضاريسية مساحة **دلتا**

حيث تمتد من:

ساحل البحر المتوسط

شمال

المحيط
الأطلسي

هضبة
إفريقيا
الشمالية

جبال
البحر
الأحمر

جنوب

وسط إفريقيا

◀ هضاب الجناح الآسيوي:

وتحتوي بعض الهضاب على:

هضبة بادية الشام

هضبة نجد

هضبة حضرموت

الكتبان الرملية

- تكونت بفعل التعرية الهوائية (**)
مثل: بحر الرمال العظيم بين مصر وليبيا.



الأودية الجافة

- تكونت بفعل التعرية المائية (*).
- أهمية الأودية الجافة **بم تفسر**
تستخدم كطرق للمواصلات
أو للحصول على المياه الجوفية
مثل: وادي الدواسر في السعودية.



الواحات

- تقوم الزراعة في الواحات **بم تفسر**
اعتماداً على المياه الجوفية،
ويعيش فيها بعض السكان.
- **مثل:** واحة سيوة في مصر، وواحة الكفرة
في ليبيا، وواحة عين صالح في الجزائر.



(*) التعرية المائية: نحت الماء للصخور ونقلها وإرسابها.

(**) التعرية الهوائية: نحت الرياح للصخور ونقلها وإرسابها.

تالث السهول

• أحد مظاهر السطح الموجودة في الوطن العربي:



السهول الفيضية:

- سبب تكونها: كونها الأنهار عن طريق ترسب المواد العالقة بمياهها.
- أهميتها: تكون تربة فيضية تعد من أخصب أنواع الأراضي.
- مثل:



سهول نهرى دجلة والفرات في العراق

الجناح الآسيوي

سهول نهر النيل في مصر والسودان

الجناح الإفريقي

السهول الساحلية:

سهول البحر الأحمر والخليج العربي.
تتميز:
- غناها بالثروات المعدنية
ومصادر الطاقة.
- تربتها رملية فقيرة أو ملحية.
- قلة السكان.



سهول البحر المتوسط
والمحيط الأطلنطي.

تتميز:
- أمطارها الشتوية.
- كثرة سكانها.
- سهولة الانتقال على طول
امتداد سواحلها.

- وهذا التنوع الفريد في مظاهر سطح وطننا العربي ساعد على تنوع الأنشطة الاقتصادية.

سؤال

(١) اكتب كلمة (صواب) أمام العبارة الصحيحة ، وكلمة (خطأ) أمام العبارة غير الصحيحة فيما يلي :

- () ١- تكونت جبال كردستان نتيجة لحركات التوائية .
 () ٢- تقوم الزراعة فى الواحات اعتماداً على المياه الجوفية .
 () ٣- تتميز سهول البحر الاحمر بكثرة سكانها .

(ب) **دلل على صحة العبارة الآتية :** - تنوع السهول فى الوطن العربى

(ج) **بم تفسر ... ؟**

- ١- تكوّن بعض الجبال الالتوائية فى الوطن العربى
- ٢- أهمية الأودية الجافة

نص إثرائى

العلاقة بين مظاهر السطح والأنشطة الاقتصادية

- تؤثر مظاهر السطح المتنوعة فى الوطن العربى على الأنشطة الاقتصادية فعلى سبيل المثال :
- تسمح المناطق الجبلية بممارسة عدد كبير من الأنشطة الاقتصادية ، **مثل :**

النشاط التعدينى

حيث تُستخرج المعادن ومصادر الطاقة من المناطق الصحراوية .



السياحة العلاجية

يقصد السياح البحيرات المالحة الموجودة فى :
 - واحة سيوة فى مصر .
 - بحيرة عسل فى جيبوتى للتمتع بطبيعتها الساحرة أو للعلاج .



السياحة الترفيهية

من أنشطتها :
 • التسلق والتزلج : حيث يمكن للسياح التزلج على جبال لبنان .



- السهول الفيضية فى مصر والعراق ساعدت على قيام الزراعة .

استكشف وراجع

استكشف :

- يزخر الوطن العربى بالعديد من مظاهر السطح الخلابة . اختر أحد هذه المظاهر ، ثم استخدم شبكة المعلومات الدولية (الإنترنت) ، وحدد كيف تكوّن قديماً ، وأهم ما يميّزه .

راجع : ١- ما الأهمية الاقتصادية لكلّ من الواحات والأودية الجافة ؟ ٢- بم تفسّر: تكون السهول الفيضية ؟

٣- ما الفرق بين الجبال الالتوائية والجبال الانكسارية ؟ قدّم أمثلة لكلّ منهما .

(لنتعمق في الفهم)

(أ) اقرأ وأجب: (العلاقة بين مظاهر السطح والأنشطة الاقتصادية)

- ١- وضح كيف تساهم مظاهر السطح في دعم الأنشطة الاقتصادية.
٢- استخدم شبكة المعلومات الدولية (الإنترنت)، وابحث عن أنشطة اقتصادية أخرى تأثرت بمظاهر السطح، مدعماً إجابتك بالأمثلة.

(ب) فُكِّر وقارن: قارن بين جبال أطلس وجبال البحر الأحمر من حيث الموقع وسبب تكونها.

(ج) تأمّل وأجب: تأمّل الصورة التي أمامك لأحد مظاهر السطح في الوطن العربي.

ثم اكتب اسم الظاهرة التضاريسية وسبب تكونها.

اسم الظاهرة

سبب تكونها



(د) تعاوّن وصمّم: تعاوّن مع زملائك واجمع صوراً لمظاهر السطح المتنوعة في الوطن العربي، وصمّم ألبوماً لها، واكتب تعليقاً على كل صورة.

(الدراسات الاجتماعية في حياتي اليومية)

(هـ) تخيّل واختر: تخيّل أنك ستقوم برحلة إلى إحدى الدول العربية لمشاهدة أحد مظاهر السطح فيها. اختر الدولة التي ترغب في زيارتها، وحدّد المظهر التضاريسية الذي ترغب في مشاهدته والأنشطة التي ستقوم بها.

(و) ابحث واكتب: استعن بشبكة المعلومات الدولية (الإنترنت) واختر أحد مظاهر السطح، وتتبع التغييرات التي مر بها عبر العصور، ثم اكتب النتائج التي توصلت إليها.

(التفكير الناقد)

(ز) لاحظ وقارن: لاحظ الخريطة ص (٥٨)، وأجب عن الأسئلة التالية:

- ١- ما الدول التي توجد فيها سهول فيضية؟
٢- ما الدول التي توجد فيها سهول ساحلية؟
٣- ما الفرق بين السهول الساحلية المطلّة على البحر المتوسط وتلك المطلّة على البحر الأحمر؟
٤- ما الأهمية الاقتصادية لكل من السهول الساحلية والسهول الفيضية؟
٥- حدّد سبب تكون الظواهر التالية والدول التي يوجد فيها:

(وادي الدواسر، جبال أطلس، سهول دجلة والفرات، جبال البحر الأحمر، بحر الرمال العظيم)

(ط) فُكِّر واكتب: اكتب مقالاً توضح من خلاله مظاهر الجمال في تضاريس الوطن العربي، وقدرة الله سبحانه وتعالى في تكوينها.

(ي) صمّم نموذجاً: اختر دولة عربية وصمّم نموذجاً لأحد مظاهر السطح فيها مستخدماً الورق المقوى والصلصال، واكتب وصفاً مختصراً للمظهر التضاريسية، واعرض مشروعك على الفصل.

- أميز بين مظاهر سطح الوطن العربي. جيد جداً جيد بحاجة إلى مجهود أكبر
- أفسر كيف تشكلت بعض مظاهر سطح الوطن العربي. جيد جداً جيد بحاجة إلى مجهود أكبر
- أستنتج العلاقة بين مظاهر سطح الوطن العربي والأنشطة الاقتصادية. جيد جداً جيد بحاجة إلى مجهود أكبر
- أعبر عن تقديري لعظمة الله سبحانه وتعالى في تنوع مظاهر سطح وطننا العربي. جيد جداً جيد بحاجة إلى مجهود أكبر

قيم نفسك

الدرس الأول

ملخص الدرس

الهضاب

الجناح الآسيوي

الجناح الإفريقي

هضبة حضرموت
هضبة نجد
هضبة بادية الشام

هضبة
إفريقيا الشمالية

الجبال

الجناح الآسيوي

الجناح الإفريقي

(جبال التوائية)

جبال كردستان
وزاجروس وعمان

جبال أطلس

(جبال انكسارية)

سلاسل جبال الحجاز
وعسير ومرتفعات اليمن

جبال البحر الأحمر



السهول

(سهول فيضية)

سهول نهري دجلة والفرات في العراق

سهول نهر النيل في مصر والسودان

(سهول ساحلية)

سهول البحر الأحمر والخليج العربي

سهول البحر المتوسط والمحيط الأطلسي

واحة عين صالح في الجزائر

واحة الكفرة في ليبيا

واحة سيوة في مصر

الواحات



السؤال الأول

اكتب كلمة (صواب) أمام العبارة الصحيحة ، وكلمة (خطأ) أمام العبارة غير الصحيحة :

- ١ توجد جبال أطلس في الجناح الآسيوي للوطن العربي . ()
- ٢ تكونت بعض الأودية الجافة نتيجة لحركات باطنية تعرضت لها الأرض . ()
- ٣ يتركز بعض السكان في هضاب الجناح الإفريقي للوطن العربي . ()
- ٤ تقوم الزراعة في الواحات اعتماداً على المياه الجوفية . ()
- ٥ تقع سلاسل جبال الحجاز وعسير في شبه جزيرة سيناء . ()
- ٦ بحر الرمال العظيم يقع بين دولتي مصر والسودان . ()

السؤال الثاني

أكمل العبارات الآتية بما يناسبها من كلمات :

- ١ أعلى نقطة في وطننا العربي توجد في دولة
- ٢ يوجد في وطننا العربي نوعان من الجبال ، هما جبال وجبال
- ٣ من الجبال الالتوائية في وطننا العربي جبال وجبال
- ٤ توجد جبال البحر الأحمر في الوطن العربي في دولة ودولة
- ٥ يمتد في الجناح الآسيوي للوطن العربي سهول نهر ونهر
- ٦ من هضاب الجناح الآسيوي للوطن العربي هضبة وهضبة
- ٧ نشأت الكثبان الرملية في الوطن العربي نتيجة
- ٨ نحت الماء للسهول وإرسابها أدى إلى تكون
- ٩ تُعد جبال الحجاز وعسير في الوطن العربي من الجبال
- ١٠ تقوم الزراعة بواحة عين صالح اعتماداً على
- ١١ تتميز سهول البحر المتوسط في الوطن العربي بسقوط الأمطار

السؤال الثالث

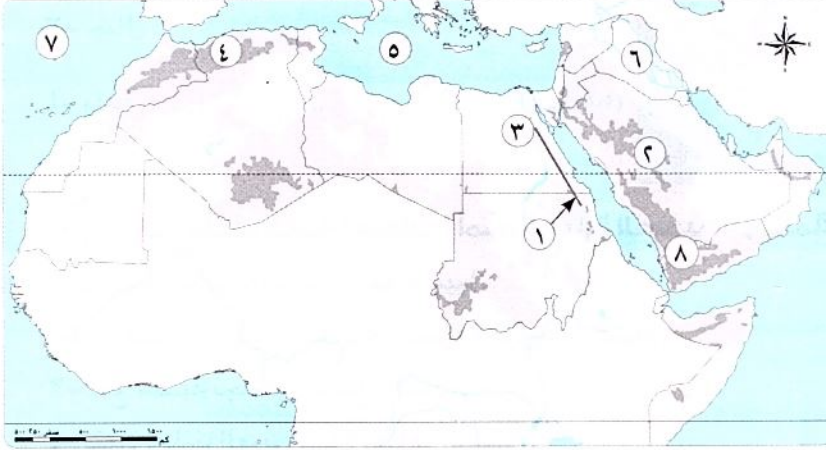
اختر الإجابة الصحيحة مما بين القوسين :

- ١ تمتد هضبة إفريقيا الشمالية من جبال البحر الأحمر إلى المحيط (الهادي - الهندي - الأطلنطي - القطبي)
- ٢ تُعد من الجبال الانكسارية في الوطن العربي جبال (كُردستان - زاجروس - عسير - عُمان)
- ٣ توجد في دولتي مصر والسودان جبال (كُردستان - زاجروس - الحجاز - البحر الأحمر)
- ٤ أكثر مظاهر السطح انتشاراً في الوطن العربي
- (الجبال - الهضاب - السهول الفيضية - السهول الساحلية)
- ٥ من الأودية التي تكونت بفعل التعرية المائية وادي الدواسر في (مصر - ليبيا - تونس - السعودية)
- ٦ توجد سهول نهر النيل في (مصر والعراق - مصر والسودان - مصر وليبيا - مصر وتونس)
- ٧ هضبة حضرموت من هضاب الجناح (الإفريقي - الآسيوي - الأوروبي - الأمريكي)

السؤال الرابع اكتب ما تشير إليه العبارتان الآتيتان:

- ١ جبال نشأت نتيجة لحركات باطنية تعرضت لها الأرض. (.....)
- ٢ جبال نشأت نتيجة حدوث انكسار في قشرة الأرض. (.....)

السؤال الخامس أمامك خريطة صماء لوطننا العربي. اكتب مدلول الأرقام التالية:



- ١ جبال
- ٢ هضبة
- ٣ نهر
- ٤ جبال
- ٥ البحر
- ٦ نهرا
- ٧ المحيط
- ٨ مرتفعات

المستوى الثالث

السؤال السادس بم تفسر...؟

- ١ يعيش بعض السكان في الواحات بالوطن العربي.

.....

- ٢ أهمية الأودية الجافة في الوطن العربي.

.....

- ٣ تكون السهول الفيضية في الوطن العربي.

.....

- ٤ كثرة السكان على سواحل المحيط الأطلنطي.

.....

السؤال السابع ما النتائج المترتبة على...؟

- ١ وجود مياه جوفية في الواحات بالوطن العربي.

.....

- ٢ تكون سهول فيضية على ضفاف نهر النيل في مصر والسودان.

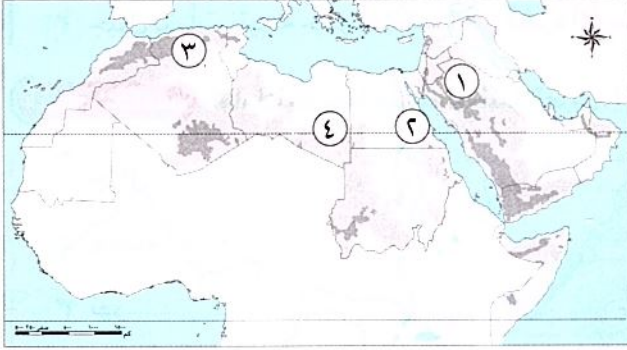
.....

- ٣ التعرية الهوائية بالنسبة للوطن العربي.

.....

المستوى الرابع

السؤال الأول: أمامك خريطة صماء لوطننا العربي. اكتب مدلول الأرقام التالية:



- ١- هضبة (البحيرة ٢٠٢٤)
 ٢- جبال انكسارية (المنيا ٢٠٢٤)
 ٣- جبال (الجزيرة ٢٠٢٤)
 ٤- واحة (الجزيرة ٢٠٢٤)

السؤال الثاني: اكتب كلمة (صواب) أمام العبارة الصحيحة وكلمة (خطأ) أمام العبارة غير الصحيحة:

- ١- توجد واحة عين صالح في دولة ليبيا. (القليوبية ٢٠٢٤)
 ٢- من هضاب الجناح الآسيوي حضرموت وبادية الشام. (القليوبية ٢٠٢٤)
 ٣- تقع هضبة نجد في الجناح الإفريقي. (البحيرة ٢٠٢٤)
 ٤- يتميز وطننا العربي بتنوع مظاهر السطح. (القاهرة ٢٠٢٤)
 ٥- تنوع مظاهر السطح في الوطن العربي ساعد على تنوع الأنشطة الاقتصادية. (بنى سويف ٢٠٢٤)

السؤال الثالث: اختر الاجابة الصحيحة مما بين القوسين:

- ١- تعد من الجبال الالتوائية في الوطن العربي جبال (عسير - البحر الأحمر - عُمان - الحجاز) (المنيا ٢٠٢٤)
 ٢- إحدى الظواهر التي تكونت بفعل التعرية المائية
 (الجبال - الهضاب - الأودية الجافة - التجمعات الرملية) (الجزيرة ٢٠٢٤)

السؤال الرابع: أكمل العبارات الآتية بكلمات مناسبة:

- ١- أدنى نقطة في الوطن العربي (دمياط ٢٠٢٤)
 ٢- من أمثلة الأودية الجافة بالسعودية وادي (القاهرة ٢٠٢٤)
 ٣- أكثر مظاهر السطح انتشاراً بالوطن العربي (الدقهلية ٢٠٢٤)

السؤال الخامس: بم تفسر...؟

- ١- تكون السهول الفيضية بالوطن العربي (كفر الشيخ ٢٠٢٤)
 ٢- نشأة جبال أطلس (البحيرة ٢٠٢٤)
 ٣- تكون بحر الرمال العظيم بين مصر وليبيا (بنى سويف ٢٠٢٤)
 ٤- تكون جبال أطلس في الجناح الإفريقي وجبال كردستان في الجناح الآسيوي (القاهرة ٢٠٢٤)
 ٥- أهمية الأودية الجافة (الإسكندرية ٢٠٢٤)

السؤال السادس: دلل على صحة العبارة الآتية:

- السهول الساحلية بالوطن العربي متنوعة الموارد والاستخدامات (الشرقية ٢٠٢٤)



السؤال الأول: صوب ما تحته خط:

- ١- توجد أعلى نقطة في وطننا العربي في الجناح الآسيوي.
- ٢- من الأودية الجافة في الوطن العربي وادي الدواسر في ليبيا.
- ٣- من الجبال الالتوائية في الوطن العربي جبال البحر الأحمر.
- ٤- تمتد هضبة حُضرموت من البحر المتوسط شمالاً إلى وسط إفريقيا جنوباً.
- ٥- توجد هضبة بادية الشام في الجناح الإفريقي.

السؤال الثاني: (١) اختر الإجابة الصحيحة مما بين الأقواس:

- ١- أدنى نقطة في الوطن العربي هي (البحر المتوسط - البحر الأحمر - البحر الميت - بحر قزوين)
- ٢- من الجبال الالتوائية في الجناح الآسيوي للوطن العربي جبال (الحجاز - أطلس - كردستان - عسير)
- ٣- تمتد هضبة إفريقيا الشمالية من جبال البحر الأحمر إلى المحيط (الهادي - الهندي - الأطلنطي - القطبي)

(ب) في أي الدول العربية تقع الظاهرات الجغرافية الآتية ...؟

- ١- واحة الكفرة
- ٢- واحة عين صالح
- ٣- واحة سيوة
- ٤- وادي الدواسر

السؤال الثالث: (١) أكمل العبارات الآتية:

- ١- تكونت الأودية الجافة في الوطن العربي نتيجة
- ٢- تتميز السهول الساحلية المطللة على البحر المتوسط بأماطرها في فصل
- ٣- تنتشر الكثبان الرملية في الوطن العربي بدولتي و

(ب) قارن بين:

وجه المقارنة	جبال البحر الأحمر	جبال عُمان
الموقع
سبب نشأتها





تأثير البيئة الطبيعية

الدرس الثاني العوامل المؤثرة في مناخ وطننا العربي



تفاعل

تختلف درجات الحرارة وكمية الأمطار بين دول وطننا العربي، فهل تعرف سبب ذلك؟ وهل تؤثر الأحوال المناخية في وطننا العربي على الأنشطة الاقتصادية؟

تعلم

العوامل المؤثرة في مناخ الوطن العربي

• هناك اختلاف وتباين في درجات الحرارة وكمية الأمطار بين دول وطننا العربي، ويرجع هذا إلى تأثير عدة عوامل:

العوامل المؤثرة في مناخ الوطن العربي

٣
مظاهر السطح

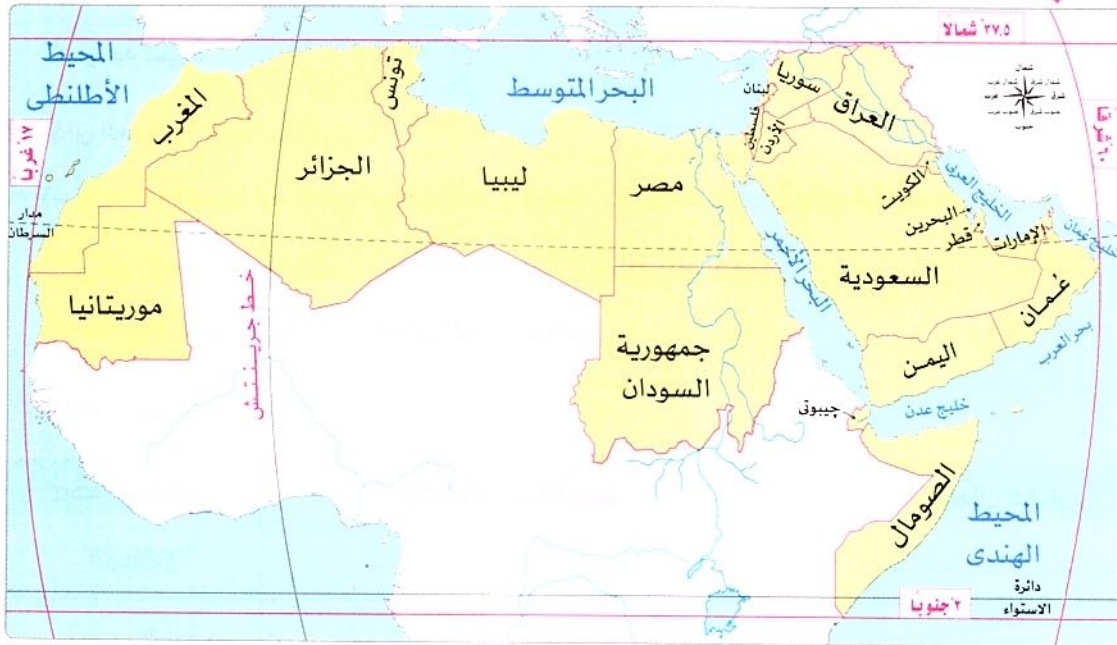
٢
القرب أو البعد عن
المسطحات المائية

١
الموقع الفلكي

١ الموقع الفلكي

• يقع وطننا العربي بين:

خطي طول ٦٠ شرقاً و١٧ غرباً



وبين
دائرتي
عرض ٢°
جنوباً
و٣٧°
شمالاً
وتمر دائرة
الاستواء
بجنوب
الوطن
العربي

الموقع الفلكي للوطن العربي

موقع الوطن العربي فلكياً ما النتائج المترتبة على ذلك؟ أدى إلى:

- ارتفاع درجات الحرارة في المناطق الجنوبية من الوطن العربي.
- انخفاض درجة الحرارة كلما اتجهنا شمالاً.
- لذلك يسود المناخ الحار معظم أجزاء الوطن العربي، بينما يسود المناخ المعتدل في الأجزاء الشمالية.

٢ القرب أو البعد عن المسطحات المائية

- يؤثر توزيع اليباس والماء على مناخ الوطن العربي؛ حيث إن:
- امتداد الوطن في قارتى إفريقيا وآسيا واقترابه من أوروبا ما النتائج المترتبة على ؟ يعرضه ل:
 - هبوب رياح شديدة البرودة من أوروبا وآسيا شتاءً.
 - رياح حارة من جنوب آسيا صيفاً.



١ المناطق الساحلية

هي المناطق القريبة من المسطحات المائية
تتميز: أنها أكثر اعتدالاً من المناطق الداخلية **بم تفسر؟**
لأن: المسطحات المائية (تلطف درجة الحرارة - تزيد من فرص سقوط الأمطار).

مثال: مدينة الإسكندرية في مصر.

- **في الوطن العربي:** يقل تأثير المسطحات المائية بشكل عام **بم تفسر؟** وذلك ل:

- ضيق مساحتها.
- عدم توغل تأثيرها إلى الداخل لوجود صحارى ومرتفعات قريبة من السواحل كجبال البحر الأحمر.

٢ المناطق الداخلية (القارية)

هي المناطق البعيدة عن المسطحات المائية.

تتميز: ارتفاع درجة الحرارة في فصل الصيف، وانخفاضها في فصل الشتاء.

مثال: مدينة الرياض في السعودية.



سؤال

(١) أكمل العبارتين الآتيتين:

- ١- تمردائرة الاستواء في الوطن العربي من جهة.....
- ٢- من العوامل التي تؤثر على مناخ الوطن العربي و

(ب) دلل على صحة العبارة التالية:

- يؤثر توزيع اليباس والماء على مناخ الوطن العربي.

(ج) ما النتائج المترتبة على...؟

- الموقع الفلكي للوطن العربي.

يختلف مناخ المناطق المرتفعة عن مناخ الأودية والسهول في الوطن العربي ويرجع ذلك إلى تأثير مظاهر السطح حيث:

٢ اتجاه المرتفعات والأمطار ما العلاقة؟

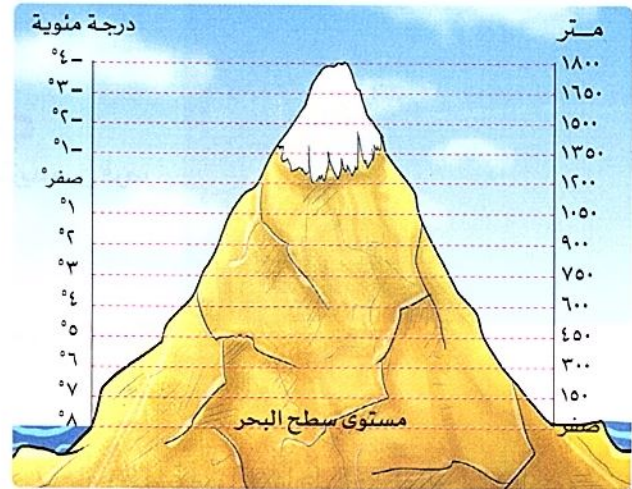
يؤثر اتجاه المرتفعات على كمية المطر حيث:



- تسقط الأمطار بغزارة على منحدرات الجبال المواجهة للرياح المحملة ببخار الماء.
- بينما تقل أو تنعدم على الجهات الداخلية للمرتفعات (منطقة ظل المطر).

١ المرتفعات ودرجة الحرارة ما العلاقة؟

تؤثر المرتفعات على درجة الحرارة.



- كلما ارتفعنا ١٥٠ متراً فوق مستوى سطح البحر انخفضت الحرارة درجة واحدة.
- لذلك:
- نلاحظ انخفاض درجات الحرارة وتكون الثلوج فوق جبال لبنان.

سؤال؟

(أ) أكمل العبارات الآتية:

- ١- يختلف مناخ المناطق المرتفعة عن مناخ السهول في الوطن العربي بسبب تأثير.....
- ٢- تسقط الأمطار بغزارة على منحدرات الجبال المواجهة للرياح لأنها محملة ب.....
- ٣- تنخفض درجة الحرارة وتتكون الثلوج فوق الجبال في الوطن العربي مثل جبال.....

(ب) فسر العبارة التالية:

انخفاض درجة الحرارة في المناطق المرتفعة بالوطن العربي.....

(ج) ما العلاقة بين...؟

اتجاه المرتفعات وكمية الأمطار في الوطن العربي.....

• يختلف مناخ الوطن العربي باختلاف فصول السنة، ففي:

فصل الشتاء

يكون مناخ وطننا العربي معتدلاً، حيث:



مما يؤدي إلى أن:

- 1- تكون الحرارة معتدلة في معظم أجزاء الوطن العربي باستثناء بعض الأجزاء الشمالية والمناطق الجبلية التي تكون أشد برودة.
- 2- يكون الشتاء ممطراً خاصة في المناطق المطلة على البحر المتوسط.

فصل الصيف

يكون مناخ وطننا العربي شديد الحرارة، حيث:



مما يؤدي إلى:

- 1- ارتفاع درجات الحرارة بشكل عام في أرجاء وطننا العربي.
 - 2- الجفاف فيما عدا مرتفعات اليمن ومرتفعات عسير وجنوب موريتانيا وأجزاء من الصومال.
- حيث تسقط أمطار موسمية على هذه المناطق.

العلاقة بين المناخ والأنشطة الاقتصادية

• يؤثر المناخ على كافة الأنشطة الاقتصادية، مثل: الزراعة والصناعة والصيد والنقل.

تأثير الظواهر الجوية على الطيران:

- يؤدي سوء الأحوال الجوية أحياناً إلى تأجيل أو إلغاء الرحلات الجوية.



سؤال

(أ) اكتب كلمة (صواب) أمام العبارة الصحيحة، وكلمة (خطأ) أمام العبارة غير الصحيحة:

- الشتاء في الوطن العربي ممطر خاصة في المناطق المطلة على البحر المتوسط. ()

(ب) ما النتائج المترتبة على...؟ - تعامد الشمس على مدار السرطان صيفاً في الوطن العربي.....

استكشف وراجع

استكشف:

• باستخدام شبكة المعلومات الدولية (الإنترنت) وضح كيف يؤثر مناخ الوطن العربي على الأنشطة الاقتصادية المختلفة.

راجع:

1- وضح تأثير المسطحات المائية على درجات الحرارة.

2- كيف يؤثر القرب أو البعد عن دائرة الاستواء على مناخ دول الوطن العربي؟

3- قارن بين مناخ الوطن العربي صيفاً وشتاءً من حيث الحرارة والأمطار.

(لنعمل على الخريطة)

(١) لاحظ وحلل:

- لاحظ خريطة الوطن العربي صفحة (٦٦)، واخترب بالتعاون مع أحد زملائك دولتين من الجناح الإفريقي، ودولتين من الجناح الآسيوي، ثم أجب عما يلي:
- ١- حدد الموقع الفلكي والجغرافي للدول الأربع التي اخترتها.
 - ٢- ما تأثير الموقع الفلكي على مناخ كل دولة؟
 - ٣- ما تأثير التضاريس على مناخ كل دولة؟

(ب) فكر وسجل:

- ١- فسّر أسباب ذهاب السكان إلى المناطق الساحلية لقضاء إجازة الصيف.
- ٢- بالاستعانة بشبكة المعلومات الدولية (الإنترنت)، حدد أسماء بعض المدن الساحلية وأسماء بعض المدن القارية في الوطن العربي، ثم حدّد أهم الخصائص المناخية لكل منهما في الجدول التالي:

المدن القارية	المدن الساحلية	
		أسماء المدن
		الخصائص المناخية

(لنتعمّق في الفهم)

(ج) اقرأ وأجب:

نص إثرائي

المناخ والطيران

يؤثر المناخ على الأنشطة الاقتصادية، ومنها الطيران؛ فعند اختيار مواقع المطارات يجب مراعاة الظروف المناخية بحيث تكون هذه المواقع غير معرضة للضباب أو العواصف الرعدية أو السحب المنخفضة، كما يجب أن يعتمد تخطيط المطارات والممرات الأرضية على اتجاهات الرياح السائدة بحيث تستطيع الطائرات الهبوط والإقلاع مع اتجاه الرياح، ويجب على الطيار أن تكون لديه القدرة على تفسير الظواهر الجوية التي يصادفها ومعرفة اتجاه الرياح واحتمالات سقوط ثلوج أو أمطار.

في ضوء الفقرة السابقة، أجب عما يلي:

- ١- استنتج أهم الأخطار المناخية التي يمكن أن تواجه الطيران.
- ٢- باستخدام شبكة المعلومات الدولية (الإنترنت)، ابحث عن بعض الأخبار حول توقف حركة الطيران في بعض الدول العربية بسبب سوء الأحوال الجوية، والخسائر التي نتجت عن ذلك.
- ٣- تعاون مع زملائك في اختيار أحد الأخطار المناخية التي تؤثر على الأنشطة الاقتصادية، واقترح بعض الأفكار الإبداعية لمواجهته أو التقليل من أثاره السلبية على البيئة.

(د) اقرأ وأجب:

نص إثرائي

جهود الدول العربية لمواجهة التغير المناخي

من المتوقع ارتفاع درجات الحرارة بمقدار يتراوح ما بين ١,٢ و ١,٩ درجة مئوية عام ٢٠٥٠ م، فضلاً عن تناقص كمية الأمطار وظهور مشكلات عديدة منها الجفاف والتصحر. وسيؤثر ذلك حتماً على الأمن الغذائي والأمن المائي. لذلك تعمل الدول العربية على مواجهة التغير المناخي من خلال تبني المشروعات الخضراء؛ فعلى سبيل المثال، اتجهت مصر إلى إنشاء مصنع للهيدروجين الأخضر، بينما عملت المملكة العربية السعودية على زيادة التشجير وبناء المدن الخضراء.

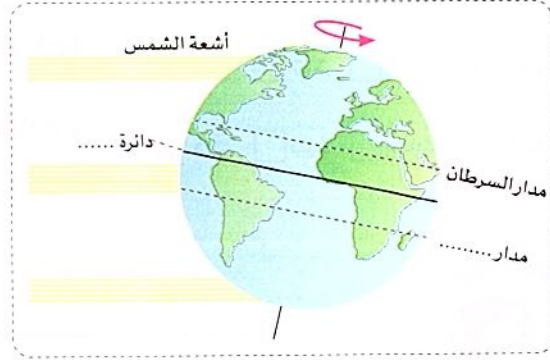
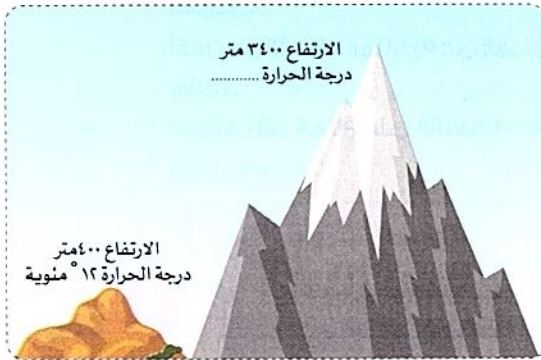
١- بالاستعانة بالتقرير الاقتصادي العربي الموحد لعام ٢٠٢٢ م لخص آثار التغير المناخي على الوطن العربي في الجوانب التالية: المياه العذبة - الزراعة - الصحة - البنية التحتية - مستويات البحار التي يشرف عليها الوطن العربي.

٢- ابحث عن الجهود التي قامت بها الدول العربية لمواجهة التغير المناخي، ثم لخصها وناقشها مع زملائك.
٣- ما مقترحاتك للحد من التغير المناخي في وطننا العربي؟

(هـ) التفكير الناقد:

(لاحظ وحلل)

١- أكمل الفراغات في الصورتين من بنك الكلمات التالية (الجدى - الاستواء - ٨ ° مئوية تحت الصفر).
٢- اكتب أسفل كل صورة العامل المؤثر على مناخ الوطن العربي الذي تعبر عنه.



٣- اشرح كيف يؤثر كل عامل من هذه العوامل على مناخ الوطن العربي.

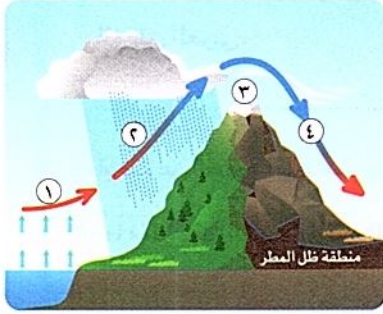
(و) الدراسات الاجتماعية في حياتي:

(فكر واستنتج)

تابع النشرة الجوية في إحدى الصحف عبر شبكة المعلومات الدولية (الإنترنت)، وتعرف على أحوال الطقس في عواصم الدول العربية، وسجل قائمة بدرجات حرارتها خلال شهر، واكتب ملاحظتك حولها، ثم وضح كيف تؤثر أحوال الطقس على أنشطتك اليومية.

(ز) تخيل وحل:

يمثل الشكل الموضح أمامك أحد الجبال التي تهب عليها رياح محملة ببخار ماء من جهة أحد المسطحات المائية، مما يؤدي إلى سقوط الأمطار على الجانب المقابل لهذه الجهة، بينما تصل إلى الجانب الآخر من الجبل رياح جافة أو شبه جافة.



١- لاحظ الشكل ثم اكتب ما تدل عليه الأرقام فيه:

(أ) رقم (١) محملة ببخار ماء.

(ب) رقم (٢) سقوط

(ج) رقم (٣) تكوُّن نتيجة انخفاض درجة

الحرارة على قمم الجبال.

(د) رقم (٤) رياح لا تسقط أمطارًا.

٢- صف الصورة التي أمامك مفسرًا سبب اختلاف لون الجبل من الجانبين.

قيم نفسك

- أفسر تأثير الموقع الفلكي والجغرافي على مناخ الوطن العربي. جيد جدًا جيد بحاجة إلى مجهود أكبر
- أقدم أمثلة لتأثير التضاريس على مناخ الوطن العربي. جيد جدًا جيد بحاجة إلى مجهود أكبر
- أقرن بين الأحوال المناخية في الوطن العربي صيفًا وشتاءً. جيد جدًا جيد بحاجة إلى مجهود أكبر
- أستنتج تأثير المناخ على الأنشطة الاقتصادية في الوطن العربي. جيد جدًا جيد بحاجة إلى مجهود أكبر



أستخدم زجاجة مياه خاصة بي فقط؛ لأحمي نفسي من البكتيريا.

معلومة
من
يونيسف

العوامل المؤثرة في مناخ الوطن العربي

١ الموقع الفلكي

- يقع وطننا العربي بين:
- خطى طول ٦٠° شرقاً و ١٧° غرباً.
 - دائرتى عرض ٢ جنوباً و ٣٧° شمالاً.
 - تمدائرة الاستواء بجنوب الوطن العربي.

٢ القرب أو البعد من المسطحات المائية

- المناطق الساحلية:**
- هى المناطق القريبة من المسطحات المائية.
 - تتميز بأنها: أكثر اعتدالاً من المناطق الداخلية.
 - السبب: المسطحات المائية.
- المناطق القارية (الداخلية):** هى المناطق البعيدة عن المسطحات المائية.
- تتميز ب: ارتفاع درجة الحرارة في فصل الصيف وانخفاضها في فصل الشتاء.

٣ مظاهر السطح

- المرتفعات ودرجة الحرارة: كلما ارتفعنا ١٥٠ متراً فوق سطح البحر انخفضت الحرارة درجة واحدة.
- اتجاه المرتفعات والأمطار: تسقط الأمطار بغزارة على منحدرات الجبال المواجهة للرياح المحملة ببخار الماء، بينما تقل أو تنعدم على الجهات الداخلية للمرتفعات.

في فصل الشتاء

مناخ الوطن العربي

في فصل الصيف



تتعامل الشمس على مدار الجدى

مما يؤدي إلى أن:

- تكون الحرارة معتدلة في معظم أجزاء الوطن العربي باستثناء بعض الأجزاء الشمالية والمناطق الجبلية التي تكون أشد برودة.
- يكون الشتاء ممطراً خاصة في المناطق المطلة على البحر المتوسط.



تتعامل الشمس على مدار السرطان

مما يؤدي إلى:

- ارتفاع درجات الحرارة بشكل عام في أرجاء وطننا العربي.
- الجفاف فيما عدا مرتفعات اليمن ومرتفعات عسير وجنوب موريتانيا وأجزاء من الصومال.
- حيث تسقط أمطار موسمية على هذه المناطق.

يؤثر المناخ على الأنشطة الاقتصادية مثل:

النقل

الصيد

الصناعة

الزراعة



السؤال الأول: أكمل العبارات الآتية:

- ١ يسود المناخ المعتدل الأجزاء من الوطن العربي.
- ٢ يتميز الوطن العربي بمناخ في معظم أجزائه.
- ٣ الرياح الباردة تهب على الوطن العربي من أوروبا و
- ٤ تمردائرة الاستواء الوطن العربي.
- ٥ المناطق البعيدة عن المسطحات المائية هي المناطق
- ٦ تتساقط الأمطار بغزارة على منحدرات

المستوى الأول

السؤال الثاني: صوب ما تحته خط:

- ١ المناخ يكون معتدلاً في الوطن العربي في فصل الصيف.
- ٢ يسود المناخ المعتدل الأجزاء الجنوبية من الوطن العربي.
- ٣ تهب الرياح شديدة البرودة على الوطن العربي صيفاً.
- ٤ المناطق الداخلية للوطن العربي معتدلة المناخ.

المستوى الثاني

السؤال الثالث: اكتب كلمة (صواب) أمام العبارة الصحيحة، وكلمة (خطأ) أمام العبارة غير الصحيحة:

- ١ تتشابه درجات الحرارة بين دول الوطن العربي. ()
- ٢ المناخ الحار يسود كل أجزاء الوطن العربي. ()
- ٣ الأجزاء الشمالية من الوطن العربي تتميز بمناخها المعتدل. ()
- ٤ تنخفض درجات الحرارة جنوب الوطن العربي. ()
- ٥ المسطحات المائية تعمل على تلطيف درجات الحرارة. ()
- ٦ تتأثر كمية الأمطار المتساقطة باتجاه المرتفعات. ()

السؤال الرابع: اختر الإجابة الصحيحة مما بين القوسين:

- ١ تهب الرياح الحارة على الوطن العربي من جنوب قارة صيفاً. (إفريقيا - أوروبا - آسيا - أمريكا)
- ٢ يقل سقوط الأمطار في الوطن العربي على (الجبال - السهول - الأودية - الصحراء)
- ٣ دائرة عرض تمر جنوب الوطن العربي (جرينتش - السرطان - الجدى - الاستواء)
- ٤ يتميز مناخ الوطن العربي بالحرارة الشديدة في فصل (الشتاء - الربيع - الصيف - الخريف)

السؤال الخامس) بالاستعانة بالخريطة التي أمامك حدد: أي من المدن التالية ينتمي إلى مدن ساحلية ومدن قارية؟



(القاهرة - طرابلس - الرباط - الرياض)

مدن قارية	مدن ساحلية

المستوى الثالث

السؤال السادس) فسر العبارات الآتية:

- ١ تباين درجات الحرارة بين دول الوطن العربي
- ٢ ارتفاع درجة الحرارة في المناطق الجنوبية للوطن العربي
- ٣ انخفاض درجات الحرارة في الأجزاء الشمالية من الوطن العربي
- ٤ تعرض الوطن العربي لرياح حارة من جنوب آسيا صيفاً
- ٥ أهمية المسطحات المائية في الوطن العربي
- ٦ انخفاض درجة الحرارة في المناطق المرتفعة بالوطن العربي

المستوى الرابع

السؤال السابع) ما النتائج المترتبة على...؟

- ١ مرور دائرة الاستواء بجنوب الوطن العربي
- ٢ الموقع الفلكي للوطن العربي
- ٣ تعامد الشمس على مدار السرطان صيفاً في الوطن العربي
- ٤ سوء الأحوال الجوية في الوطن العربي
- ٥ ضيق المسطحات المائية في الوطن العربي

السؤال الثامن) ما العلاقة بين...؟

- ١ المناخ والرحلات الجوية
- ٢ المناطق المرتفعة ودرجة الحرارة وسقوط الأمطار

السؤال الأول: اكتب كلمة (صواب) أمام العبارة الصحيحة وكلمة (خطأ) أمام العبارة غير الصحيحة:

- ١- تعرف المناطق البعيدة عن تأثير البحر بالمناطق القارية. () (الشرقية ٢٠٢٤)
- ٢- تتميز المناطق الساحلية للوطن العربي بمناخ معتدل. () (البحيرة ٢٠٢٤)
- ٣- يسود المناخ الحار معظم أجزاء الوطن العربي. () (الجيزة ٢٠٢٤)
- ٤- ترتفع درجات الحرارة في المناطق الجنوبية للوطن العربي. () (القاهرة ٢٠٢٤)
- ٥- يوجد اختلاف في درجات الحرارة والأمطار في دول الوطن العربي. () (بنى سويف ٢٠٢٤)
- ٦- تتميز الأجزاء الشمالية من الوطن العربي بمناخها المعتدل. () (بنى سويف ٢٠٢٤)

السؤال الثاني: أكمل العبارات الآتية بما يناسبها من كلمات:

- ١- يحل فصل الصيف على الوطن العربي عندما تتعامد الشمس على مدار..... (البحيرة ٢٠٢٤)
- ٢- يتسم فصل الصيف في الوطن العربي بالجفاف فيما عدا مرتفعات حيث تسقط أمطار موسمية. (القاهرة ٢٠٢٤)
- ٣- تمر دائرة.....جنوب الوطن العربي. (السويس ٢٠٢٤)

السؤال الثالث: اختر الإجابة الصحيحة مما بين القوسين

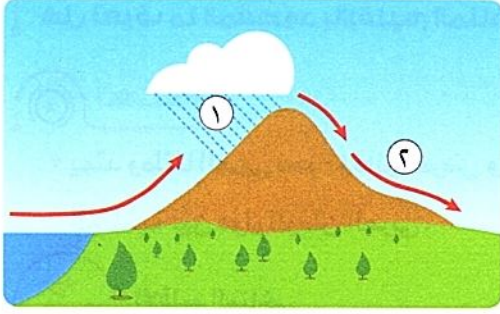
- ١- يسود المناخ الحار في معظم أجزاء الوطن العربي بينما يسود المناخ المعتدل في الأجزاء..... (الشرقية - الغربية - الشمالية - الجنوبية) (القاهرة ٢٠٢٤)
- ٢- مناخ الوطن العربي شديد الحرارة في فصل الصيف بسبب تعامد الشمس على (مدار السرطان - مدار الجدى - دائرة الاستواء - خط جرينتش) (المنوفية ٢٠٢٤)
- ٣- تمر دائرة عرض الاستواء.....الوطن العربي. (شمال - جنوب - شرق - غرب) (الجيزة ٢٠٢٤)
- ٤- يتميز مناخ الوطن العربي بالحرارة الشديدة في فصل..... (الشتاء - الربيع - الصيف - الخريف) (الإسكندرية ٢٠٢٤)
- ٥- يحل فصل الشتاء على الوطن العربي عندما تتعامد الشمس على..... (مدار الجدى - دائرة الاستواء - مدار السرطان - خط جرينتش) (بورسعيد ٢٠٢٤)
- ٦- تسقط أمطار موسمية صيفية على أجزاء من دولة (لبنان - سوريا - تونس - الصومال) (الشرقية ٢٠٢٤)

السؤال الرابع: أجب عما يلي:

- ١- بم تفسر...؟ يقل تأثير المسطحات المائية على مناخ الوطن العربي..... (المنيا ٢٠٢٤)
- ٢- ما العلاقة بين...؟ المسطحات المائية والمناخ..... (البحيرة ٢٠٢٤)
- ٣- ما النتائج المترتبة على...؟ تعامد الشمس على مدار السرطان في وطننا العربي..... (بنى سويف ٢٠٢٤)



السؤال الأول: (١) الشكل الذي أمامك يمثل أحد العوامل المؤثرة على المناخ:



١- اكتب اسم العامل المؤثر.....

٢- اكتب ما يشير إليه رقم (١)

٣- سبب عدم سقوط الأمطار في (٢)

(ب) ما النتائج المترتبة على...؟

١- وجود مياه جوفية في الواحات بالوطن العربي.

.....

٢- حدوث التعرية الهوائية بالنسبة للوطن العربي.

.....

السؤال الثاني: (١) اختر الإجابة الصحيحة:

١- أي من العوامل الآتية لا يؤثر على مناخ الوطن العربي؟

(الموقع الفلكي - المسطحات المائية - المرتفعات - السهول)

٢- أكبر هضاب الوطن العربي مساحة هضبة

٣- يقل سقوط الأمطار في الوطن العربي على

(ب) بم تفسر ...؟

١- يسود المناخ الحار معظم أجزاء الوطن العربي.

.....

٢- تتميز مدينة الإسكندرية بمناخ معتدل عن مدينة الرياض بالسعودية.

.....

السؤال الثالث: اكتب كلمة (صواب) أمام العبارة الصحيحة، وكلمة (خطأ) أمام العبارة غير الصحيحة:

١- المناطق الداخلية من الوطن العربي تكون أكثر اعتدالاً من المناطق الساحلية القريبة من المسطحات المائية. ()

٢- مناخ الوطن العربي شديد الحرارة صيفاً ومعتدل البروده شتاءً. ()

٣- تشكلت جبال زاغروس نتيجة حركات التوائية. ()

٤- يكثر السكان في الوطن العربي على سواحل البحر الأحمر. ()

٥- تتشابه درجات الحرارة بين دول الوطن العربي. ()





تعليمية الشرح

الدرس الثالث الأقاليم المناخية والنباتية في وطننا العربي



تفاعل



هل تعرف ما المقصود بالإقليم المناخي؟ وما أهم الأقاليم المناخية في وطننا العربي؟

تعلم



• يمتد وطننا العربي نحو ٤٠ دائرة عرض وبمساحة تزيد على ١٣ مليون كم^٢ ما النتائج المترتبة على تنوع الأقاليم المناخية بين دول الوطن العربي.

الإقليم المناخي

ما المقصود

• يعنى منطقة جغرافية من سطح الأرض تتسم بخصائص مناخية تميزها عن غيرها.

الأقاليم المناخية في الوطن العربي

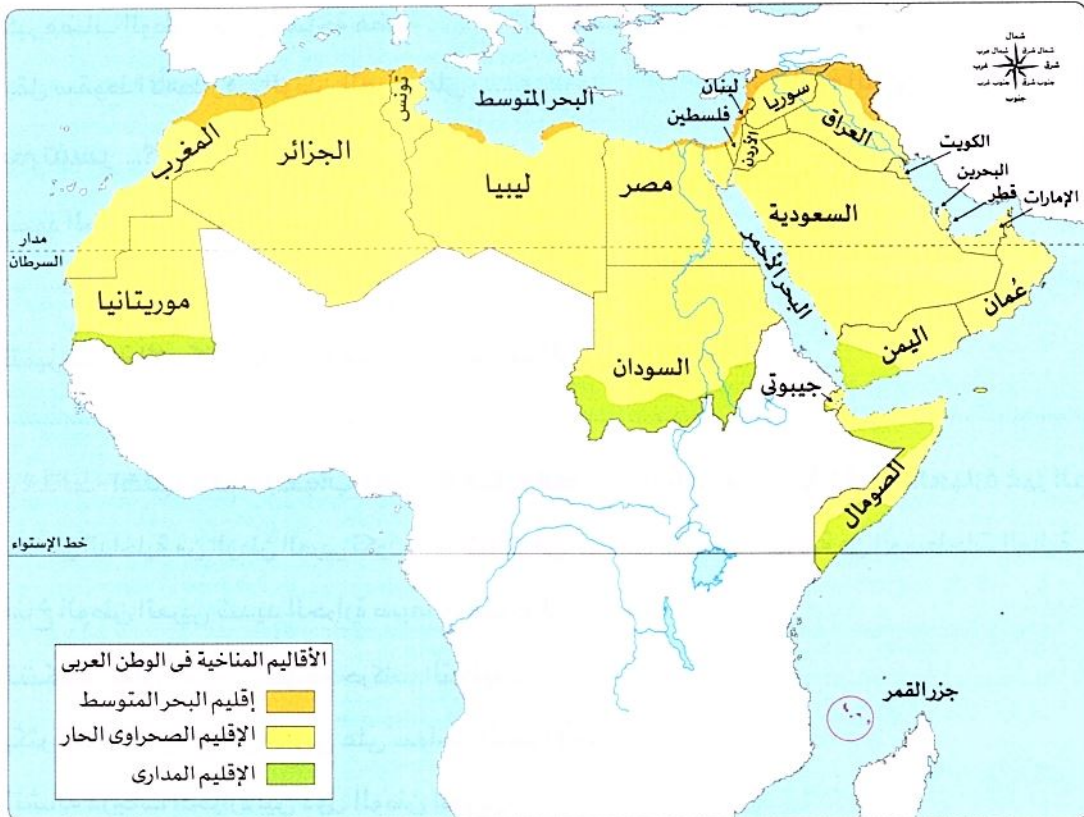
• يسود وطننا العربي ثلاثة أقاليم مناخية كبرى في وطننا العربي تتمثل في:

الأقاليم المناخية

الإقليم المدارى

الإقليم الصحراوى الحار

إقليم البحر المتوسط



خريطة الأقاليم المناخية في الوطن العربي

أولاً إقليم البحر المتوسط

• يقع في الأطراف الشمالية من الوطن العربي بين دائرتي عرض ٣٠° و ٣٧° شمالاً:

يشمل: المناطق المطلة على سواحل البحر المتوسط في شمال إفريقيا في كل من: (بلاد المغرب العربي^(*)، مصر، ليبيا، فلسطين، لبنان، معظم سوريا، وشمال العراق)

يتسم بـ: - صيف حار جاف. - شتاء دافئ وممطر.

تنتشر فيه:

- أشجار الأرز والزيتون والسنوبر.
- حشائش الإستبس التي تربي عليها الماعز والأغنام.



ثانياً الإقليم الصحراوي الحار

• يشغل معظم الوطن العربي؛ إذ يمتد بين دائرتي عرض ١٥° و ٣٠° شمالاً:

يشمل: المناطق من الخليج العربي شرقاً حتى ساحل موريتانيا غرباً كما يشمل النطاق الساحلي من الصومال.

تنتشر فيه: بعض النباتات التي لها القدرة على تحمل الجفاف ودرجة الحرارة مثل نبات الصبار.


تعيش فيه: حيوانات مثل ثعلب الصحراء والزواحف.



• **يتسم بـ:** ندرة الأمطار طوال السنة وقد تسقط على هيئة سيول في بعض المناطق.



يتسم فصل الشتاء بأنه معتدل نهاراً وشديد البرودة ليلاً، حيث تصل درجة الحرارة إلى ما دون الصفر المئوي في بعض المناطق.



يتسم فصل الصيف بشدة الحرارة التي تصل إلى أكثر من ٥٠ درجة مئوية.

سؤال؟

(أ) أكمل العبارة الآتية بما يناسبها من كلمات:

- نبات ينتشر في الإقليم الصحراوي بالوطن العربي

(ب) ما النتائج المترتبة على...؟ انتشار حشائش الإستبس في إقليم البحر المتوسط.

(*) بلاد المغرب العربي يقصد بها (الجزائر وتونس والمغرب).

ثالثاً الإقليم المدارى

• يقع فى جنوب الوطن العربى:

يشمل: أجزاء من الصومال وجيبوتى والسودان وموريتانيا والجزء الجنوبى الغربى من اليمن.



يتميز بـ: - شتاء معتدل جاف. - صيف حار ممطر.

تنمو فيه: حشائش السافانا. **تعيش فيه:** حيوانات مثل الزراف والأسود.

المحميات الطبيعية فى الوطن العربى

• إن وطننا العربى يمتاز بتنوع أقاليمه المناخية ما النتائج المترتبة على **؟ أدى إلى** تنوع النباتات الطبيعية والحيوانات البرية.

• تتعرض الحياة البرية لمخاطر عديدة **بم تفسر ؟** بسبب

١ تدهور النباتات الطبيعية.

٢ انقراض أنواع عديدة من الحيوانات البرية.

• مما دفع دول الوطن العربى إلى إقامة العديد من **المحميات الطبيعية**.



أهمية المحميات الطبيعية

- الحفاظ على الحياة البرية.
- تنشيط السياحة.
- تحقيق التوازن البيئى والحد من التلوث تحقيقاً للتنمية المستدامة.

حماية المحميات الطبيعية

- تتعرض المحميات إلى تهديدات بشرية؛ منها:
 - الرعى الجائر، والصيد الجائر، والتلوث البيئى.
- لذا اتخذت معظم الدول العربية إجراءات، مثل تفعيل القوانين والتوعية بأهمية المحميات الطبيعية.

أشهر المحميات الطبيعية

- محمية أرز الشوف فى لبنان.
- محمية ضانا فى الأردن.
- محمية جبل عُلبة فى مصر.



سؤال

(أ) أكمل العبارات الآتية بما يناسبها من كلمات:

- ١- يقع الإقليم المدارى فى الوطن العربى فى الجزء الجنوبى الغربى من
- ٢- أشهر محميات الوطن العربى محمية ضانا فى
- ٣- تتعرض المحميات الطبيعية الى تهديدات بشرية مثل و

(ب) بم تفسر...؟

- نشأة المحميات الطبيعية فى الوطن العربى

(ج) وضح:

- ١- أهمية المحميات الطبيعية
- ٢- الإجراءات التى اتخذتها الدول العربية للحفاظ على المحميات الطبيعية

نص إثرائى

اليوم العالمى للأحياء البرية

- يحتفل العالم يوم ٣ مارس من كل عام باليوم العالمى للأحياء البرية؛ وذلك بهدف:

أهميته للبشرية.

تعزيز استخدام الحيوانات والنباتات البرية بشكل مستدام.

ضمان صون الحياة على الأرض وضمان استمرارية التنوع البيولوجى.



التأمل فى تنوع الحياة البرية

التوعية بضرورة حماية النباتات الطبيعية والحيوانات البرية المهددة بالانقراض.

إيجاد حلول للحفاظ على الحياة البرية بما يتماشى مع أهداف الأمم المتحدة للتنمية المستدامة.

استكشف وراجع

استكشف:

- بالتعاون مع زملائك والاستعانة بشبكة المعلومات الدولية (الإنترنت)، ابحث عن تأثير التغير المناخى على الأقاليم المناخية من حيث امتدادها وخصائصها المناخية والنباتية والحيوانية. ثم اكتب ملخصًا عنها واعرضه على معلمك.

راجع: ١- حدد ما يميز إقليم مناخ البحر المتوسط عن إقليم المناخ الصحراوى.

٢- فسّر أهمية المحميات الطبيعة.

(لنتعمق في الفهم)

(أ) اقرأ وأجب (اليوم العالمي للأحياء البرية)

١- كان شعار اليوم العالمي للأحياء البرية عام ٢٠٢٣ م: «شراكات للحفاظ على الحياة البرية».

ما رأيك في هذا الشعار؟ وعلام يدل؟

(التكامل مع التربية الفنية)

٢- صمم شعارًا للاحتفال باليوم العالمي للأحياء البرية في العام القادم.

٣- أعد كلمة للإذاعة المدرسية توضح أهمية النباتات الطبيعية والحيوانات البرية وجهود الدول العربية في الحفاظ عليها.

(التكامل مع الإعلام التربوي)

٤- اقترح اسم منظمة عربية لحماية النباتات الطبيعية والحيوانات البرية في الوطن العربي، محدداً أهدافها وشعارها ومقرها.

(الكتابة الإبداعية)

(التكامل مع التربية المسرحية والعلوم)

(ب) فكر وعبر:

اكتب مسرحية بعنوان «نحن في خطر»، بحيث تكون شخصيات المسرحية نماذج للحيوانات البرية والنباتات الطبيعية المهددة بالانقراض، وكل نموذج يعرض التهديدات التي تواجهه، وتأثير انقراضه على البيئة والتوازن البيئي.

(التفكير الناقد)

(ج) فكر وقارن:

قارن بين الأقاليم المناخية في الوطن العربي (إقليم البحر المتوسط - الإقليم الصحراوي الحار - الإقليم المداري) من حيث: التوزيع الجغرافي - الخصائص المناخية - الخصائص النباتية والحيوانية.

(لنبحث عن المعرفة)

(د) ابحث وأكمل:

استعن بشبكة المعلومات الدولية (الإنترنت) لجمع معلومات عن المحميات الطبيعية في بعض الدول العربية منها (محمية ضانا الأردن - محمية أرزا الشوف لبنان - محمية الدندر القومية السودان - محمية الجهراء الكويت - المتنزه الوطني بانك دارجوين موريتانيا - محمية جزيرتي سالوجا وغزال مصر)، ثم اكتب نبذة عن كل محمية طبيعية ومقترحات للحفاظ عليها بطرق مستدامة.

(الدراسات الاجتماعية في حياتنا اليومية)

(هـ) فكر وأجب:

بالتعاون مع زملائك، اختر أربع مدن عربية تود زيارتها (مدينتين في الجناح الإفريقي، ومدينتين في الجناح الآسيوي)، ثم حدد الدولة التي تقع فيها كل مدينة والإقليم المناخي السائد فيها وخصائصه وسجلها.

(المهارات الحياتية)

(و) فكر وخطط: خطط لمبادرة عربية تساعد على نشر الوعي بأهمية حماية الحياة البرية.

(التكامل مع التربية الفنية)

١- صمم شعارًا للمبادرة يوضح أهدافها.

٢- اقترح بعض الأساليب التي يمكن أن تستخدمها دول الوطن العربي لإقناع أكبر عدد ممكن من السكان بالمشاركة في هذه المبادرة.

قيم نفسك

- أحدد مواقع الأقاليم المناخية على خريطة صماء للوطن العربي. جيد جدًا جيد بحاجة إلى مجهود أكبر
- أقارن بين خصائص الأقاليم المناخية المختلفة في الوطن العربي. جيد جدًا جيد بحاجة إلى مجهود أكبر
- أشرح المخاطر التي تتعرض لها المحميات الطبيعية في الوطن. جيد جدًا جيد بحاجة إلى مجهود أكبر
- أستنتج أهمية المحميات الطبيعية. جيد جدًا جيد بحاجة إلى مجهود أكبر



الأقاليم
المناخية
في الوطن
العربي

الإقليم المداري

- يقع في جنوب الوطن العربي، ويشمل أجزاء من الصومال وجيبوتي والسودان وموريتانيا والجزء الغربي من اليمن.
- يتسم بصيف حار ممطر وشتاء معتدل جاف.
- تنمو فيه حشائش السافانا.
- تعيش به حيوانات مثل الزراف والأسود.

الإقليم الصحراوي الحار

- يشغل معظم مساحة الوطن العربي بين دائرتي عرض ١٥° و ٣٠° شمالاً.
- يمتد من الخليج العربي شرقاً حتى ساحل موريتانيا غرباً، ويشمل النطاق الساحلي للصومال.
- يتسم بصيف شديد الحرارة وشتاء معتدل نهاراً وشديد البرودة ليلاً.
- ينتشر به نبات الصبار.
- تعيش به حيوانات مثل ثعلب الصحراء والزواحف.

إقليم البحر المتوسط

- يقع في الأطراف الشمالية بين دائرتي عرض ٣٠° و ٣٧° شمالاً.
- يشمل المناطق المجاورة لسواحل البحر المتوسط لكل من بلاد المغرب العربي ومصر وليبيا وفلسطين ولبنان ومعظم سوريا وشمال العراق.
- يتسم بصيف حار جاف وشتاء دافئ ممطر.
- تنتشر به أشجار الأرز والزيتون والصنوبر وحشائش الإستبس.
- تربي به الماعز والأغنام.

أهم محميات الوطن العربي

محمية جبل علبة
(مصر)

محمية ضانا
(الأردن)

محمية أرز الشوف
(لبنان)

أهمية المحميات الطبيعية

تحقيق التوازن البيئي والحد من التلوث

تنشيط السياحة

الحفاظ على الحياة البرية



السؤال الأول

اكتب كلمة (صواب) أمام العبارة الصحيحة ، وكلمة (خطأ) أمام العبارة غير الصحيحة :

- ١ تُعد محمية ضانا بالأردن من أشهر المحميات الطبيعية بالوطن العربي. ()
- ٢ يتسم الإقليم الصحراوي بدرجة حرارة تصل إلى ما دون الصفر المئوي في بعض المناطق. ()
- ٣ تنمو حشائش السافانا في إقليم البحر المتوسط. ()
- ٤ تنمو النباتات التي تتحمل الجفاف في الإقليم المداري. ()

المستوى الأول -

السؤال الثاني

أكمل العبارات الآتية :

- ١ يسود الوطن العربيأقاليم مناخية كبرى.
- ٢ يشمل إقليم البحر المتوسط المناطق المجاورة لسواحل البحر المتوسط لكل من و.....
- ٣ الإقليم الصحراوي يتميز بمناخ معتدل نهارًا في فصل
- ٤ تقع محمية أرز الشوف بدولة
- ٥ تنتشر في إقليم البحر المتوسط أشجار و.....
- ٦ إقليم مناخي يتميز بشتاء معتدل جاف وصيف حار ممطر هو إقليم.....
- ٧ تتعرض الحياة البرية لمخاطر عديدة بسبب و.....

السؤال الثالث

اختر الإجابة الصحيحة مما بين القوسين :

- ١ . يمتد إقليم البحر المتوسط في الجناح الآسيوي للوطن العربي في دولتي
(قطر والبحرين - اليمن وعمان - فلسطين ولبنان - العراق والأردن)
- ٢ محمية جبل علبة من أشهر محميات الوطن العربي التي تقع في دولة
(لبنان - الأردن - السودان - مصر)
- ٣ تقع دولة فلسطين ولبنان ضمن الإقليم المناخي
(البحر المتوسط - الصحراوي - المداري - الموسمي)
- ٤ يمتد الإقليم المداري في الوطن العربي.
(شمال - جنوب - شرق - غرب)
- ٥ تنتشر النباتات التي لها قدرة على تحمل الجفاف في الإقليم المناخي
(الصحراوي - المداري - الموسمي - البحر المتوسط)
- ٦ يعيش الزراف والأسود بالإقليم
(البحر المتوسط - الصحراوي - المداري - الموسمي)

المستوى الثاني

السؤال الرابع

اكتب ما تشير إليه العبارات الآتية :

- ١ إقليم مناخي يقع على الأطراف الشمالية للوطن العربي. (.....)
- ٢ إقليم مناخي يشمل الجزء الجنوبي الغربي من اليمن. (.....)
- ٣ إقليم مناخي يشغل معظم مساحة الوطن العربي. (.....)

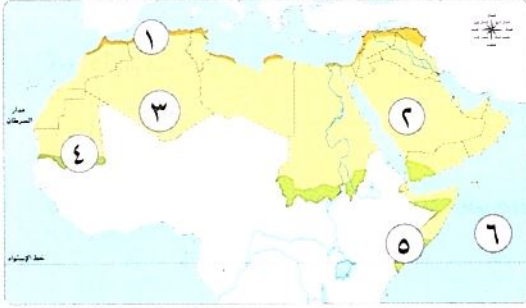
السؤال الخامس

صوب ما تحته خط :

- ١ تنتشر في الإقليم المداري نباتات مثل أشجار الأرز والزيتون والصنوبر.
- ٢ تقع محمية ضانا في الوطن العربي بدولة مصر.

- ٣ تنمو حشائش السافانا بالإقليم الصحراوي بالوطن العربي .
٤ يمتد إقليم البحر المتوسط في الجزء الجنوبي الغربي من اليمن .

السؤال السادس أمامك خريطة صماء لوطننا العربي، اكتب مدلول الأرقام التالية:



- ١ إقليم
٢ دولة
٣ إقليم
٤ دولة
٥ إقليم
٦ المحيط

السؤال السابع فسر العبارات الآتية:

- ١ إنشاء دول الوطن العربي المحميات الطبيعية
٢ أهمية المحميات الطبيعية

السؤال الثامن ما النتائج المترتبة على...؟

- ١ تنوع الأقاليم المناخية للوطن العربي
٢ المخاطر التي تتعرض لها الحياة البرية في الوطن العربي

السؤال التاسع ما العلاقة بين...؟

- ١ الأقاليم المناخية والنباتات الطبيعية والحيوانات البرية في الوطن العربي
٢ القوانين والمحميات الطبيعية في الوطن العربي

السؤال العاشر دلل على صحة العبارات الآتية:

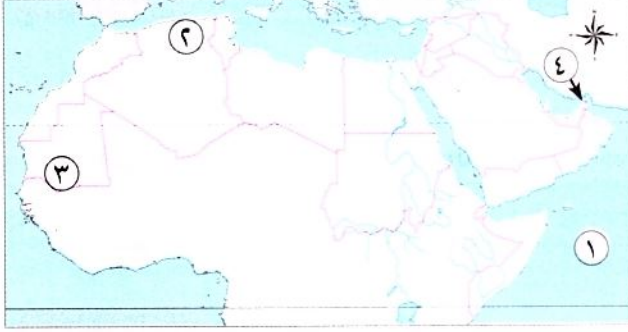
- ١ تتعرض المحميات الطبيعية إلى العديد من المخاطر
٢ سعى معظم الدول العربية في اتخاذ إجراءات لحماية المحميات الطبيعية

السؤال الحادي عشر قارن بين كل من:

- إقليم البحر المتوسط والإقليم الصحراوي من حيث الموقع الفلكي وأهم الدول التي يوجد بها كل إقليم:

وجه المقارنة	إقليم البحر المتوسط	الإقليم الصحراوي
الموقع الفلكي
أهم الدول

السؤال الأول: أمامك خريطة للوطن العربي، اكتب مدلول الأرقام الموقعة عليها:



- ١- المحيط (دمياط ٢٠٢٤)
 ٢- إقليم مناخى (الشرقية ٢٠٢٤)
 ٣- إقليم مناخى (بورسعيد ٢٠٢٤)
 ٤- مضيق (بنى سويف ٢٠٢٤)

السؤال الثانى: اكتب كلمة (صواب) أمام العبارة الصحيحة، وكلمة (خطأ) أمام العبارة غير الصحيحة:

- ١- الإقليم الصحراوى الحار يشغل معظم الوطن العربى .
 ٢- تعيش الحيوانات مثل الزراف والأسود على حشائش الإستبس .
 ٣- تربي الأغنام والماعز فى المناخ المدارى .
 ٤- يتسم مناخ الإسكندرية بسمات الإقليم المدارى .
 ٥- تنمو حشائش السافانا فى إقليم البحر المتوسط .
 ٦- تنتشر النباتات التى لها القدرة على تحمل الجفاف فى الإقليم المدارى .
- () (القليوبية ٢٠٢٤)
 () (الشرقية ٢٠٢٤)
 () (البحيرة ٢٠٢٤)
 () (المنيا ٢٠٢٤)
 () (القاهرة ٢٠٢٤)
 () (بورسعيد ٢٠٢٤)

السؤال الثالث: اختر الإجابة الصحيحة مما بين القوسين:

- ١- تقع محمية أرز الشوف الطبيعية بدولة (مصر - سوريا - لبنان - الأردن) (القاهرة ٢٠٢٤)
 ٢- يوجد الصبار فى إقليم (البحر المتوسط - الصحراوى - المدارى - الاستوائى) (القاهرة ٢٠٢٤)
 ٣- حشائش الإستبس تنمو ضمن إقليم مناخ (البحر المتوسط - الصحراوى - المدارى - الموسمى) (الإسكندرية ٢٠٢٤)

السؤال الرابع: اكتب ما تشير إليه كل عبارة:

- ١- إقليم يقع فى جنوب الوطن العربى .
 ٢- منطقة جغرافية تتسم بخصائص مناخية تميزها عن غيرها .
- (القليوبية ٢٠٢٤)
 (الإسكندرية ٢٠٢٤)

السؤال الخامس: أكمل العبارات الآتية بما يناسبها من كلمات:

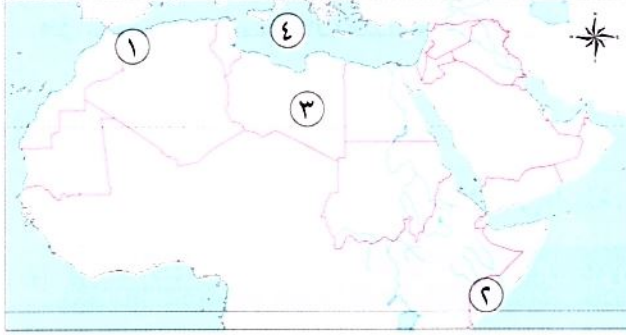
- ١- يتميز إقليم البحر المتوسط بسقوط الأمطار فى فصل (البحيرة ٢٠٢٤)
 ٢- يسود معظم الوطن العربى إقليم المناخ (المنيا ٢٠٢٤)
 ٣- تقع بلاد المغرب العربى ومصر وليبيا ضمن إقليم (السويس ٢٠٢٤)
 ٤- تقع محمية أرز الشوف بدولة (الدقهلية ٢٠٢٤)

السؤال السادس: أجب عما يلى:

- ١- ما أشهر المحميات الطبيعية فى دولة لبنان؟ (القليوبية ٢٠٢٤)
 ٢- بم تفسر...؟ سقوط الأمطار صيفاً على جنوب غرب اليمن (الشرقية ٢٠٢٤)
 ٣- دلل على صحة العبارة الآتية: تختلف الصور النباتية فى الإقليم الصحراوى بالوطن العربى (الإسماعيلية ٢٠٢٤)
 ٤- ماذا يحدث إذا لم...؟ تقم الدول العربية بإقامة محميات طبيعية (الشرقية ٢٠٢٤)
 ٥- ماذا يحدث إذا لم...؟ تسقط الأمطار على إقليم البحر المتوسط شتاءً (القاهرة ٢٠٢٤)
 ٦- اكتب واحدة من المشكلات التى تواجه المحميات الطبيعية (الجيزة ٢٠٢٤)



السؤال الأول: (أ) أمامك خريطة صماء للوطن العربي. اكتب مدلول الأرقام التي عليها:



- ١- يشير (١) إلى الإقليم المناخي
- ٢- يشير (٢) إلى الإقليم المناخي
- ٣- يشير (٣) إلى الإقليم المناخي
- ٤- البحر

(ب) ما المقصود ب...؟

- الإقليم المناخي.

السؤال الثاني: اختر الإجابة الصحيحة مما بين الأقواس:

- ١- تمتد جبال البحر الأحمر في دولتي
- (مصر والصومال - موريتانيا والمغرب - مصر والسودان - تونس والجزائر)
- ٢- تقع محمية أرز الشوف بدولة
- (مصر - لبنان - المغرب - الجزائر)
- ٣- يقع في الأطراف الشمالية للوطن العربي الإقليم
- (الصحراوي - المداري - الاستوائي - البحر المتوسط)
- ٤- تعيش في الإقليم الصحراوي حيوانات، منها
- (الماعز - الأغنام - الزواحف - الأسود)
- ٥- من أشهر المحميات الطبيعية وتوجد في مصر محمية
- (أرز الشوف - ضانا - الدندر - جبل علبة)

السؤال الثالث: (أ) اكتب كلمة (صواب) أمام العبارة الصحيحة، وكلمة (خطأ) أمام العبارة غير الصحيحة:

- ١- يمتد الإقليم المداري في أجزاء من الصومال والسودان والجزائر. ()
- ٢- تعيش حيوانات مثل الزراف والأسود في حشائش الإستبس. ()
- ٣- تزداد كمية الأمطار المتساقطة على المناطق الداخلية للمرتفعات. ()

(ب) بم تفسر...؟

١- الأهمية الاقتصادية للمحميات الطبيعية.

٢- ارتفاع درجة الحرارة في المناطق الجنوبية للوطن العربي.





تعليمنا العربي

الدرس الرابع

المشكلات البيئية في وطننا العربي



تفاعل



هل تعرف أهم المشكلات البيئية التي تواجه الوطن العربي؟ وما دورك كمواطن عربي مسئول في حلها؟

تعلم



• تعاني الدول العربية من مشكلات تؤثر على البيئة.

المشكلات البيئية التي يواجهها الوطن العربي

- مجلس الوزراء العرب هو المسئول عن شئون البيئة.
- حيث تواجه دول وطننا العربي مشكلات بيئية عديدة، مثل.

التصحّر

ندرة المياه العذبة

الجفاف



الجفاف

١

بالجفاف

ما المقصود

• نقص كمية الأمطار في بعض السنوات، بما لا يسمح بالزراعة أو نمو الحشائش.

- تتعرض كثير من الدول العربية لخطر الجفاف، مثل: الصومال

- عانت الصومال من أكبر موجة جفاف، ما النتائج المترتبة على؟

أدى ذلك إلى: نقص الغذاء وحدوث مجاعة لأكثر من مليون شخص.



ندرة المياه العذبة

٢

- تعاني معظم الدول العربية من ندرة المياه العذبة بم تفسر؟

بسبب تزايد معدلات استهلاك المياه.

أسباب تزايد معدلات استهلاك المياه

التوسع المستمر في الزراعة.

النمو السكاني المتزايد.

التصحّر

٣

• يعاني نحو ثلثي مساحة الوطن العربي من مشكلة التصحر.

بالتصحّر

ما المقصود

• تناقص قدرة الأراضي الزراعية على الإنتاج.

أسباب التصحر:

• الإفراط في استخدام الأسمدة الكيماوية والمبيدات الحشرية.

• تناقص مخزون المياه الجوفية.

• الرعي الجائر للحيوانات، وإزالة الغابات.



• استخدام طرق الري التقليدية.

• زحف الكثبان الرملية.

• التوسع العمراني.

نتائج المشكلات البيئية

• تتعدد المشكلات البيئية التي تعاني منها الدول العربية ما النتائج المترتبة على

تؤدي إلى:

٣
تدمير الحياة النباتية والحيوانية في كثير من المناطق في الوطن العربي.

٢
تعوق تنفيذ الخطط التنموية في الدول العربية

١
تهديد صحة المواطن العربي وحياته

سؤال

(١) اكتب ما تشير إليه العبارتان التاليتان:

١- نقص كمية الأمطار في بعض السنوات، بما لا يسمح بالزراعة أو نمو الحشائش. (.....)

٢- تناقص قدرة الأراضي الزراعية على الإنتاج. (.....)

(ب) بم تفسر...؟

١- تزايد مشكلة ندرة المياه في الوطن العربي.....

٢- حدوث التصحر في الوطن العربي.....

(ج) ما النتائج المترتبة على...؟

- المشكلات البيئية التي تعاني منها الدول العربية.....

مواجهة الدول العربية للمشكلات البيئية

• تواجه الدول العربية هذه المشكلات البيئية عن طريق:

- البحث عن مصادر جديدة للمياه العذبة.
- تفعيل قوانين تجرم القطع العشوائي للأشجار.
- استخدام مصادر الطاقة النظيفة.
- إنشاء المدن الذكية لتقليل انبعاثات الغازات الدفيئة.
- تعمل على زيادة المساحات الخضراء.



◀ مبادرات المساحات الخضراء في الوطن العربي:



• أطلقت **السعودية** مبادرة زراعة ٤٥٠ مليون شجرة، كما أعلنت عن إنشاء مدينة **نيوم الخضراء**.

• أطلقت **مصر** مبادرة زراعة ١٠٠ مليون شجرة مثمرة.

سؤال

(١) اكتب كلمة (صواب) أمام العبارة الصحيحة، وكلمة (خطأ) أمام العبارة غير الصحيحة فيما يلي:

- ١- أعلنت مصر عن إنشاء مدينة نيوم الخضراء. ()
- ٢- تواجه الدول العربية المشكلات البيئية بالبحث عن مصادر جديدة للمياه المالحة. ()

(ب) دلل على:

- جهود الدول العربية لمواجهة المشكلات البيئية.

استكشف وراجع

استكشف:

• «لمواجهة مشكلتي الجفاف والتصحر بالوطن العربي، ابتكرت بعض الدول حلولاً غير تقليدية تعتمد على البحث العلمي»، استخدم شبكة المعلومات الدولية (الإنترنت)، وابحث عن هذه الأساليب، ثم لخص أهم ما توصلت إليه في جدول يتضمن (الأسلوب المستخدم - الدولة التي تستخدمه - أثر استخدامه على الدولة والمواطنين).

راجع: ١- بم تفسر: تعاني معظم الدول العربية من ندرة المياه العذبة؟

٢- ما النتائج المترتبة على: وقوع مساحة كبيرة من الوطن العربي في الإقليم الصحراوي الحار؟

٣- اشرح جهود الدول العربية لمواجهة المشكلات البيئية.

(لنتعمق في الفهم)

(أ) اقرأ وأجب:

نص إثرائي

تجارب عربية رائدة في مجال التنمية البيئية

قدم أبناء مدينة الخارجة في محافظة الوادي الجديد مثالا يُحتذى به في حماية البيئة والاستثمار المستدام لمواردها وإعادة استخدام المخلفات بشكل جديد، فقد نجحوا بالتعاون مع المسؤولين بالمحافظة في تنفيذ عدد من المشروعات الخضراء للتغلب على الآثار السلبية الناتجة عن التغيرات المناخية، ومن هذه المشروعات: مشروع إنتاج الطاقة الكهربائية من الطاقة الشمسية وتصديرها للاتحاد الأوروبي، ومشروع صناعة الأخشاب من مخلفات النخيل لأول مرة في العالم، الأمر الذي جعلها أول مدينة صديقة للبيئة على مستوى جمهورية مصر العربية لعام ٢٠٢٢ م. وفازت بلقب عاصمة المدن العربية لعام ٢٠٢٢ م في المسابقة التي نظمتها مجلس الوزراء العرب المسؤولين عن شؤون البيئة على مستوى دول الوطن العربي.

في ضوء الفقرة السابقة، أجب عما يلي:

- ١- استنتج المشكلات البيئية التي نجح أبناء محافظة الوادي الجديد في حلها. وما أثر ذلك على البيئة والاقتصاد المصري؟
- ٢- تعاون مع زملائك في اختيار إحدى المشكلات البيئية التي تواجه الوطن العربي، واقترح بعض الأفكار الإبداعية لحلها.

(لنبحث عن المعرفة)

(ب) ابحث وأجب:

استخدم شبكة المعلومات الدولية (الإنترنت)، وابحث عن المشروعات التي تقوم بها بعض الدول العربية لحماية البيئة، ثم أكمل الجدول التالي:

الدولة	اسم المشروع	أهداف المشروع	الأساليب المستخدمة لتحقيق الأهداف
المملكة العربية السعودية			
المملكة المغربية			
الإمارات العربية المتحدة			

نص إثرائي

تحتفل الدول العربية باليوم العربي للبيئة في ١٤ أكتوبر من كل عام بهدف التوعية بالمشكلات البيئية التي تواجه العالم ككل والوطن العربي بصفة خاصة، وذلك بمناسبة إنشاء مجلس وزراء البيئة العرب الذي يعمل على دعم التعاون العربي في مجالات شؤون البيئة والتنمية المستدامة، ونشر الوعي البيئي، وحماية الموارد في الوطن العربي، ومواجهة الأزمات والمخاطر التي تهدد النظام البيئي في البلاد العربية، مما يساعد الدول في أخذ خطوات جادة نحو تحقيق أهداف التنمية المستدامة.

(التكامل مع التربية الفنية)

- ١- في رأيك، ما أهمية تعاون الدول العربية من أجل مواجهة المشكلات البيئية؟
- ٢- صمّم شعارًا لليوم العربي للبيئة، موضِّحًا مدلول الرموز والألوان التي ستستخدمها في تصميم الشعار.
- ٣- وضِّح مسؤولياتك تجاه المشكلات البيئية التي يواجهها وطنك العربي، ثم اكتب تعهدًا للحفاظ على البيئة العربية.

(التفكير الناقد)

(د) لاحظ وحل:



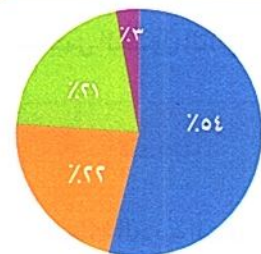
- ١- ما المشكلة التي تعبر عنها الصورة؟ وهل يعاني وطنك مصر منها؟
- ٢- ما أسباب المشكلة التي تعبر عنها الصورة؟
- ٣- مستعينًا بشبكة المعلومات الدولية (الإنترنت) اكتب أمثلة لجهود بعض الدول العربية في مواجهة هذه المشكلة.

(هـ) تحليل البيانات:

حلل وأجب:

لاحظ الرسم البياني التالي ثم أجب.

- بلغ مجموع الأراضي المتصحرة في الوطن العربي نحو ٩ ملايين كم^٢ موزعة بين الدول العربية كالتالي:



نسب الأراضي المتصحرة في دول الوطن العربي

نسبة الأراضي المتصحرة في الوطن العربي:

- دول المغرب العربي.
- دول شبه الجزيرة العربية.
- دول حوض النيل والقرن الإفريقي.
- دول المشرق العربي.

- ١- استنتج أكثر الدول العربية التي تعاني من خطر التصحر.
- ٢- اقترح بعض الأفكار للمساهمة في حل هذه المشكلة.

(الدراسات الاجتماعية فى حياتى اليومية)

(و) فكروا جب:

اقرأ السلوكيات التالية، ثم ضع علامة (✓) أمام السلوك البيئى الجيد، وعلامة (X) أمام السلوك الذى يضر بالبيئة، مع التبرير.

التبرير	الرأى	السلوك	الرقم
		أشارك فى زراعة الأشجار المثمرة فى المدينة.	١
		أفضل استخدام السيارات التى تسير بالبنزين.	٢
		أشجع زملائى على تركيب لوحات الطاقة الشمسية فوق أسطح منازلهم.	٣
		أرشى الشارع بالمياه فى أوقات شديدة الحرارة.	٤
		أفضل استخدام الري بالغمر لرى الأراضى الزراعية.	٥
		أفضل بناء منزلى على أرض زراعية.	٦
		أشجع جيرانى على استخدام وسائل النقل العام.	٧

قيم نفسك

- أشرح أسباب بعض المشكلات البيئية فى الوطن العربى. جيد جدًا جيد بحاجة إلى مجهود أكبر
- أستنتج الآثار المترتبة على بعض المشكلات البيئية فى الوطن العربى. جيد جدًا جيد بحاجة إلى مجهود أكبر
- أتعرف جهود بعض الدول لحماية البيئة الطبيعية. جيد جدًا جيد بحاجة إلى مجهود أكبر
- أقترح أكبر عدد من الوسائل للحفاظ على البيئة وتنميتها بشكل مستدام فى الوطن العربى. جيد جدًا جيد بحاجة إلى مجهود أكبر

تطبيق الأضواء



ذاكر دروسك الآن بطريقة تفاعلية من خلال
فيديوهات شرح الدروس و بنك أسئلة الأضواء.

نزل التطبيق أو ادخل على موقع الأضواء:
www.aladwaa.com



التحديات البيئية التي يواجهها الوطن العربي

التصحّر

تناقص قدرة الأراضي الزراعية على الإنتاج بسبب:

- زحف الكثبان الرملية نحو التوسع العمراني.
- تناقص مخزون المياه الجوفية.
- الرعي الجائر للحيوانات، وإزالة الغابات.
- الإفراط في استخدام الأسمدة الكيماوية والمبيدات الحشرية.



ندرة المياه

تعاين معظم الدول العربية من ندرة المياه العذبة بسبب:

- تزايد معدلات استهلاك المياه.
- تزايد معدلات استهلاك المياه بسبب:
- النمو السكاني المتزايد.
- التوسع المستمر في الزراعة.



الجفاف

نقص كمية الأمطار في بعض السنوات بما لا يسمح بالزراعة أو نمو الحشائش.

مثل: الصومال



نتائج المشكلات البيئية التي تعاني منها الدول العربية

تدمير الحياة النباتية والحيوانية في كثير من المناطق في الوطن العربي.

إعاقة تنفيذ الخطط التنموية في الدول العربية.

تهديد صحة المواطن العربي وحياته.

مواجهة الدول العربية للمشكلات البيئية

تفعيل قوانين تجرم القطع العشوائي للأشجار.

استخدام مصادر الطاقة النظيفة.



البحث عن مصادر جديدة للمياه العذبة.

تعمل على زيادة المساحات الخضراء.

إنشاء المدن الذكية لتقليل انبعاثات الغازات الدفيئة.





مجاب عنها

الدرس الرابع

المشكلات البيئية في وطننا العربي



تدريب

السؤال الأول اكتب كلمة (صواب) أمام العبارة الصحيحة، وكلمة (خطأ) أمام العبارة غير الصحيحة:

- ١ التصحر من المشكلات البيئية في وطننا العربي. ()
- ٢ يتميز الوطن العربي بسقوط كميات أمطار كبيرة تسمح بزراعات واسعة. ()
- ٣ الرعى الجائر للحيوانات يؤدي إلى حدوث مشكلة الجفاف. ()
- ٤ تعاني معظم الدول العربية من ندرة المياه المالحة. ()
- ٥ تناقص مخزون المياه الجوفية يؤدي إلى حدوث التصحر. ()
- ٦ ثلث مساحة الوطن العربي تعاني من التصحر. ()
- ٧ أطلقت الإمارات مبادرة زراعة ٤٥٠ مليون شجرة. ()

السؤال الثاني أكمل العبارات الآتية:

- ١ يحدث الجفاف بسبب نقص كمية في بعض السنوات.
- ٢ تقع معظم مساحة دول وطننا العربي في الإقليم
- ٣ ظهرت في الوطن العربي مشكلات بيئية مثل و..... و.....
- ٤ أطلقت المملكة السعودية مبادرة لزيادة المساحات الخضراء عن طريق مدينة
- ٥ تعاني معظم الدول العربية من ندرة المياه

السؤال الثالث اكتب ما تشير إليه العبارات الآتية:

- ١ نقص كمية الأمطار ربما لا يسمح بالزراعة أو نمو الحشائش. (.....)
- ٢ تناقص قدرة الأراضي الزراعية على الإنتاج. (.....)

السؤال الرابع اختر الإجابة الصحيحة مما بين القوسين:

- ١ دولة عانت من أكبر موجة جفاف في وطننا العربي هي (الصومال - السودان - مصر - الجزائر)
- ٢ يعاني نحو مساحة الوطن العربي من مشكلة التصحر. (ثلث - ثلثي - ربع - نصف)
- ٣ توجد مدينة نيوم الخضراء في دولة (مصر - الجزائر - المغرب - السعودية)
- ٤ أطلقت مبادرة زراعة ١٠٠ مليون شجرة مثمرة من دولة (السعودية - مصر - الكويت - الإمارات)
- ٥ استخدام الأسمدة الكيماوية من الأسباب التي تؤدي إلى ظهور مشكلة (التصحر - الجفاف - ندرة المياه - الاحتباس الحراري)

المستوى الأول

المستوى الثاني

السؤال الخامس انظر الصورة التي أمامك ثم أجب عن الأسئلة التالية:



- ١ ما المشكلة التي تعبر عنها الصورة؟
- ٢ ما أسباب تلك المشكلة؟
- ٣ اذكر جهود الدول العربية في مواجهة هذه المشكلة

السؤال السادس بم تفسر...؟

- ١ تعاني معظم الدول العربية من ندرة المياه العذبة
- ٢ تزايد معدلات استهلاك المياه في الوطن العربي
- ٣ تناقص قدرة الأراضي الزراعية على الإنتاج في الوطن العربي
- ٤ إنشاء المدن الذكية في دول وطننا العربي

السؤال السابع ما النتائج المترتبة على...؟

- ١ الرعي الجائر للحيوانات في الوطن العربي
- ٢ تعرض الصومال لأكبر موجة جفاف في الوطن العربي
- ٣ النمو السكاني المتزايد في وطننا العربي
- ٤ زحف الكثبان الرملية وتناقص المياه الجوفية في وطننا العربي

السؤال الثامن ما العلاقة بين...؟

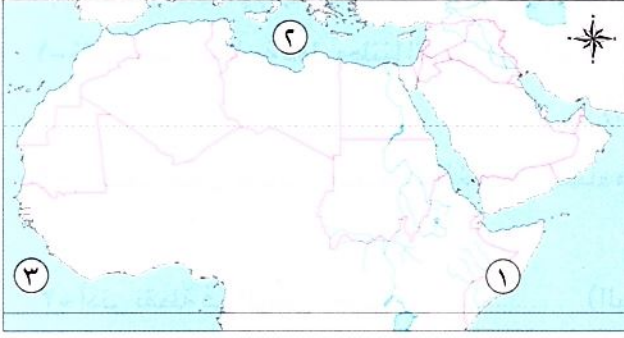
- ١ سكان الوطن العربي والمياه العذبة
- ٢ جهود دول الوطن العربي والمساحات الخضراء

السؤال التاسع قارن بين كل من:

الجفاف والتصحر وندرة المياه العذبة من حيث الأسباب.

ندرة المياه العذبة	التصحر	الجفاف	وجه المقارنة
.....	الأسباب
.....	

السؤال الأول: أمامك خريطة الوطن العربي اكتب ما تشير إليه الأرقام على الخريطة:



١- دولة تعرضت لخطر الجفاف (القاهرة ٢٠٢٤)

٢- البحر (الدقهلية ٢٠٢٤)

٣- المحيط (الشرقية ٢٠٢٤)

السؤال الثاني: اكتب ما تشير إليه كل عبارة :

- ١- تناقص قدرة الأراضي الزراعية على الإنتاج .
 ٢- نقص كمية الأمطار بما لا يسمح بالزراعة ونمو الحشائش .
 ٣- تناقص إنتاج الأراضي الزراعية وتدهورها .
- (القليوبية ٢٠٢٤)
 (الجيزة ٢٠٢٤)
 (القاهرة ٢٠٢٤)

السؤال الثالث: اختر الإجابة الصحيحة مما بين القوسين :

- ١- يعاني نحو مساحة الوطن العربي من مشكلة التصحر. (ثلث - ربع - نصف - ثلثي) (الشرقية ٢٠٢٤)
 ٢- توجد مدينة نيوم الخضراء في دولة (مصر - الجزائر - المغرب - السعودية) (الشرقية ٢٠٢٤)
 ٣- تناقص قدرة الأراضي الزراعية على الإنتاج. تشير هذه العبارة إلى مصطلح
 (الجفاف - التصحر - ندرة المياه - التلوث) (بنى سويف ٢٠٢٤)
 ٤- دولة عانت من أكبر موجة جفاف في وطننا العربي هي
 (السودان - الصومال - الجزائر - مصر) (الإسكندرية ٢٠٢٤)
 ٥- يعاني ثلثًا مساحة الوطن العربي من مشكلة
 (الجفاف - التصحر - ندرة المياه العذبة - نقص المراعى) (دمياط ٢٠٢٤)

السؤال الرابع: أكمل العبارات الآتية بكلمات مناسبة مما بين القوسين:

- ١- تناقص قدرة الأراضي الزراعية على الإنتاج. يشير هذا إلى ظهور مشكلة (القاهرة ٢٠٢٤)
 ٢- تناقص مخزون المياه الجوفية أدى إلى حدوث (البحيرة ٢٠٢٤)
 ٣- نقص كمية الأمطار بما لا يسمح بالزراعة ونمو الحشائش يسمى (بورسعيد ٢٠٢٤)

السؤال الخامس: أجب عما يلي:

- ١- ما النتائج المترتبة على...؟ مشكلة التصحر في وطننا العربي (بنى سويف ٢٠٢٤)
 ٢- دلل على صحة العبارة الآتية: تتعدد المشكلات البيئية في الوطن العربي (المنوفية ٢٠٢٤)
 ٣- ما المقصود ب...؟ الجفاف (القليوبية ٢٠٢٤)



اختبر نفسك

مجاب عنه

تراكمي

١٥

السؤال الأول: اختر الإجابة الصحيحة مما بين الأقواس:

- ١- تقع معظم مساحة دول وطننا العربي في الإقليم
(الصحراوي الحار - المداري - البحر المتوسط - الموسمي)
- ٢- أطلقت مبادرة لزيادة المساحات الخضراء بإنشاء مدينة نيوم الخضراء في دولة
(مصر - السودان - الإمارات - السعودية)
- ٣- أدنى نقطة في الوطن العربي هي
(البحر المتوسط - البحر الأحمر - البحر الميت - بحر قزوين)
- ٤- يتميز مناخ الوطن العربي بالحرارة الشديدة في فصل
(الشتاء - الربيع - الصيف - الخريف)
- ٥- محمية أرز الشوف من أشهر محميات الوطن العربي التي تقع في دولة
(لبنان - الأردن - السودان - مصر)

السؤال الثاني: (١) اكتب ما تشير إليه العبارات الآتية:

- ١- منطقة جغرافية من سطح الأرض تتسم بخصائص مناخية تميزها عن غيرها. (.....)
- ٢- تناقص قدرة الأراضي الزراعية على الإنتاج. (.....)
- ٣- دولة عانت من أكبر موجة جفاف في وطننا العربي. (.....)

(ب) ما النتائج المترتبة على ...؟

- ١- النمو السكاني المتزايد في وطننا العربي.

- ٢- زحف الكثبان الرملية وتناقص المياه الجوفية في وطننا العربي.

السؤال الثالث: (١) اكتب كلمة (صواب) أمام العبارة الصحيحة، وكلمة (خطأ) أمام العبارة غير الصحيحة:

- ١- يحدث التصحر بسبب استخدام طرق الري التقليدية. ()
- ٢- يعاني الوطن العربي من مشكلة نقص المياه المالحة. ()
- ٣- تهتم دول الوطن العربي باستخدام مصادر الطاقة النظيفة. ()

(ب) ما العلاقة بين...؟

- ١- صحة المواطن العربي والمشكلات البيئية.





شخصيات عربية مؤثرة



الخليفة أبو بكر الصديق

اسمه عبد الله بن عثمان بن عامر بن عمرو، وُلد في مكة بعد عام الفيل، واشتهر قبل الإسلام بحسن الخلق؛ فكان يتسم بالإحسان في معاملة الآخرين، والامتناع عن شرب الخمر.

كان ﷺ أول من أسلم من الرجال، وقد وصفه رسول الله ﷺ بالصديق، وكانت له جهود كثيرة في الدعوة إلى الإسلام؛ فقد أسلم على يديه عدد من كبار الصحابة أمثال عثمان بن عفان ﷺ، والزبير بن العوام، وعبد الرحمن بن عوف ﷺ.

صحب أبو بكر الصديق ﷺ النبي ﷺ في هجرته إلى المدينة، وأنفق ماله في سبيل الدعوة الإسلامية، وكان النبي ﷺ يستشير في العديد من المواقف. وقد تزوج النبي ﷺ بابنته السيدة عائشة ﷺ. كان أبو بكر ﷺ يتصف بالحكمة والقدرة على مواجهة المواقف الصعبة. وعندما

تولى الخلافة، أظهر قدرة فائقة في إدارة شؤون الدولة، التي تعرضت في ذلك الوقت لانقسام خطير بسبب ظهور المرتدين، فأعاد للدولة وحدتها وأمنها، وتوجه إلى فتح بلاد العراق والشام. كما أنجز مشروعًا عظيمًا وهو جمع القرآن الكريم للمرة الأولى، وأولى اهتمامًا بالغًا برعاية الفقراء والمرضى. توفى أبو بكر الصديق ﷺ عن عمر ثلاثة وستين عامًا.

افهم وطبق

(أ) التفكير الناقد:

- 1- أنفق أبو بكر الصديق ﷺ الكثير من ماله في سبيل خدمة رسالة الإسلام. أثبت صحة هذه العبارة.
- 2- ما أهم القيم التي تمسك بها أبو بكر الصديق ﷺ في حياته؟

(ب) تجربة شخصية:

- 1- اسرد موقفًا حياتيًا خصصت فيه جزءًا من مالك، أو وقتك، أو جهدك لأحد الأعمال الخيرية، ووصف شعورك حينها.

- 2- ما أكثر الصفات التي أعجبتك في شخصية أبي بكر الصديق ﷺ وتود أن تكتسبها؟ ولماذا؟



شخصيات عربية مؤثرة

الخليفة عمر بن الخطاب رضي الله عنه

وُلد عمر بن الخطاب رضي الله عنه بعد عام الفيل بثلاث عشرة سنة، أتقن العديد من الرياضات مثل المصارعة وركوب الخيل كما روى الشعر، واشتغل بالتجارة حتى أصبح من أثرياء مكة، وقد شهد كل الغزوات مع رسول الله صلى الله عليه وسلم، وكان أول من بايع أبا بكر الصديق رضي الله عنه بالخلافة بعد وفاة الرسول صلى الله عليه وسلم، وقد استخلفه أبو بكر الصديق رضي الله عنه من بعده خليفة للمسلمين بعدما استشار عددًا من الصحابة، وكان أول كلامه بعدما صعد المنبر بعد توليه الخلافة: «اللهم إني شديد فليئى، وإني ضعيف فقوئى، وإني بخيل فسحني»، كان شجاعًا؛ فقد هاجر إلى مكة علانية دون خوف من أذى قريش، كما اتسم بالبلاغة والفصاحة، وعُرف عنه الحكمة والشدة في الحق، ورغم شدته اتسم بالرحمة، ومن المواقف التي تشهد له بذلك أنه عندما جاء إليه رجل يهودى كبير السن يسأله الحاجة ورفع الجزية - أعطاه ما يكفيه وأرسل لخازن بيت المال يأمره برفع الجزية عن هذا الرجل وعن كل من يماثله، وقد بادر عمر بن الخطاب رضي الله عنه بكثير من الأعمال التي عادت بالنفع على الأمة

الإسلامية حتى عصرنا الحالى مثل إنشاء الدواوين فى الدولة الإسلامية، كما أنه قد أشار على أبى بكر رضي الله عنه بجمع القرآن فى المصحف، واستشهد عندما طعنه الفارسى أبو لؤلؤة المجوسى عام ٢٣هـ بعدما دامت خلافته عشر سنوات.

افهم وطبق

(١) التفكير الناقد:

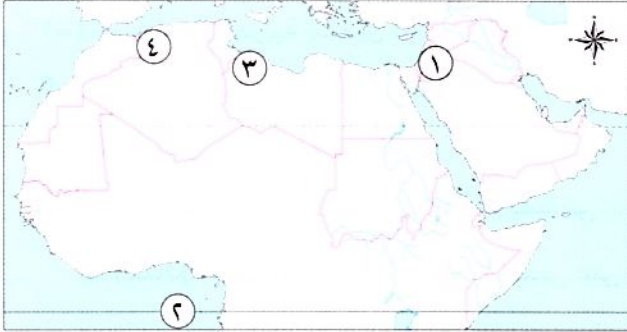
- ١- كان لعمر بن الخطاب رضي الله عنه الكثير من الأعمال البارزة فى التاريخ الإسلامى، دلل على صحة العبارة السابقة.
- ٢- استعن بشبكة المعلومات الدولية (الإنترنت) وبمكتبة المدرسة للبحث عن صفات عمر بن الخطاب رضي الله عنه وسجل أحد المواقف الدالة على إحدى هذه الصفات.

(ب) تجربة شخصية:

- ١- تخيل أنك قابلت عمر بن الخطاب رضي الله عنه، فماذا تقول له؟
- ٢- اختر إحدى القيم التى حرص عمر بن الخطاب رضي الله عنه على التمسك بها فى حياته واذكر موقفًا طبقت فيه هذه القيمة فى حياتك الشخصية.



السؤال الأول: (أ) أمامك خريطة صماء للوطن العربي، اكتب مدلول الأرقام عليها:



- ١- يشير رقم (١) إلى أدنى نقطة في الوطن العربي
- ٢- يشير رقم (٢) إلى دائرة عرض
- ٣- يشير رقم (٣) إلى إقليم مناخى
- ٤- يشير رقم (٤) إلى جبال التوائية

(ب) ما العلاقة بين مظاهر السطح في الوطن العربي والأنشطة الاقتصادية ؟

.....

السؤال الثاني: (أ) اختر الإجابة الصحيحة:

- ١- يوجد وادى الدواسر بدولة
- (السعودية - الجزائر - تونس - مصر)
- ٢- ترتفع درجة حرارة الوطن العربي فى فصل
- (الربيع - الشتاء - الصيف - الخريف)
- ٣- ينبت نبات الصبار فى الإقليم المناخى
- (الموسمى - المدارى - الصحراوى - البحر المتوسط)
- ٤- محمية جبل علبه من أشهر محميات الوطن العربي التى تقع فى دولة
- (لبنان - الأردن - السودان - مصر)

(ب) فسر: يعاني الوطن العربي من مشكلة التصحر .

.....

السؤال الثالث: (أ) اكتب كلمة (صواب) أمام العبارة الصحيحة، وكلمة (خطأ) أمام العبارة غير الصحيحة:

- ١- تكونت جبال البحر الأحمر نتيجة الحركات الانكسارية للقشرة الأرضية. ()
- ٢- يمتد الموقع الجغرافى للوطن العربي بين قارتي آسيا وأوروبا. ()
- ٣- يوجد بالوطن العربي أربعة أقاليم مناخية. ()
- ٤- تقع معظم مساحة الوطن العربي فى المنطقة الصحراوية الحارة. ()

(ب) ما النتائج المترتبة على ...؟

- تزايد معدلات استهلاك المياه العذبة فى الوطن العربي .

.....





اختبار الأضواء

مجاب عنه

السؤال الأول: (أ) أكمل العبارات الآتية:

- ١- قامت الدول العربية بتفعيل قوانين تجرم القطع العشوائي لـ
 - ٢- تمر في جنوب الوطن العربي دائرة
 - ٣- تكونت من رواسب الأنهار السهول
 - ٤- أكبر الظواهر التضاريسية في قارة إفريقيا هي
- (ب) ما النتائج المترتبة على...؟ تعاملد الشمس على مدار السرطان في وطننا العربي.

السؤال الثاني: (أ) صوب ما تحته خط:

- ١- عانت ليبيا من أكبر موجة جفاف.
- ٢- يقع إقليم البحر المتوسط في الأطراف الجنوبية للوطن العربي.
- ٣- تتعامد الشمس على مدار السرطان شتاءً.

(ب) قارن بين الإقليم المناخي المداري والصحراوي من حيث:

- الخصائص المناخية لكل إقليم - والنباتات التي تنمو بكل إقليم.

الإقليم الصحراوي	الإقليم المداري	وجه المقارنة
		الخصائص المناخية
		النباتات بكل إقليم

السؤال الثالث: (أ) أمامك صورتان لأحد مظاهر السطح بالوطن العربي. حدد اسم الظاهرة وسبب تكونها:



- ٢- اسم الظاهرة
- سبب تكونها



- ١- اسم الظاهرة
- سبب تكونها

(ب) فسر: يسود المناخ الحار معظم أجزاء الوطن العربي.

(*) راجع الوحدة الثانية قبل حل النماذج الاسترشادية على الشهر الثاني بالذهاب إلى جزء المراجعة ص ١٩٨.

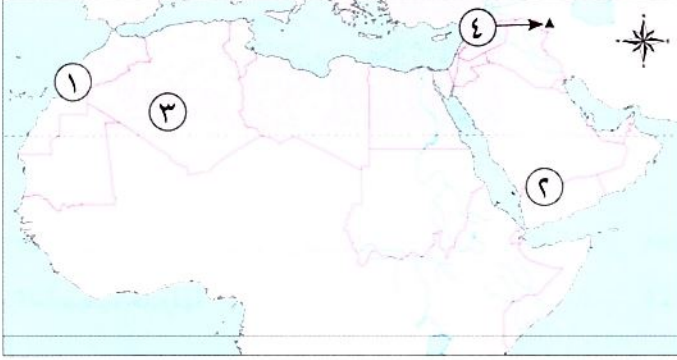


النماذج الاسترشادية على الشهر الثاني

مجاب عنه

النموذج الأول

السؤال الأول: (أ) أمامك خريطة صماء للوطن العربي اكتب مدلول الأرقام المشار إليها:



- ١- أعلى قمة جبلية بالوطن العربي
- ٢- هضبة
- ٣- واحة
- ٤- جبل التوائى

(ب) فسر: أهمية الأودية الجافة في الوطن العربي.

السؤال الثاني: (أ) اختر الإجابة الصحيحة:

- ١- أدى مرور دائرة الاستواء جنوب الوطن العربي إلى ارتفاع الحرارة في المناطق
- (الشمالية - الشرقية - الجنوبية - الغربية)
- ٢- توجد محمية أرز الشوف في دولة
- (المغرب - تونس - لبنان - الجزائر)
- ٣- تندر الأمطار في الإقليم المناخى
- (المدارى - البحر المتوسط - الموسمي - الصحراوي الحار)

(ب) ما النتائج المترتبة على...؟

- تعامد الشمس على مدار الجدى شتاء في الوطن العربي.

السؤال الثالث: (أ) صوب ما تحته خط:

- ١- الإقليم الموسمي يشمل الجزء الجنوبي الغربي من اليمن.
- ٢- تنمو حشائش السافانا بالإقليم الصحراوي في الوطن العربي.
- ٣- ثلثا مساحة الوطن العربي يعاني من مشكلة الجفاف.
- ٤- عانت المغرب من أكبر موجة جفاف.

(ب) دلل على صحة العبارة الآتية:

- تتجه الدول العربية إلى مبادرات للمساحات الخضراء.

السؤال الأول: (أ) أمامك صورتان تمثلان مشكلتين من المشكلات التي يعاني منها الوطن العربي:



(ب)



(أ)

- ١- الصورة التي أمامك تمثل مشكلة
 ٢- أسباب حدوثها
 ١- الصورة التي أمامك تمثل مشكلة
 ٢- أسباب حدوثها

(ب) ما المقصود: بالإقليم المناخي؟

السؤال الثاني: (أ) اكتب كلمة (صواب) أمام العبارة الصحيحة، وكلمة (خطأ) أمام العبارة غير الصحيحة:

- ١- البحر الميت في الأردن يعد أدنى نقطة في الوطن العربي. ()
 ٢- تتشابه درجات الحرارة وتسقط الأمطار بكميات متساوية في الوطن العربي. ()
 ٣- الصيد الجائر من الأخطار التي تهدد المحميات الطبيعية. ()
 ٤- تعاني معظم الدول العربية من ندرة المياه المالحة. ()

(ب) دلل على صحة العبارة الآتية:

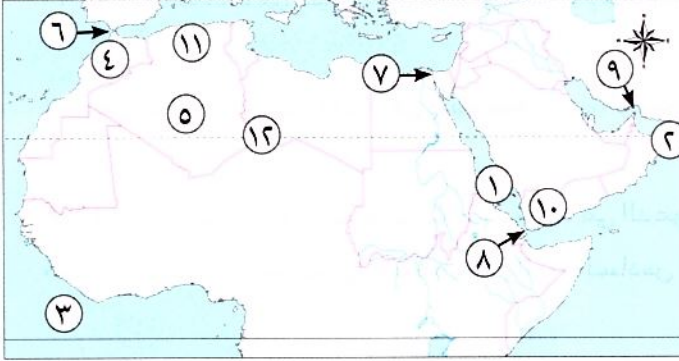
- يتأثر مناخ الوطن العربي بالاقتراب أو الابتعاد عن دائرة الاستواء .

السؤال الثالث (أ) أكمل العبارات الآتية بما يناسبها من كلمات:

- ١- تتميز مظاهر السطح بالوطن العربي بأنها
 ٢- يتميز مناخ الوطن العربي في فصل الصيف بارتفاع
 ٣- محمية أرز الشوف تُعد من أشهر محميات الوطن العربي وتوجد بدولة
 ٤- تزداد مشكلة ندرة المياه بسبب النمو المتزايد.

(ب) فسر: الأهمية الاقتصادية للواحات في الوطن العربي.

السؤال الأول: أمامك خريطة صماء للوطن العربي، اكتب ما تدل عليه الأرقام:



- ١- البحر..... ٢- خليج
- ٣- المحيط..... ٤- دولة
- ٥- دولة..... ٦- مضيق
- ٧- قناة..... ٨- مضيق
- ٩- مضيق..... ١٠- مرتفعات
- ١١- جبال..... ١٢- الإقليم

السؤال الثاني: أكمل العبارات الآتية بما يناسبها من كلمات:

- ١- يقع الوطن العربي وسط قارات العالم.....
- ٢- يحد الوطن العربي من الشمال..... و.....
- ٣- أكبر الدول العربية من حيث المساحة دولة.....
- ٤- يحد الوطن العربي من جهة الشرق الخليج..... وخليج.....
- ٥- قام أهل مكة برحلة الصيف إلى.....
- ٦- كانت أول هجرة للمسلمين إلى.....
- ٧- أقيم أول مسجد في الإسلام في.....
- ٨- أشار على النبي ﷺ بحفر خندق حول المدينة.....
- ٩- أنشأ الخليفة عمر بن الخطاب ﷺ عددًا من الدواوين مثل ديوان..... وديوان.....
- ١٠- خصص يومًا للنظر في مظالم الناس الخليفة..... ﷺ.
- ١١- تمتد السهول الساحلية في الجناح الآسيوي للوطن العربي على سواحل..... و.....
- ١٢- نشأت جبال أطلس في الوطن العربي نتيجة لحركات..... تعرضت لها الأرض.
- ١٣- من الجبال الانكسارية في الوطن العربي.....
- ١٤- تسقط الأمطار الموسمية في فصل الصيف على مرتفعات..... و.....
- ١٥- تقع محمية أرز الشوف بدولة.....

السؤال الثالث: اختر الإجابة الصحيحة مما بين الأقواس:

- ١- توجد النسبة الكبرى من مساحة الوطن العربي في قارة..... (آسيا - إفريقيا - أوروبا - أستراليا)
- ٢- يحد الوطن العربي غربًا المحيط..... (الهندي - الأطلنطي - الهادي - القطبي)
- ٣- يبلغ عدد الممرات المائية التي يتحكم فيها الوطن العربي..... ممرات. (ثلاثة - أربعة - خمسة - ستة)

- ٤- يوجد بالوطن العربي أماكن مقدسة مثل الجامع الأزهر الذي يوجد في دولة
- (مصر - فلسطين - السعودية - الجزائر)
- ٥- رحلة أهل مكة في فصل الشتاء كانت إلى
- (اليمن - الشام - يثرب - مصر)
- ٦- الحرفة السائدة في شبه الجزيرة العربية قبل الإسلام
- (الزراعة - السياحة - الصناعة - الرعي)
- ٧- عمل الرسول ﷺ عندما كان في بيت عمه أبي طالب بحرفة
- (الرعي - التجارة - الزراعة - الصناعة)
- ٨- إحدى مراحل الدعوة واستمرت ثلاث سنوات هي الدعوة
- (السرية - الجهرية - البناء - الفتح)
- ٩- منعت قريش الرسول ﷺ وأصحابه في العام السادس الهجري من دخول
- (يثرب - الطائف - مكة - حنين)
- ١٠- ارتدت بعض القبائل عن الإسلام في عهد الخليفة
(أبي بكر الصديق - عمر بن الخطاب - عثمان بن عفان - علي بن أبي طالب)
- ١١- آخر الخلفاء الراشدين هو الخليفة
(أبو بكر الصديق - عمر بن الخطاب - عثمان بن عفان - علي بن أبي طالب)
- ١٢- تمتد هضبة إفريقيا الشمالية من البحر المتوسط شمالاً إلى دول جنوباً.
(وسط إفريقيا - شرق إفريقيا - جنوب إفريقيا - غرب إفريقيا)
- ١٣- يوجد بحر الرمال العظيم بين دولتي و.....
(سوريا ولبنان - العراق والأردن - مصر وليبيا - المغرب والجزائر)
- ١٤- تقع واحة الكفرة في دولة
- (مصر - ليبيا - المغرب - الجزائر)
- ١٥- يكون الشتاء ممطرًا في الوطن العربي في المناطق المطلة على البحر
- (الأحمر - العربي - المتوسط - الأسود)
- ١٦- يسود وطننا العربي أقاليم مناخية كبرى.
(ثلاثة - أربعة - خمسة - ستة)
- ١٧- تنتشر النباتات التي لها قدرة على تحمل الجفاف في الإقليم المناخي
- (الصحراوي - المداري - الموسمي - البحر المتوسط)
- ١٨- محمية جبل علبة من أشهر محميات الوطن العربي التي تقع في دولة
- (لبنان - الأردن - السودان - مصر)
- ١٩- دولة عانت من أكبر موجة جفاف في وطننا العربي هي (الصومال - السودان - مصر - الجزائر)

السؤال الرابع: اكتب كلمة (صواب) أمام العبارة الصحيحة، وكلمة (خطأ) أمام العبارة غير الصحيحة:

- ١- يطل الوطن العربي على أربعة ممرات مائية . ()
- ٢- قامت على أرض الوطن العربي العديد من الحضارات، منها حضارة بلاد العراق القديم. ()
- ٣- ولد الرسول ﷺ في عام الحزن . ()
- ٤- عرف الرسول ﷺ بالصدق والأمانة. ()

- ٥- الشجاعة والكرم من صفات العرب الحسنة. ()
- ٦- نزل جبريل ﷺ برسالة الإسلام على الرسول ﷺ في سن الأربعين. ()
- ٧- أمر الرسول ﷺ أصحابه بالهجرة إلى الطائف. ()
- ٨- كانت غزوة أحد سبباً في دخول الكثير من العرب في الإسلام. ()
- ٩- اجتمعت قريش في دارالحكمة لمنع الرسول ﷺ من الهجرة. ()
- ١٠- انتصر المسلمون على قريش في غزوة الخندق ٣ هـ. ()
- ١١- ظهر نظام الخلافة عند المسلمين بعد وفاة الرسول ﷺ. ()
- ١٢- جعل الرسول ﷺ أثناء مرضه عمر بن الخطاب ﷺ إماماً للمسلمين في الصلاة. ()
- ١٣- عين الخليفة عثمان بن عفان ﷺ شرطة لحراسة بيت المال. ()
- ١٤- تمتد السهول الفيضية في الجناح الإفريقي للوطن العربي على المحيط الأطلنطي. ()
- ١٥- تمتد جبال البحر الأحمر في كل من مصر والسودان. ()
- ١٦- من هضاب الجناح الإفريقي هضبة نجد. ()
- ١٧- تمرد دائرة الاستواء في شمال الوطن العربي. ()
- ١٨- تتأثر كمية المطر باتجاه المرتفعات. ()
- ١٩- تنمو النباتات التي تتحمل الجفاف في الإقليم المداري. ()

السؤال الخامس: اكتب ما تشير إليه العبارات الآتية:

- ١- مكان اتفقت فيه قريش على قتل الرسول ﷺ ومنعه من الهجرة. (.....)
- ٢- أول بناء بالمدينة بعد هجرة الرسول ﷺ إليها. (.....)
- ٣- وثيقة وضعها الرسول ﷺ في المدينة لتنظيم شئون المسلمين فيما بينهم. (.....)
- ٤- تقويم بدأ بهجرة الرسول ﷺ من مكة إلى المدينة. (.....)
- ٥- نظام أنشأه الخليفة عمر بن الخطاب ﷺ لإدارة بيت المال والجند. (.....)
- ٦- أهم الظواهر التضاريسية في الجانب الإفريقي للوطن العربي وأكبرها مساحة. (.....)
- ٧- جبال نشأت نتيجة لحركات باطنية تعرضت لها الأرض. (.....)
- ٨- أودية تكونت بفعل التعرية المائية وتستخدم كطرق للمواصلات. (.....)
- ٩- منطقة جغرافية تتسم بخصائص مناخية تميزها عن غيرها. (.....)
- ١٠- نقص كمية الأمطار بما لا يسمح بالزراعة أو نمو الحشائش. (.....)

السؤال السادس: صوب ما تحته خط:

- ١- قامت على أرض الوطن العربي العديد من الحضارات القديمة ، منها الحضارة الرومانية .
- ٢- يطل الوطن العربي من جهة الشرق على خليج السويس .
- ٣- كان نظام الحكم السائد في شبه الجزيرة العربية النظام الملكي .
- ٤- الأخذ بالتأثر من العادات الحسنة عند العرب قبل الإسلام .
- ٥- أمر الرسول ﷺ بالهجرة إلى يثرب لأن بها ملكاً لا يظلم عنده أحد .
- ٦- استجاب لدعوة الرسول ﷺ وفود من ثقيف .

السؤال السابع: لمن تنسب الأعمال التاريخية الآتية...؟

- ١- ملك الحبشة الذى هاجر إليه المسلمون فى بداية الدعوة . (.....)
- ٢- أمره الخليفة أبو بكر الصديق ؓ بجمع القرآن . (.....)
- ٣- وضع التقويم الهجرى وفتح بلاد العراق وبلاد فارس والشام ومصر . (.....)
- ٤- أمر بكتابة القرآن فى مصحف واحد . (.....)
- ٥- أول من قام بتنظيم الشرطة فى الدولة الإسلامية . (.....)

السؤال الثامن: بهم تفسر...؟

- ١- الأهمية الاقتصادية لموقع الوطن العربى .
- ٢- بدأ الرسول ﷺ الدعوة إلى الإسلام سراً .
- ٣- أمر الرسول ﷺ أصحابه بالهجرة إلى يثرب .
- ٤- نجاح خطة هجرة الرسول ﷺ إلى يثرب .
- ٥- اختيار أبى بكر الصديق ؓ أول خليفة للمسلمين .
- ٦- قيام الخليفة على بن أبى طالب ؓ بتنظيم الشرطة .
- ٧- أهمية الأودية الجافة فى الوطن العربى .
- ٨- قيام الزراعة فى الواحات بالوطن العربى .
- ٩- يقل تأثير المسطحات المائية فى الوطن العربى .
- ١٠- أهمية حشائش الإستبس فى الوطن العربى .
- ١١- أهمية المحميات الطبيعية .

السؤال التاسع: ما النتائج المترتبة على ...؟

- ١- تحكم الوطن العربي في الممرات البحرية
- ٢- جهر الرسول ﷺ بالدعوة الإسلامية في مكة
- ٣- اهتمام الرسول ﷺ بكتابة صحيفة المدينة
- ٤- أشار سلمان الفارسي بحفر خندق حول المدينة ٥ هـ
- ٥- صلح الحديبية عام ٦ هـ
- ٦- رفض البعض دفع الزكاة بعد وفاة الرسول ﷺ
- ٧- استشهاد عدد كبير من حفظة القرآن الكريم في حرب المرتدين
- ٨- اتساع أرجاء الدولة الإسلامية في عهد الخليفة علي بن أبي طالب ؓ
- ٩- امتداد الوطن العربي في قارتي إفريقيا وآسيا واقتراجه من أوروبا
- ١٠- تنوع الأقاليم المناخية في الوطن العربي
- ١١- وقوع معظم مساحة الوطن العربي ضمن الإقليم الصحراوي الحار
- ١٢- النمو السكاني المتزايد في وطننا العربي

السؤال العاشر: دلل على صحة العبارات الآتية:

- ١- للوطن العربي أهمية دينية وحضارية
- ٢- يتميز الوطن العربي بموقع جغرافي متميز
- ٣- رفض قريش فكرة هجرة الرسول ﷺ وأصحابه إلى يثرب
- ٤- نجحت المؤاخاة بين المهاجرين والأنصار في المدينة
- ٥- تعدد أعمال الخليفة أبي بكر الصديق ؓ
- ٦- اهتم الخليفة علي بن أبي طالب ؓ بتطبيق العدل بين الناس
- ٧- تنوع الظواهر الطبيعية لوطننا العربي
- ٨- تتعرض المحميات الطبيعية إلى تهديدات بشرية

السؤال الحادي عشر: ماذا كان يحدث إذا ..؟

- ١- لم توجد أماكن مقدسة في الوطن العربي
- ٢- لم يتحكم الوطن العربي في ممرات مائية
- ٣- لم يقيم أهل مكة برحلتى الشتاء والصيف

السؤال الأول: أكمل العبارات الآتية بما يناسبها من كلمات:

- ١- يتميز الوطن العربي بإشرافه على مسطحات مائية مما أدى إلى تحكمه في أهم طرق (كفر الشيخ ٢٠٢٤)
- ٢- كانت أول هجرة للمسلمين إلى (الإسكندرية ٢٠٢٤)
- ٣- أشار على الرسول ﷺ بحفر خندق حول المدينة في غزوة الخندق (الإسكندرية ٢٠٢٤)
- ٤- من أمثلة الأودية الجافة وادي بالسعودية. (القاهرة ٢٠٢٤)
- ٥- أدنى نقطة في الوطن العربي (دمياط ٢٠٢٤)
- ٦- يحل فصل الصيف على الوطن العربي عندما تتعامد الشمس على مدار (البحيرة ٢٠٢٤)
- ٧- يتسم فصل الصيف في الوطن العربي بالجفاف فيما عدا مرتفعات حيث تسقط أمطار موسمية. (القاهرة ٢٠٢٤)
- ٨- نقص كمية الأمطار بما لا يسمح بالزراعة ونمو الحشائش يسمى (بورسعيد ٢٠٢٤)

السؤال الثاني: اختر الإجابة الصحيحة مما بين الأقواس:

- ١- يحد الوطن العربي غربًا المحيط (الهندي - الأطلنطي - الهادي - القطبي) (الشرقية ٢٠٢٤)
- ٢- عمل الرسول ﷺ في صغره عندما كان في بيت عمه أبي طالب بحرفة (الرعي - التجارة - الزراعة - الصناعة) (القاهرة ٢٠٢٤)
- ٣- كانت هجرة المسلمين الثانية إلى (الحبشة - يثرب - الطائف - حنين) (البحيرة ٢٠٢٤)
- ٤- قام بوضع التقويم الهجري بداية من الهجرة الخليفة (علي بن أبي طالب - عمر بن الخطاب - عثمان بن عفان - أبو بكر الصديق) (بنى سويف ٢٠٢٤)
- ٥- إحدى الظواهر التي تكونت بفعل التعرية المائية (الجبال - الهضاب - الأودية الجافة - التجمعات الرملية) (الجيزة ٢٠٢٤)
- ٦- يحل فصل الشتاء على الوطن العربي عندما تتعامد الشمس على (مدار الجدى - دائرة الاستواء - مدار السرطان - خط جرينتش) (بورسعيد ٢٠٢٤)
- ٧- تسقط أمطار موسمية صيفية على دولة (لبنان - سوريا - تونس - اليمن) (الشرقية ٢٠٢٤)

السؤال الثالث: اكتب كلمة (صواب) أمام العبارة الصحيحة، وكلمة (خطأ) أمام العبارة غير الصحيحة:

- ١- تقع ليبيا في الجناح الإفريقي للوطن العربي. () (الجيزة ٢٠٢٤)
- ٢- توجد كنيسة القيامة في دولة الأردن. () (دمياط ٢٠٢٤)
- ٣- كان رحلات العرب التجارية رحلة الصيف إلى الشام. () (الإسكندرية ٢٠٢٤)
- ٤- أول عمل قام به الرسول ﷺ بعد الهجرة هو بناء المسجد. () (الجيزة ٢٠٢٤)
- ٥- نقل علي بن أبي طالب ﷺ مقر الخلافة إلى الكوفة في العراق بدلًا من المدينة. () (الإسكندرية ٢٠٢٤)
- ٦- أنشأ الخليفة عمر بن الخطاب ﷺ ديوان الجند. () (المنيا ٢٠٢٤)
- ٧- توجد واحة عين صالح في دولة ليبيا. () (القليوبية ٢٠٢٤)
- ٨- تُعد التعرية المائية من العوامل الباطنية التي تشكل سطح الأرض. () (الشرقية ٢٠٢٤)
- ٩- تعرف المناطق البعيدة عن تأثير البحر بالمناطق القارية. () (الشرقية ٢٠٢٤)
- ١٠- تربي الأغنام والماعز في المناخ المداري. () (البحيرة ٢٠٢٤)

السؤال الرابع: اكتب ما تشير إليه العبارات الآتية:

- ١- تناقص قدرة الأراضي الزراعية على الإنتاج. (القليوبية ٢٠٢٤)
- ٢- نقص كمية الأمطار بما لا يسمح بالزراعة ونمو الحشائش. (الحيزة ٢٠٢٤)
- ٣- أكبر الدول العربية من حيث المساحة. (الحيزة ٢٠٢٤)
- ٤- الصلح الذي عقد بين قريش والمسلمين عام (٦ هـ). (دمياط ٢٠٢٤)
- ٥- أمر بإنشاء أول أسطول بحرى فى الإسلام. (الإسكندرية ٢٠٢٤)
- ٦- إقليم يقع فى جنوب الوطن العربى. (القليوبية ٢٠٢٤)

السؤال الخامس: صوب ما تحته خط:

- ١- توجد جبال طوروس فى جنوب الوطن العربى. (بنى سويف ٢٠٢٤)
- ٢- ساد النظام الملكى فى شبه الجزيرة العربية عند ظهور الإسلام. (دمياط ٢٠٢٤)
- ٣- انتصر المسلمون على قريش وحلفائها دون قتال فى غزوة أحد. (القليوبية ٢٠٢٤)
- ٤- الصيف ممطر على سواحل البحر المتوسط. (الحيزة ٢٠٢٤)

السؤال السادس: بم تفسر...؟

- ١- الأهمية الاقتصادية الكبيرة لموقع الوطن العربى. (الإسماعيلية ٢٠٢٤)
- ٢- هجرة المسلمين إلى الحبشة. (الإسكندرية ٢٠٢٤)
- ٣- هزيمة المسلمين فى غزوة أحد. (الشرقية ٢٠٢٤)
- ٤- اختار المسلمون أبا بكر خليفة ﷺ لهم بعد وفاة الرسول ﷺ. (القليوبية ٢٠٢٤)
- ٥- تكون السهول الفيضية بالوطن العربى. (كفر الشيخ ٢٠٢٤)
- ٦- يقل تأثير المسطحات المائية على مناخ الوطن العربى. (المنيا ٢٠٢٤)
- ٧- سقوط الأمطار صيفاً على جنوب غرب اليمن. (الشرقية ٢٠٢٤)

السؤال السابع: ما النتائج المترتبة على ...؟

- ١- زيادة إيذاء قريش للمسلمين. (الحيزة ٢٠٢٤)
- ٢- إنشاء أول أسطول بحرى فى الإسلام. (القاهرة ٢٠٢٤)
- ٣- تعامد الشمس على مدار السرطان فى وطننا العربى. (بنى سويف ٢٠٢٤)
- ٤- مشكلة التصحر فى وطننا العربى. (بنى سويف ٢٠٢٤)

السؤال الثامن: دلل على صحة العبارات الآتية:

- ١- تسامح النبي ﷺ مع أهل مكة. (المنيا ٢٠٢٤)
- ٢- السهول الساحلية بالوطن العربى متنوعة الموارد والاستخدامات. (الشرقية ٢٠٢٤)
- ٣- تختلف الصور النباتية فى الإقليم الصحراوى بالوطن العربى. (الإسماعيلية ٢٠٢٤)

المفردات

(١) اكتب وقارن:

اكتب جملة تشرح فيها الفرق بين كل مصطلحين مما يلي، ثم قارن بين جملتك وجملة زميل لك.

(أ) السهول الساحلية والسهول الفيضية

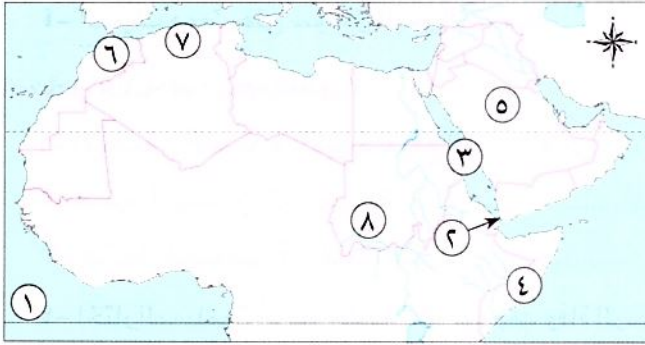
(ب) المهاجرون والأنصار

(ج) التصحر والجفاف

أسئلة على الخرائط والصور

(٢) اقرأ وأجب:

(١) اكتب مدلول الأرقام على خريطة الوطن العربي:



١- المحيط

٢- مضيق

٣- البحر

٤- أكثر الدول العربية تعرضًا للجفاف

٥- دولة عربية خططت لإنشاء مدينة نيوم

٦- إقليم المناخ

٧- جبال

٨- إقليم المناخ

(ب) لخص الأهمية الاقتصادية لموقع وطننا العربي.

التفكير الناقد

(٣) فكروا أجب:

(١) ما النتائج المترتبة على...؟

١- تحكم الوطن العربي في ممرات مائية مهمة

٢- فتح المسلمين لمكة

٣- تنوع مظاهر سطح الوطن العربي

(ب) بَمَ تفسّر...؟

- ١- أهمية صحيفة «المدينة» التي وضعها النبي ﷺ
- ٢- هجرة المسلمين إلى الحبشة
- ٣- نقل مقر الخلافة إلى الكوفة في عهد الخليفة علي بن أبي طالب
- ٤- تعرض مساحات واسعة في الوطن العربي لخطر التصحر
- ٥- اعتدال مناخ المناطق الساحلية في الوطن العربي
- ٦- الأهمية الاقتصادية للأودية الجافة

(ج) دَلِّ على صحة العبارات التالية:

- ١- تسامح النبي ﷺ مع أهل مكة
- ٢- كان لظهور الإسلام أكبر الأثر في حياة سكان شبه الجزيرة العربية
- ٣- لموقع الوطن العربي أهمية حضارية وثقافية

(د) اشرح العلاقة بين كل مما يلي:

- ١- التضاريس والمناخ
- ٢- الحركات الباطنية والجبال

السؤال الرئيسي

(٤) ما أهم الملامح الطبيعية لوطننا العربي؟ وكيف ظهر الإسلام وانتشرين أرجاء وطننا العربي؟

نشاط

(٥) صمّم مطوية للتعريف بالخلفاء الراشدين، بحيث تتضمن نبذة عن نشاطهم، وأهم أعمالهم خلال فترة الخلافة، وأهم القيم التي تمسكوا بها.

الموارد والتنمية

المحور

الثاني



مقدمة المحور الثاني

• يتناول المحور الثاني الموارد الطبيعية والأنشطة الاقتصادية في وطننا العربي، والتي تتمثل في: الزراعة والثروة الحيوانية والسمكية والصناعة والتجارة والسياحة.

سوف نستكشف

• كيف استثمرت الدول العربية مواردها لدعم الأنشطة الاقتصادية، وجهودها من أجل تحقيق التنمية المستدامة في مجالات الأنشطة المختلفة؟

السؤال الرئيسي

ما أهم الموارد الطبيعية والأنشطة الاقتصادية في وطننا العربي؟ وكيف يمكن تحقيق التنمية المستدامة في مجالات الأنشطة الاقتصادية المختلفة؟

الموارد والأنشطة الاقتصادية في وطننا العربي

الوحدة

الثالثة



الدرس الأول: الزراعة في وطننا العربي. الدرس الثاني: الثروة الحيوانية والسمكية في وطننا العربي.

الدرس الثالث: التعدين والصناعة في وطننا العربي.

الدرس الرابع: السياحة في وطننا العربي. الدرس الخامس: التجارة في وطننا العربي.

هيئات مؤثرة في المجتمع العربي: المنظمة العربية للتنمية الزراعية - المنظمة العربية للسياحة.

المفاهيم الرئيسية:

- الصناعات الاستخراجية.
- الصناعات التحويلية.
- الصناعات الخضراء.
- السياحة الثقافية.
- السياحة الترفيهية.
- السياحة الدينية.
- السياحة العلاجية.
- سياحة المؤتمرات والمعارض.
- السياحة البيئية.
- السياحة الرياضية.
- سياحة التسوق.
- التجارة البينية العربية.
- التجارة الدولية/الخارجية.
- التجارة الإلكترونية.

أبرز المواقع:

- واحتا العين وليوا.
- واحا سيوة.
- الأقصر.
- بابل.
- تدمر.
- القيروان.
- المسجد الحرام.
- المسجد الأقصى.
- كنيسة القيامة.
- دير سانت كاترين.



المعلمة الشرح

الدرس الأول الزراعة في وطننا العربي



تفاعل

تعد الزراعة نشاطاً اقتصادياً رئيسياً في بعض الدول العربية، فهل تعرف مقومات الزراعة في الوطن العربي؟ وما أهم المحاصيل الزراعية فيه؟

تعلم

مقومات الزراعة في الوطن العربي

• يمتلك وطننا العربي العديد من المقومات التي ساعدت على قيام الزراعة فيه **دلل**، حيث تنقسم إلى:

مقومات بشرية

مقومات طبيعية

السوق

وسائل
النقل

رأس
المال

الأيدي
العاملة المدربة

تنوع
المناخ

التربة
الخصبة

موارد
المياه العذبة

أولاً المقومات الطبيعية

١ موارد المياه العذبة

- تتنوع موارد المياه العذبة في الوطن العربي **بم تفسر** حيث تتمثل في:
 - ١- الأنهار: نهر النيل في مصر والسودان، ونهرى دجلة والفرات في العراق.
 - ٢- المياه الجوفية (الآبار والعيون): في الواحات في الصحارى العربية **مثل**: واحة سيوة في مصر وواحة ليوا في الإمارات.
 - ٣- مياه الأمطار: تقوم عليها الزراعة كما في: الأجزاء الشمالية في وطننا العربي واليمن وجنوب موريتانيا.

٣ تنوع المناخ

٢ التربة الخصبة

- تنوع المناخ ما النتائج المترتبة على **بم** يؤدي إلى تنوع المحاصيل الزراعية.
- التربة الخصبة الموجودة على جانبي الأنهار.

ثانياً المقومات البشرية

١ الأيدي العاملة

٢ رأس المال

٣ وسائل النقل

٤ السوق

- توافر الأيدي العاملة المدربة.
- أهمية رأس المال **بم تفسر**
 - إقامة المشروعات الزراعية.
 - شراء الآلات الزراعية والبذور والأسمدة.
- أهمية وسائل النقل **بم تفسر**
 - لازمة لنقل:
 - ما تحتاج إليه الزراعة من مواد مختلفة.
 - المنتجات الزراعية إلى مناطق الاستهلاك.
- زاد الطلب على المنتجات الزراعية في الأسواق المحلية والعالمية.



• نستنتج من الخريطة السابقة أن المحاصيل الزراعية تتنوع في وطننا العربي، ومنها:

التمور	محاصيل الألياف	المحاصيل السكرية	الحبوب الغذائية
• تحتل مصر المركز الأول في إنتاجها.	• القطن • الكتان • يتركز إنتاجها في: دولتي السودان ومصر.	• قصب السكر • بنجر السكر تحتل مصر المركز الأول في إنتاجها.	• القمح • الأرز • الذرة تحتل مصر المركز الأول في إنتاجها.
			
• بالإضافة إلى: • الموالح • العنب • الموز • التين • الزيتون تنتشر زراعتها في: مصر والعراق وفلسطين.			• تتركز زراعته في اليمن.
			

سؤال

(١) أكمل العبارات الآتية بما يناسبها من كلمات:

١- من المقومات الطبيعية للزراعة في الوطن العربي..... و.....

٢- تحتل مصر المركز..... في إنتاج التمور في الوطن العربي.

(ب) بم تفسر...؟ أهمية رأس المال للزراعة في الوطن العربي.

أهمية الزراعة للوطن العربي

• للزراعة أهمية كبيرة في وطننا العربي **بم** تفسر **ق** حيث إنها:

توفر المواد الخام
الزراعية اللازمة
للصناعة.

توفر المنتجات الغذائية
للسكان وكذلك
للحيوانات.

مصدر أساسي للدخل
القومي لبعض الدول
العربية.

توفر فرص عمل لسكان
وطننا العربي؛ حيث بلغت
نسبة العاملين بها
نحو ١٥ % من إجمالي
القوة العاملة.



المشكلات التي تواجه الزراعة في الوطن العربي

• تتعدد المشكلات التي تواجه الزراعة في الوطن العربي **دلل** **ق** حيث يوجد العديد من المشكلات مثل:

الجفاف

زحف الرمال

التصحر

تذبذب كمية
الأمطار

ندرة المياه
العذبة

جهود بعض الدول العربية لتحقيق التنمية الزراعية

• تبذل بعض الدول العربية جهودًا لتحقيق التنمية الزراعية **دلل** **ق** حيث قامت بـ:

إنشاء السدود والخزانات وتحلية مياه البحر.

معالجة مياه الصرف الصحي واستخدامها في الزراعة.

استصلاح الأراضي الصحراوية.

استخدام الأسمدة العضوية.

استنباط أنواع جديدة من البذور تستطيع التكيف مع التغيرات المناخية.

تدريب العاملين في النشاط الزراعي على استخدام الطرق الحديثة في
الزراعة، واستحداث نظم جديدة في الزراعة الرقمية.



• أعلنت منظمة الأغذية والزراعة للأمم المتحدة «الفاو» مواقع للتراث الزراعي العالمي في الوطن العربي وهي:



واحة سيوة في مصر.



واحة العين وليوا في دولة الإمارات.

و

• تشتهر تلك الواحات بزراعة أنواع مميزة من النخيل.

المنظمة العربية للتنمية الزراعية

• تحتفل الدول العربية **بيوم الزراعة العربي** يوم ٢٧ سبتمبر من كل عام

بمناسبة بدء المنظمة العربية للتنمية الزراعية أداء مهامها عام ١٩٧٢م.

- **أنشأت الدول العربية المنظمة العربية للتنمية الزراعية** **بم** **تفسر**

تم إنشاؤها بهدف:

- تطوير الأنشطة المتعلقة بالتنمية الزراعية على المستوى العربي.

- تحقيق التكامل الزراعي العربي.

- تلبية احتياجات الدول العربية من السلع الزراعية.

- العمل على رفع جودة المنتجات الزراعية العربية للمنافسة في الأسواق العالمية.

تبنّت المنظمة العربية للتنمية الزراعية في الاحتفال بيوم الزراعة العربي لعام ٢٠٢٢م شعار «نحو تكامل

زراعي لاستدامة الأمن الغذائي والتغلب على التحديات المعاصرة».

استكشف وراجع

استكشف:

- تتجه الدول العربية إلى الزراعة الرقمية (الإلكترونية)، والتي تستخدم أجهزة الاستشعار من بُعد، والذكاء

الاصطناعي، والروبوتات، وغيرها من التقنيات الحديثة. استخدم شبكة المعلومات الدولية (الإنترنت)،

وابحث عن دور الزراعة الرقمية في تحسين إنتاج الغذاء، وناقش ما توصلت إليه مع زملائك.

راجع: ١- لخص مقومات قيام الزراعة في الوطن العربي بأسلوبك الخاص.

٢- فسّر أهمية الزراعة في الوطن العربي.

٣- وضح أهم المشكلات التي تعاني منها الزراعة في الوطن العربي.



تأسست عام ١٣٩٢هـ - ١٩٧٢م

(لنتعمق في الفهم)

(أ) اقرأ وأجب:

نص إثرائي

نماذج عربية رائدة في مجال التنمية الزراعية

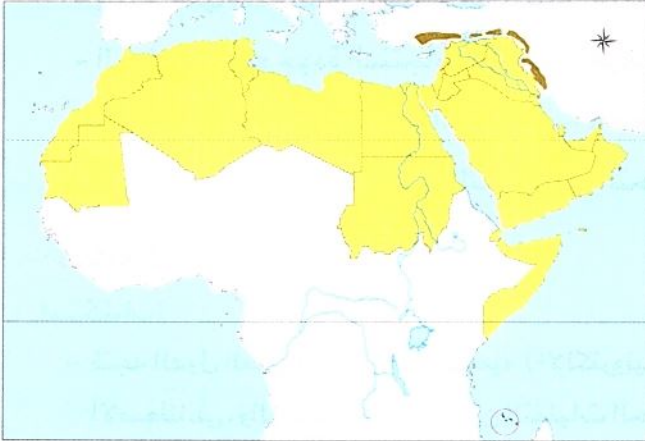
تعمل الدول العربية على تطوير نظم الزراعة من أجل تحقق الأمن الغذائي للمواطنين والحفاظ على الموارد الطبيعية؛ فقد اتجهت بعض الدول إلى استخدام نظام الري بالرش لتوفير المياه العذبة المستخدمة في الزراعة كما في مصر والسعودية، وأيضاً قامت بعض الدول العربية مثل مصر والإمارات وفلسطين بإنشاء مزارع لزراعة الخضراوات بدون تربة وهو ما يُعرف بالزراعة المائية والتي تستهلك كمية مياه أقل بنحو ٨٠٪ من الزراعة المعتمدة على التربة، بالإضافة إلى أنه يمكن تربية الأسماك في تلك المياه، وتُعد مخلفات الأسماك سماداً طبيعياً يساعد على نمو النبات، وبالتالي يتم إنتاج محاصيل غذائية صحية خالية من الأسمدة الكيماوية.

١- في رأيك، ما أهمية تطوير النظم الزراعية في الوطن العربي؟

٢- إذا كانت لديك مزرعة، فما النظام الزراعي الذي تفضل استخدامه (نظام الزراعة المعتمدة على التربة أم نظام الزراعة المائية)؟ ولماذا؟

٣- بالاستعانة بشبكة المعلومات الدولية (الإنترنت) ابحث عن جهود الدول العربية في مجال تطوير الزراعة، ولخصها.

(لنعمل على الخريطة)



(ب) اقرأ وأجب:

١- اقرأ الدرس مرة أخرى، ثم وزع على

الخريطة التي أمامك مناطق زراعة كل من

المحاصيل التالية:

القمح، القطن، قصب السكر، البن،

وذلك باستخدام رموز من ابتكارك.

وابحث عن سبب تركيز زراعتها في تلك

المناطق.

٢- بالاستعانة بخريطة تضاريس الوطن العربي صفحة ٥٦، وخريطة الأقاليم المناخية في الوطن العربي ص ٧٨،

توقع إحدى المناطق التي يمكن إقامة مشروع زراعي فيها، موضحاً المقومات اللازمة لإقامة هذا المشروع.

● (التكامل مع المهارات المهنية وتكنولوجيا المعلومات والاتصالات)

(ج) الدراسات الاجتماعية في حياتي اليومية:

مشروع الصغير:

تخيّل أنك تمتلك قطعة أرض في إحدى الصحارى العربية، وتبلغ مساحتها ١٠ آلاف متر مربع وتريد استصلاحها. تعاون مع زميل لك في كتابة خطة تحدد مراحل تنفيذ المشروع، موضّحاً ما يلي:

١- المحاصيل التي ستزرعها (مع التبرير).

٢- مورد المياه العذبة المتاحة.

٣- الموارد البشرية التي تحتاج إليها (عدد المزارعين - الآلات - ...).

٤- المشكلات المتوقّعة أن تواجهها أثناء تنفيذ المشروع وكيفية التغلب عليها.

٥- العائد المتوقّع من المشروع.

بعد ذلك، صمّم عرضاً تقديمياً (power point) لخطة مشروعك.

● (التكامل مع الرياضيات)

(تحليل البيانات)

(د) اقرأ وأجب: اقرأ الجدول ثم أجب عن الأسئلة:

إنتاج القمح في الدول العربية عام ٢٠٢٠ م

الدولة	الإنتاج بالألف طن	الدولة	الإنتاج بالألف طن
الأردن	١٦,٣٩	العراق	٢١٧٧,٨٩
تونس	١٠٧٤,٩٨	عمان	٣,٥٨
الجزائر	٣٩٨١,٢٢	فلسطين	٦٩,٠٨
السعودية	٥١٧,٩١	لبنان	١٣٠,٠٠
السودان	٧٠٢,٠٠	ليبيا	١٤٠,٠٠
سوريا	١٢٢٢,٩٩	مصر	٨٣٤٨,٦٣
الصومال	١,٠٤	المغرب	٧٣٢٠,٦٢
اليمن	٩٢,٢١	موريتانيا	٨,٢٩
الوطن العربي	٢٥٧٧٢,٣٥	العالم	٧٣٣٣٨٦,١٨

١- رتّب الدول العربية المنتجة للقمح تصاعدياً.

٢- ما أكبر دولة عربية إنتاجاً للقمح؟ توفّر سبب تركيز زراعته فيها.

٣- ما نسبة إنتاج الوطن العربي من القمح بالنسبة للإنتاج العالمي؟

٤- هل يكفي إنتاج الوطن العربي من القمح حاجة السكان؟ ولماذا؟

٥- ما مقترحاتك لزيادة إنتاج الوطن العربي من القمح لتحقيق الأمن الغذائي؟

٦- صمّم رسماً بيانياً لأكبر خمس دول عربية منتجة للقمح لعام ٢٠٢٠ م.

(هـ) ١- ما أهمية الاحتفال باليوم العربي للزراعة؟

٢- ما الهدف من إنشاء المنظمة العربية للتنمية الزراعية؟

٣- استخدم شبكة المعلومات الدولية (الإنترنت)، وابحث عن بعض المشروعات الزراعية التي ساهمت المنظمة في تنفيذها في المنطقة العربية لتحقيق ذلك الشعار، ثم صمّم شعاراً ليوم الزراعة العربي للعام التالي. (التكامل مع التربية الفنية وتكنولوجيا المعلومات والاتصالات)

قيم نفسك

- ألخص مقومات الزراعة في الوطن العربي. جيد جداً جيد بحاجة إلى مجهود أكبر
- أقدم أمثلة للمحاصيل الزراعية في الوطن العربي. جيد جداً جيد بحاجة إلى مجهود أكبر
- أفسر أهمية النشاط الزراعي في الوطن العربي. جيد جداً جيد بحاجة إلى مجهود أكبر
- أقدم أمثلة لمشكلات الزراعة في الوطن العربي. جيد جداً جيد بحاجة إلى مجهود أكبر
- أعبر عن اعتزازي بجهود بعض الدول العربية لتحقيق التنمية الزراعية. جيد جداً جيد بحاجة إلى مجهود أكبر

مقومات الزراعة في الوطن العربي

مقومات طبيعية

تنوع المناخ

يؤدي إلى تنوع المحاصيل الزراعية.

التربة الخصبة

على جانبي الأنهار.

موارد المياه العذبة

الأنهار - المياه الجوفية - مياه الأمطار.

مقومات بشرية

السوق

وسائل النقل

رأس المال

الأيدي العاملة المدربة

الحبوب الغذائية القمح - الأرز - الذرة (تحتل مصر المركز الأول في إنتاجها).

أهم المحاصيل السكرية قصب السكر - بنجر السكر (تحتل مصر المركز الأول في إنتاجها).

المحاصيل الزراعية الألياف القطن - الكتان (ويتركز إنتاجها في: دولتي السودان ومصر).

التمور تحتل مصر المركز الأول في إنتاجها.

العربي البن تتركز زراعته في اليمن.

بالإضافة إلى: الموالح - العنب - الموز - التين - الزيتون، وتنتشر زراعتها في: مصر والعراق وفلسطين.

توفر المواد الخام اللازمة للصناعة.

توفر المنتجات الغذائية للسكان وكذلك للحيوانات.

مصدر أساسي للدخل القومي لبعض الدول العربية.

توفر فرص عمل.

أهمية الزراعة للوطن العربي

لحل المشكلات التي تواجه الزراعة

- إنشاء السدود والخزانات وتحلية مياه البحر.
- معالجة مياه الصرف الصحي.
- استصلاح الأراضي الصحراوية.
- استخدام الأسمدة العضوية.
- استنباط أنواع جديدة من البذور.
- تدريب العاملين في النشاط الزراعي، واستحداث نظم جديدة في الزراعة.

مشكلات الزراعة

- ندرة المياه العذبة.
- تذبذب كمية الأمطار.
- التصحر.
- زحف الرمال.
- الجفاف.



مجاب عنها

الدرس الأول

الزراعة في وطننا العربي



تدريب

السؤال الأول اكتب كلمة (صواب) أمام العبارة الصحيحة، وكلمة (خطأ) أمام العبارة غير الصحيحة:

- ١ تتنوع مصادر المياه العذبة في الوطن العربي. ()
- ٢ تقام الزراعة في الأجزاء الجنوبية بالوطن العربي اعتماداً على الأمطار. ()
- ٣ الأنهار من مصادر المياه العذبة التي ساعدت على قيام الزراعة. ()
- ٤ يتميز الوطن العربي بالطلب المتزايد على المنتجات الزراعية في الأسواق المحلية والعالمية. ()
- ٥ مصر تحتل المركز الثاني في إنتاج التمور. ()
- ٦ تحتل مصر المركز الأول في إنتاج قصب السكر وبنجر السكر. ()

المستوى الأول

السؤال الثاني أكمل العبارات الآتية:

- ١ موارد المياه العذبة بالوطن العربي من المقومات
- ٢ تشتهر واحة العين وواحة سيوة وواحة ليوا بزراعة أنواع مميزة من
- ٣ تتركز زراعة البن في الوطن العربي في دولة
- ٤ الزراعة توفر المواد الخام اللازمة لـ
- ٥ تنتشر زراعة الموز والتين في كل من
- ٦ لنقل المنتجات الزراعية إلى مناطق الاستهلاك يلزم وجود

السؤال الثالث صوب ما تحته خط:

- ١ واحة العين توجد بدولة السعودية.
- ٢ الآبار والعيون من مصادر المياه المالحة التي تسهم في قيام الزراعة.
- ٣ الأيدي العاملة المدربة من المقومات الطبيعية لقيام الزراعة.

السؤال الرابع اختر الإجابة الصحيحة مما بين الأقواس:

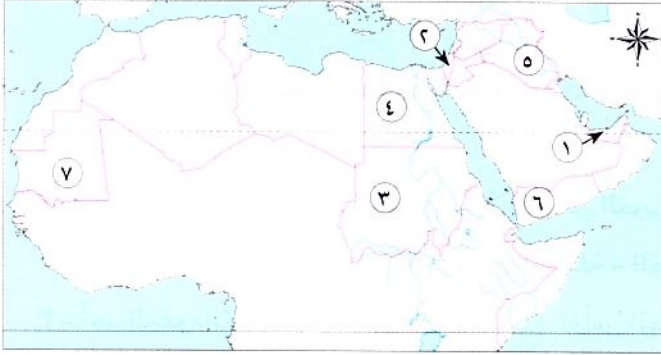
- ١ واحة مصرية تم تصنيفها كأحد مواقع التراث الزراعي العالمي هي
- (الخارجة - الداخلة - سيوة - الفرافرة)
- ٢ تعتمد الزراعة في الصحارى العربية على مياه
- (البحار - المحيطات - الأنهار - الآبار والعيون)
- ٣ تعتمد الزراعة في الأجزاء الشمالية من الوطن العربي على مياه
- (الأنهار - التحلية - الأمطار - الجوفية)
- ٤ يتركز إنتاج الألياف في الوطن العربي في دولة
- (السعودية - المغرب - ليبيا - مصر)
- ٥ تحتفل الدول العربية يوم ٢٧ سبتمبر بيوم
- (السياسة - الزراعة - الصناعة - التجارة)

المستوى الثاني

السؤال الخامس: اكتب ما تشير إليه العبارات الآتية:

- ١ أحد المقومات البشرية اللازمة لإقامة المشروعات الزراعية وشراء الآلات الزراعية. (.....)
- ٢ توجد حول مجارى الأنهار وهى من المقومات الطبيعية لقيام الزراعة. (.....)
- ٣ أحد المقومات البشرية تستخدم فى نقل المنتجات الزراعية إلى مناطق الاستهلاك. (.....)

السؤال السادس: أمامك خريطة صماء للوطن العربى، اكتب مدلول الأرقام التالية بالإجابة عن الأسئلة التالية:



- ١ دولة يتم فيها زراعة الواحات اعتماداً على المياه الجوفية.....
- ٢ دولة يزرع بها العنب.....
- ٣ دولة تتركز بها زراعة الكتان.....
- ٤ دولة تنتج التمور.....
- ٥ دولة تقوم فيها زراعة الموز.....
- ٦ دولة تتركز بها زراعة البن.....
- ٧ دولة تعتمد الزراعة فى جنوبها على مياه الأمطار.....

السؤال السابع: فسر مع ذكر السبب:

- ١ قيام الزراعة فى الأجزاء الشمالية للوطن العربى.....
- ٢ أهمية التربة الخصبة بالوطن العربى.....
- ٣ أهمية الزراعة فى الوطن العربى.....
- ٤ لجوء بعض الدول العربية لإنشاء السدود والخزانات وتحلية مياه البحر.....
- ٥ أهمية تطوير نظم الزراعة بالدول العربية.....

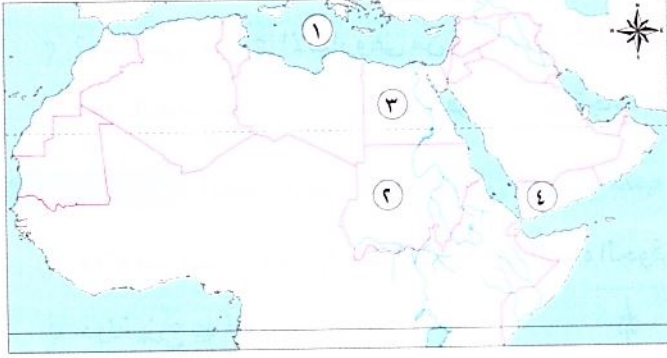
السؤال الثامن: ما النتائج المترتبة على...؟

- ١ تنوع المناخ بالوطن العربى.....
- ٢ سقوط أمطار شمال الوطن العربى.....

السؤال التاسع: أجب عن الأسئلة الآتية:

- ١ دلل على صحة العبارة الآتية: قامت الكثير من الدول العربية بجهود عديدة لمواجهة مشكلات الزراعة.....
- ٢ حدد أهداف المنظمة العربية للتنمية الزراعية.....
- ٣ اشرح اثنين من مقومات الزراعة فى الوطن العربى.....

السؤال الأول: أمامك خريطة صماء للوطن العربي، اكتب مدلول الأرقام التالية :



- ١- البحر..... (القاهرة ٢٠٢٤)
 ٢- مركز لإنتاج القطن والكتان دولة..... (القاهرة ٢٠٢٤)
 ٣- مصدر لإنتاج الحبوب الغذائية دولة..... (البحيرة ٢٠٢٤)
 ٤- يشير رقم (٤) لدولة منتجة للين..... (الدقهلية ٢٠٢٤)

السؤال الثاني: اختر الاجابة الصحيحة مما بين القوسين:

- ١- أحد محاصيل الحبوب الغذائية..... (القطن - التين - الكتان - الذرة) (القليوبية ٢٠٢٤)
 ٢- أحد المقومات البشرية لقيام الزراعة في الوطن العربي..... (الأيدى العاملة - المياه العذبة - تنوع المناخ - التربة الخصبة) (البحيرة ٢٠٢٤)
 ٣- أحد المقومات الطبيعية للزراعة..... (رأس المال - السوق - تنوع المناخ - شبكات النقل) (المنيا ٢٠٢٤)
 ٤- اليمن أولى الدول العربية في زراعة..... (البن - القمح - الأرز - البنجر) (القاهرة ٢٠٢٤)
 ٥- تشتهر واحة سيوة بزراعة..... (القمح - قصب السكر - النخيل - القطن) (الجيزة ٢٠٢٤)
 ٦- تتركز زراعة البن في دولة..... (السودان - اليمن - العراق - فلسطين) (الجيزة ٢٠٢٤)
 ٧- دولة تقوم فيها الزراعة على مياه الأنهار..... (السودان - ليبيا - قطر - الكويت) (بورسعيد ٢٠٢٤)

السؤال الثالث: اكتب كلمة (صواب) أمام العبارة الصحيحة وكلمة (خطأ) أمام العبارة غير الصحيحة:

- ١- المنظمة المسئولة عن الأغذية والزراعة هي اليونسكو. () (الشرقية ٢٠٢٤)
 ٢- تحتل مصر المركز الأول في إنتاج الحبوب الغذائية. () (البحيرة ٢٠٢٤)
 ٣- تشتهر واحة (العين) و(ليوا) في الإمارات بزراعة أنواع مميزة من النخيل. () (كفر الشيخ ٢٠٢٤)
 ٤- تكثر زراعة النخيل بواحة (العين) في المملكة العربية السعودية. () (القاهرة ٢٠٢٤)

السؤال الرابع: أكمل العبارات الآتية بكلمات مناسبة:

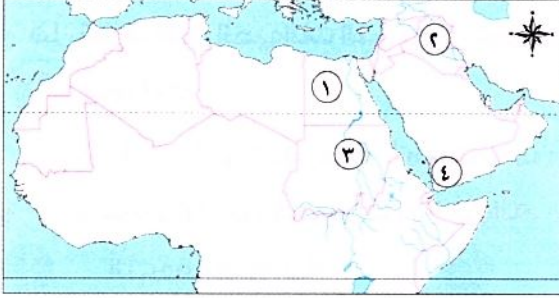
- ١- تشتهر واحة العين وليوا بزراعة أنواع مميزة من..... (البحيرة ٢٠٢٤)
 ٢- تعتمد الزراعة في اليمن وجنوب موريتانيا على مياه..... (القاهرة ٢٠٢٤)

السؤال الخامس: أجب عما يلي:

- ١- ما النتائج المترتبة على : تنوع المناخ في الوطن العربي؟ (المنيا ٢٠٢٤)
 ٢- بم تفسر: تتعرض الزراعة في وطننا العربي للكثير من المشكلات؟ (الإسماعيلية ٢٠٢٤)
 ٣- بم تفسر: قيام الزراعة في الواحات؟ (الجيزة ٢٠٢٤)



السؤال الأول: (أ) أمامك خريطة صماء للوطن العربي ، اكتب مدلول الأرقام التالية:



- ١- يشير (١) إلى دولة تنتج التمور.....
- ٢- يشير (٢) إلى دولة يزرع بها العنب
- ٣- يشير (٣) إلى دولة تتركز بها زراعة الكتان
- ٤- يشير (٤) إلى دولة تتركز بها زراعة البن

(ب) دلل على صحة العبارة الآتية:

- تتنوع موارد المياه العذبة في الوطن العربي .

السؤال الثاني: (أ) اختر الإجابة الصحيحة مما بين الأقواس:

- ١- أي من المحاصيل الآتية يُعد من الحبوب الغذائية؟ (قصب السكر - العنب - الموز - القمح)
- ٢- أحد المقومات البشرية اللازمة لإقامة المشروعات الزراعية وشراء الآلات
(الأسواق - وسائل النقل - رءوس الأموال - التربة الخصبة)
- ٣- تتنوع المحاصيل الزراعية في الوطن العربي نتيجة تنوع
(التربة - الأيدي العاملة - الأسواق - المناخ)

(ب) صنف العناصر التي أمامك إلى مقومات طبيعية ومقومات بشرية:

(المناخ - الأسواق - موارد المياه - رءوس الأموال - التربة - وسائل النقل)

مقومات بشرية	مقومات طبيعية

السؤال الثالث: (أ) اكتب كلمة (صواب) أمام العبارة الصحيحة، وكلمة (خطأ) أمام العبارة غير الصحيحة:

- ١- الوطن العربي يحتفل بيوم الزراعة العربي يوم ٢٧ سبتمبر من كل عام. ()
- ٢- تحتل مصر المركز الثاني في إنتاج قصب السكر وبنجر السكر. ()
- ٣- تشتهر واحة ليوا في الإمارات بزراعة النخيل. ()

(ب) فسر مع ذكر السبب :

- أهمية الزراعة في الوطن العربي .





الكتاب المدرسي

الدرس الثاني الثروة الحيوانية والسمكية في وطننا العربي



تفاعل



هل تعرف أهم الحيوانات التي تربي بالمرعى الطبيعية؟ وما أهميتها؟

تعلم



تشغل المرعى الطبيعية(*) ما يقرب من ثلث مساحة الوطن العربي.

كما يتميز الوطن العربي بتنوع ثرواته، مثل:

الثروة السمكية

٣

الثروة الداجنة

٢

الثروة الحيوانية

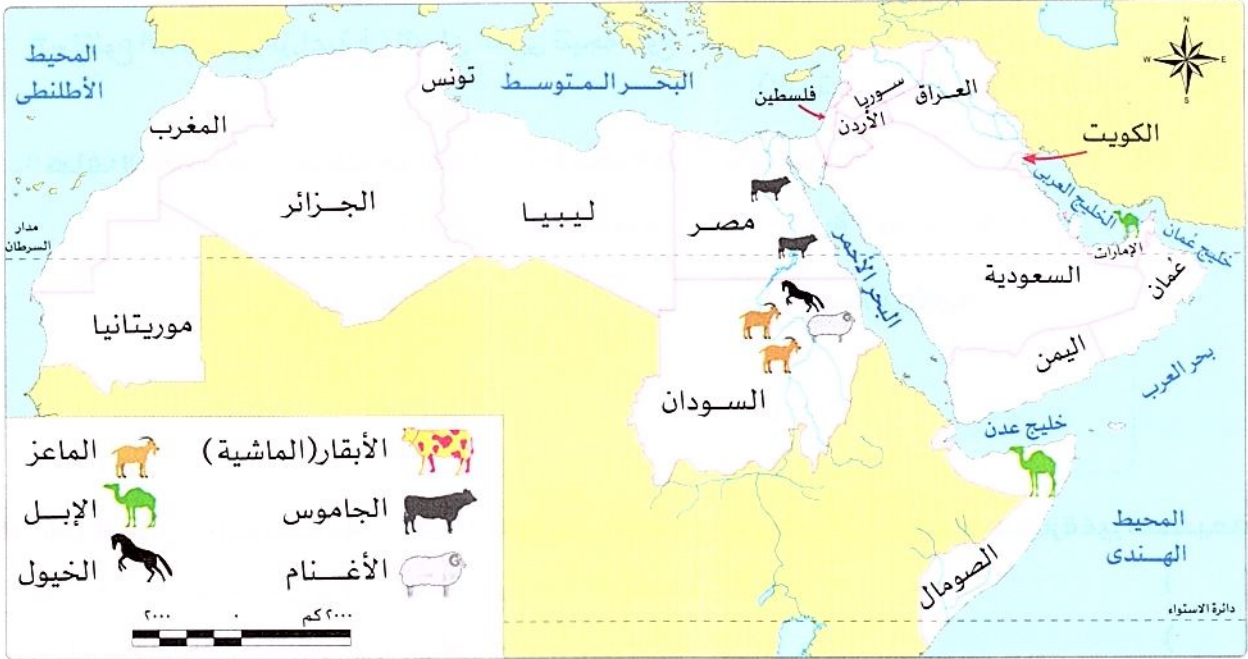
١

أولاً الثروة الحيوانية في الوطن العربي

تتنوع الثروة الحيوانية في وطننا العربي، حيث يربي:

الجاموس:

- تعد مصر أولى الدول العربية في تربية الجاموس **دليل**.
- يوجد فيها نحو ٨٥٪ من الجاموس الذي يربي في الوطن العربي، وفقاً لإحصاءات عام ٢٠٢٠ م.
- تركز تربية الجاموس في مصر **بم تفسر** لوجود البيئة الزراعية الفيزيائية المناسبة لتربيته.



الإبل:

- تُعد الصومال الأولى عربياً في تربية الإبل.



الأبقار والأغنام والماعز والخيول:

- تُعد السودان أولى الدول العربية في تربية كل من الأبقار والأغنام والماعز والخيول.

(*) المرعى الطبيعية: حشائش تنمو طبيعياً دون تدخل الإنسان وترعى بها حيوانات مختلفة.

أهمية الثروة الحيوانية في الوطن العربي

• أهمية الثروة الحيوانية في الوطن العربي **بم تفسر؟** تتمثل في:

تستخدم بعض الحيوانات في الريف بأعمال الحقل والنقل



توفر المواد الخام الحيوانية اللازمة للصناعة كالجلود والألبان واللحوم



توفر البروتين الحيواني لسكان الوطن العربي



مشكلات الثروة الحيوانية وجهود الدول العربية لتميتها

جهود الدول العربية لتنمية الثروة الحيوانية

- الاعتماد على الأساليب الحديثة في تربية الحيوانات.

- تطوير المراعى الطبيعية.

- زيادة أعداد الحيوانات ذات الإنتاجية المرتفعة من اللحوم والألبان.

- توفير الرعاية البيطرية والأعلاف.

المشكلات التي تواجه الثروة الحيوانية

- تؤثر التغيرات المناخية وما يصاحبها من قلة الأمطار وانتشار الجفاف والتصحر تأثيرًا سلبيًا على أعداد الحيوانات.

- فقر المراعى في وطننا العربي.
- الرعى الجائر للحيوانات.

- اتباع أساليب الرعى التقليدية.

- قلة الأعلاف.



سؤال

(١) اختر الإجابة الصحيحة مما بين القوسين:

١- أولى الدول العربية في تربية الجاموس (مصر - السودان - الصومال - المغرب)

٢- تشغل المراعى الطبيعية في الوطن العربي نحو مساحته. (ثمن - ربع - ثلث - نصف)

(ب) بم تفسر...؟ أهمية الثروة الحيوانية في الوطن العربي.


(ج) ما العلاقة بين...؟ التغيرات المناخية والثروة الحيوانية.

ثانياً الثروة الداجنة

- رغم تنوع الثروة الحيوانية فإن إنتاج اللحوم الحمراء لا يكفي استهلاك السكان في وطننا العربي، لذلك: - تهتم الدول العربية بتربية الدواجن به تفسر لسد العجز من اللحوم الحمراء مثل:



الحمام



الإوز



البط



الدجاج

- المغرب: تعد أولى الدول العربية في تربية الدواجن.

ثالثاً الثروة السمكية في الوطن العربي

- تسهم الثروة السمكية في سد العجز من البروتين الحيواني، حيث: توجد المصايد السمكية في (البحار - البحيرات - الأنهار - المحيطات).

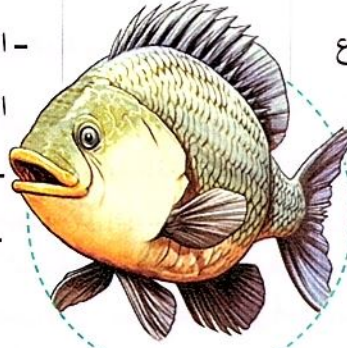
المغرب - تعد المغرب أولى الدول العربية في إنتاج الأسماك من المصايد به تفسر نظراً لطول سواحلها على البحر المتوسط والمحيط الأطلنطي.



- مصر - تعد مصر الأولى عربياً في إنتاج الأسماك من المزارع السمكية دلل .
- حيث بلغ إنتاجها نحو ٩٠٪ من جملة إنتاج المزارع السمكية في الوطن العربي.

جهود الدول العربية لتنمية الثروة السمكية

- التوسع في مشروعات الاستزراع السمكى.
- تفعيل القوانين الخاصة بالصيد.
- توفير وسائل ومعدات الصيد الحديثة وتدريب الصيادين على استخدامها.



المشكلات التي تواجه الثروة السمكية

- التغيرات المناخية تتسبب في ارتفاع درجة حرارة المسطحات المائية ونقص الأكسجين فيها، وبالتالي موت كثير من الكائنات البحرية.
- تلوث المياه.
- استخدام وسائل صيد بدائية.
- الصيد الجائر للأسماك.

سؤال

(١) اكتب كلمة (صواب) أمام العبارة الصحيحة، وكلمة (خطأ) أمام العبارة غير الصحيحة:

- ١- تُعد دولة تونس أولى الدول العربية فى تربية الدواجن. ()
- ٢- مصر أولى الدول العربية فى إنتاج الأسماك من المزارع السمكية. ()
- ٣- من المشكلات التي تواجه الثروة السمكية استخدام وسائل صيد بدائية. ()

(ب) بم تفسر...؟

١- تهتم الدول العربية بتربية الدواجن.

٢- تُعد المغرب أولى الدول العربية فى إنتاج الأسماك من المصايد.

(ج) وضح:

- اثنين من جهود الدول العربية لتنمية الثروة السمكية.

استكشف وراجع

استكشف:

- استخدم شبكة المعلومات الدولية (الإنترنت) وابحث عن جهود بعض الدول العربية فى مجال تنمية الثروة الحيوانية والسمكية، ثم ناقش معلمك وزملاءك فيما توصلت إليه.

راجع:

١- وضح سبب تركيز تربية الجاموس فى مصر.

٢- ما العلاقة بين التغير المناخى وكل من الثروة الحيوانية والسمكية فى الوطن العربى؟

نص إثرائي

التنمية المستدامة للثروة الحيوانية في مصر

تناقصت أعداد الثروة الحيوانية في الوطن العربي عام ٢٠٢٠ م بنسبة ٢,٢٪ مقارنة بأعدادها في عام ٢٠١٠ م، مما أدى إلى نقص إنتاج اللحوم والألبان وارتفاع أسعارها، لذلك أطلقت منظمة الأغذية والزراعة للأمم المتحدة (الفاو) عام ٢٠١٧ م «مبادرة التنمية المستدامة للثروة الحيوانية في إفريقيا ٢٠٥٠» في مصر بهدف تنمية الثروة الحيوانية وسد الفجوة الغذائية. كما وضعت مصر استراتيجية لتنمية الثروة الحيوانية بهدف تحقيق الاكتفاء الذاتي وتقليل الاستيراد ورفع مستوى معيشة صغار المربين والمزارعين، ومن المشروعات التي أسهمت في تنمية الثروة الحيوانية مشروع المليون رأس ماشية غرب النوبارية في محافظة البحيرة، وكذلك مشروع تسمين البتلو.

١- فسرا اهتمام مصر بتنمية الثروة الحيوانية.

٢- استخدم شبكة المعلومات الدولية (الإنترنت) للبحث عن المشكلات التي تواجه تنمية الثروة الحيوانية في الوطن العربي وجهود الدول العربية لحلها.

(ب) لاحظ وحل:

التكامل مع الرياضيات وتكنولوجيا المعلومات والاتصالات



نسب أعداد الحيوانات بالوطن العربي ٢٠٢٠ م

لاحظ الرسم البياني التالي واستعن بشبكة المعلومات الدولية (الإنترنت)، ثم أجب عن الأسئلة:

١- ما أكثر الحيوانات انتشارًا في الوطن العربي؟ ولماذا؟

٢- ما أقل الحيوانات انتشارًا في الوطن العربي؟ ولماذا؟

٣- رتب نسب أعداد الحيوانات في الوطن العربي تنازليًا.

٤- تعاون مع زملائك لكتابة مقترحات لزيادة أعداد الثروة الحيوانية في الوطن العربي، ثم صمم عرضًا تقديميًا (power point) يتضمن ملخص ما توصلتم إليه.

(الدراسات الاجتماعية في حياتي اليومية) التكامل مع المهارات المهنية

(ج) مشروع الصغیر: تخيّل أنك تريد إقامة مشروع لتربية الحيوانات وإنتاج اللحوم والألبان والجلود ولا تمتلك المال الكافي لتمويل مشروعك. اكتب خطة لمشروعك تقنع من خلالها أحد الشركاء بتوفير التمويل اللازم، وقد يكون الشريك (أشخاصًا / بنكًا / بورصة)، على أن تتضمن خطتك ما يلي:

(فكرة المشروع والهدف منه - الموارد المادية والبشرية - الدولة العربية التي ستقيم فيها مشروعك، ولماذا؟ - التحديات المتوقعة وكيفية حلها - منتجات المشروع والسوق المستهدفة - نقاط التميز في المشروع - العائد المتوقع من المشروع).

(د) لاحظ وأكمل:



١- حدد على الخريطة بعض مصايد الأسماك في الوطن العربي (البحرية - النهرية)، ثم صمم مفتاحًا للخريطة.

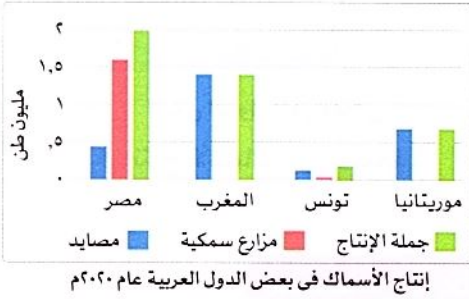
٢- «رغم طول سواحل الوطن فإن إنتاجه من الثروة السمكية لا يزال ضئيلاً». في ضوء هذه العبارة وضح أسباب تناقص إنتاج الوطن العربي من الأسماك.

٣- تعاون مع زميلك في تقديم بعض المقترحات لزيادة إنتاج الثروة السمكية في الوطن العربي.

(هـ) لاحظ وأجب:

لاحظ الرسم البياني التالي، ثم أجب عن الأسئلة.

١- حدد أولى الدول العربية إنتاجًا للثروة السمكية عام ٢٠٢٠ م من: (أ) المصايد.



(ب) المزارع السمكية.

٢- حدد أولى الدول العربية إنتاجًا للثروة السمكية من (المصايد والمزارع السمكية) معًا عام ٢٠٢٠ م.

(لنبحث عن المعرفة)

(و) ابحث واكتب:

باستخدام شبكة المعلومات الدولية (الإنترنت)، ابحث عن أهم مشروعات الاستزراع السمكي في الوطن العربي، واعرضها على زملائك.

قيم نفسك

- أقدم أمثلة للحيوانات التي تُربى في الوطن العربي. جيد جدًا جيد بحاجة إلى مجهود أكبر
- أستنتج أهم مصايد الأسماك في الوطن العربي. جيد جدًا جيد بحاجة إلى مجهود أكبر
- أشرح الأهمية الاقتصادية للثروة الحيوانية والسمكية في الوطن العربي. جيد جدًا جيد بحاجة إلى مجهود أكبر
- أعدد المشكلات التي تواجه الثروة الحيوانية والسمكية في الوطن العربي. جيد جدًا جيد بحاجة إلى مجهود أكبر
- أحلل الرسوم البيانية الخاصة بالثروة الحيوانية والسمكية في الوطن العربي. جيد جدًا جيد بحاجة إلى مجهود أكبر

الثروة الحيوانية في الوطن العربي

يُعد الصومال الأول عربياً في تربية الإبل.

يُعد السودان أولى الدول العربية في تربية كل من الأبقار والأغنام والماعز والخيول.

مصر تُعد أولى الدول العربية في تربية الجاموس.

أهمية الثروة الحيوانية في الوطن العربي

تستخدم بعض الحيوانات في الريف بأعمال الحقل والنقل.

المواد الخام الحيوانية اللازمة للصناعة كالجلود والألبان واللحوم.

البروتين الحيواني.

يُعد المغرب أولى الدول العربية في تربية الدواجن.

الدواجن

تهتم الدول العربية بتربية الثروة الداجنة لسد العجز من اللحوم الحمراء.

مصر

أولى الدول العربية في إنتاج الأسماك من المزارع السمكية.

الثروة السمكية في الوطن العربي

المغرب

أولى الدول العربية في إنتاج الأسماك من المصايد.

مشكلات الثروة الحيوانية والسمكية في الوطن العربي

مشكلات الثروة السمكية

- التغيرات المناخية تتسبب في موت كثير من الكائنات البحرية.
- استخدام وسائل صيد بدائية.
- الصيد الجائر للأسماك.
- تلوث المياه.

مشكلات الثروة الحيوانية

- التغيرات المناخية تؤثر تأثيراً سلبياً على أعداد الحيوانات.
- فقر المراعي والرعي الجائر للحيوانات.
- اتباع أساليب الرعي التقليدية.
- قلة الأعلاف.

جهود الدول العربية لحل المشكلات

حل مشكلات الثروة السمكية

- التوسع في مشروعات الاستزراع السمكي.
- تفعيل القوانين الخاصة بالصيد.
- توفير وسائل ومعدات الصيد الحديثة، وتدريب الصيادين على استخدامها.

حل مشكلات الثروة الحيوانية

- الاعتماد على الأساليب الحديثة في تربية الحيوانات.
- تطوير المراعي الطبيعية.
- زيادة أعداد الحيوانات المهجنة ذات الإنتاجية المرتفعة من اللحوم والألبان.
- توفير الرعاية البيطرية والأعلاف.



مجاب عنها

الدرس الثاني

الثروة الحيوانية والسمكية في وطننا العربي



تدريب

السؤال الأول اكتب كلمة (صواب) أمام العبارة الصحيحة . وكلمة (خطأ) أمام العبارة غير الصحيحة:

- ١ تتنوع الثروة الحيوانية في وطننا العربي. ()
- ٢ تستخدم بعض الحيوانات في وطننا العربي في أعمال الحقل والنقل. ()
- ٣ تُعد السعودية أولى الدول العربية في تربية الإبل. ()
- ٤ ترتبط الصناعة في وطننا العربي بالثروة الحيوانية. ()
- ٥ إنتاج اللحوم الحمراء يكفى استهلاك السكان في وطننا العربي. ()
- ٦ تساهم الثروة السمكية في سد العجز من البروتين الحيواني. ()

السؤال الثاني أكمل العبارات الآتية بما يناسبها من كلمات:

- ١ أكبر الدول العربية في تربية الجاموس دولة
- ٢ تُعد دولة السودان أولى الدول العربية في تربية كل من و.....
- ٣ توفر الثروة الحيوانية للصناعة المواد الخام مثل و.....
- ٤ تهتم الدول العربية بتربية الدواجن مثل و.....
- ٥ تساهم الثروة السمكية في وطننا العربي في سد العجز من
- ٦ تعتمد دولة المغرب في إنتاج الأسماك على البحر.....والمحيط.....

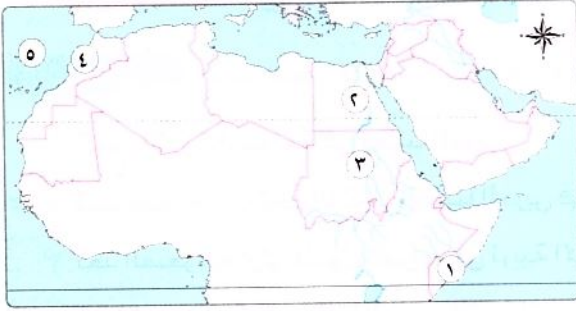
السؤال الثالث اختر الإجابة الصحيحة مما بين الأقواس:

- ١ تشغل المراعى الطبيعية في الوطن العربي نحو مساحته. (ربع - خمس - ثلث - ثمن)
- ٢ تُعد مصر الدول العربية في تربية الجاموس. (أولى - ثانية - ثالثة - رابعة)
- ٣ أولى الدول العربية في تربية الأبقار هي دولة (مصر - الجزائر - السودان - المغرب)
- ٤ أولى الدول العربية في تربية الدواجن هي دولة (السعودية - الجزائر - المغرب - مصر)
- ٥ تُعد المغرب أولى الدول العربية في إنتاج الأسماك؛ لأنها تطل على (البحر الأحمر - البحر الأسود - المحيط الأطلنطي - المحيط الهندي)
- ٦ تُعد الصومال أولى الدول العربية في تربية (الأبقار - الجاموس - الدواجن - الإبل)

المستوى الأول

المستوى الثاني

السؤال الرابع أمامك خريطة صماء للوطن العربي، ادرسها ثم أجب:



- ١ أولى الدول في تربية الإبل
- ٢ أولى الدول في تربية الجاموس
- ٣ أولى الدول في تربية الأبقار
- ٤ أولى الدول في صيد الأسماك من المصايد
- ٥ المحيط

السؤال الخامس حدد:

- ١ جهود دول وطننا العربي لتنمية الثروة الحيوانية
- ٢ جهود دول وطننا العربي لتنمية الثروة السمكية

السؤال السادس بم تفسر...؟

- ١ تُعد مصر أولى الدول العربية في تربية الجاموس
- ٢ أهمية الثروة الحيوانية في وطننا العربي
- ٣ تهتم الدول العربية بتربية الدواجن
- ٤ تُعد المغرب أولى الدول العربية في إنتاج الأسماك
- ٥ أهمية الثروة السمكية في الوطن العربي

السؤال السابع ما النتائج المترتبة على...؟

- ١ انتشار الجفاف والتصحر في الوطن العربي
- ٢ ارتفاع درجة حرارة المسطحات المائية في الوطن العربي
- ٣ تناقص أعداد الثروة الحيوانية في الوطن العربي

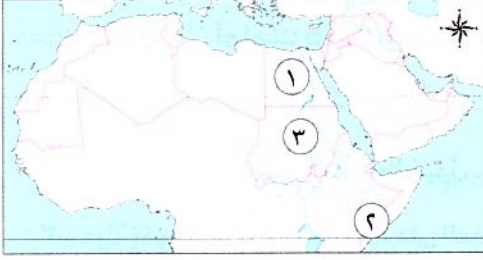
السؤال الثامن دلل على صحة العبارات الآتية:

- ١ أهمية الثروة الحيوانية في الوطن العربي
- ٢ تواجه الثروة الحيوانية والسمكية في وطننا العربي عدة مشكلات
- ٣ امتلاك المغرب سواحل طويلة بالنسبة للثروة السمكية

السؤال التاسع ما العلاقة بين...؟

- ١ التغيرات المناخية والثروة الحيوانية
- ٢ التغيرات المناخية والثروة السمكية

السؤال الأول: أمامك خريطة صماء للوطن العربي اكتب ما تشير إليه الأرقام:



- ١- أولى الدول العربية في تربية الجاموس..... (الشرقية ٢٠٢٤)
- ٢- أولى الدول العربية في تربية الإبل..... (الجزيرة ٢٠٢٤)
- ٣- أولى الدول العربية في تربية الأبقار..... (بورسعيد ٢٠٢٤)

السؤال الثاني: اختر الاجابة الصحيحة مما بين القوسين:

- ١- أولى الدول العربية في إنتاج الأسماك من المزارع السمكية.....
(المغرب - السودان - مصر - الجزائر) (القليوبية ٢٠٢٣)
- ٢- أولى الدول العربية في تربية الدواجن.....
(المغرب - مصر - السعودية - قطر) (القاهرة ٢٠٢٤)
- ٣- تُعد دولة الصومال الأولى في تربية.....
(الإبل - الأبقار - الجاموس - الأغنام) (الجزيرة ٢٠٢٤)
- ٤- تُعد المغرب أولى الدول العربية إنتاجًا للأسماك لأنها تطل على.....
(البحر الأحمر - البحر الأسود - المحيط الأطلنطي - المحيط الهندي) (الإسكندرية ٢٠٢٤)

السؤال الثالث: اكتب كلمة (صواب) أمام العبارة الصحيحة وكلمة (خطأ) أمام العبارة غير الصحيحة:

- ١- تتنوع الثروة الحيوانية في وطننا العربي. () (الشرقية ٢٠٢٤)
- ٢- المغرب أولى الدول إنتاجًا للأسماك من المزارع السمكية. () (البحيرة ٢٠٢٤)
- ٣- اليمن أولى الدول العربية في إنتاج الأسماك من المصايد السمكية. () (المنيا ٢٠٢٤)
- ٤- تُعد دولة مصر أولى الدول العربية في تربية الإبل. () (القاهرة ٢٠٢٤)
- ٥- تُعد المغرب أولى الدول العربية في إنتاج الأسماك من المصايد. () (المنوفية ٢٠٢٤)
- ٦- توفر الثروة الحيوانية الخامات اللازمة للصناعة. () (بورسعيد ٢٠٢٤)
- ٧- تكفي اللحوم الحمراء حاجة السكان في الوطن العربي. () (الجزيرة ٢٠٢٤)
- ٨- تُعد مصر أولى الدول العربية في تربية الأبقار. () (الإسكندرية ٢٠٢٤)

السؤال الرابع: أكمل العبارات الآتية بكلمات مناسبة:

- ١- تُعد المغرب أولى الدول العربية في إنتاج الأسماك من..... (القاهرة ٢٠٢٤)
- ٢- أولى الدول العربية في تربية الدواجن..... (المنيا ٢٠٢٤)
- ٣- تُعد أولى الدول العربية في تربية الجاموس دولة..... (السويس ٢٠٢٤)
- ٤- الصومال هي أكبر الدول العربية في تربية..... (الجزيرة ٢٠٢٤)

السؤال الخامس: صوب ما تحته خط:

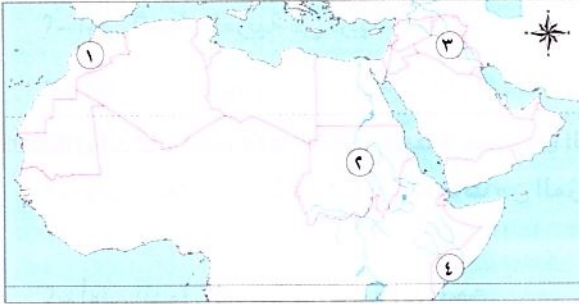
- ١- يربي الجاموس في الوطن العربي لوجود البيئة الصحراوية. (الجزيرة ٢٠٢٤)
- ٢- تُعد مصر أولى الدول العربية في إنتاج الأسماك من المصايد. (بنى سويف ٢٠٢٤)

السؤال السادس: أجب عما يلي:

- ١- ما العلاقة بين: التغيرات المناخية والثروة السمكية؟..... (الشرقية ٢٠٢٤)
- ٢- ماذا كان يحدث إذا لم تهتم الدول العربية بتنمية الثروة الحيوانية والسمكية؟..... (بنى سويف ٢٠٢٤)



السؤال الأول: (أ) أمامك خريطة صماء للوطن العربي، اكتب مدلول الأرقام التالية:



- ١- دولة عربية تشتهر بتربية الدواجن
- ٢- دول تقوم فيها تربية الماعز والخيول
- ٣- دولة تقوم فيها تربية الأسماك على المصايد النهرية
- ٤- دولة تقوم فيها تربية الإبل

(ب) بم تفسر ...؟

- تهتم الدول العربية بتربية الدواجن.

السؤال الثاني: (أ) صوب ما تحته خط :

- ١- تُعد مصر أولى الدول العربية في إنتاج الأسماك من المصايد.
- ٢- يصنف الكتان من محاصيل السكريات .
- ٣- تعمل الدول العربية على تنمية الثروة السمكية من خلال تطوير المراعى الطبيعية.
- ٤- تُعد أولى الدول العربية في تربية الدواجن دولة تونس.

(ب) ما النتائج المترتبة على ...؟

- قلة الأمطار في الوطن العربي.

السؤال الثالث : اكتب كلمة (صواب) أمام العبارة الصحيحة، وكلمة (خطأ) أمام العبارة غير الصحيحة:

- ١- تؤثر التغيرات المناخية تأثيراً إيجابياً على أعداد الحيوانات. ()
- ٢- تُعد أولى الدول العربية في تربية الجاموس دولة مصر. ()
- ٣- تعتمد الزراعة في اليمن على الأنهار. ()
- ٤- تُعد السودان أولى الدول العربية في تربية الأبقار والماعز. ()
- ٥- وسائل النقل من العوامل الطبيعية لقيام الزراعة. ()





المعلم العربي

الدرس الثالث

التعدين والصناعة في وطننا العربي



تفاعل



يلعب كل من التعدين(*) والصناعة دوراً رئيساً في اقتصاد وطننا العربي، ما أهم المعادن والصناعات التي يشتهر بها الوطن العربي؟

تعلم



لقد وهب الله تعالى الوطن العربي ثروة معدنية ومصادر طاقة متنوعة ومنتشرة بجميع أنحاء الوطن العربي ما النتائج المترتبة على ذلك مما أدى إلى تقدم الصناعة.

المعادن ومصادر الطاقة في الوطن العربي

يملك الوطن العربي الكثير من المعادن:



خريطة المعادن ومصادر الطاقة في الوطن العربي

نستنتج من الخريطة السابقة مناطق استخراج المعادن والمواد الخام في الوطن العربي.

الذهب	خام الفوسفات
يبلغ إنتاج الوطن العربي نحو ٣٪ من جملة الإنتاج العالمي.	بلغ إنتاج وطننا العربي منه نحو ربع الإنتاج العالمي.
تحتل السودان المرتبة الأولى في الإنتاج عربيًا تليها مصر .	يعد المغرب أول الدول العربية إنتاجاً له.
يستخدم في صناعة الحلى. تستخدم ذرات الذهب في علاج بعض الأمراض.	يستخدم في صناعة الأسمدة والمبيدات.

(*) التعدين: هو استخراج المعادن ومصادر الطاقة من باطن الأرض.



الحديد

احتلت **موريتانيا** المرتبة الأولى في إنتاجه عربياً.

الدول

يُستخدم في كثير من الصناعات الثقيلة والمنشآت والكبارى.

الأهمية

مصادر الطاقة في الوطن العربي

• إن وطننا العربي غني أيضاً بمصادر الطاقة؛ حيث يوجد:

أولاً مصادر الطاقة غير المتجددة

البترو



• يُنتج الوطن العربي أكثر من **ربع** الإنتاج العالمي.

• تأتي **المملكة العربية السعودية** كأولى الدول العربية إنتاجاً له.

الغاز الطبيعي



• يُنتج الوطن العربي نحو **17%** من الإنتاج العالمي للغاز الطبيعي.

• تأتي **قطر** في المرتبة الأولى عربياً.

ثانياً مصادر الطاقة المتجددة



• يتوسع الوطن العربي في إنتاج الطاقة المتجددة، مثل:

- الطاقة الكهرومائية. - الطاقة الشمسية.

- طاقة الرياح. - الهيدروجين الأخضر.

سؤال

(أ) أكمل العبارات الآتية بما يناسبها من كلمات:

١- دولة عربية تحتل المرتبة الأولى في إنتاج الحديد.....

٢- تحتل دولة قطر المرتبة الأولى في الوطن العربي في إنتاج.....

(ب) بم تفسر...؟ الأهمية الاقتصادية للحديد.

الصناعة في الوطن العربي

مقومات الصناعة:

• إن وطننا العربي لديه مقومات عديدة لإقامة صناعة عربية **دلل** ومنها:


توفر الأيدي العاملة الماهرة	مصادر الطاقة	المواد الخام
الأسواق	رأس المال	شبكات النقل والمواصلات

أنواع الصناعة:

• تنقسم الصناعة في الوطن العربي إلى:

صناعات تحويلية

يتم من خلالها تحويل المواد الخام لتصبح منتجات صالحة للاستخدام، **مثل** صناعة الحديد والصلب.



صناعات استخراجية

تتمثل في استخراج المعادن ومصادر الطاقة **مثل** استخراج الذهب والبتروول.



أهم الصناعات

• تتعدد الصناعات في الوطن العربي **دلل** حيث توجد:

صناعة الأسمنت



(تعد **السعودية** أولى الدول العربية إنتاجاً له).

صناعة الحديد والصلب



(تحتل **مصر** المركز الأول في إنتاجها عربياً).

بالإضافة إلى: • صناعة البتروكيمياويات. • تكرير البتروول. • صناعة المنسوجات. • الصناعات الغذائية

أهمية الصناعة:



- تُعد الصناعة من أهم الأنشطة الاقتصادية في الوطن العربي **بم** تفسير **ج** لأنها:
 - تسهم بثالث الدخل القومي في الوطن العربي.
 - توفر فرص عمل حيث يعمل فيها نحو ٢٢٪ من حجم القوة العاملة في الوطن العربي.

المشكلات التي تواجه مجال التعدين والصناعة في الوطن العربي

- يواجه وطننا العربي بعض المشكلات في مجال التعدين والصناعة **دلل** **ج** ومنها:

نفاذ بعض مصادر الطاقة غير المتجددة كالبتروك في المستقبل.

الاعتماد على الصناعات الاستخراجية.

بُعد مناطق الإنتاج عن مناطق الاستهلاك

استيراد الآلات والمعدات من الخارج.

جهود الدول العربية لتنمية التعدين والصناعة

- تبذل الدول العربية جهودًا لتنمية التعدين والصناعة **دلل** **ج** مثل:




١ الاهتمام بالتعليم والبحث العلمي في مجال التعدين والصناعة.

٢ تحديث البنية التحتية وزيادة الاعتماد على مصادر الطاقة النظيفة.

٣ إنشاء مدن ومناطق صناعية ذكية.

٤ استخدام التكنولوجيا الحديثة.

نماذج رائدة في التنمية الصناعية



- توجد نماذج رائدة في التنمية الصناعية كما في: **مصر والإمارات والسعودية وقطر** حيث تعمل هذه الدول على: **التوسع في الصناعة الخضراء.**
- ويجب علينا شراء المنتجات العربية لدعم الصناعة والاقتصاد العربي.

ما المقصود بالصناعة الخضراء

ما المقصود

- هي الصناعة التي تعتمد على الاستثمار الأمثل للموارد المتجددة والحد من المخلفات وإعادة التدوير للتقليل من التأثير السلبي للصناعة على الصحة والبيئة.

استكشف وراجع

- **استكشف**:- مستعيناً بشبكة المعلومات الدولية (الإنترنت) وبالتعاون مع زملائك، ابحث عن نماذج للمدن الصناعية الذكية في الوطن العربي، ولخص مواصفات هذه المدن وأهميتها في تحقيق التنمية المستدامة.
- **راجع**: ١- قارن بين كل من الحديد والذهب والفوسفات من حيث الأهمية الاقتصادية والدول العربية المنتجة.
- ٢- حدّد مشكلات التعدين والصناعة في الوطن العربي وكيفية التغلب عليها.

(التكامل مع الرياضيات)

(١) تحليل البيانات:

أكمل واحسب: اقرأ الدرس مرة أخرى، ثم أكمل الجدول التالي وأجب عن الأسئلة:

المورد	الإنتاج العربي	أولى الدول العربية إنتاجاً له	إنتاج أولى الدول العربية	نسبة إنتاج الدولة من الإنتاج العربي
الذهب (طن)	٩٩	السودان	٥٧	$\% ٥٨ = ١٠٠ \times \frac{٥٧}{٩٩}$
الحديد (مليون طن)	٩		٧,٩	$= ١٠٠ \times \frac{٧,٩}{٩}$
الفوسفات (مليون طن)	٥٩,٢		٣٤,٣	
البترو (مليون برميل / يوم)	٢٢,٩		٩,٢	
الغاز الطبيعي (مليار م ^٣)	٦٦١		٢٠٧	

١- اكتب أولى الدول العربية إنتاجاً لكل مورد.

٢- احسب نسبة إنتاج أولى الدول من الإنتاج العربي.

٣- اختر أحد الموارد في الجدول، وابحث عن المشكلات التي تواجه إنتاجه في الوطن العربي.

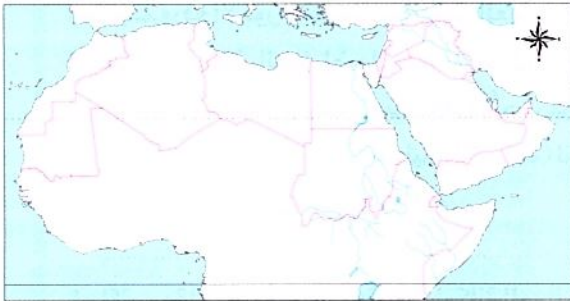
(لنعمل على الخريطة)

(ب) صمم ووزع:

١- صمّم مفتاحاً للخريطة يتضمن رمزاً مناسباً لكل مما يلي: الحديد - الذهب - الفوسفات - البترول - الغاز الطبيعي.

٢- وزّع الرمز الخاص بكل مورد من الموارد السابقة على الخريطة وفقاً لأولى الدول العربية إنتاجاً له.

٣- سجل استخدامات كل مورد من الموارد السابقة.



اسم المورد	استخداماته
١-	
٢-	
٣-	
٤-	
٥-	

(ج) لاحظ وأجب:

نص إثرائي

(لنتعمق في الفهم)

الصناعة والتغير المناخي

أدرجت التنمية الصناعية المستدامة والشاملة ضمن أهداف التنمية المستدامة لعام ٢٠٣٠ م، نظرًا لما لحق بالبيئة من آثار سلبية نتيجة للمخلفات الناتجة عن عملية التصنيع التقليدية مما أدى إلى زيادة حدة التغير المناخي لذلك شهدت الصناعة تطورًا هائلًا، فظهر ما يُعرف بالصناعات الخضراء. في ضوء الفقرة السابقة، أجب عما يلي:

- ١- استنتج العلاقة بين الصناعة والتغيرات المناخية.
- ٢- تعاون مع زملائك في اختيار إحدى الصناعات وتتبع تأثيرها على المناخ والبيئة، وجهود الدول العربية في مواجهة هذه التأثيرات ولخص ما توصلتم إليه.

(د) اقرأ وقيّم:

اقرأ القرارات التالية التي اتخذتها بعض الدول العربية، واستعن بالمعلومات المتاحة على شبكة المعلومات الدولية (الإنترنت)، وقيّم كل قرار. حدّد: هل تتفق مع القرار؟ ولماذا؟

تتجه الدول العربية إلى التوسع في الصناعات الخضراء لحماية البيئة والتخفيف من حدة التغير المناخي.

قررت منظمة الدول المصدّرة للبترول (أوبك) خفض إنتاج النفط، وأرجعت ذلك إلى السعي للحفاظ على توازن سوق النفط العالمي.

لتسهيل الاستثمار وضعت بعض الدول العربية أنظمة جديدة تسمح للمستثمرين الأجانب بامتلاك نسبة كبيرة من مشاريع التعدين.

تركز الكثير من الدول العربية على تطوير صناعة تقنية المعلومات، والأجهزة الإلكترونية، والاتصالات.

التكامل مع اللغة العربية والتربية الفنية وتكنولوجيا المعلومات والاتصالات

(الكتابة الإبداعية)

(هـ) اكتب وصمم:

نص إثرائي

عيد العمال

يوم العمال العالمي أو عيد العمال، هو احتفال سنوي يُقام في دول عديدة احتفاءً بالعمال، وذلك في الأول من مايو من كل عام. ويعود عيد العمال في أصله إلى عام ١٨٦٩ م عندما طالب العمال في الولايات المتحدة الأمريكية بتحسين أحوالهم ورفع الأجور وتخفيض ساعات العمل. وقد أصدرت منظمة العمل العربية العديد من الاتفاقيات لتنظيم الجوانب المتعلقة بالعمل لضمان حقوق العمال ومنها اتفاقيات بشأن المرأة العاملة، وأخرى بشأن تأهيل وتشغيل ذوي الاحتياجات الخاصة. في ضوء هذه الفقرة، أجب عن الأسئلة التالية:

- ١- استخدام شبكة المعلومات الدولية (الإنترنت) لتحديد أهم الأحداث التي جعلت العالم يتخذ يوم الأول من مايو من كل عام عيدًا للعمال منذ عام ١٨٦٩ م.

- ٢- اكتب مقالًا تعبر فيه عن احترامك لمكانة العمال ودورهم في المجتمع.

٣- صمّم مُلصقًا للتوعية بدور العمال في نهضة الأمم.

٤- استخدم الموقع الإلكتروني لمنظمة العمل العربية، واختر إحدى اتفاقيات العمل العربية، ولخص ما جاء بها، وتبادل مع زملائك ما توصلتم إليه.

(الدراسات الاجتماعية في حياتي اليومية)

(و) فكروا و أجب:

فكّر في ثلاثة منتجات عربية تستخدمها، ثم عدّد المكونات والقطاعات الصناعية التي أنتجتها.

المنتج	مكونات المنتج والقطاعات الصناعية التي أنتجته
مثال: برطمان صلصة الطماطم	الطماطم: قطاع الزراعة. معجون الطماطم: قطاع الصناعات الغذائية. جسم البرطمان: قطاع الزجاج. غطاء البرطمان: قطاع المعادن. غلاف البرطمان: قطاع الورق، وقطاع الحبر، وقطاع الطباعة.
١-	
٢-	
٣-	

(التفكير الناقد)

(ز) اقرأ و أجب:

نص إثرائي

التنمية الصناعية والطاقة النظيفة

لقد تم اختيار مدينة العبور لتأهيلها كمدينة مستدامة صديقة للبيئة لتوفر عدد من المقومات فيها، حيث تتوفر فيها المرافق والبنية التحتية، وهي مدينة سكنية صناعية، وتوجد فيها صناعات كبرى ومتوسطة وصغيرة من قطاعات صناعية متنوعة يمكن إعادة توجيهها لتصبح صناعات خضراء يُحتذى بها.

- ١- استنتج سبب اختيار مدينة العبور كمدينة مستدامة صديقة للبيئة.
- ٢- بالتعاون مع زملائك، استعن بشبكة المعلومات الدولية (الإنترنت)، وابحث عن الشروط الواجب توافرها في المنطقة الصناعية الخضراء.
- ٣- تخيّل أنك كلّفَت بإنشاء مدينة صناعية، حدد في أي المحافظات يمكن إنشاؤها، مبررًا إجابتك.

قيم نفسك

- أقدم أمثلة لأهم المعادن، ومصادر الطاقة، والصناعات في الوطن العربي. جيد جدًا جيد بحاجة إلى مجهود أكبر
- أفسر أهمية الصناعة في الوطن العربي. جيد جدًا جيد بحاجة إلى مجهود أكبر
- أحدّد أهم المشكلات التي يعاني منها قطاع التعدين والصناعة في الوطن العربي. جيد جدًا جيد بحاجة إلى مجهود أكبر
- أشرح جهود الدول العربية في مجال التنمية الصناعية. جيد جدًا جيد بحاجة إلى مجهود أكبر
- أعبر عن دعمي للمنتجات العربية. جيد جدًا جيد بحاجة إلى مجهود أكبر

ملخص الدرس

الدرس الثالث

الذهب	الحديد	الفوسفات
نسبة إنتاجه	نحو ربع الإنتاج العالمي.	نحو ربع الإنتاج العالمي.
الدول	السودان - مصر.	المغرب.
استخداماته	يستخدم في صناعة الحلوى. تستخدم ذرات الذهب في علاج بعض الأمراض.	يستخدم في صناعة الأسمدة والمبيدات.

مصادر الطاقة

مصادر الطاقة المتجددة

• يتوسع وطننا العربي في إنتاج الطاقة المتجددة كالطاقة الكهرومائية، الطاقة الشمسية، طاقة الرياح، الهيدروجين الأخضر.

مصادر الطاقة غير المتجددة

الغاز الطبيعي

يُنتج الوطن العربي نحو ١٧٪ من الإنتاج العالمي. أولى الدول إنتاجًا: قطر.

البتروول

يُنتج الوطن العربي أكثر من ربع الإنتاج العالمي. أولى الدول إنتاجًا: المملكة العربية السعودية.

الصناعة في الوطن العربي

أهميتها

- تسهم بثلث الدخل القومي.
- توفر فرص عمل، حيث يعمل بها ٢٢٪ من إجمالي القوة العاملة بالوطن العربي.

أنواعها

- **استخراجية** استخراج المعادن ومصادر الطاقة.
- **تحويلية** تحويل المواد الخام لتصبح منتجات صالحة للاستخدام.

مقوماتها

- المواد الخام - المعادن - مصادر الطاقة.
- الأيدي العاملة الماهرة - رأس المال - شبكات النقل والمواصلات - الأسواق.

جهود الدول العربية لتنمية التعدين والصناعة

الاهتمام بالتعليم والبحث العلمي.
زيادة الاعتماد على مصادر الطاقة النظيفة.
إنشاء مدن ومناطق صناعية ذكية.
استخدام التكنولوجيا الحديثة.

مشكلات التعدين والصناعة

استيراد الآلات والمعدات من الخارج
بُعد مناطق الإنتاج عن مناطق الاستهلاك
الاعتماد على الصناعات الاستخراجية
نفاذ بعض مصادر الطاقة غير المتجددة



مجاب عنها

الدرس الثالث

التعدين والصناعة في وطننا العربي



تدريب

السؤال الأول أكمل العبارات الآتية:

- ١ المواد الخام من المقومات اللازمة لقيام
- ٢ معدن يستخدم في الصناعات الثقيلة والمنشآت
- ٣ صناعة يتم من خلالها تحويل المواد الخام إلى منتجات؛ يقصد بذلك الصناعة
- ٤ تهتم الدول العربية في مجال التعدين والصناعة ب.....
- ٥ التنمية الصناعية المستدامة أدرجت ضمن أهداف

المستوى الأول

السؤال الثاني اكتب كلمة (صواب) أمام العبارة الصحيحة، وكلمة (خطأ) أمام العبارة غير الصحيحة:

- ١ يفتقر الوطن العربي للمقومات اللازمة للصناعة. ()
- ٢ تسهم الصناعة بنحو نصف الدخل القومي للوطن العربي. ()
- ٣ يتوسع الوطن العربي في إنتاج الطاقة المتجددة مثل الطاقة الكهرومائية. ()
- ٤ يخلو الوطن العربي من المشكلات في مجال التعدين والصناعة. ()
- ٥ قامت بعض الدول العربية بإنتاج الطاقة المتجددة مثل الهيدروجين الأخضر وطاقة الرياح. ()
- ٦ اتجهت الدول العربية إلى إنشاء المدن الصناعية الذكية. ()

السؤال الثالث اكتب ما تشير إليه العبارات الآتية:

- ١ معدن ينتج منه الوطن العربي ٣٪ من جملة الإنتاج العالمي، ويدخل في صناعة الحلبي. (.....)
- ٢ دولة عربية تحتل المركز الأول عربياً في إنتاج الذهب. (.....)
- ٣ وصل إنتاج الوطن العربي منه نحو ربع الإنتاج العالمي. (.....)
- ٤ مصدر للطاقة بلغ إنتاج الوطن العربي منه نحو ١٧٪ من الإنتاج العالمي. (.....)
- ٥ نشاط اقتصادي يعمل فيه نحو ٢٢٪ من إجمالي القوة العاملة في الوطن العربي. (.....)

المستوى الثاني

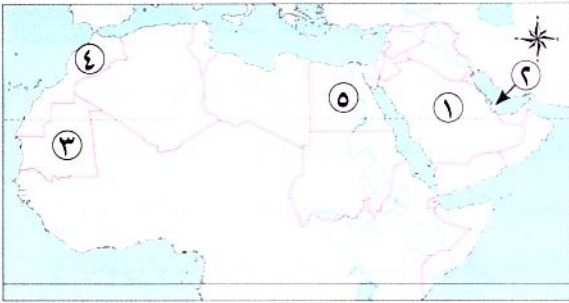
السؤال الرابع صوب ما تحته خط:

- ١ يحتل السودان المرتبة الأولى عربياً في إنتاج الحديد.
- ٢ يدخل الفوسفات في صناعة الطائرات.
- ٣ تُعد دولة المغرب الأولى عربياً في إنتاج الذهب.
- ٤ السعودية تحتل المركز الأول في إنتاج الفوسفات على مستوى العالم.
- ٥ الصناعة التحويلية تعنى استخراج المعادن ومصادر الطاقة.
- ٦ تحتل المركز الأول في صناعة الحديد والصلب في الوطن العربي دولة اليمن.
- ٧ تأثرت البيئة إيجابياً بالصناعة.

السؤال الخامس: اختر الإجابة الصحيحة مما بين الأقواس:

- ١ يستخدم في صناعة المبيدات الحشرية (الحديد - المنجنيز - الفحم - الفوسفات)
- ٢ دولة عربية تحتل المرتبة الأولى في إنتاج الحديد (اليمن - ليبيا - موريتانيا - مصر)
- ٣ تحتل مصر المركز الثاني عربياً في إنتاج معدن (الألومنيوم - الذهب - الحديد - الفوسفات)
- ٤ ينتج الوطن العربي من البترول أكثر من الإنتاج العالمي. (نصف - ثلث - ربع - عشر)
- ٥ تأتي قطر في المركز الأول عالمياً في إنتاج (البترول - الغاز الطبيعي - الحديد - الفوسفات)
- ٦ تُعد مصر الدولة الأولى عربياً في صناعة (الحديد والصلب - البلاستيك - السيارات - الطائرات)

السؤال السادس: أمامك خريطة صماء للوطن العربي، اكتب مدلول الأرقام التي عليها:



- ١ أولى الدول إنتاجاً للبترول
- ٢ أولى الدول إنتاجاً للغاز الطبيعي
- ٣ أولى الدول العربية إنتاجاً للحديد
- ٤ أولى الدول المنتجة للفوسفات
- ٥ أولى الدول في صناعة الحديد والصلب

السؤال السابع: بم تفسر...؟

- ١ الأهمية الاقتصادية للذهب.

.....

- ٢ الأهمية الاقتصادية للفوسفات.

.....

- ٣ تُعد الصناعة من أهم الأنشطة الاقتصادية للوطن العربي.

.....

- ٤ اتجهت الدول العربية إلى الصناعة الخضراء.

.....

السؤال الثامن: أجب عما يلي:

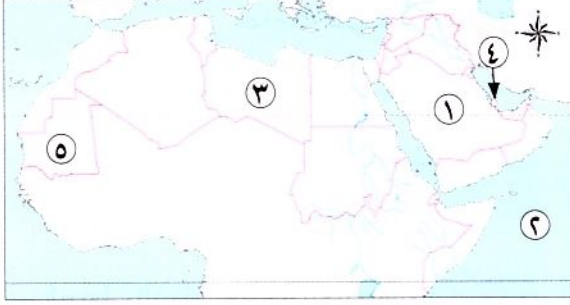
- ١ دلل: تبذل الدول العربية جهوداً لتنمية مجالى التعدين والصناعة.

.....

- ٢ ما النتائج المترتبة على...؟ توسع الدول العربية فى الصناعة الخضراء.

.....

السؤال الأول: أمامك خريطة صماء للوطن العربي اكتب ما تشير إليه الأرقام:



- ١- أولى الدول المنتجة للبترول (الشرقية ٢٠٢٤)
- ٢- المحيط (القاهرة ٢٠٢٤)
- ٣- دولة (المنوفية ٢٠٢٤)
- ٤- أولى الدول إنتاجًا للغاز الطبيعي (بورسعيد ٢٠٢٤)
- ٥- أولى الدول إنتاجًا للحديد (الإسكندرية ٢٠٢٤)

السؤال الثاني: اختر الإجابة الصحيحة مما بين القوسين:

- ١- تصنع المبيدات والأسمدة من (الحديد - النحاس - الفضة - الفوسفات) (البحيرة ٢٠٢٤)
- ٢- دولة عربية تحتل المركز الأول في إنتاج الذهب هي (مصر - السودان - السعودية - المغرب) (الجيزة ٢٠٢٤)
- ٣- أحد مصادر الطاقة المتجددة في الوطن العربي (البترول - طاقة الرياح - الفحم - الغاز الطبيعي) (الدقهلية ٢٠٢٤)
- ٤- أولى الدول العربية إنتاجًا للبترول هي (مصر - السودان - ليبيا - السعودية) (المنيا ٢٠٢٤)

السؤال الثالث: أكمل العبارات الآتية:

- ١- دولة تحتل المرتبة الثانية بالوطن العربي إنتاجًا للذهب (دمياط ٢٠٢٤)
- ٢- أولى الدول العربية إنتاجًا للبترول هي (الشرقية ٢٠٢٤)
- ٣- معدن تستخدم ذراته في علاج بعض الأمراض (الجيزة ٢٠٢٤)
- ٤- يُعد استخراج المعادن ومصادر الطاقة كالبترول من الصناعات (الإسكندرية ٢٠٢٤)

السؤال الرابع: اكتب ما تشير إليه كل عبارة:

- ١- معدن يستخدم في الصناعات الثقيلة والمنشآت والكبارى. (.....) (القليوبية ٢٠٢٤)
- ٢- صناعة تعتمد على الاستثمار الأمثل للموارد المتجددة. (.....) (الجيزة ٢٠٢٤)

السؤال الخامس: صوب ما تحته خط:

- تأتي دولة قطر في المرتبة الأولى عربيًا في إنتاج البترول. (الجيزة ٢٠٢٤)

السؤال السادس: قارن بين معدني الذهب والفوسفات من حيث الأهمية الاقتصادية وأهم الدول المنتجة:

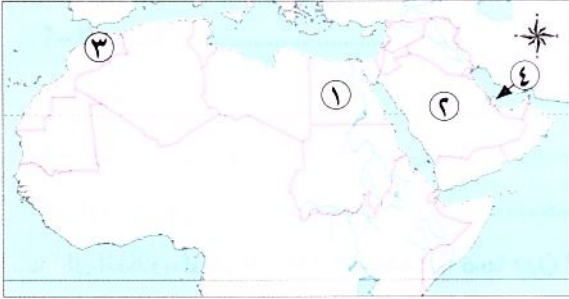
وجه المقارنة	الذهب	الفوسفات
الأهمية الاقتصادية		
أهم الدول المنتجة		

السؤال السابع: أجب عما يلي:

- ١- اكتب دليلًا واحدًا على صحة العبارة الآتية: اهتمام الدول العربية بتنمية التعدين والصناعة (الدقهلية ٢٠٢٤)
- ٢- ما المقصود ب: الصناعة التحويلية؟ (القاهرة ٢٠٢٤)



السؤال الأول: (أ) أمامك خريطة صماء للوطن العربي، اكتب مدلول الأرقام التي عليها:



- ١- أولى الدول في صناعة الحديد والصلب
- ٢- أولى الدول في صناعة الأسمنت
- ٣- أولى الدول المنتجة للفوسفات
- ٤- أولى الدول المنتجة للغاز الطبيعي

(ب) اكتب ما تشير إليه العبارة الآتية:

- صناعة تعتمد على الاستثمار الأمثل للموارد المتجددة والحد من المخلفات. (.....)

السؤال الثاني: (أ) اكتب كلمة (صواب) أمام العبارة الصحيحة، وكلمة (خطأ) أمام العبارة غير الصحيحة:

- ١- وسائل النقل من العوامل البشرية لقيام الزراعة. ()
- ٢- لدعم اقتصاد الدول العربية يجب علينا شراء المنتجات العربية. ()
- ٣- إنتاج اللحوم الحمراء يكفى استهلاك السكان في وطننا العربي. ()
- ٤- الصناعة الاستخراجية تعنى تحويل المواد الخام إلى منتجات. ()

(ب) بم تفسر...؟

- الأهمية الاقتصادية للفوسفات.

السؤال الثالث: (أ) أكمل العبارات الآتية:

- ١- قطر تُعد الدولة الأولى عربيًا في إنتاج
- ٢- يتركز إنتاج القطن والكتان في الوطن العربي في دولتي و
- ٣- نشاط اقتصادي يسهم بثلث الدخل القومي للوطن العربي

(ب) قارن بين: الحديد والفوسفات من حيث الأهمية الاقتصادية وأهم الدول المنتجة.

وجه المقارنة	الحديد	الفوسفات
الأهمية الاقتصادية		
أهم الدول المنتجة		





تفاعل



- يتميز وطننا العربي بتنوع المناطق الأثرية والسياحية الخلابة التي تجذب السائحين إليها من جميع دول العالم. ما الدولة العربية التي ترغب في زيارتها؟ وما الأماكن التي تود زيارتها فيها؟

تعلم



◀ يتمتع الوطن العربي بكافة مقومات السياحة **دلل** حيث يتوافر به:

تنوع المناطق
السياحية والتراثية.

**مقومات السياحة
في الوطن العربي**

الموقع الجغرافي الفريد
وسط قارات العالم القديم.

توفر شبكة مواصلات
جوية وبرية وبحرية متميزة.

مناخه معتدل شتاء.

تطور الفنادق
والقرى السياحية.

أنواع السياحة في الوطن العربي

- يأتي السياح إلى وطننا العربي للاستمتاع بأنواع متعددة من السياحة، **منها**:



١ السياحة الثقافية

- تشمل زيارة المواقع الأثرية والتراثية، **مثل**:
 - الأقصر في مصر.
 - بابل في العراق.
 - تدمر في سوريا.
 - القيروان في تونس.
 - المواقع الأثرية في جزيرة مروى في السودان
 - آثار تيمجاد الرومانية في الجزائر



٢ السياحة الترفيهية

- تشمل:
 - زيارة الشواطئ في مصر ولبنان والمغرب.
 - الرحلات النيلية في أسوان في مصر.



٣ السياحة الدينية

- تتمثل في زيارة الأماكن المقدسة، **مثل**:
 - المسجد الحرام في السعودية.
 - المسجد الأقصى وكنيسة القيامة في فلسطين.
 - دير سانت كاترين ومسار العائلة المقدسة في مصر.

٤ سياحة المؤتمرات والمعارض

- تتمثل في حضور المؤتمرات والمعارض الدولية.
- كما في: مصر وقطر والإمارات والسعودية.

٥ السياحة العلاجية

- تتمثل في زيارة بعض الأماكن بهدف الاستشفاء والعلاج، **مثل:**
- العيون الكبرى في سيوة (مصر). - عيون موسى في مصر.
- عين ماعين في الأردن.

٦ السياحة البيئية

- تتضمن سياحة السفارى وزيارة المحميات الطبيعية والمناطق الصحراوية مثل:
- محمية جزر الديمانيات في عُمان.

٧ السياحة الرياضية

- تتمثل في حضور المسابقات الرياضية المختلفة، **مثل:**
- بطولة كأس الأمم الإفريقية لكرة اليد في مصر عام ٢٠٢٢ م.
- كأس العالم لكرة القدم في قطر عام ٢٠٢٢ م.

٨ سياحة التسوق

- تنتشر أضخم المراكز التجارية وأحدثها **كما في:**
- الإمارات. - الكويت. - البحرين.

الأهمية الاقتصادية للسياحة:

- يعد النشاط السياحي من أهم الأنشطة الاقتصادية في وطننا العربي **بم تفسر** حيث:
- ١- يساعد على التبادل الثقافى.
- ٢- يوفر العملات الأجنبية.
- ٣- يوفر فرص عمل فى السياحة والقطاعات ذات الصلة، **مثل:** شركات الطيران والفنادق والمطاعم والمتاجر.

سؤال

(١) أكمل العبارة الآتية بما يناسبها من كلمات:

- تنتشر سياحة التسوق فى دول و..... و.....

(ب) بم تفسر...؟

- الأهمية الاقتصادية للسياحة فى الوطن العربى.....

السياحة المستدامة

- تبذل الدول العربية جهودًا لتحقيق السياحة المستدامة **دلا** حيث قامت بـ:
 - ١- تطوير البنية التحتية لقطاع السياحة.
 - ٢- تأهيل العاملين في السياحة.
 - ٣- رفع جودة الخدمات السياحية للمستوى العالمي.
 - ٤- تكثيف الحملات الإعلامية للترويج للسياحة العربية.

يوم السياحة العربي

- يتم الاحتفال بيوم السياحة العربي الموافق **٢٥ فبراير** من كل عام كما تعلن المنظمة العربية للسياحة كل عام عن اختيار إحدى المدن العربية كعاصمة للسياحة العربية. حيث كانت:
 - الإسكندرية أول مدينة تم اختيارها عام ٢٠١٠ م.
 - الدوحة في قطر اختيرت لعام ٢٠٢٣ م.

نص إثرائي



• تحرص الدول العربية على دعم السياحة المستدامة، ولذلك فهي تطبق عددًا من الإجراءات لتقليل التأثير السلبي للنشاط السياحي على البيئة، ومنها: زيادة مصادر الطاقة المتجددة، والحد من النفايات والتلوث. كما تحرص الدول العربية على الحفاظ على التراث والثقافة المحلية للسكان، وقد حصد الأردن في عام ٢٠٢٠ م المرتبة الأولى في منطقة الشرق الأوسط وإفريقيا عن جهودها لتحقيق السياحة المستدامة. وفي مدينة مراكش في المغرب، يُشجع السياح على زيارة المناطق السياحية سيرًا على الأقدام أو عبر ركوب الدراجة، ويمكنهم شراء سلع مصنوعة محليًا. وفي مصر، تم إطلاق مشروع «مدينة شرم الشيخ مدينة خضراء»، فضلًا عن حصول أكثر من ٨٠ فندقًا على شهادة النجمة الخضراء الدالة على تطبيق المعايير الدولية للسياحة المستدامة.

استكشف وراجع

- استكشف:** - بالتعاون مع زملائك وبالاستعانة بموقع المنظمة العربية للسياحة، اكتب قائمة بالمدن التي حصلت على لقب عاصمة السياحة العربية وحدد أسباب اختيارها.
- راجع:** ١- حدد المقومات الطبيعية والبشرية للسياحة في وطننا العربي.
- ٢- فسّر أهمية النشاط السياحي.
- ٣- دلل على صحة العبارة: «يستطيع السياح التمتع بأنواع متعددة من السياحة في الوطن العربي».

(لنتعمق في الفهم)

(أ) اقرأ وأجب:

اقرأ فقرة (السياحة المستدامة):

- ١- حدد الإجراءات التي تتخذها الدول العربية لدعم السياحة المستدامة.
- ٢- استنتج أهمية دعم السياحة المستدامة في الدول العربية؟
- ٣- صمم شعارًا للسياحة المستدامة، وشرح مدلول كل رمز في الشعار، وسبب اختيارك له.

التكامل مع: التربية الفنية (لنبحث عن المعرفة)

(ب) ابحث وأكمل:

يضم وطننا العربي العديد من المواقع التراثية العالمية المسجلة على قائمة التراث العالمي لليونسكو. استعن بالموقع الإلكتروني لمركز التراث العالمي التابع لمنظمة اليونسكو، وحدد بعض هذه المواقع وسجلها في الجدول التالي، موضحًا مزايا كل موقع تراثي وطرق حمايته.

الدولة	الموقع التراثي	مزايا الموقع التراثي	مقترحاتك للحفاظ على هذه المواقع التراثية
الجزائر			
الأردن			
العراق			
السعودية			
مصر			

(الدراسات الاجتماعية في حياتي اليومية)

(ج) ابحث وصمم:

التكامل مع الإعلام التربوي

تخيل أنك مالك لشركة سياحية، وترغب في تصميم كتيب مصور (ورقي / إلكتروني) للترويج لبعض المواقع التراثية والسياحية في الوطن العربي، ثم اتبع الخطوات التالية:

الخطوة الأولى: زرا الموقع الإلكتروني لمركز التراث العالمي التابع لمنظمة اليونسكو، وابحث عن المواقع التراثية الموجودة في دول الوطن العربي، والمدرجة في قائمة اليونسكو للتراث العالمي.

الخطوة الثانية: اختر أربعة مواقع تراثية من أربع دول عربية (دولتان في إفريقيا ودولتان في آسيا) على أن تتضمن قائمة اختياراتك موقعًا واحدًا من كل دولة.

١- ٢- ٣- ٤-

الخطوة الثالثة: صمم الكتيب، وصف المواقع التي اخترتها، وأضف صورًا أو خرائط.

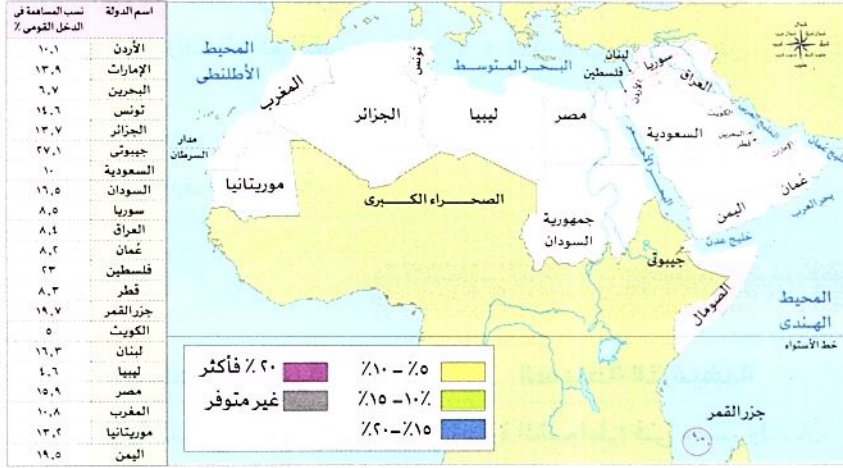
الخطوة الرابعة: اشرح التحديات التي واجهتك قبل وأثناء تصميم الكتيب.

الخطوة الخامسة: توقع أترنشر الكتيب ورقياً وإلكترونياً على مواقع التواصل الاجتماعي على شركتك.

(التفكير الناقد)

(د) تحليل البيانات: أمامك جدول يوضح نسب مساهمة قطاع السياحة في الدخل القومي في الدول العربية

عام ٢٠١٩م.



١- لَوْنُ دول الوطن العربي

في الخريطة التي أمامك مستعيناً بالجدول المرفق ومفتاح الخريطة.

٢- اقترح عنواناً للخريطة.

٣- حدد أعلى خمس دول

يسهم قطاع السياحة في دخلها القومي، وأدنى خمس دول.

(هـ) اقرأ وأجب:

١- وضعت المنظمة العربية للسياحة عدة بنود لقيم في ضوءها اختيار عاصمة السياحة العربية. اقرأ الجدول الذي يضم بعض بنود التقييم، ثم صل كل بند بعناصر التقييم المرتبطة به:

عناصر التقييم	البند
- تعدد المعالم السياحية والأثرية.	البيئة
- تزايد أعداد العاملين في السياحة.	تنوع السياحة
- الارتقاء بمستوى جودة الخدمات السياحية.	الإدارة
- تنمية الاستثمار في السياحة.	البنية التحتية
- تنوع أنماط السياحة.	الموارد السياحية
- توفير وسائل النقل والمواصلات.	
- توافر مصادر الطاقة في المنشآت السياحية.	
- توافر خدمات الاتصال.	
- حماية البيئة.	
- الحفاظ على البيئة.	

(١) رتب عناصر التقييم وفق أهميتها من وجهة نظرك. (ب) اقترح بنود تقييم أخرى يمكن إضافتها.

٢- اكتب رسالة إلكترونية باللغة العربية أو بإحدى اللغات الأجنبية إلى أصدقائك تدعوهم فيها إلى زيارة المدن التي فازت بلقب عواصم السياحة العربية منذ ٢٠١٠ م حتى الآن.

التكامل مع اللغات

قيم نفسك

- أحدد مقومات السياحة في الوطن العربي. جيد جدًا جيد بحاجة إلى مجهود أكبر
- أقدم أمثلة لأنواع السياحة في الوطن العربي. جيد جدًا جيد بحاجة إلى مجهود أكبر
- أفسر أهمية النشاط السياحي في الوطن العربي. جيد جدًا جيد بحاجة إلى مجهود أكبر
- أوضح معوقات السياحة في الوطن العربي. جيد جدًا جيد بحاجة إلى مجهود أكبر
- أشرح جهود الدول العربية لتحقيق السياحة المستدامة. جيد جدًا جيد بحاجة إلى مجهود أكبر

تنوع المناطق
السياحية والتراثية.

مقومات السياحة
في الوطن العربي

الموقع الجغرافي الفريد
وسط قارات العالم القديم.

توفر شبكة مواصلات
جوية وبرية وبحرية متميزة.

مناخه معتدل شتاء.

تطور الفنادق
والقرى السياحية.

أنواع السياحة في الوطن العربي

السياحة الدينية

تتمثل في زيارة الأماكن المقدسة،
مثل: المسجد الأقصى وكنيسة القيامة
في فلسطين، والمسجد الحرام في
السعودية، ودير سانت كاترين، ومسار
العائلة المقدسة في مصر.

السياحة الترفيهية

زيارة الشواطئ في مصر ولبنان
والمغرب، والرحلات النيلية في
أسوان في مصر.

السياحة الثقافية

تشمل زيارة المواقع الأثرية والتراثية
مثل: الأقصر في مصر، وبابل في
العراق، وتدمر في سوريا، والقيروان
في تونس.

السياحة البيئية

تتضمن سياحة السفاري وزيارة المحميات
الطبيعية والمناطق الصحراوية.

سياحة المؤتمرات والمعارض

تتمثل في حضور المؤتمرات والمعارض
الدولية، وتزدهر في: مصر وقطر
والإمارات والسعودية.

السياحة العلاجية

تتمثل في زيارة بعض الأماكن بهدف
الاستشفاء والعلاج، مثل: العيون
الكبريتية في سيوة وعيون موسى في
مصر، وعين ماعين في الأردن.

سياحة تسويقية

تنتشر أضحى المراكز التجارية وأحدثها كما في:
الإمارات والكويت والبحرين.

السياحة الرياضية

حضور المسابقات الرياضية المختلفة، مثل: بطولة
كأس الأمم الإفريقية لكرة اليد في مصر عام ٢٠٢٢م،
وكأس العالم لكرة القدم في قطر عام ٢٠٢٢م.



الأهمية الاقتصادية للسياحة في الوطن العربي

- ١- تساعد على التبادل الثقافي.
- ٢- توفر العملات الأجنبية.
- ٣- توفر فرص عمل في السياحة والقطاعات ذات الصلة، مثل:
شركات الطيران والفنادق والمطاعم والمتاجر.



مجاب عنها

الدرس الرابع

السياحة في وطننا العربي



تدريب

السؤال الأول اكتب كلمة (صواب) أمام العبارة الصحيحة، وكلمة (خطأ) أمام العبارة غير الصحيحة:

- ١ يأتي السياح إلى وطننا العربي للاستمتاع بأنواع متعددة من السياحة. ()
- ٢ توجد السياحة العلاجية في الوطن العربي في دولتي العراق واليمن. ()
- ٣ تنتشر سياحة التسوق في المراكز التجارية في: الإمارات والكويت والمغرب. ()
- ٤ يُعد النشاط السياحي من أهم الأنشطة الاقتصادية في الوطن العربي. ()
- ٥ السياحة الثقافية تتضمن سياحة السفاري وزيارة المحميات الطبيعية. ()
- ٦ تبذل الدول العربية جهودًا لتحقيق السياحة المستدامة. ()

السؤال الثاني أكمل العبارات الآتية بما يناسبها من كلمات:

- ١ من مقومات السياحة في الوطن العربي و.....
- ٢ يقع الوطن العربي وسط قارات العالم
- ٣ يتمتع الوطن العربي بمناخ معتدل في فصل
- ٤ يوجد بالوطن العربي أنواع متعددة من السياحة، منها السياحة والسياحة
- ٥ من مواقع السياحة الثقافية في الوطن العربي في سوريا.
- ٦ من الأماكن المقدسة في الوطن العربي و..... في مصر.
- ٧ من القطاعات ذات الصلة بالسياحة في الوطن العربي و.....

السؤال الثالث ما المقصود ب...؟

- ١ السياحة البيئية:
- ٢ السياحة الرياضية:

السؤال الرابع اختر الإجابة الصحيحة مما بين الأقواس:

- ١ يقوم السياح بزيارة المواقع الأثرية في القيروان بدولة (مصر - العراق - سوريا - تونس)
- ٢ يهدف السياح إلى زيارة بعض الأماكن للعلاج والاستشفاء مثل زيارة في دولة الأردن.
- ٣ تعتمد سياحة التسوق على زيارة أضخم المراكز التجارية وأحدثها كما في دولة
- (واحة سيوة - عيون موسى - عين ماعين - بحيرة عسل)
- (اليمن - العراق - الإمارات - ليبيا)

المستوى الأول

المستوى الثاني

- ٤ تقوم السياحة البيئية على زيارة المناطق (الزراعية - الساحلية - الصحراوية - النهرية)
- ٥ تم اختيارها كعاصمة للسياحة العربية عام ٢٠٢٣م، مدينة (دبي - الإسكندرية - الدوحة - بغداد)

السؤال الخامس اكتب ما تشير إليه العبارتان الآتيتان:

- ١ سياحة تتمثل في زيارة الشواطئ والرحلات النيلية. (.....)
- ٢ سياحة تتمثل في زيارة بعض الأماكن بهدف الاستشفاء والعلاج. (.....)

السؤال السادس صنف الأماكن السياحية التالية إلى الدولة التي تنتمي إليها في الجدول التالي:

المكان السياحي	الدولة التي ينتمي إليها	المكان السياحي	الدولة التي ينتمي إليها
١- المسجد الأقصى		٢- المسجد الحرام	
٣- دير سانت كاترين		٤- عين ماعين	

السؤال السابع دلل على صحة العبارتين الآتيتين:

- ١ يتمتع وطننا العربي بكافة مقومات السياحة.
- ٢ تبذل الدول العربية جهودًا لتحقيق السياحة المستدامة.

السؤال الثامن بم تفسر...؟

- ١ الأهمية الاقتصادية للسياحة في الوطن العربي.
- ٢ وجود السياحة الترفيهية في مصر ولبنان والمغرب.
- ٣ وجود السياحة العلاجية في مصر.
- ٤ أهمية دعم السياحة المستدامة في المنطقة العربية.

السؤال التاسع ما النتائج المترتبة على...؟

- ١ وجود عيون المياه الكبريتية في سيوة وعيون موسى.
- ٢ وجود المحميات الطبيعية والمناطق الصحراوية في الوطن العربي.

السؤال الأول: اختر الإجابة الصحيحة مما بين القوسين:

- ١- أحد أماكن السياحة الدينية في فلسطين.....
(ديرسانت كاترين - كنيسة القيامة - الكعبة المشرفة - الجامع الأزهر) (القليوبية ٢٠٢٣)
- ٢- تقوم السياحة.....على زيارة المناطق الصحراوية.
(الدينية - المؤتمرات - البيئية - الثقافية) (الحيرة ٢٠٢٤)
- ٣- زيارة شواطئ لبنان تعتبر سياحة.....
(علاجية - ترفيهية - ثقافية - بيئية) (الشرقية ٢٠٢٤)
- ٤- السياحة المعتمدة على زيارة المناطق الأثرية.....
(ترفيهية - علاجية - ثقافية - بيئية) (القاهرة ٢٠٢٤)
- ٥- يُعد حضور السياح كأس العالم لكرة القدم بقطر ٢٠٢٢ م سياحة.....
(ثقافية - ترفيهية - رياضية - بيئية) (الإسكندرية ٢٠٢٤)
- ٦- زيارة المسجد الأقصى في فلسطين سياحة.....
(ترفيهية - ثقافية - دينية - علاجية) (الجيزة ٢٠٢٤)
- ٧- مدينة مصرية تم اختيارها أول عاصمة للسياحة العربية.....
(الإسكندرية - شرم الشيخ - الغردقة - مرسى مطروح) (بورسعيد ٢٠٢٤)
- ٨- السياحة.....تتمثل في زيارة الأماكن المقدسة في وطننا العربي.
(العلاجية - الدينية - الرياضية - البيئية) (بنى سويف ٢٠٢٤)

السؤال الثاني: أكمل العبارات الآتية بما يناسبها من كلمات:

- ١- زيارة عين «ماعين» بالأردن تُعد سياحة.....
(المنيا ٢٠٢٤)
- ٢- زيارة الشواطئ في مصر ولبنان والمغرب تُعد سياحة.....
(بورسعيد ٢٠٢٤)
- ٣- زيارة عيون موسى بمصر أحد أشكال السياحة.....
(السويس ٢٠٢٤)
- ٤- زيارة الأقصر في مصر وبابل في العراق تُعد سياحة.....
(القاهرة ٢٠٢٤)

السؤال الثالث: اكتب ما تشير إليه كل عبارة:

- ١- سياحة تشمل زيارة المواقع الأثرية والتراثية. (.....) (الإسكندرية ٢٠٢٤)
- ٢- سياحة تتمثل في زيارة الأماكن المقدسة. (.....) (الشرقية ٢٠٢٤)

السؤال الرابع: اكتب كلمة (صواب) أمام العبارة الصحيحة وكلمة (خطأ) أمام العبارة غير الصحيحة:

- ١- يتميز الوطن العربي بوجود كوادربشرية مؤهلة للنشاط السياحي. () (المنيا ٢٠٢٤)
- ٢- يتمتع الوطن العربي بكافة مقومات السياحة. () (الإسكندرية ٢٠٢٤)

السؤال الخامس: دلل على صحة العبارتين الآتيتين:

- ١- يتمتع الوطن العربي بكافة مقومات السياحة. (.....) (الشرقية ٢٠٢٤)
- ٢- تبذل الدول العربية جهودًا لتحقيق السياحة المستدامة. (.....) (كفر الشيخ ٢٠٢٤)



السؤال الأول: (أ) أكمل العبارات الآتية بما يناسبها من كلمات:

- ١- زيارة المسجد الأقصى في فلسطين سياحة
- ٢- يقوم السياح بممارسة السياحة الثقافية بزيارة مدينة بدولة العراق.
- ٣- من أماكن السياحة العلاجية في الوطن العربي و

(ب) ما المقصود ب...؟

١- السياحة الثقافية.

٢- صناعة تحويلية.

السؤال الثاني: اكتب كلمة (صواب) أمام العبارة الصحيحة، وكلمة (خطأ) أمام العبارة غير الصحيحة:

- ١- تقوم السياحة الثقافية على زيارة المناطق الصحراوية. ()
- ٢- يقوم السياح بزيارة العيون الكبرى في دولة ليبيا. ()
- ٣- توجد التربة الخصبة على جانبي الأنهار. ()
- ٤- يمارس السياح السياحة الترفيهية من خلال القيام بالرحلات النيلية في أسوان. ()
- ٥- يتمتع الوطن العربي بكافة مقومات السياحة. ()

السؤال الثالث: (أ) اختر الإجابة الصحيحة مما بين الأقواس :

- ١- زيارة الشواطئ في مصر ولبنان تُعد سياحة (ثقافية - ترفيهية - بيئية - دينية)
- ٢- تشغل المراعى الطبيعية نحو مساحته. (ربيع - خمس - ثلث - ثمن)
- ٣- يحتفل الوطن العربي يوم ٢٥ فبراير من كل عام بيوم (التجارة العربية - الزراعة العربية - الرياضة العربية - السياحة العربية)

(ب) دلل على صحة العبارتين الآتيتين:

١- يتمتع وطننا العربي بكافة مقومات السياحة.

٢- تبذل الدول العربية جهوداً لتحقيق السياحة المستدامة.





تفاعل



هل تستخدم منتجًا مصنوعًا في دولة عربية أخرى غير مصر؟ وما توقعاتك بشأن العلاقات التجارية بين الدول العربية؟

تعلم



تطور التجارة بين الدول العربية

أولاً التجارة في الدولة الإسلامية

انتشرت التجارة في شبه الجزيرة العربية قبل الإسلام، وقد عمل الرسول ﷺ بالتجارة.



المراكز التجارية في الدولة الإسلامية:

- ١- جدة
- ٢- صنعاء
- ٣- البصرة
- ٤- الإسكندرية

أهمية التجارة في الدولة الإسلامية: بم تفسر؟

- ١- أسهمت التجارة في بناء الدولة الإسلامية.
- ٢- ساعدت في نشر الإسلام، لأن التجار المسلمين اتصفوا بالأخلاق الحميدة.

ثانياً التجارة في العصر الحديث

أهمية التجارة في العصر الحديث: بم تفسر؟

- ١- تسهم في تعزيز العلاقات بين الدول.
- ٢- تلبية احتياجات السكان من السلع والخدمات.
- ٣- توفر العملات الأجنبية.
- ٤- توفر فرص عمل للسكان.



أنواع التجارة العربية:

تنقسم إلى

التجارة الإلكترونية

التجارة الدولية (الخارجية)

التجارة البينية العربية

أولاً التجارة البينية العربية

ما المقصود

بالتجارة البينية العربية

• الصادرات والواردات من السلع والخدمات بين الدول العربية.

• تعاني التجارة البينية العربية من الضعف **بم** تفسر **ب** بسبب:

١ التشابه الكبير بين السلع والخدمات التي تنتجها الدول العربية.

٢ عدم تنوع الصادرات العربية.

٣ ضعف التكنولوجيا.

٤ وجود حواجز جمركية بين الدول العربية.

٥ تركز التبادل التجاري العربي مع دول الجوار. **مثال:** تستحوذ كل من الإمارات والسعودية وعمان على نحو ٩٠٪ من الصادرات البينية للبحرين.

دور الدول العربية للنهوض بالتجارة البينية

• تسعى الدول العربية إلى النهوض بالتجارة البينية العربية

دليل/ برهن **ب** يتم ذلك من خلال:

- تنوع الصادرات وتنميتها وخاصة الصادرات غير النفطية.

- تقليص الجمارك بين الدول العربية.

- إقامة المعارض الدائمة أو السنوية، والدعاية للمنتجات العربية.

- إنشاء العديد من **التجمعات العربية**.

التجمعات العربية للتجارة البينية

• قامت الدول العربية بإنشاء عدد من التجمعات للتجارة البينية **دليل** **ب**

١ منطقة التجارة الحرة العربية تشمل جميع الدول العربية باستثناء (جيبوتي - الصومال - جزر القمر - موريتانيا).

٢ اتحاد دول المغرب العربي يشمل (تونس - الجزائر - ليبيا - المغرب - موريتانيا).

حيث قامت بإنشاء

٣ مجلس التعاون لدول الخليج العربية يشمل (الإمارات - البحرين - السعودية - عمان - قطر - الكويت).

٤ دول اتفاقية أغادير تشمل (الأردن - تونس - مصر - المغرب).

سبب الاتفاقية	تم توقيع الاتفاقية العربية لتحرير التجارة في الخدمات بين الدول العربية عام ٢٠١٨ م بم تفسر لتحقيق التعاون بين دول الجامعة العربية في الشؤون الاقتصادية والمالية.
بداية تنفيذها	دخلت حيز التنفيذ عام ٢٠١٩ م.
أطراف الاتفاقية	مصر والسعودية والأردن.
الهدف منها	تعزيز وتفعيل التعاون والتكامل الاقتصادي العربي.
أهم الخدمات المتضمنة فيها	الخدمات القانونية، والمعمارية والهندسية، والفنية، والطبية، وخدمات الكمبيوتر، والبريد السريع، والنقل الجوي، وخدمات سوق المال، وخدمات التأمين.

ثانياً التجارة الدولية (الخارجية)



بالتجارة الدولية (الخارجية)

ما المقصود

• الصادرات والواردات بين دول الوطن العربي وباقي دول العالم.

الصادرات والواردات العربية للعالم

الواردات (الاستيراد)

- ١- بعض المنتجات الصناعية مثل الطائرات والسيارات والإلكترونيات.
- ٢- بعض السلع الزراعية مثل القمح والزيوت.

الصادرات

- ١- الوقود والمعادن.
- ٢- بعض المنتجات الصناعية مثل الأجهزة الكهربائية والأدوية.
- ٣- السلع الزراعية مثل الخضراوات والفاكهة.

سؤال

(أ) اكتب كلمة (صواب) أمام العبارة الصحيحة، وكلمة (خطأ) أمام العبارة غير الصحيحة:

- ١- تُعد البصرة من المراكز التجارية في الدولة الإسلامية. ()
- ٢- تنوع الصادرات العربية يؤدي إلى ضعف التجارة البينية. ()

(ب) بم تفسر...؟

١- تعاني التجارة البينية العربية من الضعف.

٢- توقيع الاتفاقية العربية لتحرير التجارة في الخدمات بين الدول العربية عام ٢٠١٨ م.

(ج) ما المقصود ب...؟

١- التجارة البينية العربية.

٢- التجارة الدولية (الخارجية).

ثالث التجارة الإلكترونية

ما المقصود بالتجارة الإلكترونية؟

المقصود



• تبادل السلع والخدمات باستخدام شبكة المعلومات الدولية (الإنترنت).

- أسباب ظهور التجارة الإلكترونية **بم تفسر؟** بسبب التطور التكنولوجي.
- نشأتها: بدأت التجارة الإلكترونية مع ظهور الإنترنت في بداية التسعينيات، وأخذت تنتشر إلى أن أصبحت جزءاً لا يتجزأ من الحياة اليومية.

◀ شروط دخول عالم التجارة الإلكترونية:

- تحديد السلعة والجمهور المستهدف.
- تصميم علامة تجارية ووسيلة التسويق الإلكترونية للسلعة.
- مميزاتها:

- تتعدد مميزات التجارة الإلكترونية **دلل؟** حيث تتيح (تسمح) للعملاء بشراء المنتجات التي يريدونها من المنزل وفي أي وقت بكل سهولة وفي أسواق ومتاجر متعددة. وبالتالي:

قللت الازدحام المروري والتلوث.

◀ مخاطرها:

- للتجارة الإلكترونية عدد من المخاطر **دلل؟** حيث قد يحدث:
- عمليات النصب والاحتيال التي قد يتعرض لها الأفراد والشركات.
- اختراق خصوصية العميل وسرقة بياناته.

◀ جهود الدول العربية لدعم التجارة الإلكترونية:

- تقوم الدول العربية بعدة جهود لدعم التجارة الإلكترونية **دلل؟** حيث قامت ب:
- إنشاء الاتحاد العربي للتجارة الإلكترونية والاتحاد العربي للاقتصاد الرقمي.
- زيادة منصات التجارة الإلكترونية. - تشجيع الشركات العربية التي تستخدم التجارة الإلكترونية.
- اتخاذ الإجراءات الأمنية لمنع اختراق الحسابات المالية للشركات.

سؤال

(١) أكمل العبارتين الآتيتين:

- ١- التجارة الإلكترونية ظهرت نتيجة
- ٢- تساعد التجارة الإلكترونية في تقليل

(ب) حدد اثنين من جهود الدول العربية لدعم التجارة الإلكترونية.

استكشف وراجع

- استكشف:** باستخدام شبكة المعلومات الدولية (الإنترنت)، ابحث عن الاتحاد العربي للاقتصاد الرقمي والاتحاد العربي للتجارة الإلكترونية، حدد أهداف ومقر كل منهما، ثم اكتب توقعاتك لدورها في نمو التجارة البينية العربية.
- راجع:** ١- بم تفسر...؟ أهمية التجارة في عصر الدولة الإسلامية. ٢- حدد معوقات التجارة البينية العربية.
- ٣- اشرح جهود الدول العربية لدعم التجارة البينية العربية والتجارة الإلكترونية.

(لنعمل على الخريطة)

(١) لاحظ وأكمل:

١- «تحرص الدول العربية على الانضمام إلى العديد من التجمعات والمنظمات لدعم التعاون الاقتصادي بينها» في ضوء هذه العبارة: لاحظ الخريطة التالية للوطن العربي، ثم صمم مفتاحاً للخريطة يتضمن رمزاً لكل تجمع عربي من التجمعات التالية:



- منطقة التجارة الحرة العربية.
 - مجلس التعاون لدول الخليج العربية.
 - اتحاد دول المغرب العربي.
 - دول اتفاقية أغادير.
- ٢- اقترح عنواناً للخريطة.
- ٣- اقترح مثلاً لتجمع عربي يمكن إقامته مع تبرير إجابتك.

(ب) حل وأجب:

لاحظ الجدول الذي أمامك وأجب عن الأسئلة:

- ١- ضع عنواناً مناسباً للجدول.
- ٢- كم تبلغ قيمة الميزان التجاري للوطن العربي؟
- ٣- حدّد حالة الميزان التجاري لوطننا العربي، مفسراً ذلك.
- ٤- حدّد دولتين يكون الميزان التجاري لهما في حالة فائض، ودولتين في حالة عجز.
- ٥- ما مقترحاتك لتحقيق فائض بالميزان التجاري لوطننا العربي؟

اسم الدولة	الصادرات (مليار دولار) عام ٢٠٢١م	الواردات (مليار دولار) عام ٢٠٢١م	اسم الدولة	الصادرات (مليار دولار) عام ٢٠٢١م	الواردات (مليار دولار) عام ٢٠٢١م
الأردن	٨,٥	٢١,٦	فلسطين	١,٤	٦,٤
الإمارات	٣١٧,٦	٢٣٥,٤	قطر	٨٧,٢	٢٧,٩
البحرين	٢٢,٣	١٧,٤	جزر القمر	٠,٤٦	٠,٣١
تونس	١٦,٦	٢٢,٤	الكويت	٦٣,١	٣١,٨
الجزائر	٣٨,٥	٣٧,٤	لبنان	٠,١	١٥,٢
جيبوتي	٣,٨	٥	ليبيا	٢٧,٩	١٥,٧
السعودية	٢٤٩,٢	١٣٩,١	مصر	٤٣,٦	٨٣,٤
السودان	٤,٢	٨,٩	المغرب	٣٢,٥	٥٥,٤
سوريا	١,٩	٥,١	موريتانيا	٣,٣	٣,٣
الصومال	----	----	اليمن	١,٨	١٠,٤
العراق	٧٣	٤٠,٨	مجموع الدول العربية	١٠٣٨,١	٨١٠,٣
عُمان	٣٧,٥	٢٦,٥			

(التفكير الناقد)

(ج) اقرأ وأجب: الاتفاقية العربية لتحرير التجارة فى الخدمات صفحة ١٦٣.

- ١- ما الخدمات التى تضمنتها الاتفاقية؟ وما الخدمات الأخرى التى تقترح إضافتها إليها فى المستقبل؟
- ٢- كيف تقنع باقى الدول العربية بالانضمام إلى هذه الاتفاقية؟
- ٣- ما العلاقة بين توقيع الاتفاقيات التجارية بين دول الوطن العربى وتحقيق التكامل الاقتصادى؟
- ٤- استعن بشبكة المعلومات الدولية (الإنترنت)، وابحث عن اتفاقيات أخرى لتحرير التجارة، محدداً أهدافها ورأيك فيها، والدول التى وقَّعت عليها.

(الكتابة الإبداعية)

اكتب وصمم:

- بالتعاون مع زملائك اكتب مقال باللغة العربية أو إحدى اللغات الأجنبية عن أهمية التجارة البينية العربية فى تحقيق التعاون والتكامل العربى.
- حدد يوماً تحت مسمى « اليوم العربى للتجارة البينية » مبرراً اختيارك لهذا التاريخ.
- صمم شعاراً وملصقاً لليوم العربى للتجارة البينية الذى اقترحه.

(د) فكر وأجب:

(الدراسات الاجتماعية فى حياتى اليومية)

- ١- تريد أختك العمل بالتجارة الإلكترونية فبم تنصحتها؟
- ٢- يريد أيمى إنشاء شركة استيراد وتصدير فى الوطن العربى، ويحتاج إلى رأيك لتحديد مجال الاستيراد والتصدير (مبرراً رأيك).
- ٣- يود أخوك إدخال الرقم السرى لبطاقة تحويل الأموال الخاصة به لشراء منتج من شركة غير معروفة.
- ٤- ما شعورك عندما يتم اختيار ٤٠ بنكاً عربياً ضمن قائمة أفضل ٥٠٠ بنك على مستوى العالم؟ وما أثر ذلك على التجارة العربية؟

(هـ) اقرأ وابحث:

التكامل مع المهارات المهنية

- ١- وضح مميزات التجارة الإلكترونية
- ٢- اشرح المخاطر التى يمكن أن تتعرض لها عند التسويق الإلكتروني.
- ٣- استخدم شبكة المعلومات الدولية (الإنترنت)، وحدد أهم احتياطات الأمن والسلامة التى يجب أن يتبعها الأفراد والشركات عند القيام ببيع وشراء منتجات.

قيم نفسك

- | | | | |
|-----------------------------------|------------------------------|---|---|
| <input type="checkbox"/> جيد جداً | <input type="checkbox"/> جيد | <input type="checkbox"/> بحاجة إلى مجهود أكبر | • أوضح أهمية التجارة فى عصر الدولة الإسلامية. |
| <input type="checkbox"/> جيد جداً | <input type="checkbox"/> جيد | <input type="checkbox"/> بحاجة إلى مجهود أكبر | • أعدد أهم الصادرات والواردات العربية. |
| <input type="checkbox"/> جيد جداً | <input type="checkbox"/> جيد | <input type="checkbox"/> بحاجة إلى مجهود أكبر | • أفسر معوقات التجارة البينية العربية. |
| <input type="checkbox"/> جيد جداً | <input type="checkbox"/> جيد | <input type="checkbox"/> بحاجة إلى مجهود أكبر | • أشرح جهود الدول العربية لتنمية التجارة البينية. |
| <input type="checkbox"/> جيد جداً | <input type="checkbox"/> جيد | <input type="checkbox"/> بحاجة إلى مجهود أكبر | • أعدد المقصود بالتجارة الإلكترونية. |

تطور التجارة بين الدول العربية عبر العصور

في العصر الحديث

- أهميتها:
- تسهم في تعزيز العلاقات بين الدول.
 - تلبية احتياجات السكان من السلع والخدمات.
 - توفر العملات الأجنبية.
 - توفر فرص عمل للسكان.

في الدولة الإسلامية

- أهم المراكز التجارية: جدة - صنعاء - البصرة - الإسكندرية.
- أهميتها:
- أسهمت التجارة في بناء الدولة الإسلامية.
 - ساعدت في نشر الإسلام في أرجاء العالم.

أنواع التجارة

تجارة دولية (خارجية)

يقصد بها الصادرات والواردات بين دول الوطن العربي وباقي دول العالم.

التعريف

تجارة بينية عربية

يقصد بها الصادرات والواردات من السلع والخدمات بين الدول العربية.

الصادرات والواردات العربية للعالم

- الصادرات: (الوقود والمعادن - بعض المنتجات الصناعية - السلع الزراعية).
- الواردات: بعض (المنتجات الصناعية - السلع الزراعية).

أسباب ضعف التجارة البينية العربية

- التشابه الكبير بين السلع والخدمات التي تنتجها الدول العربية.
- عدم تنوع الصادرات العربية.
- ضعف التكنولوجيا.
- وجود حواجز جمركية بين الدول العربية.
- تركيز التبادل التجاري العربي مع دول الجوار.

جهود الحكومات العربية لتنمية التجارة البينية

- تنوع الصادرات وتنميتها وخاصة غير النفطية.
- تقليص الجمارك بين الدول العربية.
- إقامة المعارض الدائمة أو السنوية، والدعاية للمنتجات العربية.
- إنشاء العديد من التجمعات العربية، مثل: منطقة التجارة الحرة العربية - اتحاد دول المغرب العربي - مجلس التعاون لدول الخليج العربية - دول اتفاقية أغادير.

التجارة الإلكترونية

- يقصد بها تبادل السلع والخدمات باستخدام شبكة المعلومات الدولية (الإنترنت).
- مميزاتها: - تتيح للعملاء شراء المنتجات التي يريدونها من المنزل. - قللت من الازدحام المروري والتلوث.
- مخاطرها: - عمليات النصب والاحتيال التي قد يتعرض لها الأفراد والشركات.
- اختراق خصوصية العميل وسرقة بياناته.



مجاب عنها

الدرس الخامس

التجارة في وطننا العربي



تدريب

السؤال الأول اكتب كلمة (صواب) أمام العبارة الصحيحة، وكلمة (خطأ) أمام العبارة غير الصحيحة:

- ١ بدأ انتشار التجارة في شبه الجزيرة العربية بعد ظهور الإسلام. ()
- ٢ من المراكز التجارية الإسلامية قديماً القاهرة. ()
- ٣ أسهمت التجارة في نشر الإسلام في أرجاء العالم. ()
- ٤ من مساوئ التجارة العربية انتشار البطالة. ()
- ٥ تسعى الدول العربية للنهوض بالتجارة البينية العربية. ()
- ٦ يُعد التبادل التجاري بين دولتي الإمارات والبحرين تجارة دولية. ()
- ٧ تنوع الصادرات العربية من أسباب ضعف التجارة البينية. ()
- ٨ من الواردات العربية المحاصيل الزراعية. ()

السؤال الثاني أكمل العبارات الآتية بما يناسبها من كلمات:

- ١ تسهم التجارة في الوطن العربي في توفير.....
- ٢ من المراكز التجارية العربية قديماً..... و.....
- ٣ من أسباب ضعف التجارة البينية العربية التشابه بين.....،.....
- ٤ تستحوذ كل من الإمارات والسعودية وعمان على نحو ٩٠٪ من الصادرات البينية دولة.....
- ٥ التبادل التجاري عن طريق الإنترنت يُعد تجارة.....
- ٦ لتنمية التجارة البينية العربية تقوم الدول بإنشاء..... وإقامة.....

السؤال الثالث اكتب ما تشير إليه كل عبارة من العبارتين الآتيتين:

- ١ يقصد بها الصادرات والواردات من السلع والخدمات بين الدول العربية. (.....)
- ٢ يقصد بها الصادرات والواردات بين دول الوطن العربي وباقي دول العالم. (.....)

السؤال الرابع اختر الإجابة الصحيحة مما بين الأقواس:

- ١ توفر التجارة العربية العملات..... (المعدنية - الأجنبية - المحلية - الإقليمية)
- ٢ ساعدت في نشر الإسلام قديماً حرفة..... (الزراعة - الصناعة - التجارة - السياحة)
- ٣ أي من الدول التالية تشترك في منطقة التجارة الحرة العربية؟..... (جيبوتي - الصومال - السودان - موريتانيا)
- ٤ تتمثل أعلى نسبة صادرات عربية من..... (الوقود - الإلكترونيات - السيارات - المياه)
- ٥ يعد اختراق خصوصية العميل وسرقة البيانات في التجارة الإلكترونية من..... (إيجابياتها - سلبياتها - أهميتها - أسبابها)

المستوى الأول

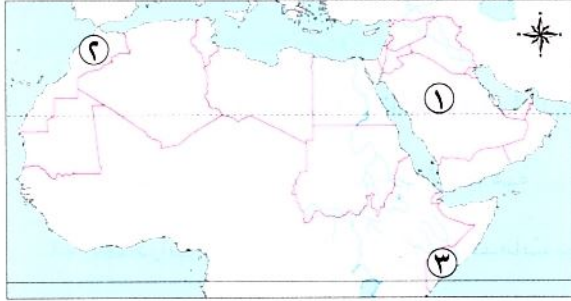
المستوى الثاني

السؤال الخامس: صنف الدول العربية التالية إلى الاتحاد المنضمة له في الجدول الآتي:

(موريتانيا - عمان - مصر - البحرين - الجزائر - الأردن)

اتحاد دول المغرب العربي	مجلس التعاون لدول الخليج العربية	دول اتفاقية أغادير
.....

السؤال السادس: أمامك خريطة للوطن العربي استخرج منها:



- ١ دولة منضمة لمجلس التعاون لدول الخليج العربية
- ٢ دولة مشتركة في اتفاقية أغادير واتحاد دول المغرب العربي
- ٣ دولة غير منضمة إلى أي اتحاد

السؤال السابع: بم تفسر...؟

- ١ أهمية التجارة بالنسبة للدولة الإسلامية قديماً
- ٢ أهمية التجارة حديثاً
- ٣ ضعف التجارة بين الدول العربية
- ٤ إنشاء العديد من التجمعات العربية
- ٥ ظهور التجارة الإلكترونية
- ٦ للتجارة الإلكترونية أهمية كبيرة

السؤال الثامن: دلل على صحة كل عبارة من العبارات الآتية:

- ١ تسعى الدول العربية للنهوض بالتجارة البينية
- ٢ للتجارة الإلكترونية عدة مخاطر
- ٣ للدول العربية جهود في دعم التجارة الإلكترونية

السؤال التاسع: أجب عن السؤالين الآتيين:

- ١ ما العلاقة بين الحواجز الجمركية والتجارة البينية؟
- ٢ اقترح طرقاً لتنشيط التجارة بين الدول العربية

المستوى الثالث -

المستوى الرابع -

السؤال الأول: اختر الإجابة الصحيحة مما بين القوسين:

- ١- أشهر المراكز التجارية قديماً..... (الإسكندرية - القاهرة - مطروح - العلمين) (البحيرة ٢٠٢٤)
- ٢- تبادل السلع والخدمات باستخدام الإنترنت تسمى..... (مقايضة - تجارة إلكترونية - تجارة خارجية - صناعة) (المنيا ٢٠٢٤)
- ٣- تتسم بالضعف بسبب التشابه بين السلع والخدمات وعدم تنوع الصادرات توضح الجملة التجارة..... (العالمية - البينية العربية - الإلكترونية - الخارجية) (القاهرة ٢٠٢٤)

السؤال الثاني: أكمل العبارات الآتية بكلمات مناسبة:

- ١- من المراكز التجارية في الدولة الإسلامية..... (السويس ٢٠٢٤)
- ٢- الصادرات والواردات من السلع والخدمات بين الدول العربية تسمى..... (الجيزة ٢٠٢٤)

السؤال الثالث: اكتب كلمة (صواب) أمام العبارة الصحيحة وكلمة (خطأ) أمام العبارة غير الصحيحة:

- ١- ضمت اتفاقية أغادير التجارية دولة الصومال. () (دمياط ٢٠٢٤)
- ٢- التبادل التجاري بين الدول العربية ضعيف. () (القاهرة ٢٠٢٤)
- ٣- يصدر الوطن العربي للعالم الوقود والمعادن. () (الجيزة ٢٠٢٤)
- ٤- تسهم التجارة في تعزيز العلاقات بين الدول. () (بورسعيد ٢٠٢٤)
- ٥- أدت الحواجز الجمركية بين الدول العربية إلى ضعف التجارة البينية. () (القليوبية ٢٠٢٤)
- ٦- تساعد التجارة الإلكترونية على خفض أسعار السلع والخدمات. () (بورسعيد ٢٠٢٤)
- ٧- التشابه بين السلع والخدمات التي تنتجها الدول العربية أدى إلى ضعف التجارة بينها. () (دمياط ٢٠٢٤)
- ٨- تتسم التجارة البينية العربية بالقوة. () (دمياط ٢٠٢٤)

السؤال الرابع: اكتب ما تشير إليه العبارتان الآتيتان:

- ١- الصادرات والواردات بين دول الوطن العربي وباقي دول العالم. (.....) (المنيا ٢٠٢٤)
- ٢- تبادل السلع والخدمات باستخدام شبكة المعلومات الدولية (الإنترنت). (.....) (المنوفية ٢٠٢٤)

السؤال الخامس: اذكر نتيجة مترتبة على:

- التشابه الكبير بين السلع والخدمات التي تنتجها الدول العربية..... (الشرقية ٢٠٢٤)

السؤال السادس: ما المقصود بـ:

- التجارة الإلكترونية؟ (البحيرة ٢٠٢٤)



السؤال الأول: (أ) أكمل العبارات الآتية بالكلمات المناسبة:

- ١- أولى الدول العربية فى تربية الإبل
- ٢- للنهوض بالتجارة البينية قامت الدول العربية بتقليص
- ٣- من أهم التجمعات العربية و

(ب) ما النتائج المترتبة على ...؟

١- وجود عيون المياه الكبريتية فى الوطن العربى .

.....

٢- تركز التبادل العربى بين الدول العربية .

.....

السؤال الثانى: (أ) صوب ما تحته خط:

- ١- تأتى دولة قطر فى المرتبة الأولى عربياً فى إنتاج البترول .
- ٢- توفر التجارة فى الوطن العربى النقد المحلى .
- ٣- البيع والشراء عبر الإنترنت يقصد به التجارة الخارجية .
- ٤- أولى الدول العربية إنتاجاً للبن السودان .

(ب) بم تفسر ...؟ أهمية التجارة فى العصر الحديث .

.....

السؤال الثالث : اختر الإجابة الصحيحة مما بين القوسين :

- ١- أى مما يلى يُعد من معوقات التجارة البينية ؟
- (تنوع الإنتاج - تنوع الصادرات - تطور التكنولوجيا - تشابه الإنتاج)
- ٢- تساعد التجارة الإلكترونية على
- (زيادة التلوث - ارتفاع الأسعار - تقليل الازدحام - إهدار الوقت)
- ٣- يدخل الحديد فى صناعة
- (أسلاك التليفون - مواد الطلاء - الكبارى والمنشآت - مواد الطلاء)
- ٤- أشهر المراكز التجارية الإسلامية قديماً هى
- (الإسكندرية - القاهرة - مطروح - العلمين)
- ٥- انضمت مصر إلى بعض التجمعات العربية ، منها
- (منطقة التجارة الحرة - اتحاد المغرب العربى - اتحاد مجلس التعاون - اتحاد جنوب شرق آسيا)





هيئات مؤثرة في المجتمع العربي



المنظمة العربية للتنمية الزراعية

النشأة: تأسست المنظمة العربية للتنمية الزراعية عام ١٩٧٢ م.

المقر: الخرطوم - عاصمة جمهورية السودان.

ومن أهدافها:

- ١- تنمية الموارد الطبيعية والبشرية في قطاعي الزراعة والثروة السمكية والأغذية.
- ٢- تسهيل تبادل المنتجات الزراعية والسمكية بين الدول العربية.
- ٣- زيادة الإنتاج الزراعي والسمكي؛ لتحقيق الاكتفاء الذاتي، مع مراعاة الاستدامة.
- ٤- دعم إقامة المشاريع والصناعات الزراعية والسمكية.
- ٥- النهوض بالمستويات المعيشية للعاملين في قطاعي الزراعة والصيد السمكي.
- ٦- الإشراف على تنفيذ برامج لمواجهة أزمات الغذاء وتعزيز الأمن الغذائي.



افهم وطبق

(أ) التفكير الناقد:

- ١- وضّح العلاقة بين أهداف المنظمة العربية للتنمية الزراعية وأهداف التنمية المستدامة (القضاء على الفقر والجوع).

.....

- ٢- في رأيك، كيف يمكن للمنظمة العربية للتنمية الزراعية تحقيق التكامل الزراعي والأمن الغذائي العربي؟

.....

(ب) تجربة شخصية:

- وضّح كيف يمكنك المساهمة في حل مشكلة الغذاء في بلدك.

.....



هيئات مؤثرة في المجتمع العربي

المنظمة العربية للسياحة

النشأة: تأسست عام ٢٠٠٤ م.

المقر: مدينة جدة - المملكة العربية السعودية.

ومن أهدافها:

١- تنمية صناعة السياحة في الدول العربية، وجذب المزيد من السياحة العالمية والسياحة العربية البينية.

٢- توفير الكوادر الفنية المؤهلة، واستثمار التراث الثقافي والمقومات السياحية الغنية في الوطن العربي.

٣- تذليل المعوقات التي تواجه الاستثمارات العربية، وإيجاد حلول لها، وذلك بهدف تنميتها وتطويرها.

٤- تنشيط البحث العلمي وتشجيعه ونشره للمساهمة في تنمية وتطوير السياحة في الوطن العربي.

٥- تبادل المعلومات والخبرات بين المستثمرين في المجال السياحي في الدول العربية.

٦- تنشيط التسويق السياحي العربي المشترك من خلال حضور المعارض والمؤتمرات العربية والدولية والمشاركة في تنظيمها.

افهم وطبق

(أ) التفكير الناقد:

١- رتب أهداف المنظمة العربية للسياحة، وفقاً لأهميتها من وجهة نظرك.

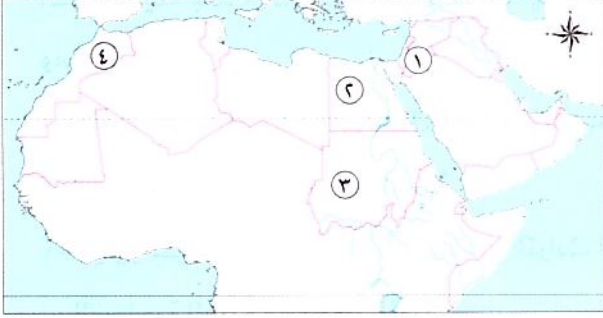
٢- تقوم المنظمة العربية للسياحة باختيار عاصمة السياحة العربية سنوياً، كما تختار سفراء للسياحة العربية من الشخصيات العامة. وضح كيف يمكن أن يسهم ذلك في الترويج للسياحة العربية.

(ب) تجربة شخصية:

- وضح كيف يمكنك الترويج للسياحة العربية في بلدك مصر.



السؤال الأول: (١) أمامك خريطة صماء للوطن العربي، اكتب مدلول الأرقام عليها:



١- دولة تنتشر فيها السياحة العلاجية حيث عين «ماعين»

٢- دولة عربية منتجة للحبوب الغذائية

٣- من الدول العربية المنتجة للقطن والكتان

٤- دولة عربية تنتج الأسماك من المصايد البحرية

(ب) ما المقصود بـ...؟

- سياحة التسوق.

السؤال الثاني: اختر الإجابة الصحيحة مما بين الأقواس:

١- تتأثر الزراعة سلبًا في الوطن العربي بسبب

(التغير المناخي - تحلية مياه البحر - تدريب الأيدي العاملة - زيادة كمية الأمطار)

٢- من أسباب ضعف التجارة البينية العربية

(رفع الحواجز الجمركية - التشابه الكبير بين المنتجات العربية - زيادة منصات التجارة الإلكترونية - إنشاء منظمة

التجارة الحرة العربية)

٣- تأتي المنتجات الصناعية في المرتبة بالنسبة للصادرات العربية. (الأولى - الثانية - الثالثة - الرابعة)

٤- أولى الدول العربية في تربية الدواجن هي دولة

٥- انضمت مصر إلى بعض التجمعات العربية منها

(منطقة التجارة الحرة العربية - اتحاد المغرب العربي - اتحاد مجلس التعاون - اتحاد جنوب شرق آسيا)

السؤال الثالث: (١) صوب ما تحته خط مما يلي:

١- تعتمد دولة المغرب في إنتاج الأسماك على البحر الأحمر والمحيط الأطلنطي.

٢- تتركز زراعة البن في دولة الهند في الوطن العربي.

٣- تتمثل أعلى نسبة صادرات عربية من السيارات.

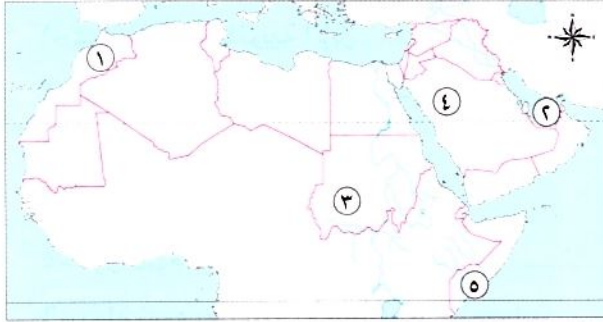
٤- تعتمد الزراعة في الصحارى العربية على مياه الأنهار.

(ب) بم تفسر...؟ تهتم الدول العربية بتربية الدواجن.





السؤال الأول: أمامك خريطة صماء للوطن العربي، اكتب مدلول الأرقام التالية:



- ١- أولى الدول العربية في إنتاج الأسماك
- ٢- دولة توجد فيها واحتان ضمن مواقع التراث الزراعي العالمي
- ٣- أولى الدول العربية إنتاجاً للذهب
- ٤- أولى دول الوطن العربي إنتاجاً للبتترول
- ٥- أولى الدول العربية في تربية الإبل

السؤال الثاني: (١) اكتب كلمة (صواب) أمام العبارة الصحيحة، وكلمة (خطأ) أمام العبارة غير الصحيحة:

- ١- تؤثر ندرة المياه في الوطن العربي على النشاط الزراعي. ()
- ٢- أولى الدول العربية إنتاجاً للفوسفات هي دولة المغرب. ()
- ٣- تساعد التجارة الإلكترونية على خفض أسعار السلع والخدمات. ()
- ٤- يأتي معظم إنتاج مصر من الأسماك من البحار. ()

(ب) اكتب نتيجة واحدة تترتب على:

- التشابه الكبير بين السلع والخدمات التي تنتجها الدول العربية.

السؤال الثالث: (١) اكتب ما تشير إليه العبارات الآتية:

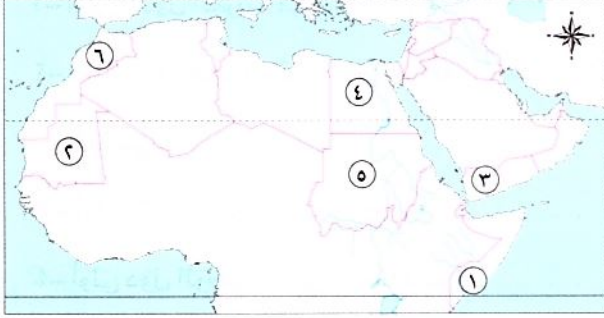
- ١- نشاط اقتصادي بلغت نسبة العاملين فيه ١٥٪ من جملة سكان الوطن العربي. (.....)
- ٢- يقصد بها الصادرات والواردات بين دول الوطن العربي وباقي دول العالم. (.....)
- ٣- تبادل السلع والخدمات باستخدام شبكة المعلومات الدولية (الإنترنت). (.....)

(ب) قارن بين: - الذهب والفوسفات من حيث الأهمية الاقتصادية وأهم الدول المنتجة لهما.

وجه المقارنة	الذهب	الفوسفات
الأهمية الاقتصادية		
أهم الدول المنتجة		



السؤال الأول: أمامك خريطة صماء للوطن العربي، اكتب مدلول الأرقام الموقعة عليها:



- ١- دولة تقوم فيها تربية الإبل.....
- ٢- أولى الدول العربية إنتاجاً للحديد.....
- ٣- دولة تتركز بها زراعة البن.....
- ٤- دولة تنتج التمور.....
- ٥- دول تقوم فيها تربية الماعز والخيول.....
- ٦- دولة تقوم بها تربية الأسماك على المصايد البحرية.....

السؤال الثاني: أكمل العبارات الآتية بما يناسبها من كلمات :

- ١- موارد المياه العذبة بالوطن العربي من المقومات.....
- ٢- أكبر الدول العربية في تربية الجاموس دولة.....
- ٣- من مقومات السياحة في الوطن العربي..... و.....
- ٤- من مواقع السياحة الدينية في الوطن العربي..... في مصر.
- ٥- من أشهر المراكز التجارية الإسلامية قديماً..... و.....
- ٦- تهتم الدول العربية في مجال التعدين والصناعة باستخدام.....
- ٧- من القطاعات ذات الصلة بالسياحة..... و.....
- ٨- تنقسم التجارة العربية إلى: تجارة..... و..... و.....

السؤال الثالث: ما المقصود ب...؟

- ١- الصناعة الخضراء:.....
- ٢- التجارة الإلكترونية:.....
- ٣- سياحة التسوق:.....

السؤال الرابع: اختر الإجابة الصحيحة مما بين القوسين:

- ١- تعتمد الزراعة في الأجزاء الشمالية من الوطن العربي على مياه..... (الأنهار - التحلية - الأمطار - الجوفية)
- ٢- تشغل المراعى الطبيعية في الوطن العربي نحو..... مساحته. (ربيع - خمس - ثلث - ثمن)
- ٣- خام يدخل في صناعة المبيدات الحشرية..... (الحديد - المنجنيز - الفحم - الفوسفات)
- ٤- يُعد حضور كأس الأمم الإفريقية لكرة اليد في مصر ٢٠٢٢م سياحة..... (ثقافية - ترفيهية - رياضية - بيئية)
- ٥- من أهم الدول في الوطن العربي في زراعة محاصيل الألياف..... (السعودية - مصر - الإمارات - اليمن)
- ٦- دولة عربية توجد بها المدينة البيئية الأولى في العالم هي..... (العراق - الكويت - المغرب - الإمارات)
- ٧- توفر التجارة العربية العملة..... (المعدنية - الأجنبية - المحلية - الإقليمية)
- ٨- وجود حواجز جمركية بين الدول العربية يُعد من أسباب..... التجارة البيئية العربية. (تنمية - ازدهار - قوة - ضعف)

السؤال الخامس: اكتب كلمة (صواب) أمام العبارة الصحيحة، وكلمة (خطأ) أمام العبارة غير الصحيحة:

- ١- يفتقر الوطن العربي إلى المقومات اللازمة للصناعة. ()
- ٢- تنتشر سياحة التسوق في المراكز التجارية في الإمارات والكويت والمغرب. ()
- ٣- إنتاج اللحوم الحمراء لا يكفي استهلاك السكان في وطننا العربي. ()
- ٤- من أسباب ضعف التجارة البينية العربية وجود حواجز جمركية. ()
- ٥- يخلو الوطن العربي من المشكلات في مجال التعدين والصناعة. ()
- ٦- يتمتع الوطن العربي بكافة مقومات السياحة. ()

السؤال السادس: اكتب ما تشير إليه العبارات الآتية:

- ١- معدن يستخدم في كثير من الصناعات الثقيلة والمنشآت والكمباري. (.....)
- ٢- نوع من أنواع السياحة تتمثل في حضور المؤتمرات والمعارض الدولية. (.....)
- ٣- أولى الدول العربية في تربية الدواجن. (.....)

السؤال السابع: بهم تفسر...؟

- ١- تُعد مصر أولى الدول العربية في تربية الجاموس.
- ٢- قيام الزراعة في الأجزاء الشمالية للوطن العربي.
- ٣- أهمية التجارة بالنسبة للدولة الإسلامية.
- ٤- الأهمية الاقتصادية للسياحة في الوطن العربي.
- ٥- تُعد الصناعة من أهم الأنشطة الاقتصادية للوطن العربي.
- ٦- أهمية الزراعة في الوطن العربي.
- ٧- أهمية الثروة السمكية في الوطن العربي.
- ٨- ضعف التجارة بين الدول العربية.
- ٩- قيام السياحة العلاجية في مصر.

السؤال الثامن: ما النتائج المترتبة على ...؟

- ١- تنوع المناخ في الوطن العربي.
- ٢- انتشار الجفاف والتصحر في الوطن العربي.
- ٣- توسع الدول العربية في الصناعة الخضراء.
- ٤- وجود المحميات الطبيعية والمناطق الصحراوية في الوطن العربي.
- ٥- وجود مناطق استشفاء من الكثير من الأمراض في الوطن العربي.

السؤال التاسع: دلل على صحة العبارتين الآتيتين:

- ١- تعدد أنواع السياحة العربية.
- ٢- تتنوع مصادر الحصول على الأسماك في الوطن العربي.

السؤال الأول: أكمل العبارات الآتية بما يناسبها من كلمات:

- ١- تعتمد الزراعة في اليمن وجنوب موريتانيا على مياه..... (القاهرة ٢٠٢٤)
- ٢- أولى الدول العربية في تربية الدواجن..... (المنيا ٢٠٢٤)
- ٣- الصادرات والواردات من السلع والخدمات بين الدول العربية تسمى..... (الجيزة ٢٠٢٤)

السؤال الثاني: اختر الإجابة الصحيحة مما بين القوسين:

- ١- أحد المقومات البشرية لقيام الزراعة في الوطن العربي.....
- ٢- (الأيدى العاملة - المياه العذبة - تنوع المناخ - التربة الخصبة) (البحيرة ٢٠٢٤)
- ٣- تتركز زراعة البن في دولة..... (السودان - اليمن - العراق - فلسطين) (الجيزة ٢٠٢٤)
- ٤- أولى الدول العربية في إنتاج الأسماك من المزارع السمكية..... (المغرب - السودان - مصر - الجزائر) (القليوبية ٢٠٢٤)
- ٥- أشهر المراكز التجارية قديماً..... (المغرب - مصر - السعودية - قطر) (القاهرة ٢٠٢٤)
- ٥- أشهر المراكز التجارية قديماً..... (الإسكندرية - القاهرة - مطروح - العلمين) (البحيرة ٢٠٢٤)

السؤال الثالث: اكتب كلمة (صواب) أمام العبارة الصحيحة، وكلمة (خطأ) أمام العبارة غير الصحيحة:

- ١- تحتل مصر المركز الأول في إنتاج الحبوب الغذائية. () (البحيرة ٢٠٢٤)
- ٢- تشتهر واحتا (العين) و(ليوا) في الإمارات بزراعة أنواع مميزة من النخيل. () (كفر الشيخ ٢٠٢٤)
- ٣- توفر الثروة الحيوانية الخامات اللازمة للصناعة. () (بورسعيد ٢٠٢٤)
- ٤- تكفى اللحوم الحمراء حاجة السكان في الوطن العربي. () (الجيزة ٢٠٢٤)

السؤال الرابع: اكتب ما تشير إليه العبارات الآتية:

- ١- الصادرات والواردات بين دول الوطن العربي وباقي دول العالم. (.....) (المنيا ٢٠٢٤)
- ٢- سياحة تتمثل في زيارة الأماكن المقدسة. (.....) (الشرقية ٢٠٢٤)
- ٣- معدن يستخدم في الصناعات الثقيلة والمنشآت والكبارى. (.....) (القليوبية ٢٠٢٤)

السؤال الخامس: أجب عما يلي:

- ١- بم تفسر...؟ تتعرض الزراعة في وطننا العربي للكثير من المشكلات..... (الإسماعيلية ٢٠٢٤)
- ٢- بم تفسر...؟ قيام الزراعة في الواحات..... (الجيزة ٢٠٢٤)
- ٣- ما النتائج المترتبة على...؟ التشابه الكبير بين السلع والخدمات التي تنتجها الدول العربية..... (الشرقية ٢٠٢٤)

المفردات

(أ) اكتب وقارن:

اكتب جملة تشرح فيها الفرق بين كل مصطلحين مما يلي، ثم قارن بين جملتك وجملة زميل لك.

١- المقومات الطبيعية والمقومات البشرية للزراعة.

٢- الصناعة الاستخراجية والصناعة التحويلية.

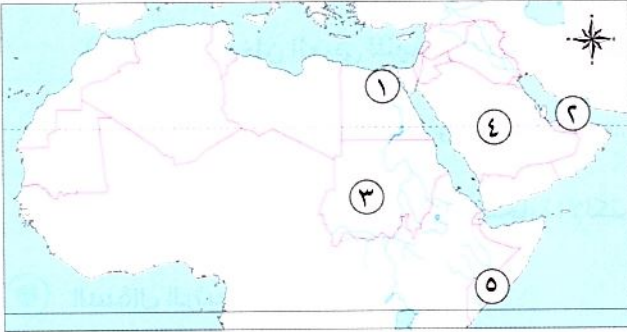
٣- السياحة البيئية والسياحة العلاجية.

٤- التجارة البينية والتجارة الدولية في الوطن العربي.

أسئلة على الخرائط والصور

(ب) اقرأ وأجب:

- لاحظ خريطة الوطن العربي التي أمامك، ثم اكتب الرقم المناسب لكل عبارة:



١- يشير رقم إلى دولة توجد فيها

واحتان ضمن مواقع التراث الزراعي العالمي.

٢- يشير رقم إلى أولى الدول العربية

في إنتاج التمر.

٣- يشير رقم إلى أولى دول الوطن

العربي إنتاجًا للبتروك.

٤- يشير رقم إلى أولى الدول العربية في تربية الإبل.

٥- يشير رقم إلى أولى الدول العربية إنتاجًا لمعدن الذهب.

التفكير الناقد

(ج) فكر وأجب:

(١) ما النتائج المترتبة على...؟ توفر المياه الجوفية في الصحارى العربية.

(٢) وضح جهود الدول العربية لتحقيق السياحة المستدامة.....

(٣) بَمَ تفسر...؟

(١) تركّز تربية الجاموس في مصر.

(ب) قيام الصناعة في وطننا العربي.

(ج) انتشار السياحة العلاجية في مصر والأردن.

(د) أهمية السياحة في الوطن العربي.

(هـ) ضعف التجارة العربية البينية.

(٤) دَلِّ على صحة العبارات التالية:

(١) الأهمية الاقتصادية للثروة الحيوانية في الوطن العربي.

(ب) جهود الوطن العربي للنهوض بالتجارة البينية.

(٥) ما العلاقة بين تحلية مياه البحر والزراعة؟

(٦) قيِّم جهود الدول العربية للنهوض بالتجارة الإلكترونية.

السؤال الرئيسي

(د) ما أهم الموارد الطبيعية والأنشطة الاقتصادية في وطننا العربي؟ وكيف يمكن تحقيق التنمية المستدامة

في مجالات الأنشطة الاقتصادية المختلفة؟

نشاط

(هـ) بالتعاون مع زملائك وبالاستعانة بشبكة المعلومات الدولية (الإنترنت)، صمِّم مطوية تتضمن أهم

المشروعات الزراعية والصناعية التي تسهم في تحقيق أهداف التنمية المستدامة في الدول العربية.

مشروع الكتاب المدرسي على الفصل الدراسي الأول

١ اقرأ الموضوع التالي، واعمل على تنفيذه (سيعطيك المعلم خيارات إضافية).

الموضوع: صمم مجسمًا لمدينة اقتصادية خضراء (تعتمد على مصادر طاقة صديقة للبيئة، وتحافظ على الموارد البيئية) في إحدى دول الوطن العربي، تحقيقًا لأهداف التنمية المستدامة في مجالات: الزراعة، الصناعة، السياحة، النقل، المياه، الطاقة النظيفة.

لتنفيذ مشروعك بإمكانك:

١ - اختيار إحدى المدن العربية وجمع معلومات عن الموارد الطبيعية فيها والأنشطة الاقتصادية التي ستقام بداخلها.

٢ - رسم مخطط للمدينة وتوزيع مواقع الأنشطة الاقتصادية التي ستقام فيها.

٢ اختر أعضاء فريقك، مع من تعمل؟

.....

٣ عصف ذهني:

.....

٤ جمع المعلومات:

ما المعلومات التي يجب أن تعرفها؟

.....
.....
.....
.....

من أين ستحصل على معلوماتك؟
مكتبة المدرسة.

شبكة المعلومات الدولية (الإنترنت).

مقابلة مع أفراد أسرتي وزملائي.

٥ مخططنا:

- دون خطوات إنجاز مشروعك.

.....

٦ منتجنا النهائي:

- اكتب وصفًا للمنتج النهائي في الإطار التالي:

.....

٧ عرض مشروعنا أمام زملائنا في الفصل:

.....
.....

الملحق الداخلي

محتويات الملحق

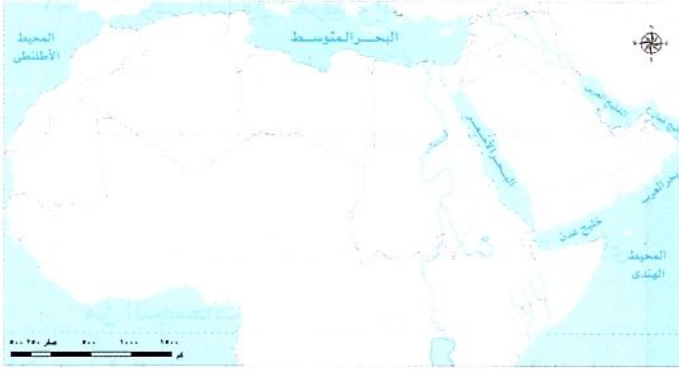
- المهام الأدائية المقترحة.
- الأطلس المصور.
- المراجعة النهائية.
- مراجعة الكتاب المدرسي على الفصل الدراسي الأول.
- بنك أسئلة الأضواء على الفصل الدراسي الأول.
- امتحانات المحافظات والإدارات للعام الدراسي ٢٠٢٣ - ٢٠٢٤م.
- الإجابات النموذجية.

المهام الأدائية المقترحة

(١)

مهمة رقم

أمامك خريطة للوطن العربي، استعن بها، وأجب عن الأسئلة التالية:



١- حدد على الخريطة الدول العربية التي بها أماكن دينية مقدسة.

٢- حدد على الخريطة أماكن الممرات المائية في الوطن العربي، مع ذكر أسمائها.

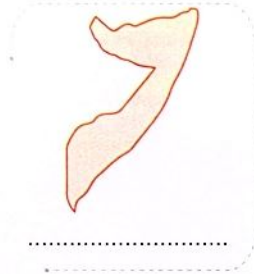
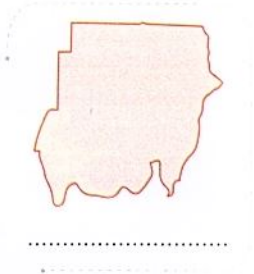
٣- حدد على الخريطة الدولة التي بدأ منها نشر الإسلام.

٤- استنتج السبب في أهمية الوطن العربي الاقتصادية.

(٢)

مهمة رقم

من خلال دراستك لخريطة الوطن العربي أمامك مجموعة من خرائط بعض الدول العربية، اكتب اسم كل دولة بالمكان المخصص لذلك:



(٣)

مهمة رقم

اقرأ، ثم أجب:

«مرت أحوال الإسلام في شبه الجزيرة العربية بعدة مراحل». قم بوضعها على الخط الزمني من الأقدم إلى الأحدث:

١- الهجرة إلى الحبشة.

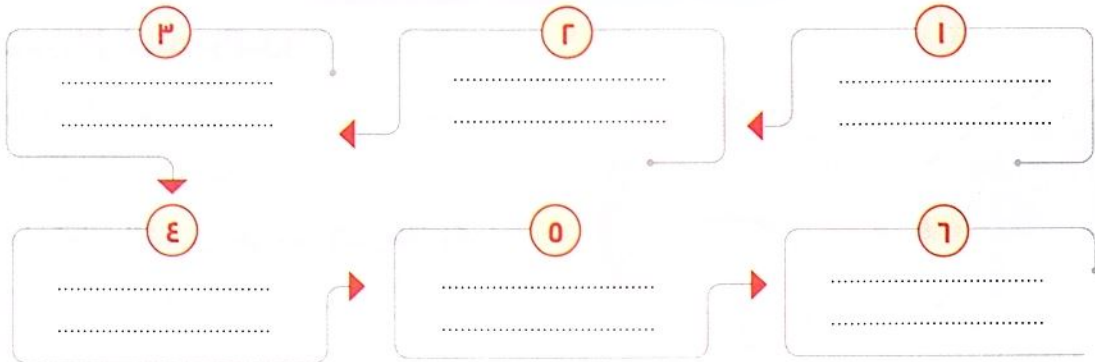
٢- نشر الدعوة الإسلامية بين القبائل العربية في موسم الحج.

٣- الدعوة السرية.

٤- فتح مكة والدعوة العالمية للإسلام.

٥- مقاطعة وحصار المسلمين في مكة.

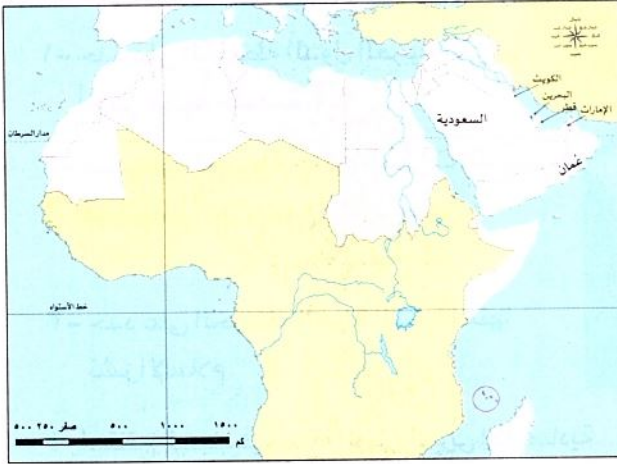
٦- الهجرة إلى يثرب.



(٤)

مهمة رقم

أمامك خريطة صماء للوطن العربي، استعن بها، وأجب عن الأسئلة التالية:



١- لون أولى الدول العربية إنتاجًا للأسماك من

(المصايد - المزارع السمكية).

٢- اكتب على الخريطة اسم أولى الدول العربية إنتاجًا

للذهب.

٣- الدول المكتوب أسماؤها على الخريطة تنتمي لأي

من التجمعات التجارية الآتية؟

(اتحاد دول المغرب العربي - مجلس التعاون لدول الخليج

العربية - دول اتفاقية أغادير - منطقة التجارة الحرة).

(٥)

مهمة رقم

تأمل الصورتين، ثم أجب:



اسم الظاهرة:

أكثر الدول العربية التي عانت منها:

نتائجها:



سهول:

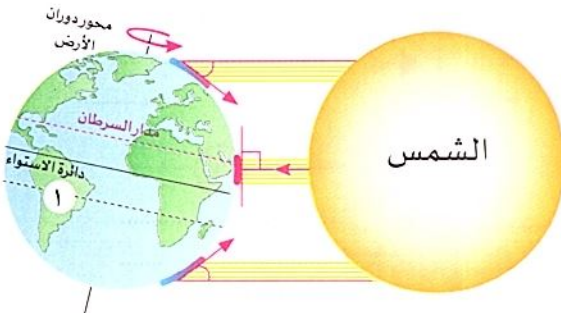
أكثر الدول العربية التي توجد بها:

أهميتها:

(٦)

مهمة رقم

لاحظ الصورة التي أمامك، وأكمل:



١- تتعامد الشمس على مدار

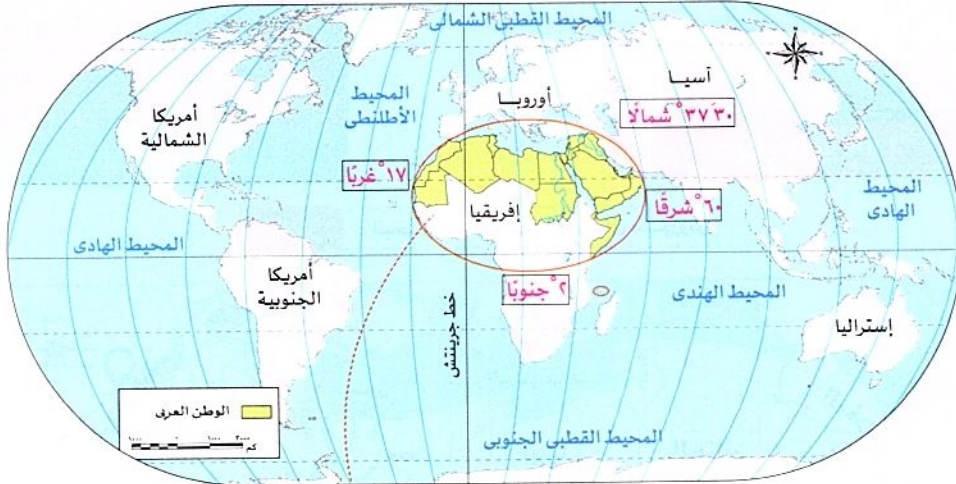
٢- يشير رقم (١) إلى مدار

٣- عند تعامد الشمس على مدار السرطان يكون

الوطن العربي في فصل

الأطلس المصور

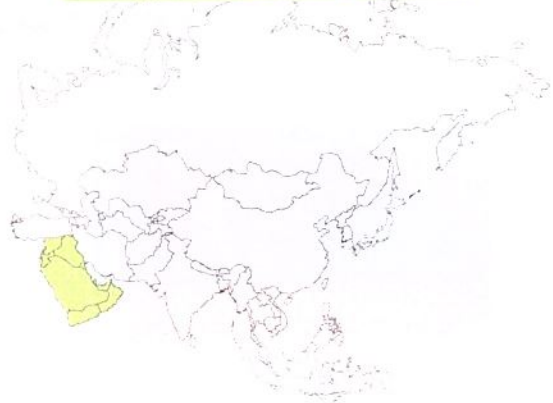
موقع الوطن العربي بالنسبة للعالم



الدول العربية بقارة إفريقيا



الدول العربية بقارة آسيا



الموقع الجغرافي للوطن العربي



جبال طوروس



جبال زاغروس

البحر المتوسط، وجبال طوروس

الشمال



جبال زاغروس، جبال كردستان، الخليج العربي، خليج عُمان

الشرق

الغرب

المحيط الأطلنطي

المحيط الهندي، بحر العرب، الصحراء الكبرى

الجنوب



المحيط الأطلنطي



الصحراء الكبرى

الممرات المائية في الوطن العربي

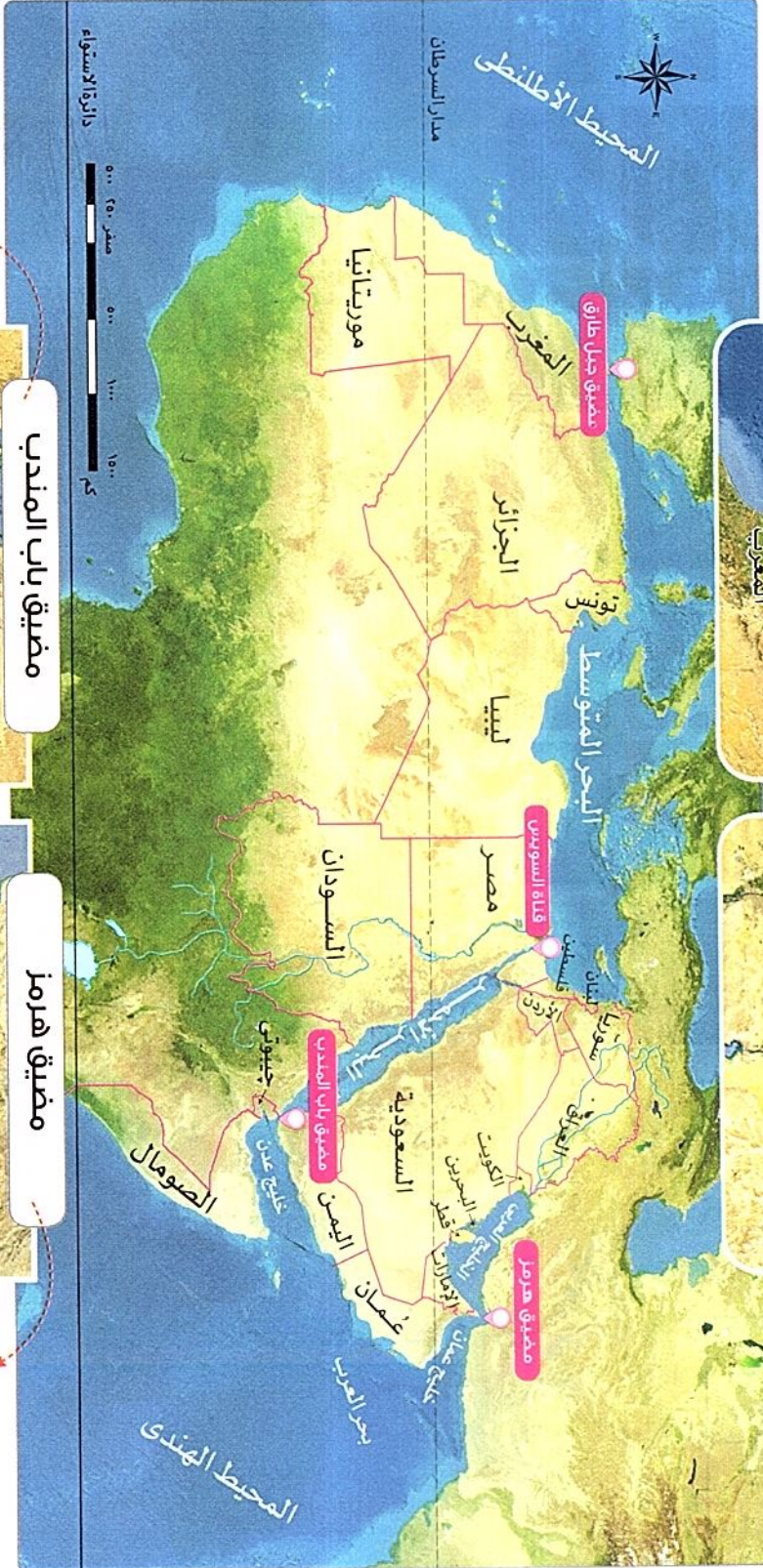
يصل بين البحر المتوسط والمحيط الأطلنطي.



قناة السويس



تربط بين البحر الأحمر والبحر المتوسط.



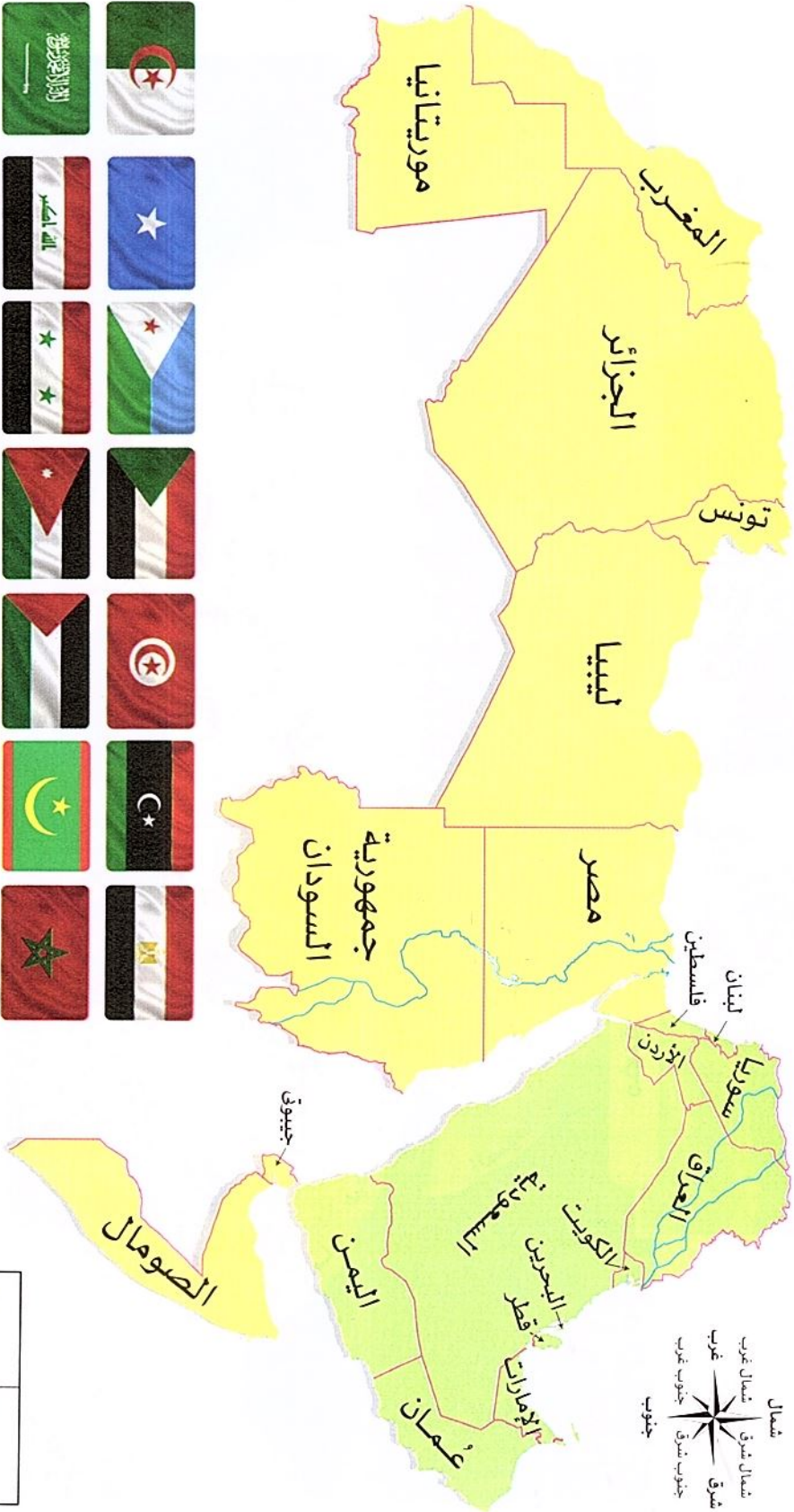
يصل البحر الأحمر بخليج عدن وبحر العرب.



يفصل بين الخليج العربي وخليج عمان.



أعلام الدول العربية وحدودها



شمال	شمال شرق	شمال غرب	غرب
شرق	جنوب شرق	جنوب غرب	جنوب
جزر القمر			
١٢ جنوبياً		٤٤ شرقاً	



أسماء وعواصم الدول العربية



الدولة: المغرب
العاصمة: الرباط



الدولة: الجزائر
العاصمة: الجزائر



الدولة: تونس
العاصمة: تونس



الدولة: ليبيا
العاصمة: طرابلس



الدولة: مصر
العاصمة: القاهرة



الدولة: موريتانيا
العاصمة: نواكشوط



الدولة: جزر القمر
العاصمة: موروني



الدولة: الصومال
العاصمة: مقديشو



الدولة: جيبوتي
العاصمة: جيبوتي



الدولة: السودان
العاصمة: الخرطوم



الدولة: العراق
العاصمة: بغداد



الدولة: سوريا
العاصمة: دمشق



الدولة: الأردن
العاصمة: عمان



الدولة: لبنان
العاصمة: بيروت



الدولة: فلسطين
العاصمة: القدس



الدولة: الإمارات
العاصمة: أبوظبي



الدولة: البحرين
العاصمة: المنامة



الدولة: قطر
العاصمة: الدوحة



الدولة: السعودية
العاصمة: الرياض



الدولة: الكويت
العاصمة: الكويت

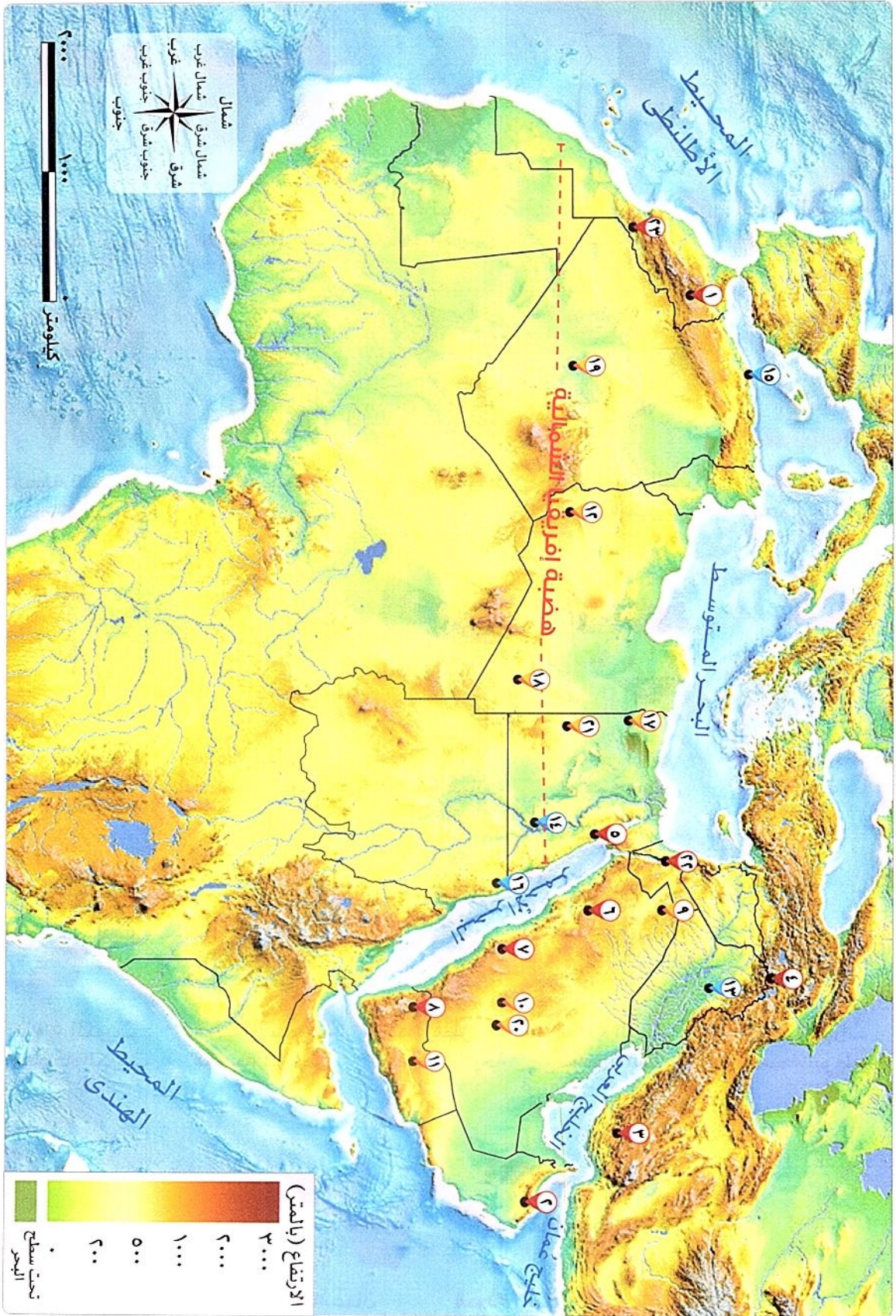


الدولة: اليمن
العاصمة: صنعاء



الدولة: عُمان
العاصمة: مسقط

تضاريس الوطن العربي



الجبال



- ٧ عسير.
- ٨ مرتفعات اليمن.



- ١ جبال أطلس.
- ٢ عُمان.
- ٣ زاغروس.
- ٤ كردستان.

الهضاب



- ١٢ هضبه إفريقيا الشمالية
- تمتد من جبال البحر الأحمر شرقاً حتى المحيط الأطلنطي غرباً.



- ٩ بادية الشام.
- ١٠ نجد.
- ١١ حضرموت.

السهول



- ١٥ سهول البحر المتوسط والمحيط الأطلنطي.
- ١٦ سهول البحر الأحمر.



- ١٣ سهول نهري دجلة والفرات بآسيا.
- ١٤ سهول نهر النيل بإفريقيا.


ظواهرات أخرى



١٩ بحر الرمال العظيم



٢٠ وادي الدواسر



١٩ واحة عين صالح



١٨ واحة الحفرة



١٧ واحة سيوة

أدنى وأعلى نقطة

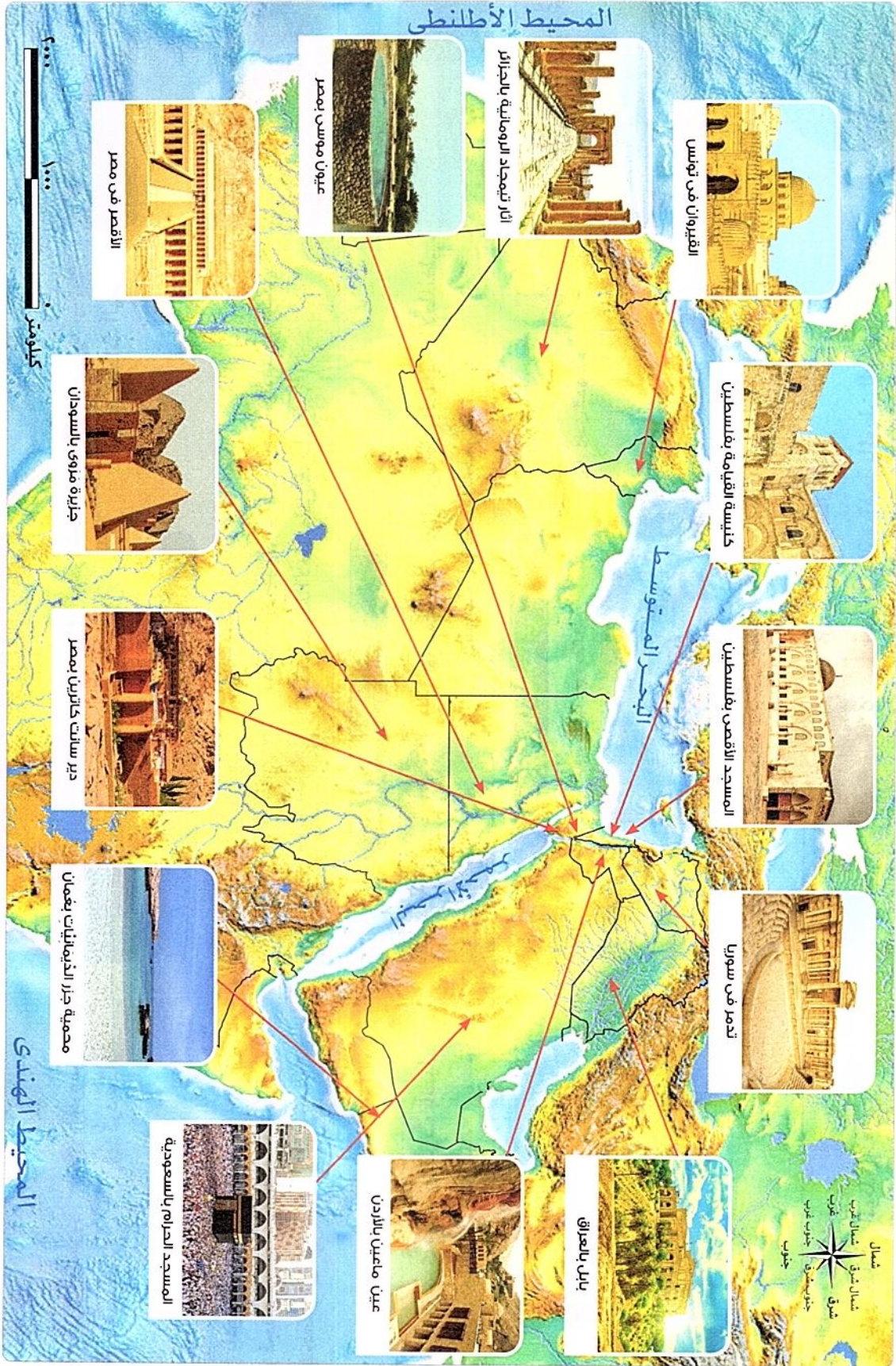


٢٣ جبل توبقال
أعلى نقطة مرتفعة بالوطن العربي.

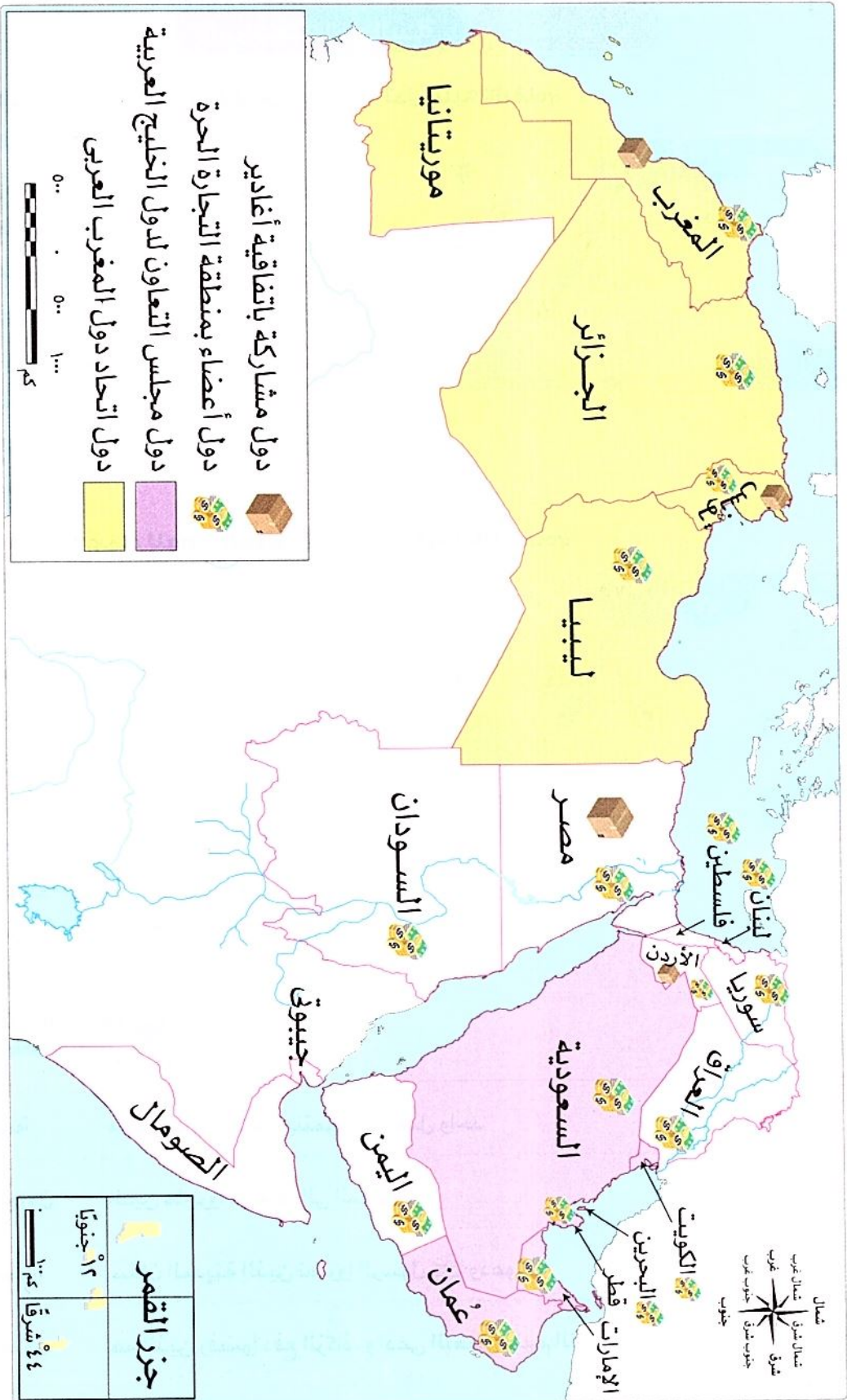


٢٢ البحر الميت
أدنى نقطة في الوطن العربي.

أهم المناطق السياحية بالوطن العربي



التجمعات العربية للتجارة البينية

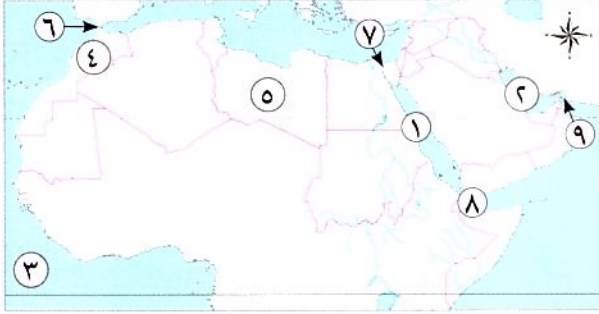


المراجعة النهائية

الوحدة الأولى

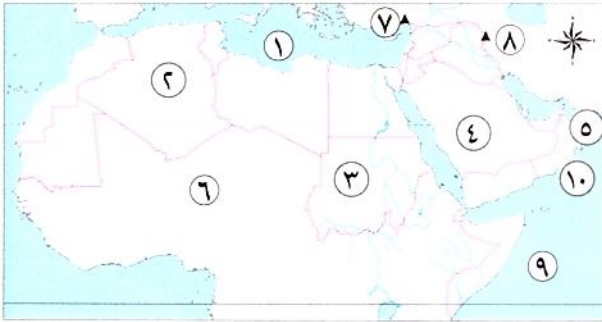
المراجعة النهائية

١- أمامك خريطة صماء للوطن العربي، اكتب ما تدل عليه الأرقام:



- ١ البحر الأحمر.
- ٢ الخليج العربي.
- ٣ المحيط الأطلنطي.
- ٤ دولة المغرب.
- ٥ دولة ليبيا.
- ٦ مضيق جبل طارق.
- ٧ قناة السويس.
- ٨ مضيق باب المندب.
- ٩ مضيق هرمز.

٢- أمامك خريطة صماء للوطن العربي، اكتب ما تدل عليه الأرقام:



- ١ البحر المتوسط.
- ٢ دولة الجزائر.
- ٣ دولة جمهورية السودان.
- ٤ دولة السعودية.
- ٥ خليج عُمان.
- ٦ الصحراء الكبرى.
- ٧ جبال طوروس.
- ٨ جبال زاغروس.
- ٩ المحيط الهندي.
- ١٠ بحر العرب.

أهم المفاهيم

قبيلة	مجموعة من الأفراد ينتمون إلى أصل واحد
المهاجرون	الذين هاجروا من مكة إلى المدينة.
الأنصار	سكان المدينة الذين نصرُوا الرسول ﷺ ودعوته.
المرتدون	هم الذين رفضوا دفع الزكاة، وادعى البعض منهم النبوة مثل مسيلمة الكذاب.

عمر بن الخطاب

- ثاني الخلفاء الراشدين.
- وضع التقويم الهجري.
- استكمل الفتوحات الإسلامية التي بدأت في عهد الخليفة أبي بكر الصديق رضي الله عنه وفتح: (بلاد العراق - بلاد فارس - الشام - مصر).
- أنشأ عددًا من الدواوين، مثل ديوان الجند وديوان بيت المال.

أبو بكر الصديق

- أول الخلفاء الراشدين.
- أرسل جيش أسامة بن زيد، الذي جهّزه الرسول صلى الله عليه وسلم قبل وفاته، إلى الشام.
- أرسل عدة جيوش لمحاربة المرتدين.
- أمر زيد بن ثابت بجمع القرآن الكريم.
- أرسل الجيوش الإسلامية خارج شبه الجزيرة العربية لنشر الإسلام وتأمين حدود الدولة.

علي بن أبي طالب

- رابع الخلفاء الراشدين.
- نقل مقر الخلافة إلى الكوفة في العراق بدلًا من المدينة.
- قام بتنظيم الشرطة للحفاظ على أمن وسلامة المواطنين.

عثمان بن عفان

- ثالث الخلفاء الراشدين.
- أمر بكتابة القرآن في مصحف واحد.
- أنشأ أول أسطول بحري في الإسلام لتأمين سواحل مصر والشام من هجمات الروم.
- قام بالعديد من الفتوحات لتأمين حدود الدولة الإسلامية.

أهم التفسيرات

- 1 الأهمية الاقتصادية لموقع الوطن العربي يشرف على مسطحات مائية مهمة مثل: البحر الأحمر والبحر المتوسط والخليج العربي - يتحكم في ممرات بحرية مهمة وهي (مضيق هرمز، ومضيق باب المندب، ومضيق جبل طارق، بالإضافة لقناة السويس) - تحكمه في أهم الطرق التجارية العالمية.
- 2 تحكم الوطن العربي في أهم طرق التجارة العالمية بسبب إشرافه على مسطحات مائية مهمة مثل: البحر الأحمر والبحر المتوسط والخليج العربي - تحكمه في ممرات بحرية مهمة وهي (مضيق هرمز، ومضيق باب المندب، ومضيق جبل طارق، بالإضافة لقناة السويس).
- 3 لوطننا العربي أهمية دينية كبرى لأنه موطن الديانات السماوية (الإسلامية، اليهودية، المسيحية) - يضم أماكن مقدسة ذات أهمية دينية كبرى، مثل: الكعبة المشرفة في السعودية - كنيسة القيامة في فلسطين - الأزهر الشريف في مصر.
- 4 لموقع الوطن العربي أهمية حضارية. لأنه قامت أقدم الحضارات في العالم على أرضه، مثل الحضارة المصرية القديمة وحضارة بلاد العراق القديمة.
- 5 ساد النظام القبلي في شبه الجزيرة العربية قبل الإسلام. لأنها كانت عبارة عن قبائل متفرقة وكان لكل قبيلة شيخ يحكمها.
- 6 شهرة مكة تجاريًا. بسبب تنظيم رحلات التجارة حيث رحلة الشتاء إلى اليمن ورحلة الصيف إلى الشام.

- ٧ سمى العام الذى ولد فيه الرسول ﷺ بعام الفيل . لأنه العام الذى حاول فيه أبرهة الحبشى هدم الكعبة بجيش كبير . لكن الله حفظها .
- ٨ عمل الرسول ﷺ عندما كان فى بيت عمه فى رعى الأغنام . لأنه لم يرغب أن يكون عبئاً على عمه .
- ٩ كان الرسول ﷺ يخلو بنفسه فى غار حراء . ليفكر ويتأمل فى الكون وقدرة الله سبحانه وتعالى .
- ١٠ بدء الرسول ﷺ بالدعوة إلى الإسلام سرّاً . لتجنب أذى قريش .
- ١١ رفض قريش لدعوة الإسلام . خوفاً على مكانتها بين القبائل .
- ١٢ هجرة المسلمين إلى الحبشة . لأن فيها ملكاً عادلاً يلقب بالنجاشى .
- ١٣ أمر الرسول ﷺ أصحابه بالهجرة إلى يثرب . بسبب إيذاء قريش للمسلمين .
- ١٤ اجتماع قريش فى دار الندوة . لمحاولة منع النبى ﷺ من الهجرة .
- ١٥ نجاح خطة هجرة الرسول ﷺ إلى يثرب . بسبب التخطيط الجيد والسرية التامة .
- ١٦ اهتمام الرسول ﷺ بكتابة صحيفة المدينة . لتنظيم شئون المسلمين فيما بينهم وتنظيم علاقاتهم بالطوائف الأخرى الموجودة فى المدينة خاصة اليهود وتحديد ما لهم من حقوق وما عليهم من واجبات تجاه الدولة .
- ١٧ عمل الرسول ﷺ على المؤاخاة بين المهاجرين والأنصار . لإقامة مجتمع متماسك تسوده المحبة والتعاون والإيثار .
- ١٨ قام الرسول ﷺ بعدة غزوات . من أجل : حماية الدين الإسلامى . - الدفاع عن النفس ضد المشركين .
- ١٩ تحول نصر المسلمين إلى هزيمة فى غزوة أحد . بسبب مخالفة الرماة أوامر النبى ﷺ وترك مواقعهم فوق الجبل ونزولهم لجمع الغنائم .
- ٢٠ اختيار أبى بكر الصديق ؓ أول خليفة للمسلمين . لأنه أول من آمن من الرجال - شارك الرسول ﷺ فى جميع غزواته - جعله الرسول ﷺ إماماً للمسلمين فى الصلاة أثناء مرضه .
- ٢١ إرسال أبى بكر الصديق ؓ جيش أسامة بن زيد إلى الشام . لمحاربة الروم وتأمين حدود الدولة الإسلامية .
- ٢٢ إرسال أبى بكر الصديق ؓ الجيوش الإسلامية خارج شبه الجزيرة العربية . لنشر الإسلام وتأمين حدود الدولة الإسلامية .
- ٢٣ أمر الخليفة أبوبكر الصديق ؓ زيد بن ثابت بجمع القرآن . بسبب استشهاد عدد كبير من حفظة القرآن فى حروب المرتدين .
- ٢٤ أمر الخليفة عثمان بن عفان ؓ بكتابة القرآن فى مصحف واحد وتوزيعه على البلاد . لتتوحد قراءة القرآن .
- ٢٥ قيام الخليفة عثمان بن عفان ؓ بالعديد من الفتوحات الإسلامية . لتأمين حدود الدولة الإسلامية .
- ٢٦ إنشاء الخليفة عثمان بن عفان ؓ أسطولاً بحرياً إسلامياً . لتأمين سواحل مصر والشام من هجمات الروم .
- ٢٧ قيام الخليفة على بن أبى طالب ؓ بتنظيم الشرطة . للحفاظ على أمن وسلامة المواطنين .
- ٢٨ نقل الخليفة على بن أبى طالب ؓ مقر الخلافة إلى الكوفة فى العراق . ليسهل عليه الانتقال بين أرجاء الدولة الإسلامية خاصة بعد اتساعها .

- ١ تحكّم الوطن العربي في المضائق والممرات البحرية. تحكّمه في أهم الطرق التجارية العالمية، وزادت أهمية الوطن العربي الاقتصادية.
- ٢ وجود العديد من الأماكن المقدسة بالوطن العربي. أصبح للوطن العربي أهمية دينية.
- ٣ وقوع الوطن العربي وسط قارات العالم القديم. أدى إلى إشرافه على مسطحات مائية مهمة مثل البحر الأحمر والمتوسط، ويتحكّم في ممرات بحرية مهمة هي: مضيق باب المندب، ومضيق جبل طارق، ومضيق هرمز، وقناة السويس، وكل ذلك أدى إلى تحكّمه في طرق التجارة الهامة.
- ٤ جهر الرسول ﷺ بالدعوة الإسلامية في مكة. حاربت قريش الدعوة وقامت بإيذاء الرسول ﷺ والمسلمين.
- ٥ استمرار إيذاء قريش للمسلمين. هجرة الرسول ﷺ والمسلمين إلى المدينة.
- ٦ نشر الرسول ﷺ الدعوة بين الوفود التي تفتد إلى مكة في موسم الحج. دخول هذه الوفود في الإسلام.
- ٧ مبايعة وفود من أهل يثرب للرسول ﷺ في موسم الحج. آمنوا بالرسول ﷺ وبايعوه على حمايته ونصرته، فلما عادوا إلى يثرب بدءوا في دعوة الناس.
- ٨ مخالفة الرماة أوامر الرسول ﷺ في غزوة أحد. تحول نصر المسلمين إلى هزيمة.
- ٩ إشارة سلمان الفارسي بحفر خندق حول المدينة هـ. انتصار المسلمين على قريش وحلفائها دون قتال ودخول الكثير من العرب في الإسلام.
- ١٠ صلح الحديبية عام ٦ هـ. أدى إلى تمكين الرسول ﷺ من نشر دعوته، فبدأ في إرسال الرسائل إلى الملوك والحكام يدعوهم إلى الإسلام، وبدأت مرحلة نشر الدعوة الإسلامية عالمياً.
- ١١ نقض قريش صلح الحديبية. خرج الرسول ﷺ بجيش كبير لفتح مكة عام ٨ هـ.
- ١٢ عفو النبي ﷺ عن أهل مكة. بدأ الناس يدخلون الإسلام أفواجا.
- ١٣ ارتداد بعض القبائل عن الإسلام بعد وفاة الرسول ﷺ. أرسل أبو بكر الصديق ؓ عدة جيوش لمحاربة المرتدين ونجحت هذه الجيوش في محاربتهم حتى عادوا إلى الإسلام.
- ١٤ استشهاد عدد كبير من حفظة القرآن الكريم في حرب المرتدين. أمر أبو بكر الصديق ؓ زيد بن ثابت بجمع القرآن.
- ١٥ اتساع أرجاء الدولة الإسلامية في عهد الخليفة علي بن أبي طالب ؓ. نقل مقر الخلافة إلى الكوفة في العراق بدلاً من المدينة.

دل

- ١ أغلب مساحة الوطن العربي تقع في الجناح الإفريقي. يضم الجناح الإفريقي عدد ١٠ دول من دول الوطن العربي وتمثل ٧٢٪ من مساحة الوطن العربي.
- ٢ ساد النظام القبلي في شبه الجزيرة العربية قبل ظهور الإسلام. لأنها كانت عبارة عن قبائل متفرقة ولكل قبيلة شيخ يحكمها.

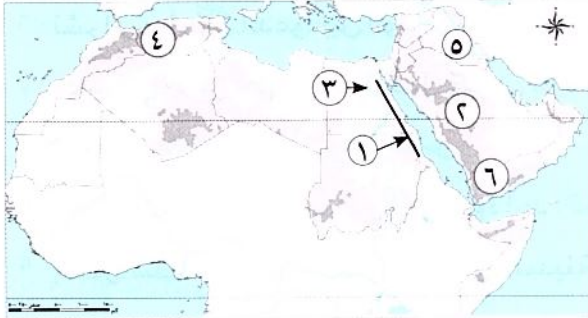
- ٣ واجه الرسول ﷺ قريشًا بالأساليب السلمية والحكمة . حيث حث الرسول ﷺ المسلمين على الصبر والتحمل وأمر أصحابه بالهجرة إلى الحبشة .
- ٤ تعددت أدوار المسجد في الإسلام . كان المسجد: مقرًا للحكم وإدارة شؤون الدولة الداخلية والخارجية ومركزًا للعبادة وتعليم أصول الدين .
- ٥ قدّم الرسول ﷺ مثلًا عظيمًا في التسامح . حيث عفا عن أهل مكة وأعطاهم الأمان رغم إيدانهم له ولأصحابه . وقال لهم: « اذهبوا فأنتم الطلقاء » .

الوحدة الثانية

المراجعة النهائية

أهم الخرائط

١- أمامك خريطة لتضاريس الوطن العربي، اكتب ما تدل عليه الأرقام:



- ١ جبال البحر الأحمر.
- ٢ هضبة نجد.
- ٣ نهر النيل .
- ٤ جبال أطلس .
- ٥ نهرا دجلة والفرات .
- ٦ مرتفعات اليمن .

٢- أمامك خريطة لتضاريس الوطن العربي، اكتب ما تدل عليه الأرقام:



- ١ هضبة بادية الشام .
- ٢ جبال الحجاز .
- ٣ هضبة إفريقيا الشمالية .
- ٤ هضبة حضرموت .
- ٥ المحيط الهندي .
- ٦ البحر الأحمر .

٣- أمامك خريطة صماء للوطن العربي، اكتب ما تدل عليه الأرقام:

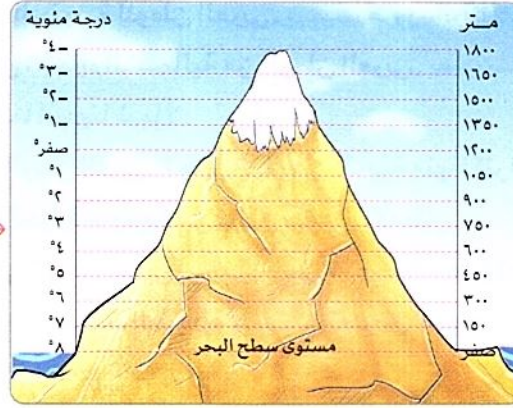


- ١ إقليم البحر المتوسط .
- ٢ دولة السعودية .
- ٣ الإقليم الصحراوي الحار .
- ٤ دولة موريتانيا .
- ٥ الإقليم المداري .
- ٦ المحيط الهندي .

أهم الأشكال

- تأثير مظاهر السطح في مناخ الوطن العربي.

١- المرتفعات

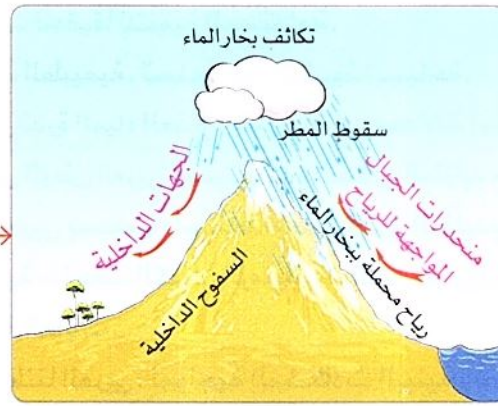


انخفضت الحرارة
درجة واحدة.

كلما ارتفعنا ١٥٠ مترًا فوق
سطح البحر.

٢- اتجاه المرتفعات

- يؤثر اتجاه سلاسل المرتفعات
على كمية المطر حيث:



بينما تقل أو تنعدم على
الجهات الداخلية
للمرتفعات.

تسقط الأمطار بغزارة على
منحدرات الجبال المواجهة
للرياح المحملة بخار الماء.

أهم المفاهيم

جبال نشأت نتيجة لحركات باطنية تعرضت لها الأرض، مثل: جبال أطلس - جبال كردستان وزاجروس وعمان.	الجبال الالتوائية
جبال نشأت نتيجة لحدوث انكسار في القشرة الأرضية، مثل: جبال البحر الأحمر - سلاسل جبال الحجاز وعسير ومرتفعات اليمن.	الجبال الانكسارية
منطقة جغرافية من سطح الأرض تتسم بخصائص مناخية تميزها عن غيرها.	الإقليم المناخي
نقص كمية الأمطار في بعض السنوات بما لا يسمح بالزراعة أو نمو الحشائش.	الجفاف
تناقص قدرة الأراضي الزراعية على الإنتاج.	التصحّر

أهم التفسيرات

- ١ قيام الزراعة في الواحات بسبب وجود المياه الجوفية.
- ٢ أهمية الأودية الجافة في الوطن العربي. تستخدم كطرق للمواصلات أو للحصول على المياه الجوفية.
- ٣ تكون السهول الفيضية في الوطن العربي. بسبب ترسب المواد العالقة بالمياه التي كوتتها الأنهار.

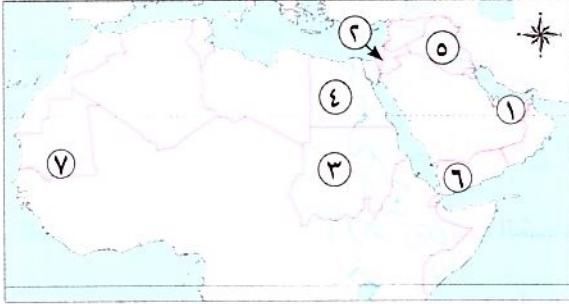
- ٤ نشأة الأودية الجافة في الوطن العربي. بسبب التعرية المائية.
- ٥ تباين درجات الحرارة بين دول الوطن العربي. بسبب الموقع الفلكي للوطن العربي - القرب أو البعد عن المسطحات المائية - مظاهر السطح.
- ٦ ارتفاع درجة الحرارة بالمناطق الجنوبية للوطن العربي. بسبب مرور دائرة الاستواء بجنوب الوطن العربي.
- ٧ انخفاض درجات الحرارة في الأجزاء الشمالية من الوطن العربي. بسبب القرب من المسطحات المائية. والابتعاد عن دائرة الاستواء كلما اتجهنا شمالاً.
- ٨ أهمية المسطحات المائية في الوطن العربي. تجعل المناطق القريبة منها أكثر اعتدالاً في درجة الحرارة من المناطق الداخلية كما أنها تلطف درجة الحرارة - وتزيد من فرص سقوط الأمطار.
- ٩ يقل تأثير المسطحات المائية في الوطن العربي. بسبب ضيق مساحتها - عدم توغل تأثيرها إلى الداخل لوجود صحار.
- ١٠ قيام دول الوطن العربي بإنشاء المحميات الطبيعية. بسبب تعرض الحياة البرية لمخاطر، بسبب تدهور النباتات الطبيعية وانقراض أنواع عديدة من الحيوانات البرية.
- ١١ أهمية المحميات الطبيعية. تساعد في الحفاظ على الحياة البرية - تنشيط السياحة - تساعد في تحقيق التوازن البيئي والحد من التلوث تحقيقاً للتنمية المستدامة.
- ١٢ الأهمية الاقتصادية للمحميات الطبيعية. تساعد على تنشيط السياحة.
- ١٣ تعاني معظم الدول العربية من ندرة المياه العذبة. بسبب تزايد معدلات استهلاك المياه.
- ١٤ تزايد معدلات استهلاك المياه في الوطن العربي. بسبب النمو السكاني المتزايد - التوسع المستمر في الزراعة.
- ١٥ حدوث التصحر في الوطن العربي بسبب: استخدام طرق الري التقليدية - الإفراط في استخدام الأسمدة الكيماوية والمبيدات الحشرية - زحف الكثبان الرملية - تناقص مخزون المياه الجوفية - التوسع العمراني - الرعي الجائر للحيوانات، وإزالة الغابات.
- ١٦ إنشاء المدن الذكية في دول وطننا العربي. لمواجهة المشكلات البيئية وتقليل انبعاثات الغازات الدفيئة.

أهم النتائج

- ١ التعرية الهوائية بالنسبة للوطن العربي. نشأة الكثبان الرملية.
- ٢ مرور دائرة الاستواء بجنوب الوطن العربي. أدى إلى ارتفاع الحرارة بالمناطق الجنوبية من الوطن العربي.
- ٣ الموقع الفلكي للوطن العربي. أدى إلى ارتفاع الحرارة بالمناطق الجنوبية من الوطن العربي - انخفاض الحرارة كلما اتجهنا شمالاً.
- ٤ تعامد الشمس على مدار السرطان صيفاً في الوطن العربي. ارتفاع درجات الحرارة بشكل عام في أرجاء وطننا العربي - الجفاف فيما عدا مرتفعات اليمن ومرتفعات عسير وأجزاء من الصومال وجنوب موريتانيا.
- ٥ تعامد الشمس على مدار الجدى شتاء في الوطن العربي. أدى إلى أن تكون الحرارة معتدلة في معظم أجزاء الوطن العربي عدا بعض الأجزاء الشمالية والمناطق الجبلية التي تكون أشد برودة، والشتاء ممطراً خاصة في المناطق المطلة على البحر المتوسط.
- ٦ ضيق المسطحات المائية في الوطن العربي. أدى إلى قلة تأثير المسطحات المائية بشكل عام في الوطن العربي.
- ٧ تنوع الأقاليم المناخية للوطن العربي. أدى إلى تنوع النباتات الطبيعية والحيوانات البرية.
- ٨ تعرض الصومال لأكبر موجة جفاف في الوطن العربي. نقص الغذاء وحدوث مجاعة لأكثر من مليون شخص.
- ٩ النمو السكاني المتزايد في وطننا العربي. أدى إلى تزايد معدلات استهلاك المياه وحدوث مشكلة ندرة المياه العذبة.
- ١٠ زحف الكثبان الرملية وتناقص المياه الجوفية في وطننا العربي. حدوث مشكلة التصحر.

١- أمامك خريطة صماء للوطن العربي، اكتب ما تدل عليه الأرقام:

١ دولة توجد بها واحات تعتمد اعتمادًا كليًا على المياه الجوفية الإمارات.



٢ دولة يزرع بها العنب فلسطين.

٣ دولة تتركز بها زراعة الكتان السودان.

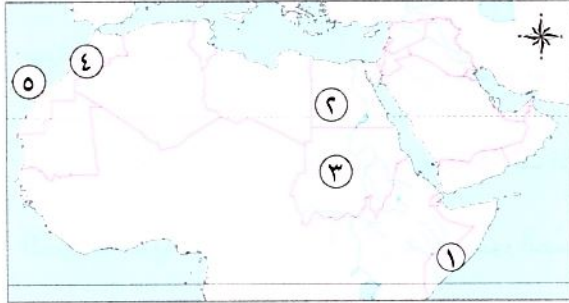
٤ دولة تنتج التمور مصر.

٥ دولة تقوم فيها زراعة الموز العراق.

٦ دولة تتركز بها زراعة البن اليمن.

٧ دولة تعتمد في زراعتها على مياه الأمطار موريتانيا.

٢- أمامك خريطة صماء للوطن العربي، اكتب ما تدل عليه الأرقام:



١ تعد الدولة رقم (١) أولى الدول العربية في تربية الإبل.

٢ تعد الدولة رقم (٢) أولى الدول العربية في تربية

الجاموس.

٣ تعد الدولة رقم (٣) أولى الدول العربية في تربية

الأبقار / الأغنام / الماعز / الخيول.

٤ تعد الدولة رقم (٤) أولى الدول العربية في إنتاج الأسماك.

٥ سواحل تطل عليها دول المغرب المحيط الأطلنطي.

٣- أمامك خريطة صماء للوطن العربي، اكتب ما تدل عليه الأرقام:



١ أولى الدول المنتجة للبترول المملكة العربية السعودية.

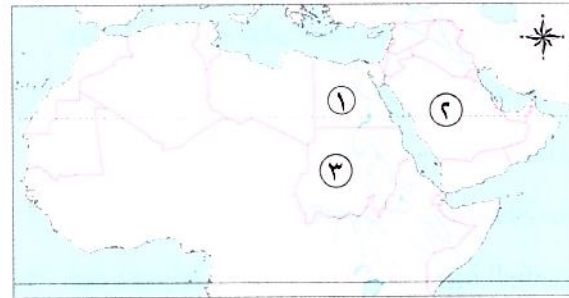
٢ أولى الدول المنتجة للغاز الطبيعي قطر.

٣ أولى الدول العربية إنتاجًا للحديد موريتانيا.

٤ أولى الدول المنتجة للفوسفات المغرب.

٥ أولى الدول في صناعة الحديد والصلب مصر.

٤- أمامك خريطة صماء للوطن العربي، اكتب ما تدل عليه الأرقام:



١ دولة توجد بها صناعة البتروكيماويات مصر.

٢ أولى الدول في صناعة الأسمت المملكة العربية

السعودية.

٣ أولى الدول العربية إنتاجًا للذهب السودان.

صناعات استخراجية	هي الصناعة التي تتمثل في استخراج المعادن ومصادر الطاقة.
صناعات تحويلية	صناعة يتم من خلالها تحويل المواد الخام لتصبح منتجات صالحة للاستخدام.
الصناعة الخضراء	هي الصناعة التي تعتمد على الاستثمار الأمثل للموارد المتجددة، والحد من المخلفات وإعادة التدوير للتقليل من التأثير السلبي للصناعة على الصحة والبيئة.
السياحة الثقافية	سياحة تشمل زيارة المواقع الأثرية والتراثية.
السياحة الترفيهية	سياحة تتمثل في زيارة الشواطئ والرحلات النيلية.
السياحة الدينية	سياحة تتمثل في زيارة الأماكن المقدسة.
السياحة العلاجية	سياحة تتمثل في زيارة بعض الأماكن بهدف الاستشفاء والعلاج.
سياحة المؤتمرات والمعارض	سياحة تتمثل في حضور المؤتمرات والمعارض الدولية.
السياحة البيئية	سياحة تتضمن سياحة السفاري وزيارة المحميات الطبيعية والمناطق الصحراوية.
السياحة الرياضية	سياحة تتمثل في حضور المسابقات الرياضية المختلفة.
سياحة التسوق	سياحة قائمة على زيارة المراكز التجارية.
تجارة بينية عربية	الصادرات والواردات من السلع والخدمات بين الدول العربية.
التجارة الإلكترونية	تبادل السلع والخدمات باستخدام شبكة المعلومات الدولية (الإنترنت).

أهم التفسيرات

- قيام الزراعة في الأجزاء الشمالية للوطن العربي . بسبب سقوط الأمطار.
- أهمية التربة الخصبة بالوطن العربي . ساعدت على قيام الزراعة.
- أهمية الزراعة في الوطن العربي . توفر المنتجات الغذائية للسكان وكذلك للحيوانات - توفر فرص عمل لسكان وطننا العربي - توفر المواد الخام الزراعية اللازمة للصناعة - مصدر للدخل القومي لبعض الدول العربية.
- تتعرض الزراعة في الوطن العربي للعديد من المشكلات . حيث تواجه الزراعة مشكلة ندرة المياه العذبة - تذبذب كمية الأمطار - التصحر - زحف الرمال - الجفاف.
- لجأت بعض الدول العربية لإنشاء السدود والخزانات وتحلية مياه البحر. لحل المشكلات التي تواجه الزراعة وتحقيق التنمية الزراعية.
- تعد مصر أولى الدول العربية في تربية الجاموس . لوجود البيئة الزراعية الفيضية المناسبة لتربيته.

- ٧ أهمية الثروة الحيوانية فى الوطن العربى . توفر البروتين الحيوانى - المواد الخام الحيوانية اللازمة للصناعة - تستخدم بعض الحيوانات فى الريف بأعمال الحقل والنقل .
- ٨ تهتم الدول العربية بتربية الدواجن . لسد العجز من اللحوم الحمراء .
- ٩ تعد المغرب أولى الدول العربية فى إنتاج الأسماك . نظراً لطول سواحلها المغرب على البحر المتوسط والمحيط الأطلنطى .
- ١٠ أهمية الثروة السمكية فى الوطن العربى . تسهم فى سد العجز من البروتين الحيوانى .
- ١١ الأهمية الاقتصادية لمعدن الذهب . يستخدم فى صناعة الحلى - تستخدم ذرات الذهب فى علاج بعض الأمراض .
- ١٢ الأهمية الاقتصادية لمعدن الحديد . يستخدم فى كثير من الصناعات الثقيلة والمنشآت والكبرى .
- ١٣ الأهمية الاقتصادية لخام الفوسفات . يستخدم فى صناعة الأسمدة والمبيدات .
- ١٤ تعد الصناعة من أهم الأنشطة الاقتصادية للوطن العربى . لأنها : تسهم بثالث دخله القومى - توفر فرص عمل حيث يعمل فيها نحو ٢٢٪ من حجم القوة العاملة فى الوطن العربى .
- ١٥ الأهمية الاقتصادية للسياحة فى الوطن العربى . تساعد على التبادل الثقافى - توفر العملات الأجنبية - توفر فرص عمل فى السياحة والقطاعات ذات الصلة . مثل : شركات الطيران .
- ١٦ قيام السياحة العلاجية فى مصر . لزيارة بعض الأماكن بهدف الاستشفاء والعلاج مثل : العيون الكبرى فى سيوة وعيون موسى .
- ١٧ أهمية التجارة حديثاً . تسهم التجارة فى تعزيز العلاقات بين الدول - تلبية احتياجات السكان من السلع والخدمات - توفير العملات الأجنبية - توفير فرص عمل للسكان .
- ١٨ إنشاء العديد من التجمعات العربية . النهوض بالتجارة البينية العربية .
- ١٩ ظهور التجارة الإلكترونية . بسبب التطور التكنولوجى .

أهم النتائج

- ١ تنوع المناخ بالوطن العربى . تنوع المحاصيل الزراعية .
- ٢ توسع الدول العربية فى الصناعة الخضراء . الاستثمار الأمثل للموارد المتجددة والحد من المخلفات .
- ٣ وجود عيون المياه الكبرى فى سيوة وعيون موسى . انتشار السياحة العلاجية .
- ٤ وجود المحميات الطبيعية والمناطق الصحراوية فى الوطن العربى . انتشار السياحة البيئية .
- ٥ التقدم التكنولوجى بالنسبة للتجارة . ظهور التجارة الإلكترونية .
- ٦ تركيز التبادل العربى مع دول الجوار . ضعف التجارة البينية العربية .

مجاب عنها

السؤال الأول: أكمل العبارات التالية بالكلمات المناسبة:

- ١ قامت الدولة الإسلامية على عدة أسس منها..... و.....
- ٢ أشار على النبي ﷺ بحفر الخندق الصحابي
- ٣ يؤدي وجود الشعاب المرجانية في البحر الأحمر إلى إعاقة قيام
- ٤ يحد الوطن العربي من جهة الشمال البحر..... وجبال
- ٥ تُعد الكثبان الرملية من التجمعات الرملية التي تكوّنت بفعل
- ٦ تسعى الدول العربية إلى تقليل انبعاثات الغازات الدفيئة من خلال
- ٧ نزل الوحي على رسول الله ﷺ عندما كان يتعبد في غار
- ٨ من أعمال الخليفة أبي بكر الصديق ؓ و.....
- ٩ أنشأ الخليفة عمر بن الخطاب ؓ بعض الدواوين مثل ديوان
- ١٠ كان النجاشي ملكاً عادلاً؛ لذلك أمر الرسول ﷺ أصحابه بالهجرة إلى
- ١١ يحل فصل الصيف على الوطن العربي عندما تتعامد الشمس على
- ١٢ يسود معظم الوطن العربي إقليم المناخ
- ١٣ يُعد استخراج المعادن ومصادر الطاقة كالبتترول من الصناعات
- ١٤ تعد زيارة عين «ماعين» في الأردن من السياحة

السؤال الثاني: اكتب كلمة (صواب) أمام العبارة الصحيحة، وكلمة (خطأ) أمام العبارة غير الصحيحة:

- ١ كان لمخالفة المشاة أوامر النبي ﷺ أثره في هزيمة الجيش في غزوة أحد. ()
- ٢ حرص النبي ﷺ بعد الهجرة إلى المدينة على المؤاخاة بين المهاجرين واليهود. ()
- ٣ تشرف دولة الإمارات على مضيق هرمز. ()
- ٤ زيادة المساحات الخضراء تسهم في حل مشكلة التغير المناخي. ()
- ٥ يمتد بحر الرمال بين مصر والسودان. ()
- ٦ يسهم الرعي الجائر للحيوانات في تناقص مساحة الأراضي الزراعية. ()
- ٧ تم نقل مقر الخلافة إلى الكوفة في عهد علي بن أبي طالب ؓ. ()
- ٨ تمت كتابة القرآن الكريم في مصحف واحد لتوحيد قراءته في كل البلاد الإسلامية. ()
- ٩ من رحلات العرب التجارية رحلة الصيف إلى الشام. ()
- ١٠ يتسم مناخ الإسكندرية بسمات إقليم البحر المتوسط. ()

- ١١ ينتشر نبات الصبار في الإقليم الصحراوي . ()
- ١٢ أولى الدول العربية إنتاجًا للفوسفات هي دولة المغرب . ()
- ١٣ إذا أردت التمتع بالتسوق في أضخم المراكز التجارية وأحدثها فعليك التوجه إلى دولة الكويت . ()
- ١٤ تساعد التجارة الإلكترونية على خفض أسعار السلع والخدمات . ()

السؤال الثالث: ضَعْ خَطًّا تحت الإجابة الصحيحة مما بين القوسين:

- ١ الدولة العربية التي تقع في الجناح الإفريقي هي (العراق - قطر - الجزائر - السعودية)
- ٢ من الجبال الالتيوائية في الوطن العربي جبال (أطلس - عسير - اليمن - البحر الأحمر)
- ٣ تكون بحر الرمال العظيم بسبب
(الحركات البركانية - التعرية الهوائية - الحركات الالتيوائية - التعرية المائية)
- ٤ عفا الرسول ﷺ عن أهل مكة بعد (غزوة بدر - فتح مكة - فتح المدينة - صلح الحديبية)
- ٥ المشكلة البيئية التي ترتبط بمشكلة الرعي الجائر هي
(تملح التربة - التصحر - ندرة المياه العذبة - نقص الغذاء)
- ٦ أصغر دول الوطن العربي مساحة (البحرين - تونس - جيبوتي - فلسطين)
- ٧ تتأثر الزراعة سلبيًا في الوطن العربي بسبب
(التغير المناخي - تحلية مياه البحر - تدريب الأيدي العاملة - زيادة كمية الأمطار)
- ٨ يأتي معظم إنتاج مصر من الأسماك من (البحار - الأنهار - المحيطات - المزارع السمكية)
- ٩ لتجنب أذى قريش بدأ الرسول ﷺ بالدعوة (العلنية - الجهرية - السرية - العالمية)
- ١٠ من أشهر رحلات العرب التجارية رحلة الشتاء إلى (مكة - اليمن - الشام - يثرب)
- ١١ من أعمال الخليفة أبي بكر الصديق ؓ
(محاربة المرتدين - تنظيم الشرطة - إنشاء ديوان الجند - إنشاء ديوان بيت المال)
- ١٢ تم إنشاء أسطول بحري لتأمين مصر والشام من هجمات
(قريش - الروم - الصليبيين - العرب)
- ١٣ يحل فصل الشتاء على الوطن العربي عندما تتعامد الشمس على
(مدار الجدى - دائرة الاستواء - مدار السرطان - خط جرينتش)
- ١٤ تُعد السعودية أولى الدول العربية إنتاجًا لـ
(البتترول - الغاز الطبيعي - الألومنيوم - الفوسفات)
- ١٥ من أسباب ضعف التجارة البينية العربية
(رفع الحواجز الجمركية - التشابه الكبير بين المنتجات العربية - زيادة منصات التجارة الإلكترونية - إنشاء منظمة التجارة الحرة)

السؤال الرابع اكتب تفسيراً واحداً لكل عبارة من العبارات التالية:

- ١ الأهمية الحضارية والثقافية للوطن العربي
- ٢ تكون جبال البحر الأحمر
- ٣ حرص النبي ﷺ على المؤاخاة بين المهاجرين والأنصار
- ٤ بناء النبي ﷺ لمسجد في المدينة
- ٥ تتعرض كثير من الدول العربية لخطر الجفاف
- ٦ أهمية الثروة الحيوانية لوطننا العربي
- ٧ محاربة قريش للدعوة الإسلامية
- ٨ نقل مقر الخلافة إلى الكوفة في عهد علي بن أبي طالب (ع)
- ٩ كانت الدعوة إلى الإسلام في بدايتها دعوة سرية
- ١٠ إصرار الخليفة أبي بكر الصديق (ع) على محاربة المرتدين
- ١١ تكليف زيد بن ثابت بجمع القرآن الكريم
- ١٢ ضعف تأثير المسطحات المائية في الوطن العربي بشكل عام
- ١٣ ارتفاع الحرارة بشكل عام في الوطن العربي صيفاً
- ١٤ أهمية المحميات الطبيعية للوطن العربي
- ١٥ ضرورة الاهتمام بالسياحة العربية

السؤال الخامس اكتب نتيجة واحدة ترتبت على كل مما يلي:

- ١ تحكم الوطن العربي في ممرات بحرية مهمة
- ٢ وجود الواحات في الصحارى العربية
- ٣ عداء قريش للدعوة الإسلامية
- ٤ عقد صلح الحديبية بين المسلمين وقريش
- ٥ المشكلات البيئية التي يعاني منها الوطن العربي
- ٦ ارتداد بعض القبائل العربية عن الإسلام في عهد الخليفة أبي بكر الصديق (ع)
- ٧ ظهور الإسلام في شبه الجزيرة العربية
- ٨ سرية الدعوة الإسلامية في بدايتها
- ٩ إنشاء أول أسطول بحري في الإسلام
- ١٠ اهتمام الخليفة علي بن أبي طالب (ع) بتنظيم الشرطة
- ١١ تعامد الشمس على مدار السرطان في الوطن العربي

- ١٢ غنى الوطن العربي بالمواد الخام ومصادر الطاقة
- ١٣ وجود مناطق استشفاء من الكثير من الأمراض في الوطن العربي
- ١٤ التشابه الكبير بين السلع والخدمات التي تنتجها الدول العربية

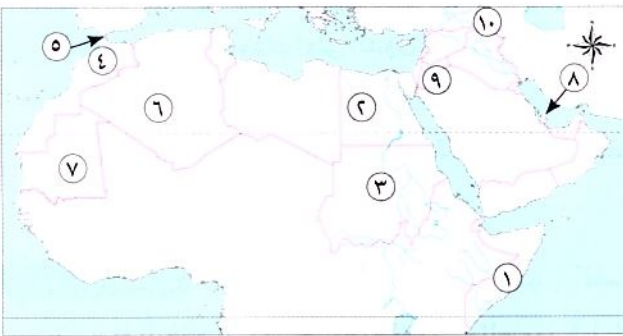
السؤال السادس اكتب دليلاً واحداً على صحة العبارات التالية:

- ١ تسامح النبي ﷺ مع أهل مكة
- ٢ تنوع مصادر الحصول على الأسماك في الوطن العربي
- ٣ محاربة قريش للدعوة الإسلامية بكافة الطرق
- ٤ اهتمام الدول العربية بالتنمية الزراعية
- ٥ اهتمام الخليفة علي بن أبي طالب رضي الله عنه بأمن وسلامة المواطنين

السؤال السابع ما العلاقة بين كل من ...؟

- ١ الدعوة السرية ونشر الإسلام
- ٢ الأمن الغذائي والثروة الحيوانية
- ٣ التغير المناخي والثروة الحيوانية
- ٤ المسطحات المائية والمناخ
- ٥ المواد الخام والصناعة

السؤال الثامن اكتب مدلول الأرقام على الخريطة:



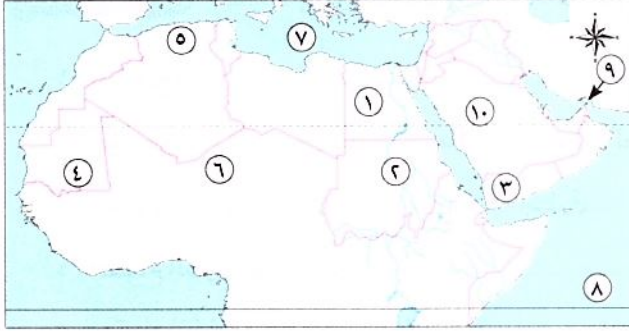
- ١ أكثر الدول العربية تعرضاً للجفاف
- ٢ أولى الدول العربية إنتاجاً للحبوب الغذائية
- ٣ أولى الدول العربية إنتاجاً للقطن والكتان
- ٤ أولى الدول العربية في إنتاج الأسماك من المصايد البحرية
- ٥ مضيق
- ٦ أكبر الدول العربية مساحة
- ٧ أولى الدول العربية إنتاجاً للحديد
- ٨ أولى الدول العربية إنتاجاً للغاز الطبيعي
- ٩ دولة تنتشر فيها السياحة العلاجية حيث عين ما عين
- ١٠ جبال

الفصل الدراسي الأول

بنك أسئلة الأضواء

مجاب عنه

السؤال الأول: أمامك خريطة صماء للوطن العربي، اكتب ما تدل عليه الأرقام:



- ١ دولة تنتج التمور.....
 ٢ أولى الدول العربية في تربية الأبقار.....
 ٣ دولة تتركز بها زراعة البن.....
 ٤ إقليم مناخى.....
 ٥ جبال.....
 ٦ الصحراء.....
 ٧ البحر.....
 ٨ المحيط.....
 ٩ مضيق.....
 ١٠ أولى الدول إنتاجاً للبتترول.....

السؤال الثاني: أكمل العبارات الآتية بما يناسبها من كلمات:

- ١ أكبر الدول العربية من حيث المساحة دولة.....
 ٢ توجد النسبة الكبرى من مساحة الوطن العربي في قارة.....
 ٣ يحد الوطن العربي من جهة الشرق خليج..... والخليج.....
 ٤ الذى أشار على النبي ﷺ بحفر خندق حول المدينة هو.....
 ٥ ساعدت السهول الفيضية في مصر والعراق على قيام.....
 ٦ تتميز الدولة الواقعة بالإقليم المناخى المدارى بشتاء..... وصيف.....
 ٧ المنظمة العالمية المسئولة عن الأغذية والزراعة.....
 ٨ يتركز إنتاج القطن والكتان في دولتي..... و.....
 ٩ تعد دولة السودان أولى الدول العربية في إنتاج.....
 ١٠ تتمثل أعلى نسبة صادرات عربية في.....
 ١١ يُعد حضور السياح كأس العالم لكرة القدم في قطر عام ٢٠٢٢ م سياحة.....
 ١٢ تأتي قطر في المركز الأول في إنتاج.....

السؤال الثالث: اكتب كلمة (صواب) أمام العبارة الصحيحة، وكلمة (خطأ) أمام العبارة غير الصحيحة:

- ١ ساد النظام الملكى فى شبه الجزيرة العربية قبل الإسلام. ()
 ٢ عمل الرسول ﷺ بحرفة الزراعة. ()
 ٣ رفضت قريش الدعوة إلى الإسلام. ()
 ٤ اتفقت قريش على قتل الرسول ﷺ ومنعه من الهجرة. ()
 ٥ ظهر نظام الخلافة عند المسلمين بعد وفاة الرسول ﷺ. ()
 ٦ عين الخليفة عثمان بن عفان ؓ شرطة لحراسة بيت المال. ()

- ٧ خصص الخليفة على بن أبي طالب ﷺ يوماً للنظر في مظالم الناس .
 ()
 ٨ تزداد كمية الأمطار المتساقطة على المناطق الداخلية للمرتفعات .
 ()
 ٩ يشغل معظم مساحة الوطن العربي الإقليم الصحراوي .
 ()
 ١٠ يحدث الجفاف نتيجة نقص كمية الأمطار المتساقطة .
 ()
 ١١ القمح والقطن من المحاصيل السكرية بالوطن العربي .
 ()
 ١٢ تُعد دولة مصر أولى الدول العربية في تربية الأبقار .
 ()
 ١٣ واحة العين توجد بدولة السعودية .
 ()

السؤال الرابع: اختر الإجابة الصحيحة مما بين الأقواس:

- ١ يصل مضيق جبل طارق بين البحر المتوسط والمحيط (الأطلنطي - الهندي - الهادي - القطبي)
 ٢ يبلغ عدد الممرات المائية التي يتحكم فيها الوطن العربي ممرات . (ثلاثة - أربعة - خمسة - ستة)
 ٣ كانت هجرة المسلمين الثانية إلى مدينة (الحبشة - يثرب - الطائف - حنين)
 ٤ آخر الخلفاء الراشدين هو الخليفة ﷺ .
 (أبو بكر الصديق - عمر بن الخطاب - عثمان بن عفان - علي بن أبي طالب)
 ٥ أرسل أبو بكر الصديق ﷺ جيش أسامة بن زيد إلى (العراق - اليمن - مصر - الشام)
 ٦ غزوة انتصر فيها المسلمون على قريش دون قتال (بدر - أحد - الخندق - تبوك)
 ٧ يعاني نحو مساحة الوطن العربي من مشكلة التصحر. (ثلث - ثلثي - ربع - نصف)
 ٨ إقليم مناخى يقع جنوب الوطن العربي (الصحراوي - الموسمي - المداري - البحر المتوسط)
 ٩ دائرة عرض تمر جنوب الوطن العربي (مدار الجدى - دائرة الاستواء - مدار السرطان - الدائرة القطبية)
 ١٠ ينتج الوطن العربي من البترول أكثر من الإنتاج العالمى . (نصف - ثلث - ربع - عشر)
 ١١ أى مما يلي يعد من معوقات التجارة البينية؟ (تنوع الإنتاج - تنوع الصادرات - تطور التكنولوجيا - تشابه الإنتاج)
 ١٢ أولى الدول العربية في تربية الدواجن (مصر - السودان - المغرب - الجزائر)
 ١٣ تعتمد الزراعة في الأجزاء الشمالية من الوطن العربي على مياه (الأنهار - التحلية - الأمطار - الجوفية)

السؤال الخامس: صوب ما تحته خط:

- ١ كان نظام الحكم السائد في شبه الجزيرة العربية النظام الملكي .
 ٢ نزلت رسالة الإسلام على الرسول ﷺ في غار ثور .
 ٣ استمرت الدعوة الجهرية إلى الإسلام ثلاث سنوات .
 ٤ ولد الرسول ﷺ في يثرب .
 ٥ درجات الحرارة وكمية الأمطار تتشابه بين دول الوطن العربي .
 ٦ المسطحات المائية يزداد تأثيرها في الوطن العربي .
 ٧ يوجد بالوطن العربي خمسة أقاليم مناخية كبرى .

- ٨ المحميات الطبيعية والمناطق الصحراوية تنتشر بها السياحة الثقافية.
٩ تُعد دولة مصر أولى الدول العربية في تربية الأبقار.

السؤال السادس اكتب ما تشير إليه العبارات الآتية:

- ١ زوجة الرسول ﷺ أثناء بداية نزول الوحي. (.....)
٢ نظام أنشأه الخليفة عمر بن الخطاب ؓ لإدارة بيت المال والجند. (.....)
٣ نظام أنشئ في عهد الخليفة علي بن أبي طالب ؓ بهدف الحفاظ على أمن وسلامة المواطنين. (.....)
٤ وثيقة وضعها الرسول ﷺ لتنظيم شؤون المسلمين في المدينة. (.....)
٥ أولى غزوات المسلمين ضد قريش. (.....)
٦ إقليم مناخى يمتد من الخليج العربى شرقاً حتى ساحل موريتانيا غرباً. (.....)
٧ مورد مائى يوجد بالصحراء وتقوم عليه الزراعة. (.....)

السؤال السابع بم تفسر...؟

- ١ الأهمية الاقتصادية لموقع الوطن العربى.....
٢ رفض قريش لدعوة الإسلام.....
٣ تنوع النباتات الطبيعية والحيوانات البرية فى الوطن العربى.....
٤ أهمية الأودية الجافة فى الوطن العربى.....
٥ أهمية المحميات الطبيعية فى الوطن العربى.....
٦ أهمية حشائش الإستبس فى الوطن العربى.....
٧ اتجهت معظم الدول العربية لاستخدام مصادر طاقة نظيفة وإنشاء مدن ذكية.....
٨ الأهمية الاقتصادية للسياحة فى الوطن العربى.....
٩ قيام الزراعة فى الأجزاء الشمالية للوطن العربى.....
١٠ ضعف التجارة بين الدول العربية.....

السؤال الثامن ما النتائج المترتبة على...؟

- ١ امتداد الوطن العربى بين قارتى إفريقيا وآسيا واقترابه من أوروبا.....
٢ صلح الحديبية عام ٦ هـ.....
٣ استشهاد عدد كبير من حفظة القرآن الكريم فى حرب المرتدين.....
٤ تنوع المناخ فى الوطن العربى.....

السؤال التاسع دلل على صحة العبارات الآتية:

- ١ يؤثر المناخ على الأنشطة البشرية مثل الطيران.....
٢ سيادة النظام القبلى فى شبه الجزيرة العربية.....
٣ للدول العربية جهود فى دعم التجارة الإلكترونية.....
٤ تعدد أنواع السياحة العربية.....

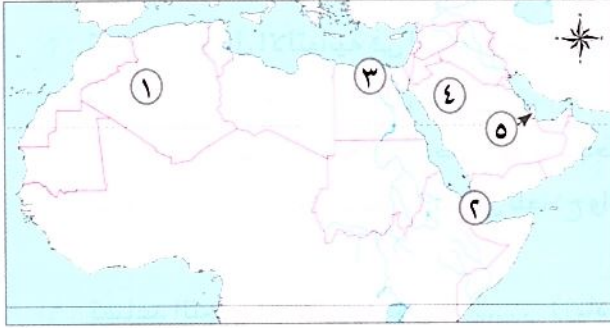
امتحانات المحافظات والإدارات للعام الدراسي ٢٠٢٣/٢٠٢٤م

تم تعديل امتحانات المحافظات والإدارات وفقاً لأحدث تعديلات وزارية ٢٠٢٤-٢٠٢٥م

مجاب عنه

١- محافظة القاهرة - إدارة حلوان التعليمية

السؤال الأول (١) أمامك خريطة صماء للوطن العربي، وضع مدلول الأرقام:



- ١ دولة
- ٢ مضيق
- ٣ إقليم مناخي
- ٤ هضبة
- ٥ أولى الدول المنتجة للغاز

(ب) اكتب تفسيراً واحداً: نجاح خطة هجرة الرسول ﷺ إلى يثرب.

السؤال الثاني (١) اكتب كلمة (صواب) أمام العبارة الصحيحة، وكلمة (خطأ) أمام العبارة غير الصحيحة:

- ١ كانت حرفة الزراعة إحدى الحرف السائدة في شبه الجزيرة العربية. ()
- ٢ انتهى عصر الخلفاء الراشدين بنهاية حكم الخليفة علي بن أبي طالب عليه السلام. ()
- ٣ تنخفض درجات الحرارة جنوب الوطن العربي. ()
- ٤ تقوم الزراعة في الأجزاء الجنوبية بالوطن العربي اعتماداً على الأمطار. ()
- ٥ يتوسع الوطن العربي في إنتاج الطاقة المتجددة مثل الهيدروجين الأخضر. ()

(ب) قارن بين الذهب والفوسفات من حيث أولى دول الوطن العربي المنتجة لكل منهما، والصناعات التي يدخل فيها:

أوجه المقارنة	الذهب	الفوسفات
أولى الدول المنتجة
صناعات يدخل فيها

السؤال الثالث (١) أكمل الجمل الآتية باستخدام بنك الكلمات:

(المدارى - الحديدية - الأزهر الشريف - المغرب - الوقود)

- ١ يضم الوطن العربي أماكن مقدسة مثل
- ٢ تم نشر دعوة الإسلام خارج الجزيرة العربية بعد صلح
- ٣ أعلى نقطة في وطننا العربي توجد في دولة
- ٤ يعيش الزراف والأسود بالإقليم
- ٥ من الصادرات العربية للعالم و.....

(ب) اذكر اثنين: من جهود الدول العربية لتنمية الثروة الحيوانية.

- ١
- ٢

(السؤال الرابع) (١) اختر الإجابة الصحيحة مما بين القوسين:

- ١ توجد النسبة الكبرى من مساحة الوطن العربي في قارة (آسيا - إفريقيا - أوروبا - أستراليا)
- ٢ تعد من الجبال الالتوائية في الوطن العربي جبال (عسير - البحر الأحمر - عمان - الحجاز)
- ٣ دائرة عرض تمر جنوب الوطن العربي (جرينتش - السرطان - الاستواء - الجدى)
- ٤ تتنوع المحاصيل الزراعية في الوطن العربي نتيجة تنوع (التربة - الأيدي العاملة - الأسواق - المناخ)
- ٥ يهدف السياح إلى زيارة بعض الأماكن للعلاج والاستشفاء مثل زيارة في الأردن.
- ٦ تساعد التجارة الإلكترونية على (زيادة التلوث - ارتفاع الأسعار - تقليل الازدحام - إهدار الوقت)

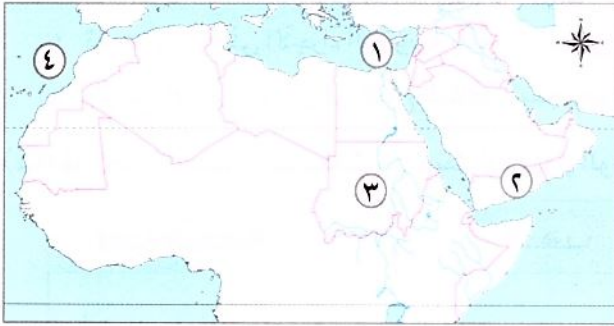
(ب) ما العلاقة بين...؟ التغيرات المناخية والثروة السمكية.

.....

مجاب عنه

٢- محافظة الجيزة - إدارة الوراق التعليمية

(السؤال الأول) (١) أمامك خريطة صماء للوطن العربي، اكتب مدلول الأرقام الموقعة عليها:



- ١ البحر
- ٢ أولى الدول في إنتاج البن
- ٣ من الدول المنتجة للذهب
- ٤ المحيط

(ب) اكتب المصطلح الذي تشير إليه كل عبارة مما يأتي:

- ١ تناقص قدرة الأراضي الزراعية على الإنتاج. (.....)
- ٢ زيارة الأماكن المقدسة مثل المسجد الحرام في السعودية. (.....)
- ٣ الصادرات والواردات من السلع والخدمات بين الدول العربية ودول العالم. (.....)

(السؤال الثاني) (١) اكتب كلمة (صواب) أمام العبارة الصحيحة، وكلمة (خطأ) أمام العبارة غير الصحيحة:

- ١ يقع الوطن العربي وسط قارات العالم الجديد. ()
- ٢ من العادات الحسنة للعرب قبل الإسلام الشجاعة. ()
- ٣ يعتبر الخليفة عمر بن الخطاب رضي الله عنه الخليفة الثاني. ()
- ٤ تتميز المناطق الساحلية بارتفاع الحرارة صيفاً. ()
- ٥ من محاصيل الحبوب الغذائية قصب السكر. ()
- ٦ فقر المراعي من المشكلات التي تواجه الثروة الحيوانية. ()

(ب) بم تفسر...؟ (يكتفى بذكر سبب واحد):

- حرص النبي ﷺ على المؤاخاة بين المهاجرين والأنصار.

السؤال الثالث (١) اختر الإجابة الصحيحة من بين الأقواس:

- ١ أصغر الدول العربية مساحة (قطر - فلسطين - سوريا - البحرين)
- ٢ من أشهر رحلات العرب التجارية رحلة الشتاء إلى (اليمن - الشام - مكة - يثرب)
- ٣ يقع في الأطراف الجنوبية للوطن العربي إقليم (البحر المتوسط - المدارى - الصحراوي - الموسمي)
- ٤ أعلنت السعودية عن إنشاء مدينة الخضراء. (نيوم - جدة - الرياض - مصدر)
- ٥ يدخل معدن في الصناعات الثقيلة والمنشآت والكبارى. (الذهب - المنجنيز - الحديد - الفوسفات)

(ب) ما النتائج المترتبة على...؟ (يكتفى بنتيجة واحدة):

١ اشتداد إيذاء قريش للرسول ﷺ وأصحابه في مكة.

٢ اهتمام الخليفة على بن أبي طالب ﷺ بتنظيم الشرطة.

السؤال الرابع (١) صوب ما تحته خط في العبارات الآتية:

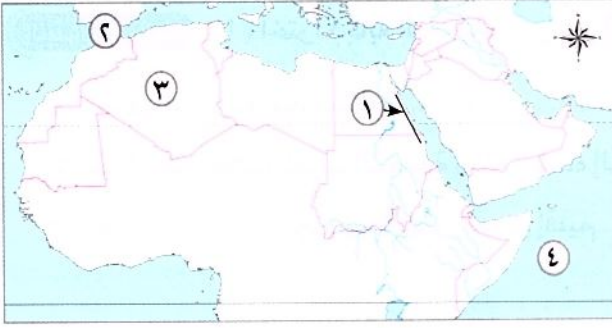
- ١ جبال البحر الأحمر من الجبال الالتوائية.
- ٢ تقع محمية جبل علبة في إريتريا.
- ٣ من مقومات الزراعة الطبيعية الأيدي العاملة.
- ٤ استخراج المعادن ومصادر الطاقة صناعة تحويلية.

(ب) أكمل العبارات الآتية بما يناسبها من كلمات:

(الموقع الفلكي - الهوائية - السمكية - عثمان بن عفان)

- ١ تتكون التجمعات الرملية بفعل التعرية
- ٢ من العوامل المؤثرة في المناخ
- ٣ تم إنشاء أول أسطول بحري في عهد ﷺ .
- ٤ تساهم الثروة في سد العجز من البروتين الحيواني.

السؤال الأول (١) أمامك خريطة صماء للوطن العربي، اكتب مدلول الأرقام:



١ يشير الرقم إلى أكبر الدول العربية مساحة.

٢ مضيق.....

٣ يشير الرقم (١) إلى جبال.....

٤ المحيط.....

(ب) دلل على صحة العبارتين التاليتين:

١ للوطن العربي أهمية دينية كبيرة.

٢ تواجه الزراعة في الوطن العربي العديد من المشكلات.

السؤال الثاني (١) اكتب كلمة (صواب) أمام العبارة الصحيحة، وكلمة (خطأ) أمام العبارة غير الصحيحة:

١ تنخفض درجات الحرارة جنوب الوطن العربي. ()

٢ تنمو حشائش الإستبس في الإقليم المدارى. ()

٣ تم نقل مقر الخلافة إلى الكوفة في عهد الخليفة على بن أبي طالب (ع). ()

(ب) ما العلاقة بين...؟

١ المناخ والرحلات الجوية.....

٢ حرب المرتدين وجمع القرآن الكريم.....

السؤال الثالث (١) اختر الإجابة الصحيحة من بين الأقواس:

١ أولى الدول العربية في تربية الإبل دولة..... (مصر - الصومال - المغرب - السودان)

٢ حضور السياح كأس العالم لكرة القدم في قطر يعد سياحة..... (ثقافية - ترفيهية - بيئية - رياضية)

٣ من الجبال الالتوائية في الوطن العربي جبال..... (أطلس - عسير - اليمن - الحجاز)

٤ واحة في مصر تم تصنيفها كأحد مواقع التراث الزراعي العالمي هي.....

(الخارجة - الداخلة - سيوة - الفرافرة)

(ب) أعط تفسيراً لما يلي:

١ تهتم الدول العربية بتربية الدواجن.....

٢ أنشأ الخليفة عثمان بن عفان (ع) أسطولاً بحرياً.....

السؤال الرابع (١) اكتب ما تشير إليه العبارات الآتية:

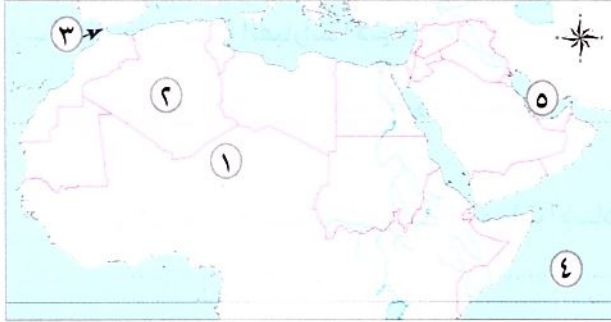
- ١ تناقص قدرة الأراضي الزراعية على الإنتاج. (.....)
- ٢ عملية يتم من خلالها تحويل المواد الخام لتصبح منتجات صالحة للاستخدام. (.....)
- ٣ أولى غزوات المسلمين ضد قريش. (.....)

(ب) أكمل الجدول التالي:

وجه المقارنة	معدن (١)	معدن الفوسفات
الأهمية الاقتصادية	يستخدم في صناعة الحلى وتستخدم ذراته في علاج بعض الأمراض	يستخدم في صناعة (٢) و (٣)
أهم الدول المنتجة	دولة (٤)	دولة (٥)

٤- محافظة القليوبية - إدارة طوخ التعليمية

السؤال الأول (١) أمامك خريطة صماء للوطن العربي، اكتب مدلول الأرقام:



- ١ يشير رقم (١) إلى الصحراء
- ٢ يشير رقم (٢) إلى أكبر الدول العربية مساحة
- ٣ يشير الرقم (٣) إلى مضيق
- ٤ يشير الرقم (٤) إلى المحيط
- ٥ يشير الرقم (٥) إلى الخليج

(ب) قارن بين: - موقف قريش من دعوة الرسول وأساليب الرسول ﷺ في مواجهة عداء قريش.

السؤال الثاني (١) اكتب كلمة (صواب) أمام العبارة الصحيحة، وكلمة (خطأ) أمام العبارة غير الصحيحة:

- ١ اجتمع زعماء قريش في دار الأرقم وتأمروا على قتل الرسول ﷺ. ()
- ٢ تم تنظيم الشرطة في عهد عثمان بن عفان. ()
- ٣ ساعد تنوع مظاهر السطح على تنوع الأنشطة الاقتصادية. ()
- ٤ تسقط الأمطار بغزارة على منحدرات الجبال المواجهة للرياح الجافة. ()
- ٥ تنمو حشائش السافانا في الإقليم المدارى بالوطن العربي. ()
- ٦ كانت أول هجرة في الإسلام إلى الطائف. ()

(ب) اكتب نتيجة واحدة ترتبت على:

١ تعرض الصومال لأكثر موجة جفاف في الوطن العربي.

٢ صلح الحديبية بين المسلمين والمشركين.

السؤال الثالث (١) اختر الإجابة الصحيحة من بين القوسين:

١ أولى الدول العربية إنتاجاً للتمور..... (المغرب - السعودية - الجزائر - مصر)

٢ صناعة تحويلية توجد بالوطن العربي.....

(إنتاج المنجنيز - استخراج البترول - البتروكيماويات - تعدين الحديد)

٣ أحد أماكن السياحة الدينية في فلسطين.....

(ديرسانت كاترين - كنيسة القيامة - الكعبة المشرفة - الأزهر الشريف)

٤ تبادل السلع والخدمات باستخدام الإنترنت تسمى.....

(مقايضة - تجارة إلكترونية - تجارة خارجية - صناعة)

٥ تعتمد الزراعة في الأجزاء الشمالية من الوطن العربي على مياه.....

(الأنهار - التحلية - الأمطار - الجوفية)

(ب) دلل على صحة العبارات الآتية:

١ تهتم الدول العربية بتنمية الثروة السمكية.

٢ استكمل عمر بن الخطاب رضي الله عنه حركة الفتوحات الإسلامية التي بدأها الخليفة أبو بكر الصديق رضي الله عنه.

السؤال الرابع (١) اكتب ما تشير إليه العبارات الآتية:

١ غزوة تحول فيها نصر المسلمين إلى هزيمة.

٢ رفضوا دفع الزكاة وادعى بعضهم النبوة.

٣ الحركات الباطنية التي أدت إلى تكون جبال أطلس.

٤ الدولة التي أطلقت مبادرة زراعة ٤٥٠ مليون شجرة.

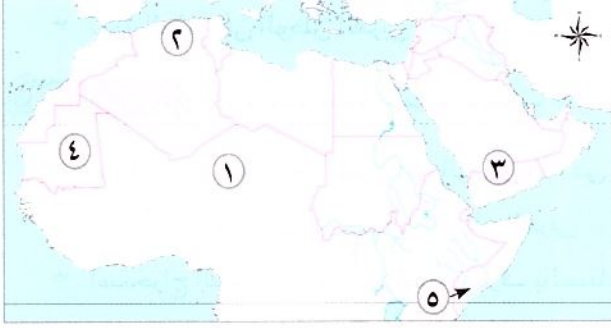
٥ يتم من خلالها تحويل المواد الخام لتصبح منتجات صالحة للاستخدام.

٦ جبال نشأت نتيجة لحركات باطنية تعرضت لها الأرض.

(ب) ١ ما النتائج المترتبة على...؟ وجود مياه جوفية في الواحات بالوطن العربي.

٢ دلل على صحة العبارة: تتعرض التجارة الإلكترونية لكثير من المخاطر.

السؤال الأول (١) أمامك خريطة صماء للوطن العربي، اكتب مدلول الأرقام:



- ١ الصحراء
- ٢ جبال
- ٣ هضبة
- ٤ دولة
- ٥ إقليم مناخي

(ب) بم تفسر...؟

- ١ تكون الثلوج على مرتفعات لبنان
- ٢ اجتماع زعماء قريش في دار الندوة أثناء الدعوة للإسلام
- ٣ قيام الزراعة في الوطن العربي

السؤال الثاني (١) اختر الإجابة الصحيحة من بين القوسين:

- ١ ظاهرة طبيعية تحد الوطن العربي من ناحية الشرق
- (المحيط الأطلنطي - البحر المتوسط - جبال كردستان - الصحراء الكبرى)
- ٢ أرسله أبو بكر رضي الله عنه للشام لقتال الروم في أول خلافته
- (أسامة بن زيد - سلمان الفارسي - عمرو بن العاص - خالد بن الوليد)
- ٣ تسقط الأمطار الموسمية صيفاً على
- (جبال الحجاز - مرتفعات اليمن - جبال أطلس - جبال زاغروس)
- ٤ أحد المقومات البشرية لقيام الزراعة في الوطن العربي ... (المياه العذبة - وسائل النقل - تنوع المناخ - التربة الخصبة)
- ٥ زيارتك لشواطئ لبنان تعد سياحة
- (ترفيهية - علاجية - ثقافية - دينية)

(ب) ما العلاقة بين...؟

- ١ الروم والأسطول البحري الإسلامي
- ٢ المياه الجوفية والواحات

السؤال الثالث (١) اكتب كلمة (صواب) أمام العبارة الصحيحة وكلمة (خطأ) أمام العبارة غير الصحيحة:

- ١ اتبع المسلمون نظام التوريث في اختيار الخلفاء الراشدين رضي الله عنهم. ()
- ٢ بدأ التقويم الهجري بهجرة المسلمين إلى الحبشة. ()
- ٣ تشمل المحاصيل السكرية قصب السكر والبنجر. ()
- ٤ واحة العين المصرية اختيرت ضمن مناطق التراث الزراعي العالمي. ()
- ٥ تدخل ذرات الذهب في علاج بعض الأمراض. ()

(ب) اذكر نتيجة واحدة ترتبت على كل مما يأتي:

- ١ اقتراب الصحارى والمرتفعات من السواحل
- ٢ غزوة الخندق عام (٥) هجرياً
- ٣ تنوع المناخ في الوطن العربي

السؤال الرابع (١) أكمل مكان النقط بكلمات مناسبة:

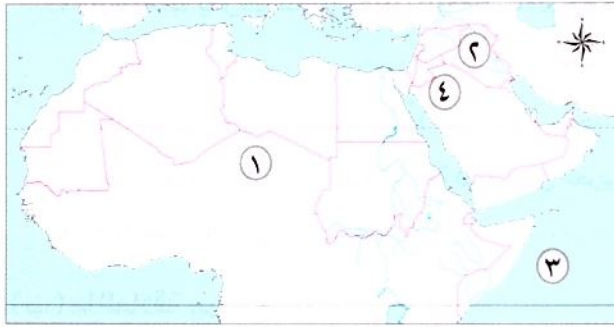
- ١ غزوة تحول فيها نصر المسلمين إلى هزيمة، هي غزوة
- ٢ تمتد سلاسل جبال الحجاز في الجناح العربي
- ٣ استخراج المعادن ومصادر الطاقة يعرف بالصناعات
- ٤ نقل على بن أبي طالب ﷺ مقر الخلافة الإسلامية إلى
- ٥ الصادرات والواردات بين الدول العربية والعالم تعرف بالتجارة

(ب) أجب عما يأتي:

- ١ حدد اثنين من جهود الدول العربية للنهوض بالصناعة
- ٢ ما النتائج المترتبة على...؟ غزوة بدر؟ هـ

٦- محافظة الدقهلية - إدارة تمى الأمديد التعليمية

السؤال الأول (١) أمامك خريطة صماء للوطن العربي، اكتب ما تشير إليه الأرقام:



- ١ يشير رقم (١) إلى الصحراء
- ٢ يشير رقم (٢) إلى دولة منتجة للعنب
- ٣ يشير رقم (٣) إلى المحيط
- ٤ يشير رقم (٤) إلى هضبة

(ب) بم تفسر...؟

- ١ أهمية رأس المال للزراعة في الوطن العربي
- ٢ تعاني معظم الدول العربية من ندرة المياه العذبة

السؤال الثاني (١) اكتب كلمة (صواب) أمام العبارة الصحيحة، وكلمة (خطأ) أمام العبارة غير الصحيحة:

- ١ أشهر القبائل العربية قبيلة قريش. ()
- ٢ تنخفض درجات الحرارة جنوب الوطن العربي. ()
- ٣ إنتاج اللحوم الحمراء يكفى حاجة استهلاك السكان في الوطن العربي. ()
- ٤ جعل الرسول ﷺ أثناء مرضه عمر بن الخطاب ﷺ إماماً للمسلمين في الصلاة. ()
- ٥ تعاني الدول العربية من مشكلات تؤثر على البيئة. ()

(ب) وضع العلاقة بين:

- حرب المرتدين وجمع القرآن الكريم.....

السؤال الثالث (١) أكمل العبارة الآتية بما يناسبها من بنك الكلمات:

(المائية - الشام - السافانا - الثقيلة - الهوائية - الإستبس - الخفيفة - مصر)

- ١ تربي الأغنام والماعز في إقليم البحر المتوسط على حشائش.....
- ٢ يستخدم معدن الحديد في الصناعات.....
- ٣ جهز الرسول ﷺ قبل وفاته جيشًا بقيادة أسامة بن زيد إلى.....
- ٤ تكونت الكثبان الرملية في الوطن العربي نتيجة التعرية.....

(ب) ما الأثر الناتج عن...؟

١ صلح الحديبية ٦هـ.

٢ تعامد الشمس على مدار السرطان صيفًا بالوطن العربي.

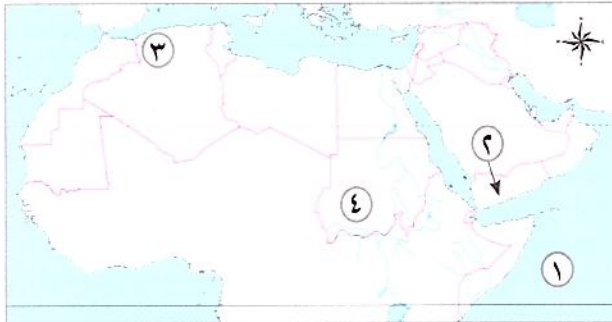
السؤال الرابع (١) ضع خطًا تحت الإجابة الصحيحة فيما بين القوسين:

- ١ يمتد الإقليم المدارى فى الوطن العربي. (شمال - جنوب - شرق - غرب)
- ٢ تعد الصومال أولى الدول العربية فى تربية (الأبقار - الجاموس - الدواجن - الإبل)
- ٣ أولى غزوات الرسول ﷺ ضد قريش هى غزوة..... (أحد - بدر - الخندق - تبوك)
- ٤ توفر التجارة العربية العملات..... (المعدنية - المحلية - الأجنبية - الإقليمية)
- ٥ يندر سقوط الأمطار فى الوطن العربي على..... (الجبال - السهول - الأودية - الصحراء)

(ب) ما مصداقية العبارة الآتية...؟ يتمتع وطننا العربي بكافة مقومات السياحة.

٧- محافظة كفر الشيخ - إدارة دسوق التعليمية

السؤال الأول (١) أمامك خريطة صماء للوطن العربي، اكتب مدلول الأرقام عليها:



- ١ مسطح مائى
- ٢ دولة آسيوية
- ٣ من الجبال الالتوائية
- ٤ إقليم مناخى

(ب) ما المقصود بكل من ...؟

- ١ الصناعة الخضراء
- ٢ الإقليم المناخى

السؤال الثانى (١) اكتب كلمة (صواب) أمام العبارة الصحيحة، وكلمة (خطأ) أمام العبارة غير الصحيحة:

- ١ عمل الرسول ﷺ بحرفتى الرعى والتجارة. ()
- ٢ يحدث التصحر بسبب كثرة الأمطار والسيول. ()
- ٣ تتركز زراعة البن فى الأردن. ()
- ٤ أولى الدول العربية إنتاجاً للفوسفات هى دولة المغرب. ()

(ب) ١ ما العلاقة بين ...؟ اتجاه المرتفعات والمطر

٢ دلل: تنوع مشكلات الثروة الحيوانية فى وطننا العربى

السؤال الثالث (١) أكمل العبارات الآتية بكلمات مناسبة:

- ١ تقع دولة مصر فى الجناح
- ٢ ظهرت التجارة الإلكترونية نتيجة
- ٣ أحد أسس بناء الدولة وكان مقراً للحكم

(ب) بم تفسر...؟

- ١ أهمية الأودية الجافة فى الوطن العربى
- ٢ تنوع الأقاليم المناخية فى الوطن العربى

السؤال الرابع (١) اكتب ما تشير إليه العبارات الآتية:

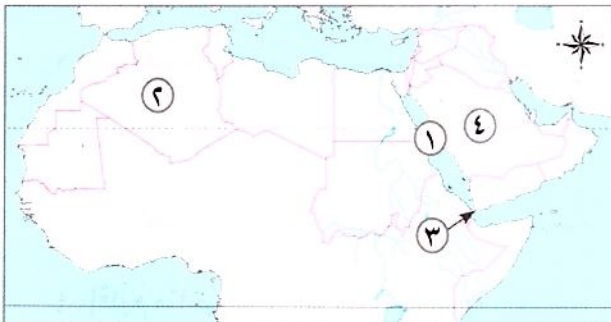
- ١ أشار على الرسول ﷺ بحفر الخندق حول المدينة عام ٥ هـ. (.....)
- ٢ استكمل الفتوحات الإسلامية التى بدأت فى عهد الخليفة أبى بكر الصديق (رضي الله عنه). (.....)
- ٣ تعرضت الدولة الإسلامية فى عهده لخطر المرتدين. (.....)

(ب) ما النتائج المترتبة على...؟

- ١ وجود عيون المياه الكبريتية فى الوطن العربى
- ٢ تحكم الوطن العربى فى ممرات بحرية مهمة

٨- محافظة البحيرة - إدارة أبوحمص التعليمية

السؤال الأول (١) أمامك خريطة صماء للوطن العربى، اكتب مدلول الأرقام الآتية:



- ١ البحر
- ٢ أكبر الدول العربية مساحة
- ٣ مضيق
- ٤ أولى الدول العربية إنتاجاً للبترول

(ب) حدد نتيجة واحده ترتبت على :

- ١ حدوث الحركات الانكسارية
- ٢ مخالفة الرماة أوامر الرسول ﷺ في غزوة أحد ٣هـ

السؤال الثاني (١) اكتب كلمة (صواب) أمام العبارة الصحيحة، وكلمة (خطأ) أمام العبارة غير الصحيحة:

- ١ تشغل دول الجناح الإفريقي مساحة أكبر من الجناح الآسيوي. ()
- ٢ ساد نظام الحكم الملكي شبه الجزيرة العربية قبل ظهور الإسلام. ()
- ٣ تم نقل مقر الخلافة الإسلامية إلى البصرة في عهد علي بن أبي طالب (ع). ()
- ٤ تقع هضبة بادية الشام في الجناح الآسيوي. ()
- ٥ يتسم مناخ الإسكندرية بسمات إقليم البحر المتوسط. ()

(ب) اكتب تفسيرًا واحدًا: أهمية السياحة في الوطن العربي.

السؤال الثالث (١) اختر الإجابة الصحيحة مما بين القوسين:

- ١ تبادل السلع والخدمات باستخدام الإنترنت يسمى
- (مقايضة - تجارة إلكترونية - تجارة خارجية - تجارة بينية)
- ٢ أولى الدول العربية في إنتاج الأسماك من المزارع السمكية
- (لبنان - الجزائر - مصر - موريتانيا)
- ٣ أحد المقومات البشرية لقيام الزراعة في الوطن العربي
- (وسائل النقل - المياه العذبة - تنوع المناخ - التربة الخصبة)
- ٤ تم إنشاء أول أسطول بحري لتأمين مصر والشام من هجمات
- (قريش - الصليبيين - الروم - العرب)
- ٥ أكثر الدول العربية التي تعرضت لخطر الجفاف دولة
- (اليمن - البحرين - العراق - الصومال)
- ٦ أولى الدول العربية إنتاجًا للفوسفات
- (المغرب - تونس - مصر - قطر)

(ب) ما العلاقة بين كل من ...؟

- الدعوة السرية ونشر الإسلام

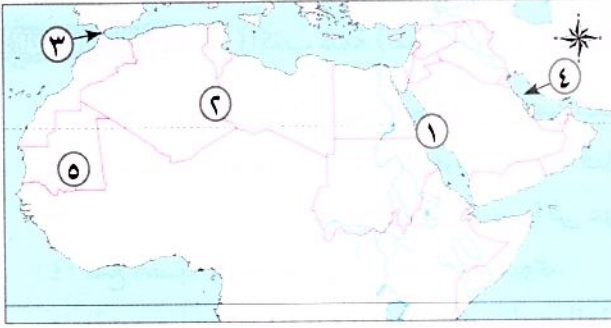
السؤال الرابع (١) أكمل العبارات الآتية من بنك الكلمات:

(السودان - الأمطار - السرطان - علاجية - الصيف - الجدى)

- ١ يحل فصل الشتاء على الوطن العربي عندما تتعامد الشمس على مدار
- ٢ زيارة عين ماعين بالأردن تعد سياحة
- ٣ تعتمد الزراعة في الأجزاء الشمالية من الوطن العربي على مياه
- ٤ أكبر الدول العربية في تربية الأغنام والماعز هي
- ٥ يتميز الإقليم المدارى بسقوط الأمطار في فصل

(ب) ما المقصود...؟ بالصناعات التحويلية

السؤال الأول (١) أمامك خريطة صماء للوطن العربي، وضح مدلول الأرقام الآتية:



- ١ البحر.....
- ٢ هضبة.....
- ٣ مضيق.....
- ٤ الخليج.....
- ٥ أولى الدول العربية إنتاجًا للحديد.....

(ب) اكتب سببًا واحدًا لكل مما يأتي:

- ١ هجرة المسلمين الأولى إلى الحبشة.....
- ٢ أهمية الصناعة في الوطن العربي.....

السؤال الثاني (١) اكتب كلمة (صواب) أمام العبارة الصحيحة، وكلمة (خطأ) أمام العبارة غير الصحيحة:

- ١ الأزهر الشريف في مصر من المراكز الدينية المهمة في الوطن العربي. ()
- ٢ أنشأ الخليفة عمر بن الخطاب ﷺ ديوان الجند. ()
- ٣ تسقط الأمطار صيفًا على الأطراف الشمالية للوطن العربي. ()
- ٤ أنشئت المدن الذكية بهدف تقليل انبعاثات الغازات الدفيئة. ()
- ٥ المناخ المعتدل يعد من المقومات البشرية للسياحة في الوطن العربي. ()
- ٦ يكفى إنتاج اللحوم الحمراء سكان الوطن العربي. ()

(ب) اكتب نتيجة واحدة ترتبت على:

- ١ تحكم وطننا العربي في الممرات المائية.....
- ٢ تنوع مظاهر السطح في الوطن العربي.....

السؤال الثالث (١) اختر الإجابة الصحيحة مما بين القوسين:

- ١ تم إنشاء أول أسطول بحري لتأمين سواحل مصر والشام ضد هجمات (المغول - الروم - الفرس - قريش)
- ٢ أحد مواقع التراث الزراعي العالمي في مصر هي واحة (سيوة - الفرافرة - العين - الكفرة)
- ٣ تقوم الزراعة في اليمن على مياه (الأنهار - الآبار والعيون - الأمطار - البحار)
- ٤ تصنع الأسمدة والمبيدات الحشرية من (الفضة - الفوسفات - الحديد - النحاس)
- ٥ زيارة المسجد الأقصى في فلسطين سياحة (ترفيهية - ثقافية - دينية - علاجية)

(ب) اكتب ما تشير إليه العبارتان الآتيتان:

- ١ الصادرات والواردات من السلع والخدمات بين الدول العربية. (.....)
- ٢ تناقص قدرة الأراضي الزراعية على الإنتاج. (.....)

السؤال الرابع (١) أكمل العبارات التالية بالكلمات المناسبة:

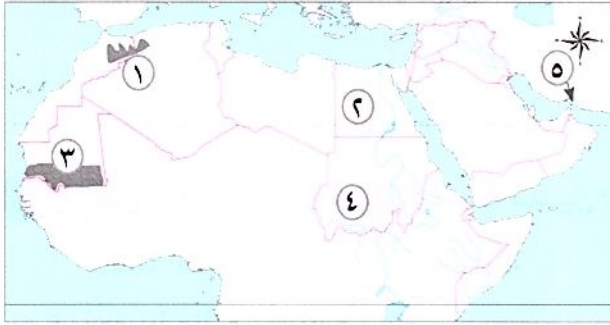
- ١ نظام الحكم السائد في شبه الجزيرة العربية قبل الإسلام هو النظام
- ٢ تُعد سهول نهري دجلة والفرات من السهول
- ٣ يسود معظم الوطن العربي إقليم المناخ الصحراوي
- ٤ تنمو بالإقليم المداري في الوطن العربي حشائش
- ٥ أولى الدول العربية في صناعة الحديد والصلب هي
- ٦ زيارة عيون موسى بمصر أحد أشكال السياحة

(ب) اكتب دليلاً واحداً على صحة العبارتين الآتيتين:

- ١ تسامح النبي ﷺ مع أهل مكة
- ٢ تتعدد موارد المياه العذبة في الوطن العربي

١٠- محافظة الشرقية - إدارة الحسينية التعليمية

السؤال الأول (١) أمامك خريطة صماء للوطن العربي، وضح مدلول الأرقام الآتية:



- ١ صوب: نشأت الجبال رقم (١) نتيجة لحركات انكسارية
- ٢ اختر: الدولة رقم (٢) هي الأولى في تربية (الخيول - الماعز - الجاموس - الإبل)
- ٣ يشير الرقم (٣) إلى إقليم مناخى هو
- ٤ يشير الرقم (٤) إلى أولى الدول في إنتاج معدن
- ٥ اكتب (صواب) أو (خطأ): يشير رقم (٥) إلى مضيق باب المندب () .

(ب) اكتب تفسيراً (سبباً) لكل من:

- ١ أمر الرسول ﷺ أصحابه بالهجرة إلى الحبشة
- ٢ أهمية الأودية الجافة بالوطن العربي

السؤال الثاني (١) أكمل العبارات التالية بكلمات مناسبة:

- ١ تقع أصغر الدول العربية مساحة في قارة
- ٢ أول عمل قام به الرسول ﷺ في المدينة هو
- ٣ يسود معظم أجزاء الوطن العربي المناخ
- ٤ أكثر الدول العربية التي تعرضت لخطر الجفاف هي

- ٥ تتركز زراعة البن في دولة.....
٦ يدخل خام الفوسفات في صناعة.....

(ب) أعط مثالاً لكل مما يأتي:

- ١ بعض أماكن السياحة العلاجية:.....
٢ جهود بعض الدول العربية لزيادة المساحات الخضراء:.....

السؤال الثالث (١) اكتب كلمة (صواب) أمام العبارة الصحيحة، وكلمة (خطأ) أمام العبارة غير الصحيحة:

- ١ أمر عثمان بن عفان رضي الله عنه بإنشاء أول أسطول بحري في الإسلام. ()
٢ تساعد الزراعة في توفير فرص العمل لسكان الوطن العربي. ()
٣ مصر هي أولى الدول العربية إنتاجاً للأسمك من المصايد السمكية. ()
٤ من أشهر المحميات الطبيعية بالجناح الإفريقي محمية ضانا. ()
٥ تقع هضبة نجد بالجناح العربي الآسيوي. ()

(ب) انسب كل عمل من هذه الأعمال إلى صاحبه:

(إنشاء الدواوين - تنظيم الشرطة - أشار بحفر الخندق - محاربة المرتدين)

أبو بكر الصديق <small>رضي الله عنه</small>	عمر بن الخطاب <small>رضي الله عنه</small>	علي بن أبي طالب <small>رضي الله عنه</small>	سلمان الفارسي <small>رضي الله عنه</small>
.....

السؤال الرابع (١) اختر الإجابة الصحيحة مما بين القوسين:

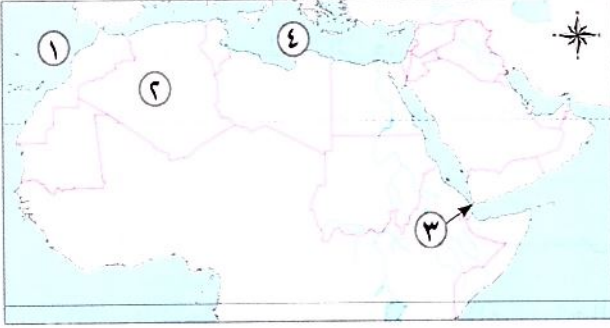
- ١ تسقط أمطار موسمية صيفية على دولة..... (سوريا - مصر - اليمن - قطر)
٢ زحف الرمال من أسباب..... (التصحر - خصوبة التربة - الجفاف - نقص المياه)
٣ من المقومات البشرية لقيام الزراعة.....
(المياه العذبة - التربة الخصبة - المناخ المتنوع - الأيدي العاملة)
٤ أولى الدول العربية في صناعة الأسمت..... (مصر - السعودية - قطر - المغرب)
٥ السياحة المعتمدة على زيارة المناطق الأثرية..... (ترفيهية - علاجية - ثقافية - بيئية)
٦ واحة مصرية تم تصنيفها كأحد مواقع التراث الزراعي العالمي هي.....
(الخارجة - الداخلة - سيوة - الفرافرة)

(ب) اكتب نتيجة واحدة لكل مما يأتي:

- ١ وجود حواجز جمركية بين الدول العربية.....
٢ تعامد الشمس على مدار الجدي بالنسبة للوطن العربي.....

السؤال الأول

(أ) أمامك خريطة صماء للوطن العربي، اكتب مدلول الأرقام الموضحة عليها:



- ١ يشير رقم (١) على الخريطة إلى المحيط
- ٢ يشير رقم (٢) على الخريطة إلى دولة
- ٣ يشير رقم (٣) على الخريطة إلى مضيق
- ٤ يشير رقم (٤) على الخريطة إلى البحر

(ب) اكتب ما تشير إليه العبارة التالية:

- تقويم بدأ من هجرة الرسول ﷺ من مكة إلى المدينة.

(ج) اكتب دليلاً واحداً على صحة العبارة التالية:

- تعاني الثروة الحيوانية في الوطن العربي من مشكلات عديدة.

(.....)

السؤال الثاني

(أ) اكتب كلمة (صواب) أمام العبارة الصحيحة، وكلمة (خطأ) أمام العبارة غير الصحيحة:

- ١ تعمل مصر على التوسع في الصناعة الخضراء. ()
- ٢ تتشابه درجات الحرارة في دول الوطن العربي. ()
- ٣ تبذل الدول العربية جهوداً لتحقيق السياحة المستدامة. ()
- ٤ يشغل الإقليم الصحراوي الحار معظم مساحة الوطن العربي. ()
- ٥ كانت مدينة جدة من المراكز التجارية في الدولة الإسلامية. ()
- ٦ تعاني معظم الدول العربية من ندرة المياه المالحة. ()

(ب) اكتب سبباً واحداً: لاختيار أبي بكر الصديق رضي الله عنه خليفة للمسلمين بعد وفاة الرسول ﷺ.

السؤال الثالث

(أ) أكمل العبارات الآتية من بنك الكلمات:

(الأبقار - الهضاب - القبلى - تحويلية - الدواجن - المحيط الأطلنطى)

- ١ تنقسم الصناعات إلى صناعات استخراجية وصناعات
- ٢ تُعد المغرب أولى الدول العربية في إنتاج الأسماك؛ لأنها تطل على
- ٣ أكثر مظاهر السطح انتشاراً في الوطن العربي هي
- ٤ تُعد السودان أولى الدول العربية في تربية
- ٥ نظام الحكم السائد في شبه الجزيرة العربية قبل الإسلام كان هو النظام

(ب) اكتب اثنين: من المقومات الطبيعية التي ساعدت على قيام الزراعة في الوطن العربي.

١ ٢

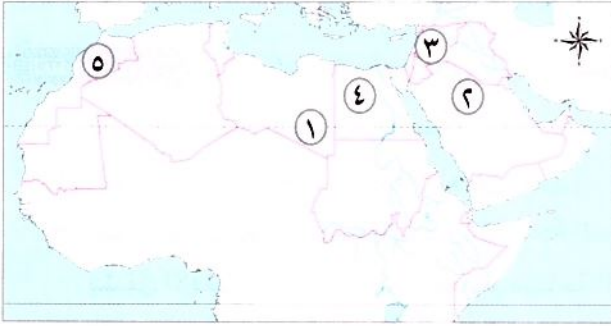
السؤال الرابع (١) اختر الإجابة الصحيحة مما بين القوسين :

- ١ واحة مصرية تم تصنيفها كأحد مواقع التراث الزراعي العالمي هي (الخارجة - الداخلة - سيوة - الفرافرة)
- ٢ دولة عانت من أكبر موجة جفاف في الوطن العربي. (الصومال - المغرب - العراق - البحرين)
- ٣ تحول نصر المسلمين إلى هزيمة في غزوة..... (بدر - أحد - الخندق - تبوك)
- ٤ حضور السياح لكأس الأمم الإفريقية لكرة اليد في مصر عام ٢٠٢٢ يعد سياحة (ثقافية - ترفيهية - رياضية - بيئية)
- ٥ تقع محمية ضانا في دولة..... (مصر - لبنان - تونس - الأردن)
- ٦ تبادل السلع والخدمات باستخدام الإنترنت يسمى..... (تجارة إلكترونية - مفايضة - تجارة خارجية - تجارة بينية)

(ب) اكتب النتيجة المترتبة على: تنوع مظاهر سطح الوطن العربي

١٢- محافظة الإسماعيلية - مديرية التربية والتعليم

السؤال الأول (١) أمامك خريطة صماء للوطن العربي، اكتب ما تدل عليه الأرقام الآتية:



- ١ يشير رقم (١) لمدار.....
- ٢ دولة.....
- ٣ يشير رقم (٣) لإقليم مناخي هو.....
- ٤ يشير رقم (٤) لدولة عربية هي.....

٥ يشير رقم (٥) لدولة هي الأولى في تربية الدواجن هي.....

(ب) اكتب سببًا واحدًا: لمحاربة قريش الدعوة الإسلامية.....

السؤال الثاني (١) اكتب كلمة (صح) أمام العبارة الصحيحة، وكلمة (خطأ) أمام العبارة غير الصحيحة:

- ١ يقع بحر العرب والصحراء الكبرى جنوب الوطن العربي. ()
- ٢ نزل جبريل ﷺ برسالة الإسلام أثناء تعبد الرسول ﷺ في غار حراء. ()
- ٣ يسود المناخ المعتدل المناطق الجنوبية في الوطن العربي. ()
- ٤ أكبر الدول العربية إنتاجًا للبترول هي السعودية. ()

(ب) بم تفسر...؟

- ١ زيادة معدل استهلاك المياه العذبة بالوطن العربي.....
- ٢ أهمية الزراعة في الوطن العربي.....

السؤال الثالث (١) اختر الإجابة الصحيحة مما بين القوسين:

- ١ أمر الرسول ﷺ أصحابه بالهجرة أول مرة إلى ملك..... (الروم - الحبشة - الفرس - الهند)

- ٢ أحد الجبال الاتوائية فى الوطن العربى..... (الشام - الحجاز - أطلس - عسىر)
- ٣ مناخ مءىنة الإسكندرىة معءدل أكثر من مناخ مءىنة الرىاض بسبب تأثر.....
(اءجاه الرىاح - المسطحات المائىة - المرفءات - خط جرىنتش)
- ٤ أحد الأماكن السىاحىة الءىنىة فى فلسطين.....
(ءىرسانت كاترىن - الأزهر الشرىف - الكعبة المشرفة - المسجء الأقصى)
- ٥ أولى الءول العربىة فى إنءاج الأسماك من المزارع السمكىة..... (المغرب - مصر - السعوىة - قطر)
- (ب) من يكون...؟

- ١ أنشأ الءواوىن ووضع التقوىم الهجرى..... (.....)
- ٢ أول من أسلم من الرجال وصبب النبى ﷺ فى هجرته للمءىنة..... (.....)

السؤال الرابء (١) أكمل العبارة بما ىناسبها من الكلمات الآتىة:

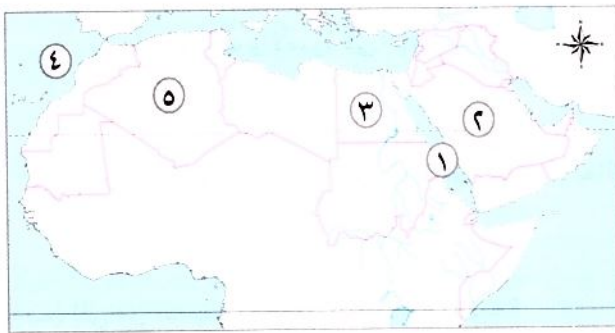
- (مورىءانىا - البءء العلمى - رواسب الأنهار - البءرا المءوسء - الإسلام - ءار)
- ١ ءكونء السهول الفىضىة نءىجة.....
- ٢ ءنمو أشجار الأرز فى إءلیم مناخ.....
- ٣ أولى الءول العربىة فى إنءاج الءءىء.....
- ٤ الءول العربىة ءبذل جهودًا لءنمىة ءعءىء والصناعة مثل الاءءمام بالءعلیم و.....
- ٥ أسهءمء ءءارة فى الءولة الإسلامىة فى نشر.....

(ب) اءءب ما ءشیر الیه العبارة الآتىة:

- ١ ءبءال السلء والءءماء باءءءءام شبءة المءلوماء..... (.....)
- ٢ ءناقص قءرة الأراضى الزراعىة على الإنءاج..... (.....)
- ٣ غزوة ءءول فىها نصر المسلمین إلى هزیمة..... (.....)

١٣- مءافظة السوىس - مءبرىة ءربىة وءعلیم

السؤال الأول (١) أمامك ءرىءة صماء للوطن العربى، اءءب مءلول الأرقام الموقعة علیها:



- ١ البءر.....
- ٢ أولى الءول العربىة فى إنءاج البءرول.....
- ٣ أولى الءول العربىة إنءاجًا للءبوب الغذائىة.....
- ٤ المءىء.....
- ٥ أكبر الءول العربىة من ءىء المساحة.....

(ب) بم ءفسر...؟ كانت الءعوة إلى الإسلام فى بءاىءها سرىة.

السؤال الثاني (١) اكتب كلمة (صواب) أمام العبارة الصحيحة، وكلمة (خطأ) أمام العبارة غير الصحيحة:

- ١ ولد النبي ﷺ في عام الفيل. ()
٢ يتمتع وطننا العربي بكافة مقومات السياحة. ()
٣ تؤثر المسطحات المائية على مناخ الوطن العربي. ()
٤ تكفى اللحوم الحمراء حاجة سكان الوطن العربي. ()

(ب) اكتب ما تشير إليه العبارتان الآتيتان:

- ١ نقص كمية الأمطار في بعض السنوات. (.....)
٢ صناعة تتمثل في استخراج المعادن ومصادر الطاقة. (.....)

السؤال الثالث (١) أكمل العبارات الآتية من بنك الكلمات:

(العلاجية - أحد - الخندق - ليبيا - الصومال - لبنان)

- ١ تحول نصر المسلمين إلى هزيمة في غزوة.....
٢ يمتد بحر الرمال العظيم بين مصر و.....
٣ أكبر الدول العربية في تربية الإبل.....
٤ تقع محمية أرز الشوف في دولة.....
٥ زيارة عيون موسى بمصر من أشكال السياحة.....
(ب) ما النتائج المترتبة على...؟ وجود الواحات في الصحارى العربية.

السؤال الرابع (١) اختر الإجابة الصحيحة مما بين القوسين:

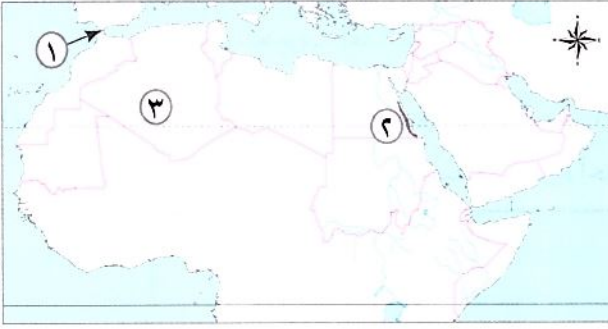
- ١ أشهر القبائل العربية في مكة..... (الأوس - قريش - الخزرج - هوازن)
٢ من أكثر الدول العربية إنتاجاً للبن..... (الصومال - المغرب - اليمن - السودان)
٣ يعيش الزراف والأسود في الإقليم.....
(البحر المتوسط - الصحراوي - الحار المداري - الاستوائي)
٤ إحدى الظواهر التي تكونت بفعل التعرية المائية.....

(الجبال - الهضاب - الأودية الجافة - التجمعات الرملية)

(ب) إلى من تنسب الأعمال التاريخية الآتية؟

- ١ محاربة المرتدين وجمع القرآن الكريم. (.....)
٢ إنشاء بعض الدواوين مثل ديوان بيت المال. (.....)

السؤال الأول (١) أمامك خريطة صماء للوطن العربي، اكتب مدلول الأرقام الموضحة عليها:



١ يشير رقم (١) لمضيق

٢ يشير رقم (٢) إلى جبال

٣ يشير رقم (٣) إلى واحة

(ب) بم تفسر...؟

١ تحول نصر المسلمين إلى هزيمة في غزوة أحد.

٢ حدوث التصحر في الوطن العربي.

السؤال الثاني (١) اكتب كلمة (صواب) أمام العبارة الصحيحة، وكلمة (خطأ) أمام العبارة غير الصحيحة:

- ١ قدم الرسول ﷺ مثلاً عظيماً في التسامح يوم فتح مكة. ()
- ٢ أدنى نقطة في سطح الوطن العربي في بحر قزوين. ()
- ٣ تتركز زراعة البن بالوطن العربي في السعودية. ()
- ٤ تتميز مصر بكثرة المزارع السمكية. ()

(ب) صنف المقومات الطبيعية والمقومات البشرية لقيام الزراعة (مستخدماً الجدول الآتي)

(الأيدي العاملة - موارد المياه العذبة - رأس المال - التربة الخصبة)

المقومات البشرية	المقومات الطبيعية
.....
.....

(ج) دلل على صحة هذه العبارة: تتعرض المحميات الطبيعية إلى تهديدات بشرية.

السؤال الثالث (١) أكمل العبارات الآتية بما يناسبها مستخدماً (بنك الكلمات):


(الصيف - بيت - المسجد - الشتاء - ثقافية - الإنترنت - رياضة - الذرة - الدعاية - قصب السكر)

١ أول عمل قام به الرسول ﷺ في المدينة بناء

- ٢ يتميز الإقليم المدارى بسقوط الأمطار فى فصل
- ٣ حضور مباريات كأس العالم لكرة القدم سياحة
- ٤ التجارة الإلكترونية هى تبادل السلع والخدمات باستخدام
- ٥ أحد محاصيل الحبوب الغذائية

(ب) رتب الأحداث والغزوات مستخدماً الخط الزمني الآتى:

(غزوة الخندق - غزوة أحد - فتح مكة - صلح الحديبية)



السؤال الرابع (١) اختر الإجابة الصحيحة مما بين القوسين:

- ١ قام بنقل الخلافة من المدينة إلى الكوفة (ع)
- (على بن أبى طالب - عمر بن الخطاب - عثمان بن عفان - أبو بكر الصديق)
- ٢ تنمو حشائش الإستبس فى الوطن العربى فى
- (إقليم البحر المتوسط - الإقليم القطبى - الإقليم المدارى - الإقليم الصحراوى الجاف)
- ٣ الدولة العربية الأولى إنتاجاً لمعدن الذهب
- (مصر - الجزائر - السعودية - السودان)
- ٤ توفر الثروة الحيوانية المواد الخام للصناعة مثل
- (القطن - القشور - البترول - الجلود)

(ب) ما النتائج المترتبة على...؟

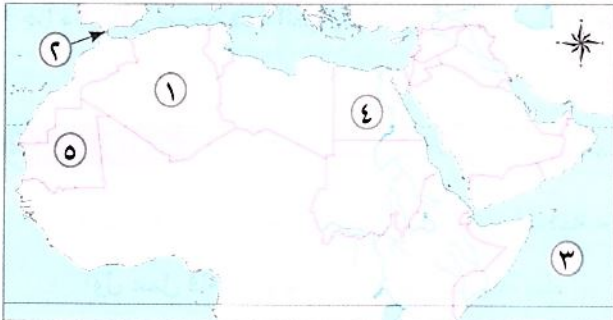
- تعرض الصومال لأكبر موجة جفاف.

(ج) ماذا يحدث إذا ...؟

- توسعت الدول فى الصناعة الخضراء.

١٥- محافظة جنوب سيناء - إدارة طور سيناء التعليمية

السؤال الأول (١) أمامك خريطة صماء للوطن العربى، اكتب مدلول الأرقام الموضحة عليها:



- ١ أكبر الدول العربية مساحة
- ٢ يشير السهم إلى مضيق
- ٣ يشير رقم (٣) إلى المحيط
- ٤ أولى الدول إنتاجاً للحبوب الغذائية
- ٥ أولى الدول إنتاجاً للحديد

(ب) اكتب تفسيرًا واحدًا لما يأتي:

- ١ محاربة قريش للدعوة الإسلامية
- ٢ إنشاء أول أسطول بحرى فى الإسلام فى عهد الخليفة عثمان بن عفان ؓ

السؤال الثانى (١) اكتب كلمة (صواب) أمام العبارة الصحيحة وكلمة (خطأ) أمام العبارة غير الصحيحة:

- ١ حرص النبى ﷺ بعد الهجرة على المؤاخاة بين المهاجرين واليهود. ()
- ٢ يتسم مناخ مدينة الإسكندرية بسماوات إقليم البحر المتوسط. ()
- ٣ تُعد زيارة عين ماعين فى الأردن سياحة دينية. ()
- ٤ تسهم التجارة فى تعزيز العلاقات بين الدول. ()
- ٥ أدى تنوع المناخ فى وطننا العربى إلى تنوع المحاصيل الزراعية. ()
- ٦ تهتم الدول العربية بتربية الدواجن لسد العجز من اللحوم الحمراء. ()

(ب) ما العلاقة بين: المواد الخام والصناعة؟

السؤال الثالث (١) أكمل الجمل الآتية بما يناسبها من كلمات مما بين القوسين:

- (استخراجية - مصادر الطاقة - ثور - السافانا - حراء - كمية الأمطار - الإستبس - التعرية الهوائية)
- ١ نزل الوحي على رسول الله ﷺ عندما كان يتعبد فى غار
 - ٢ الكثبان الرملية تجمعات رملية تكونت بفعل
 - ٣ تنمو فى الإقليم المدارى حشائش تسمى حشائش
 - ٤ تتعرض كثير من الدول العربية لخطر الجفاف بسبب نقص
 - ٥ تنقسم الصناعة الى صناعات تحويلية وصناعات

(ب) ١ دلل على صحة العبارة الآتية: النشاط السياحى من الأنشطة الاقتصادية المهمة فى الوطن العربى

٢ اكتب نتيجة واحدة ترتبت على: التشابه الكبير بين السلع والخدمات التى تنتجها الدول العربية.

السؤال الرابع (١) اختر الإجابة الصحيحة مما بين القوسين:

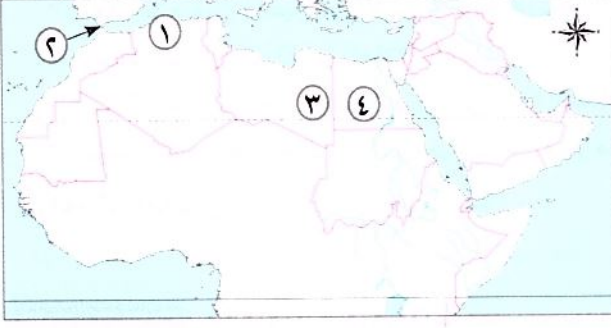
- ١ من أهم أعمال الخليفة أبى بكر الصديق ؓ
- (تنظيم الشرطة - إنشاء ديوان الجند - محاربة المرتدين - إنشاء ديوان بيت المال)
- ٢ يحل فصل الشتاء على الوطن العربى عندما تتعامد الشمس على
- (مدار الجدى - دائرة الاستواء - خط جرينتش - مدار السرطان)
- ٣ من الجبال الالتوائية فى الوطن العربى جبال
- (عسير - البحر الأحمر - أطلس - اليمن)
- ٤ أحد المقومات الطبيعية للزراعة فى وطننا العربى
- (رأس المال - السوق - التربة - الأيدى العاملة)
- ٥ يأتى معظم إنتاج مصر من الأسماك من
- (البحار - الأنهار - المحيطات - المزارع السمكية)
- ٦ المشكلة البيئية التى ترتبط بمشكلة الرعى الجائر
- (تملح التربة - التصحر - ندرة المياه - نقص الغذاء)

(ب) صوب الكلمات التي تحتها خط:

- ١ خالف الرماة وأمر الرسول ﷺ في غزوة بدر.
- ٢ نقل علي بن أبي طالب ﷺ مقر الخلافة من المدينة إلى الطائف.

١٦- محافظة الفيوم - إدارة شرق الفيوم التعليمية

السؤال الأول (١) اكتب مدلول الأرقام الموقعة على الخريطة التي أمامك:



- ١ يشير رقم (١) إلى جبال
- ٢ يشير رقم (٢) إلى مضيق
- ٣ يشير رقم (٣) إلى واحة
- ٤ يشير رقم (٤) إلى إقليم مناخ

(ب) صنف الجبال الآتية إلى جبال التوائية وأخرى انكسارية باستخدام الجدول التالي:

(جبال الحجاز - جبال عمان - جبال البحر الأحمر - جبال أطلس)

جبال انكسارية	جبال التوائية
.....

السؤال الثاني (١) اختر الإجابة الصحيحة مما بين القوسين:

- ١ يدخل الحديد في صناعة (أسلاك التليفون - المبيدات الحشرية - مواد الطلاء - الكبارى والمنشآت)
- ٢ تحول نصر المسلمين إلى هزيمة في غزوة (بدر - أحد - الخندق - تبوك)
- ٣ أعلن عن إنشاء مدينة نيوم الخضراء في دولة (المغرب - مصر - السعودية - العراق)
- ٤ تم فتح مصر في عهد الخليفة (عثمان بن عفان - علي بن أبي طالب - عمر بن الخطاب - أبي بكر الصديق)
- ٥ أولى الدول العربية إنتاجاً للتمور دولة (المغرب - مصر - السعودية - الجزائر)

(ب) اذكر سبباً واحداً ل: الأهمية الاقتصادية لموقع الوطن العربي.

.....

(ج) ما النتيجة المترتبة على: استشهاد عدد كبير من حفظة القرآن الكريم في حرب المرتدين؟

.....

السؤال الثالث (١) اكتب كلمة (صواب) أمام العبارات الصحيحة وكلمة (خطأ) أمام العبارات غير الصحيحة:

- ١ أمر الخليفة عثمان بن عفان ﷺ بكتابة القرآن في مصحف واحد. ()
- ٢ يقل إنتاج الأسماك في دولة المغرب. ()
- ٣ تعد الطاقة الشمسية وطاقة الرياح والطاقة الكهرومائية من مصادر الطاقة النظيفة. ()

()

٤ يعاني الوطن العربي من فقر المراعي .

()

٥ تتركز زراعة البن في الأردن .

(ب) لاحظ الصورة التي أمامك ثم أجب :



١ ما اسم هذا الأثر؟

٢ يمثل هذا الأثر أي نوع من أنواع السياحة؟

السؤال الرابع (١) أكمل العبارات الآتية بكلمة مناسبة :

١ يمتد بحر الرمال العظيم بين مصر و

٢ نظام الحكم السائد في شبه الجزيرة العربية قبل الإسلام هو النظام

٣ يسود معظم أنحاء الوطن العربي المناخ

٤ آخر الخلفاء الراشدين هو الخليفة

(ب) اقرأ العبارة الآتية ثم أجب :

(خرج الرسول ﷺ بجيش كبير لفتح مكة عام ٨ هـ ففتحها، وطاق بالكعبة، وحطم الأصنام التي كانت حولها)

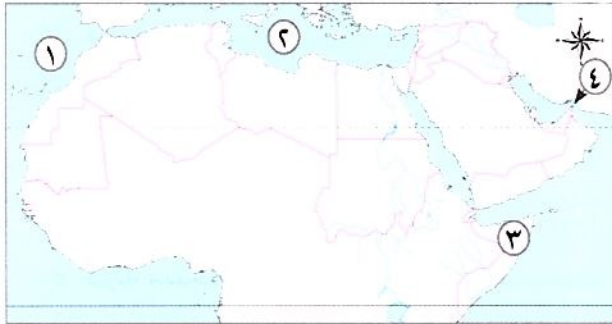
في ضوء هذه العبارة وضح :

١ سمى أهل مكة الذين هاجروا إلى المدينة بأمر من الرسول ﷺ ب

٢ دلل على صحة هذه العبارة: قدم النبي ﷺ مثلاً عظيماً في التسامح والعفو

١٧- محافظة بنى سويف - توجيه الدراسات الاجتماعية

السؤال الأول (١) أمامك خريطة صماء للوطن العربي، وضح مدلول الأرقام عليها:



١ المحيط

٢ البحر

٣ دولة تعرضت للجفاف

٤ مضيق

(ب) لمن تنسب الأعمال التاريخية الآتية؟

١ أرسل جيوشاً لمحاربة المرتدين .

٢ نقل مقر الخلافة إلى الكوفة في العراق .

(.....)

(.....)

السؤال الثاني (١) اكتب كلمة (صواب) أمام العبارة الصحيحة وكلمة (خطأ) أمام العبارة غير الصحيحة:

()

١ ينتشر نبات الصبار في الإقليم الصحراوي .

()

٢ تساعد التجارة الإلكترونية على تقليل الازدحام المروري والتلوث .

()

٣ يمتد بحر الرمال العظيم بين مصر والسودان .

()

٤ كان لمخالفة الرماة أوامر النبي ﷺ أثره في هزيمة الجيش في غزوة أحد .

(ب) بم تفسر...؟ (يكتفى بسبب واحد) تكوّن جبال البحر الأحمر.

السؤال الثالث (أ) أكمل العبارات الآتية بكلمات مناسبة:

- ١ أشار الصحابي على النبي ﷺ بحفر الخندق .
- ٢ يحل فصل الصيف على الوطن العربي عندما تتعامد الشمس على
- ٣ يعد استخراج المعادن ومصادر الطاقة كالبتروول من الصناعات

(ب) اكتب المفهوم الدال على العبارتين الآتيتين:

- ١ تناقص قدرة الأراضي الزراعية على الإنتاج.
 - ٢ أهل مكة الذين هاجروا من مكة إلى المدينة.
- (.....)
- (.....)

السؤال الرابع (أ) اختر الإجابة الصحيحة مما بين القوسين:

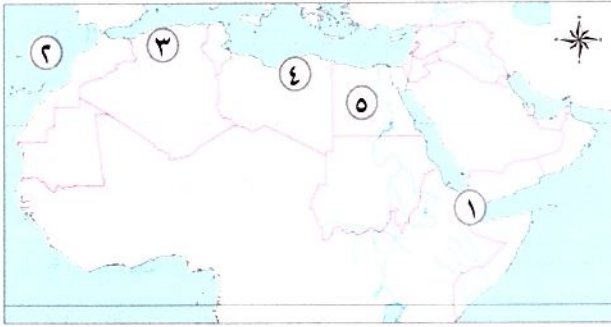
- ١ الدولة العربية التي تقع في الجناح الإفريقي هي
 - ٢ تحتل دولة المرتبة الأولى في إنتاج الحديد.
 - ٣ من الجبال الالتوائية في الوطن العربي جبال
 - ٤ زيارة المواقع الأثرية والتراثية تعتبر سياحة
- (العراق - قطر - الجزائر - السعودية)
- (موريتانيا - السعودية - مصر - قطر)
- (أطلس - عسير - اليمن - البحر الأحمر)
- (ثقافية - ترفيهية - دينية - شواطئ)

(ب) اكتب نتيجة واحدة ترتبت على ما يأتي:

- تحكم الوطن العربي في ممرات بحرية مهمة.

١٨- محافظة بنى سويف - إدارة الفشن التعليمية

السؤال الأول (أ) أمامك خريطة صماء للوطن العربي، حدد عليها الآتي:



- ١ مضيق
- ٢ المحيط
- ٣ جبال
- ٤ إقليم مناخي
- ٥ دولة منتجة للتمور

(ب) ما المقصود بـ (الصناعة التحويلية)؟

السؤال الثاني (أ) اختر الإجابة الصحيحة مما بين القوسين:

- ١ توجد النسبة الكبرى من مساحة الوطن العربي في قارة
 - ٢ كانت هجرة المسلمين الثانية إلى مدينة
 - ٣ تُعد من الجبال الالتوائية في الوطن العربي جبال
 - ٤ دائرة عرض تمر جنوب الوطن العربي
- (آسيا - إفريقيا - أوروبا - أستراليا)
- (الحبشة - يثرب - الطائف - حنين)
- (عسير - البحر الأحمر - عمان - الحجاز)
- (جرينيتش - السرطان - الجدى - الاستواء)

(ب) بم تفسر...؟

- إرسال أبي بكر الصديق ﷺ جيش أسامة بن زيد إلى بلاد الشام.

السؤال الثالث (١) اكتب كلمة (صواب) أمام العبارة الصحيحة وكلمة (خطأ) أمام العبارات غير الصحيحة فيما يلي:

- ١ تساهم الثروة السمكية في سد العجز من البروتين الحيواني في الوطن العربي. ()
٢ تحتل مصر المرتبة الأولى في إنتاج الحديد. ()
٣ يعد النشاط السياحي من أهم الأنشطة الاقتصادية في الوطن العربي. ()
٤ التبادل التجاري بين دولتي الإمارات والبحرين يعد تجارة دولية. ()
٥ من رحلات العرب التجارية، رحلة الصيف إلى الشام. ()

(ب) ما النتائج المترتبة على...؟

- تعامد الشمس على مدار السرطان في الوطن العربي.

السؤال الرابع (١) اكتب ما تشير إليه العبارات الآتية:

- ١ أنشأ أول أسطول بحري في الإسلام. (.....)
٢ صلح تم بين المسلمين وقريش عام ٦هـ. (.....)
٣ إقليم مناخي يقع على الأطراف الشمالية للوطن العربي. (.....)
٤ تتناقص قدرة الأراضي الزراعية على الإنتاج. (.....)

(ب) اذكر السبب:

- وجود الأودية الجافة في الوطن العربي.

مجاب عنه

١٩- محافظة المنيا - توجيه الدراسات الاجتماعية

السؤال الأول (١) أمامك خريطة صماء للوطن العربي، وضع مدلول الأرقام التي عليها:



- ١ إقليم مناخي
٢ المحيط
٣ مضيق
٤ جبال

(ب) اذكر سببًا واحدًا لكل من:

- ١ تحكم الوطن العربي في أهم طرق التجارة العالمية.
٢ اهتمام الدول العربية بتربية الدواجن.

السؤال الثاني (١) اكتب كلمة (صواب) أمام العبارة الصحيحة وكلمة (خطأ) أمام العبارة غير الصحيحة:

- ١ تحرص الدول العربية على دعم السياحة المستدامة. ()

- ٢ تعتبر جبال البحر الأحمر في مصر والسودان من الجبال الالتوائية. ()
 ٣ كان الرسول محمد ﷺ يذهب إلى غار ثور للتعبد والتأمل. ()
 ٤ من أهداف المنظمة العربية للتنمية الزراعية المشاريع والصناعات الزراعية والسمكية. ()
- (ب) ما النتائج المترتبة على...؟ (يكتفى بنتيجة واحدة)

- ١ تنوع المناخ في الوطن العربي.....
 ٢ دخول بعض الدول العربية في تجمعات اقتصادية.....

السؤال الثالث (١) أكمل العبارات الآتية بما يناسبها من الكلمات الآتية:

(اليمن - الشام - الحديد - نيووم الخضراء - أسطول بحري)

- ١ يستخدم في كثير من الصناعات الثقيلة.
 ٢ أمر الخليفة عثمان بن عفان رضي الله عنه بإنشاء أول في الإسلام.
 ٣ أعلنت المملكة العربية السعودية إنشاء مدينة لزيادة المساحة الخضراء.
 ٤ كان أهل مكة يقومون برحلة الصيف إلى

(ب) اكتب المصطلح الدال على العبارات الآتية:

- ١ صناعة تعتمد على الاستثمار الأمثل للموارد المتجددة والحد من المخلفات والحفاظ على الصحة والبيئة.
 ٢ سياحة تشمل زيارة المواقع الأثرية والتراثية مثل الأقصر في مصر وبابل في العراق. (.....)

السؤال الرابع (١) اختر الإجابة الصحيحة مما بين القوسين:

- ١ تحتل المركز الأول في إنتاج الحبوب الغذائية والمحاصيل الزراعية والتمور. (السودان - مصر - المغرب - لبنان)
 ٢ أسس الرسول محمد ﷺ دولة الإسلام في (مكة - الطائف - المدينة - الحبشة)
 ٣ تنمو حشائش السافانا في الإقليم (الصحراء الحارة - البحر المتوسط - المعتدل - المداري)
 ٤ تمر دائرة في جنوب الوطن العربي. (الاستواء - مدار الجدى - مدار السرطان - القطبية الشمالية)

(ب) من أكون...؟

- ١ أرسلت الجيوش الإسلامية خارج شبه الجزيرة العربية لنشر الإسلام وتأمين حدود الدولة الإسلامية.
 ٢ ظهرت نتيجة للتطور التكنولوجي ويتم من خلال تبادل السلع والخدمات باستخدام شبكة المعلومات الدولية. (.....)

٢٠- محافظة أسيوط - إدارة أسيوط التعليمية

السؤال الأول (١) أمامك خريطة صماء للوطن العربي، اكتب ما تدل عليه الأرقام الآتية:



- ١ المحيط
 ٢ البحر
 ٣ دولة
 ٤ دائرة عرض

(ب) اكتب ما تشير إليه العبارات الآتية:

- ١ سكان المدينة الذين نصرروا الرسول ﷺ في دعوته. (.....)
- ٢ نقص كمية الأمطار في بعض السنوات بما لا يسمح بالزراعة أو نمو الحشائش. (.....)
- ٣ أولى الدول العربية في تربية الدواجن. (.....)

السؤال الثاني (١) أكمل العبارات الآتية بكلمات مناسبة:

- ١ ترتفع درجة حرارة الوطن العربي في فصل.....
- ٢ من الأودية التي تكونت بفعل التعرية المائية وادى الدواسر في دولة.....
- ٣ تعيش ثعالب الصحراء والزواحف في إقليم مناخ.....
- ٤ أرسل عدة جيوش لمحاربة المرتدين عن الإسلام الخليفة.....
- ٥ تنقسم الصناعة في الوطن العربي إلى نوعين هما..... و.....

(ب) لمن تنسب الأعمال التاريخية الآتية؟

- ١ أول من قام بتنظيم الشرطة للحفاظ على الأمن وسلامة المواطنين. (.....)
- ٢ أشار على النبي ﷺ بحفر خندق حول المدينة. (.....)

السؤال الثالث (١) اختر الإجابة الصحيحة مما بين القوسين:

- ١ تعددت المقومات الطبيعية التي ساعدت على قيام الزراعة بالوطن العربي منها.....
(المناخ - السوق - الأيدي العاملة - وسائل النقل)
- ٢ تعددت أعمال الخليفة عمر بن الخطاب ﷺ ومنها.....
(جمع القرآن الكريم - إنشاء أول أسطول بحري - نقل الخلافة للكوفة - وضع التقويم الهجري)
- ٣ يستخدم في صناعة المبيدات الحشرية خام..... (الحديد - المنجنيز - الفوسفات - الفحم)
- ٤ تقع محمية جبل علبة بدولة..... (لبنان - مصر - تونس - الجزائر)
- ٥ يُعد من معوقات التجارة البينية.....
(تنوع الإنتاج - تشابه السلع والخدمات - تنوع الصادرات - تطور التكنولوجيا)

(ب) بم تفسر...؟ تُعد المغرب أولى الدول العربية في إنتاج الأسماك.....

السؤال الرابع (١) اكتب كلمة (صواب) أمام العبارة الصحيحة وكلمة (خطأ) أمام العبارة غير الصحيحة:

- ١ قام على أرض الوطن العربي العديد من الحضارات القديمة ومنها الحضارة المصرية القديمة. ()
- ٢ رحبت قريش بالدعوة إلى الإسلام. ()
- ٣ تناقص مخزون المياه الجوفية يؤدي إلى حدوث التصحر بالوطن العربي. ()
- ٤ تولى الخليفة عمر بن الخطاب ﷺ مباشرةً بعد وفاة الرسول ﷺ. ()
- ٥ إنتاج اللحوم الحمراء يكفى استهلاك السكان في وطننا العربي. ()
- ٦ القمح والقطن من المحاصيل السكرية بالوطن العربي. ()

(ب) اذكر اثنين: من أنواع السياحة في الوطن العربي.

- ١..... ٢.....



الإجابات النموذجية

٣- قامت أقدم الحضارات في العالم على أرضه مثل:
الحضارة المصرية القديمة - حضارة بلاد العراق القديم.

السؤال التاسع:

- ١- أصبح للوطن العربي أهمية اقتصادية من خلال تحكمه في أهم الطرق التجارية العالمية.
٢- أصبح وطننا العربي مطمئناً لكثير من الدول للسيطرة على ثرواته على مر العصور.

السؤال العاشر:

- ١- للوطن العربي أهمية ثقافية وحضارية؛ حيث قامت على أرضه أقدم الحضارات في العالم مثل الحضارة المصرية القديمة وحضارة بلاد العراق القديم.
٢- أن لموقع وطننا العربي أهمية دينية، فهو موطن الديانات السماوية (اليهودية، المسيحية، الإسلامية)، ويضم أماكن مقدسة ذات أهمية دينية كبيرة، مثل الكعبة في مكة المكرمة، وكنيسة القيامة في فلسطين والأزهر الشريف في مصر.

- ٣- يتمتع الوطن العربي بموقع جغرافي متميز حيث يقع وسط قارات العالم القديم الثلاث وتمتد أراضيه عبر قارتي آسيا وإفريقيا ويحده من الشمال البحر المتوسط وجبال طوروس، ومن الجنوب المحيط الهندي وبحر العرب والصحراء الكبرى، أما من الشرق فيحده الخليج العربي وخليج عُمان وجبال زاغروس ومن الغرب المحيط الأطلنطي.
٤- يتحكم الوطن العربي في ممرات مائية مهمة وهي (مضيق هرمز، ومضيق باب المندب، ومضيق جبل طارق).
٥- الجناح الإفريقي فيه ١٠ دول، ويمثل ٧٢٪ من مساحة الوطن العربي.

السؤال الحادي عشر:

- ١- لم يكن لموقع وطننا العربي أهمية دينية.
٢- عدم وجود تاريخ ولغة وثقافة مشتركة بين دول الوطن العربي.
٣- عدم تحكمه في أهم الطرق التجارية العالمية مما يؤدي إلى عدم وجود أهمية اقتصادية لموقعه.

إجابة أسئلة امتحانات الإدارات



السؤال الأول:

- ١- الجزائر
٢- الأطلنطي
٣- الصحراء الكبرى
٤- طوروس
٥- جبل طارق
٦- هرمز

السؤال الثاني:

- ١- (خطأ)
٢- (صواب)
٣- (صواب)
٤- (خطأ)
٥- (صواب)
٦- (خطأ)
٧- (صواب)
٨- (خطأ)

السؤال الثالث:

- ١- الأطلنطي
٢- البحر الأحمر
٣- البحرين

السؤال الرابع:

- ١- التجارة العالمية
٢- إفريقيا

السؤال الخامس:

الجزائر

السؤال السادس:

- ١- شمال
٢- قارتين

السؤال السابع:

- ١- يشرف على مسطحات مائية مهمة مثل: البحر الأحمر والبحر المتوسط والخليج العربي - يتحكم في ممرات مائية مهمة وهي (مضيق هرمز، ومضيق باب المندب، ومضيق جبل طارق، بالإضافة لقناة السويس).
٢- قامت أقدم الحضارات في العالم على أرضه مثل: الحضارة المصرية القديمة وحضارة بلاد العراق القديم.

المحور الأول: البيئة الطبيعية

الوحدة الأولى: وحدة أرض وتاريخ شعب

الدرس الأول: الموقع الجغرافي لوطننا العربي

سؤال

- (١) البحر المتوسط - جبال طوروس.
(ب) يضم الجناح الإفريقي ١٠ دول من دول الوطن العربي وتمثل ٧٢٪ من مساحة الوطن العربي.

سؤال

- (١) ١- جبل طارق، باب المندب / مضيق هرمز. ٢- كنيسة القيامة.
(ب) ١- يشرف على مسطحات مائية مهمة بالإضافة لتحكمه في ممرات بحرية مهمة، مما أدى لتحكمه في أهم الطرق التجارية العالمية.
٢- قامت أقدم الحضارات في العالم على أرضه مثل: الحضارة المصرية القديمة وحضارة بلاد العراق القديم.
(ج) أصبح وطننا العربي مطمئناً لكثير من الدول للسيطرة على ثرواته على مر العصور.

إجابة تدرّب (الدرس الأول: الموقع الجغرافي لوطننا العربي)



السؤال الأول:

- ١- (صواب) ٢- (صواب) ٣- (صواب)
٤- (خطأ) ٥- (صواب) ٦- (صواب)

السؤال الثاني:

- ١- القديم
٢- آسيا، إفريقيا
٣- بحر العرب - المحيط الهندي - الصحراء الكبرى
٤- إفريقيا
٥- الجزائر
٦- السويس
٧- عُمان - العربي
٨- الهندى، الأطلنطي

السؤال الثالث:

- ١- طوروس
٢- إفريقيا
٣- المصرية القديمة / بلاد العراق القديم
٤- اقتصادية
٥- العربي / عُمان
٦- الجزائر

السؤال الرابع:

- ١- إفريقيا
٢- الشمال
٣- الأطلنطي
٤- أربعة
٥- البحرين
٦- الهندى
٧- مصر
٨- البحرين

السؤال الخامس:

- ١- الأحمر
٢- عُمان
٣- الأطلنطي
٤- المغرب
٥- الجزائر
٦- جبل طارق
٧- السويس
٨- باب المندب

السؤال السادس:

- ١- المتوسط
٢- ليبيا
٣- السودان
٤- السعودية
٥- العربي
٦- الكبرى
٧- طوروس
٨- زاغروس
٩- الهندى
١٠- العربي

السؤال السابع:

- ١- العراق
٢- المغرب
٣- البحر الأسود
٤- جبال طوروس
٥- السعودية
٦- تونس

السؤال الثامن:

- ١- تتمثل في إشرافه على مسطحات مائية مهمة، بالإضافة لتحكمه في ممرات بحرية مهمة، مما أدى لتحكمه في أهم الطرق التجارية العالمية.
٢- بسبب إشرافه على مسطحات مائية مهمة مثل البحر الأحمر والبحر المتوسط والخليج العربي، بالإضافة لتحكمه في ممرات بحرية مهمة وهي: (مضيق هرمز، ومضيق باب المندب، ومضيق جبل طارق، بالإضافة لقناة السويس).

إجابة اختبر نفسك (الدرس الأول)



السؤال الأول:

- (أ) ١- المتوسط
٢- الأطلنطي
٣- العرب
٤- العربي
٥- الكبرى
٦- جبل طارق
- (ب) ١- بسبب إشرافه على مسطحات مائية مهمة بالإضافة لتحكمه في ممرات بحرية مهمة: مما أدى لتحكمه في أهم الطرق التجارية العالمية.
٢- لأنه موطن الديانات السماوية (اليهودية، المسيحية، الإسلامية)، ويضم أماكن مقدسة ذات أهمية دينية كبيرة، مثل: الكعبة المشرفة في السعودية، وكنيسة القيامة في فلسطين والأزهر الشريف في مصر.

السؤال الثاني:

- ١- (خطأ)
٢- (صواب)
٣- (صواب)
٤- (خطأ)
٥- (خطأ)

السؤال الثالث:

- (أ) ١- فلسطين
٢- البحرين
٣- باب المنذب
- (ب) ١- أصبح للوطن العربي أهمية ثقافية وحضارية.
٢- أصبح للوطن العربي أهمية اقتصادية من خلال تحكمه في أهم الطرق التجارية العالمية.

الدرس الثاني: قصة ظهور الإسلام

سؤال

- (أ) ١- مكة.
٢- رعى الأغنام، التجارة.
(ب) لأنهم كانوا عبارة عن قبائل متفرقة ولكل قبيلة شيخ يحكمها.

سؤال

- (أ) ١- مكة
٢- أبو بكر الصديق
(ب) لتجنب أذى قريش.

إجابة تدرب (الدرس الثاني: قصة ظهور الإسلام)



السؤال الأول:

- ١- (خطأ)
٢- (خطأ)
٣- (صواب)
٤- (صواب)
٥- (صواب)
٦- (صواب)
٧- (خطأ)
٨- (خطأ)
٩- (صواب)

السؤال الثاني:

- ١- قريش
٢- الشام
٣- القبلى
٤- رعى الأغنام
٥- خديجة بنت خويلد
٦- حراء

السؤال الثالث:

- ١- اليمن
٢- السينة
٣- الحبشة
٤- يثرب
٥- مكة

السؤال الرابع:

- ١- اليمن
٢- الوفاء بالعهد
٣- الرعى
٤- ربيع الأول
٥- رمضان
٦- يثرب

السؤال الخامس:

- ١- عمه أبو طالب
٢- جبريل
٣- النجاشى

السؤال السادس:

- ١- كانت مكة تقوم برحلتين: رحلة الشتاء إلى اليمن، ورحلة الصيف إلى الشام.
٢- تجنباً لإيذاء قريش.
٣- خوفاً على مكانتها بين القبائل.

السؤال السابع:

- ١- أدى إلى تغير حياة سكان شبه الجزيرة العربية للأفضل.
٢- إيذاء قريش للمسلمين.
٣- أمر الرسول بالهجرة إلى الحبشة.
٤- استجابات للرسول وفود من أهل يثرب (المدينة) ودخلوا في الإسلام.

السؤال الثامن:

- ١- لم تشتهر مكة بمكانتها الاقتصادية.
٢- لما أمرهم الرسول بالهجرة إلى الحبشة.

السؤال التاسع:

- ١- نزول جبريل بدعوة الإسلام - الدعوة السرية - الهجرة إلى الحبشة - الهجرة إلى يثرب.
٢- العبارة صحيحة حيث: مرت الدعوة إلى الإسلام بأربع مراحل، وكانت أول مرحلتين في مكة المكرمة قبل الهجرة إلى المدينة وهما مرحلتا الدعوة السرية والدعوة الجهرية، ثم بعد اشتداد أذى قريش أمر الرسول أصحابه بالهجرة إلى المدينة ليبدأ مرحلتين جديدتين للدعوة وهما مرحلة بناء الدولة وصد أذى المشركين، ثم مرحلة الفتح والدعوة العالمية للإسلام.
٣- حاربت قريش دعوة الرسول خوفاً على مكانتها بين القبائل فقاموا بإيذاء الرسول والمسلمين، كما لجنوا للتفاوض مع الرسول وعرضوا عليه المال والسلطة مقابل تركه لهذا الدين، كما قاموا بمقاطعة وحصار المسلمين.

إجابة أسئلة امتحانات الإدارات



السؤال الأول:

- ١- السرية
٢- مكة
٣- الرعى
٤- الشام

السؤال الثاني:

- ١- (صواب)
٢- (صواب)
٣- (صواب)
٤- (خطأ)
٥- (خطأ)
٦- (خطأ)
٧- (خطأ)
٨- (صواب)
٩- (صواب)

السؤال الثالث:

السؤال الرابع:

السؤال الخامس:

الصفات السيئة

الصفات الحسنة

وأد البنات	الشجاعة
الأخذ بالثأر	الكرم
شرب الخمر	الوفاء بالعهد

السؤال السادس:

- ١- مرحلة الدعوة السرية - مرحلة الدعوة الجهرية - مرحلة بناء الدولة وصد أذى المشركين - مرحلة الفتح والدعوة العالمية للإسلام.
٢- لأن فيها ملكاً عادلاً يلقب بالنجاشى.
٣- لتجنب أذى قريش.
٤- خوفاً على مكانتها بين القبائل.

إجابة اختبر نفسك (تراكمي)



السؤال الأول:

- ١- اليمن
٢- رعى الأغنام، التجارة
٣- الكرم / الشجاعة / الوفاء بالعهد
٤- آسيا وإفريقيا
٥- الإفريقي

السؤال الثاني:

- ١- (صواب)
٢- (خطأ)
٣- (صواب)
٤- (صواب)
٥- (صواب)

السؤال الثالث:

- (أ) ١- اقتصادية
٢- يثرب
٣- يثرب
(ب) ١- لأنهم كانوا عبارة عن قبائل متفرقة كان لكل قبيلة شيخ يحكمها.
٢- بسبب إيذاء قريش لهم، وأن بها ملكاً لا يظلم عنده أحد.

الدرس الثالث: هجرة الرسول وتأسيس الدولة الإسلامية

سؤال

- (أ) ١- الندوة
٢- المدينة

- (ب) بسبب تحطيط الرسول للهجرة بشكل جيد حيث هاجر في سرية تامة في الليل مع صديقه أبي بكر الصديق وسلك طريقاً غير معروف حتى وصل إلى يثرب.

إجابة تدرب (الدرس الثالث: هجرة الرسول ﷺ وتأسيس الدولة الإسلامية)

السؤال الأول:

- ١- (خطأ)
٤- (صواب)

السؤال الثاني:

- ١- الحج
٤- الحديبية

السؤال الثالث:

- ١- دارالندوة

السؤال الرابع:

- ١- بدر
٤- أحد

السؤال الخامس:

- ١- سلمان الفارسي

السؤال السادس:

- ١- غزوة بدر - غزوة أحد - غزوة الخندق - صلح الحديبية - فتح مكة.

- ٢- هجرة الرسول ﷺ إلى يثرب - خروج الرسول ﷺ لأداء فريضة الحج - وفاة الرسول ﷺ.

السؤال السابع:

- ١- بسبب إيذاء قريش للمسلمين.

- ٢- للاتفاق على قتل رسول الله ﷺ، ومنعه وأصحابه من الهجرة حتى لا ينتشر الدين الجديد ويكون خطراً على قريش ومصالحها.

- ٣- بسبب تحطيط الرسول ﷺ للهجرة بشكل جيد، حيث هاجر في سرية تامة في الليل مع صديقه أبي بكر الصديق ﷺ، وسلكا طريقاً غير معروف حتى وصلا إلى يثرب.

- ٤- لتنظيم شؤون المسلمين فيما بينهم وتنظيم علاقاتهم بالطوائف الأخرى الموجودة في المدينة خاصة اليهود، وتحديد ما لهم من حقوق وما عليهم من واجبات تجاه الدولة.

- ٥- بسبب مخالفة الرماة لأوامر الرسول ﷺ وترك مواقعهم فوق الجبل ونزولهم لجمع الغنائم.

- ٦- لأن هذا الاتفاق مكن الرسول ﷺ من نشر دعوته خارج الجزيرة العربية فبدأ في إرسال الرسائل إلى الملوك والحكام يدعوهم إلى الإسلام.

السؤال الثامن:

- ١- آمنوا به ويايعوه على حمايته ونصرته، فلما عادوا إلى يثرب بدءوا في دعوة الناس إلى الإسلام.

- ٢- جعل من المستحيل على جيش قريش مهاجمتهم رغم حصارهم للمسلمين لفترة طويلة.

- ٣- انتصر المسلمون على قريش وحلفائها دون قتال.

- ٤- خرج الرسول ﷺ بجيش كبير لفتح مكة عام ٨ هـ.

- ٥- بدأ الناس يأتون أفواجا إلى الرسول ﷺ ليدخلوا الإسلام.

السؤال التاسع:

- ١- خطط الرسول ﷺ للهجرة بشكل جيد، حيث هاجر في سرية تامة في الليل مع صديقه أبي بكر الصديق ﷺ، وسلكا طريقاً غير معروف حتى وصلا إلى يثرب.

- ٢- اجتماع سادة قريش في دارالندوة لقتل الرسول ﷺ ومنعه من الهجرة.

- ٣- لأنها أدت إلى وضع أسس لبناء الدولة وهي: (بناء المسجد، المؤاخاة، صحيفة المدينة).

السؤال العاشر:

- ١- لم يفكر المسلمون في فتح مكة.

- ٢- كان من الممكن نجاح قريش في غزو المدينة.

إجابة أسئلة امتحانات الإدارات

السؤال الأول:

- ١- بدر

السؤال الثاني:

- ١- المدينة

- ٤- الندوة

السؤال الثالث:

- ١- (خطأ)

- ٤- (صواب)

السؤال الرابع:

- ١- الكوفة

السؤال الرابع:

- صلح الحديبية

السؤال الخامس:

- الخندق

السؤال السادس:

- ١- بسبب مخالفة الرماة لأوامر النبي ﷺ، وترك مواقعهم فوق جبل أحد، ونزولهم لجمع الغنائم.

- ٢- حيث عفا عن أهل مكة وأعطاهم الأمان رغم إيذائهم له ولأصحابه، وقال لهم: «أذهبوا فأنتم الطلقاء».

- ٣- مكن هذا الاتفاق الرسول ﷺ من نشر دعوته خارج الجزيرة العربية فبدأ في إرسال الرسائل إلى الملوك والحكام يدعوهم إلى الإسلام.

- ٤- آمنوا به ويايعوه على حمايته ونصرته، فلما عادوا إلى يثرب بدءوا في دعوة الناس إلى الإسلام واستقبلوا الرسول ﷺ بالترحاب عندما هاجر اليهم.

- ٥- لم يتحول نصر المسلمين إلى هزيمة.

- ٦- أمر الرسول ﷺ أصحابه بالهجرة إلى يثرب.

إجابة اختبر نفسك (تراكمي)

السؤال الأول:

- (أ) ١- المتوسط ٢- ليبيا ٣- باب المنذب

- (ب) ١- خطط الرسول ﷺ للهجرة بشكل جيد؛ حيث هاجر في سرية تامة ليلاً مع صديقه أبي بكر الصديق ﷺ، وسلكا طريقاً غير معروف حتى وصلا إلى يثرب.

- ٢- بسبب مخالفة الرماة لأوامر الرسول ﷺ وترك مواقعهم فوق الجبل ونزولهم لجمع الغنائم.

السؤال الثاني:

- ١- (صواب) ٢- (خطأ) ٣- (صواب)
٤- (صواب) ٥- (خطأ)

السؤال الثالث:

- (أ) ١- يثرب ٢- بدر ٣- صلح الحديبية
(ب) ١- الرسول ﷺ - فتح مكة. ٢- تدل على التسامح.

الدرس الرابع: لمحات من حياة الخلفاء الراشدين

سؤال ١

- (أ) ١- عمر بن الخطاب ﷺ ٢- أسامة بن زيد ٣- الجند / بيت المال

- (ب) ١- الشام ٢- عثمان بن عفان ﷺ

- (ج) ١- لأنه أول من آمن من الرجال.

- شارك الرسول ﷺ في جميع غزواته.

- جعله الرسول ﷺ إماماً للمسلمين في الصلاة أثناء مرضه.

- ٢- لتوحيد قراءة القرآن.

سؤال ٢

- (أ) ١- (خطأ) ٢- (خطأ)

- (ب) للحفاظ على أمن وسلامة المواطنين

إجابة تدرب (الدرس الرابع: لمحات من حياة الخلفاء الراشدين)

السؤال الأول:

- ١- (خطأ) ٢- (صواب) ٣- (خطأ)

- ٤- (صواب) ٥- (خطأ)

السؤال الثاني:

- ١- الشام ٢- عمر بن الخطاب ﷺ ٣- الهجري

- ٤- الجند، المال ٥- العراق، فارس

- ٦- عثمان بن عفان ﷺ ٧- علي بن أبي طالب ﷺ

السؤال الثالث:

- ١- أبي بكر الصديق ﷺ ٢- مصر والشام ٣- عمر بن الخطاب ﷺ

- ٤- وضع التقويم الهجري ٥- علي بن أبي طالب ﷺ

السؤال الرابع:

- ١- الكوفة ٢- التقويم الهجري ٣- نظام الشرطة

السؤال الخامس:

- ١- أسامة بن زيد
٢- زيد بن ثابت
٣- عمر بن الخطاب
٤- عثمان بن عفان
٥- علي بن أبي طالب

السؤال السادس:

- ١- وضع التقويم الهجري
٢- محاربة المرتدين

السؤال السابع:

- ١- لمحاربة الروم وتأمين حدود الدولة الإسلامية.
٢- لنشر الإسلام وتأمين حدود الدولة الإسلامية.
٣- للتوحد قراءة القرآن.
٤- لتأمين حدود الدولة الإسلامية.
٥- للحفاظ على أمن وسلامة المواطنين.

السؤال الثامن:

- ١- أرسل أبو بكر الصديق عدة جيوش لمحاربة المرتدين ونجحت هذه الجيوش في محاربة المرتدين وعادوا إلى الإسلام.
٢- أمر أبو بكر الصديق زيد بن ثابت بجمع القرآن.
٣- أمر الخليفة علي بن أبي طالب بنقل مقر الخلافة إلى الكوفة في العراق بدلاً من المدينة ليسهل الانتقال بين أرجاء الدولة الإسلامية.

السؤال التاسع:

- ١- إرسال جيش أسامة بن زيد، الذي جهزه الرسول قبل وفاته، إلى الشام لمحاربة الروم وتأمين حدود الدولة الإسلامية.
٢- كما قام بمحاربة المرتدين، فقد أرسل عدة جيوش لمحاربتهم ونجحت هذه الجيوش في محاربة المرتدين وعادوا إلى الإسلام.
٣- وعندما استشهد عدد كبير من حفظة القرآن في حرب المرتدين، أمر زيد بن ثابت بجمع القرآن.
٤- قام بإرسال الجيوش الإسلامية خارج شبه الجزيرة العربية لنشر الإسلام وتأمين حدود الدولة الإسلامية.
٥- استكمل الفتوحات الإسلامية التي بدأت في عهد الخليفة أبي بكر الصديق، وفتح بلاد العراق وبلاد فارس والشام ومصر.
٦- كان حريصاً على تطبيق العدل، وخصص يوماً للنظر في مظالم الناس.

إجابة أسئلة امتحانات الإدارات

السؤال الأول:

- ١- (صواب)
٢- (خطأ)
٣- (صواب)
٤- (صواب)
٥- (صواب)
٦- (خطأ)
٧- (خطأ)

السؤال الثاني:

- ١- المرتدون
٢- عثمان بن عفان
٣- أبو بكر الصديق
٤- الدواوين

السؤال الثالث:

- ١- أبي بكر الصديق
٢- المرتدين
٣- عثمان بن عفان

السؤال الرابع:

- ١- علي بن أبي طالب
٢- الكوفة
٣- أبو بكر الصديق
٤- أبو بكر الصديق
٥- عمر بن الخطاب

السؤال الخامس:

- ١- لأنه أول من أسلم من الرجال - شارك الرسول في جميع غزواته - جعله الرسول إماماً للمسلمين في الصلاة أثناء مرضه.
٢- أمر الخليفة أبو بكر الصديق زيد بن ثابت بجمع القرآن بسبب استشهاد عدد كبير من حفظة القرآن في حروب المرتدين.
٣- تأمين سواحل مصر والشام من هجمات الروم.

إجابة اختبار نفسك (تراكمي)

السؤال الأول:

- ١- (١) - أبو بكر الصديق
٢- سلمان الفارسي
٣- العراق
٤- عندما استشهد عدد كبير من حفظة القرآن في حرب المرتدين، أمر الخليفة أبو بكر الصديق زيد بن ثابت بجمع القرآن.

السؤال الثاني:

- ١- (خطأ)
٢- (صواب)
٣- (صواب)
٤- (خطأ)
٥- (صواب)

السؤال الثالث:

- ١ (١) - الرسول
٢- ثلاث سنوات
٣- هجرة الرسول
٤- عثمان بن عفان
٥- جمع القرآن الكريم - وضع التقويم الهجري - إنشاء أول أسطول بحري إسلامي - تنظيم الشرطة.

إجابة اختبار الأضواء (١) على الوحدة الأولى

السؤال الأول:

- ١ (١) - الأحمر
٢- عُمان
٣- الأطلنطي
٤- المغرب
٥- السعودية
٦- جبل طارق
٧- لأنها كانت بداية مرحلة جديدة في نشر الدعوة إلى الإسلام وتأسيس الدولة من حيث بناء المسجد والإخاء بين المهاجرين والأنصار، ووضع وثيقة لتنظيم شؤون المسلمين عرفت باسم صحيفة المدينة.

السؤال الثاني:

- ١- (خطأ)
٢- (خطأ)
٣- (صواب)
٤- (صواب)
٥- (خطأ)

السؤال الثالث:

- ١ (١) - الشام
٢- طوروس
٣- مكة
٤- مخالفة الرماة لأوامر الرسول ونزولهم لجمع الغنائم.
٥- تتمثل أهمية الوطن العربي الاقتصادية في:
٦- وقوعه على بحار ذات أهمية تجارية، مثل: البحر الأحمر والبحر المتوسط والخليج العربي.
٧- تحكمه في ممرات بحرية مهمة وهي (مضيق هرمز، ومضيق باب المندب، ومضيق جبل طارق، بالإضافة لقناة السويس).
٨- تحكمه في أهم الطرق التجارية العالمية.

إجابة اختبار الأضواء (٢) على الوحدة الأولى

السؤال الأول:

- ١ (١) - الأطلنطي
٢- مكة
٣- الرعي
٤- فلسطين
٥- تحول نصر المسلمين إلى هزيمة.
٦- تحكمه في أهم الطرق التجارية العالمية.

السؤال الثاني:

- ١- (صواب)
٢- (خطأ)
٣- (خطأ)
٤- (صواب)
٥- (خطأ)

السؤال الثالث:

- ١ (١) - عمر بن الخطاب
٢- الرسول
٣- زيد بن ثابت
٤- لم يخرج الرسول بجيش كبير لفتح مكة.
٥- لم يكن لموقعه أهمية دينية.

النماذج الاسترشادية على الشهر الأول

إجابة النموذج الأول

السؤال الأول:

- ١- الأحمر
٢- عُمان
٣- الأطلنطي
٤- المغرب
٥- ليبيا

السؤال الثاني:

- ١ (١) - (صواب)
٢- (خطأ)
٣- (صواب)
٤- لئلا يتأثروا على قتل الرسول خوفاً على مصالحهم ومحاولة منع النبي من الهجرة.
٥- لنشر الإسلام وتأمين حدود الدولة الإسلامية.

السؤال الثالث:

- ١- إفريقيا، آسيا
٤- الشام

- ٢- الرعي
٥- الهجري

- ٣- الحديبية

إجابة النموذج الثاني



السؤال الأول:

- (١) ١- المتوسط
٤- الكبرى

(ب) لأنها كانت تقوم برحلتين تجاريتين: رحلة الشتاء إلى اليمن، ورحلة الصيف إلى الشام.

السؤال الثاني:

- ١- (خطأ)
٤- (خطأ)

- ٢- (خطأ)
٥- (صواب)

- ٣- (صواب)

- ٢- الشام

- ٥- الكوفة

- ٤- عثمان بن عفان

الوحدة الثانية: الملامح الطبيعية لوطننا العربي

الدرس الأول: مظاهر سطح وطننا العربي

سؤال

- (١) ١- (صواب) ٢- (صواب) ٣- (خطأ)

(ب) يضم الوطن العربي السهول الفيضية التي كونتها الأنهار مثل سهول نهر النيل في مصر والسودان وسهول نهرى دجلة والفرات في العراق والسهول الساحلية مثل سهول البحر المتوسط والمحيط الأطلنطي وسهول البحر الأحمر والخليج العربي.

(ج) ١- بسبب حركات باطنية تعرضت لها الأرض.

٢- تستخدم كطرق للمواصلات أو للحصول على المياه الجوفية.

إجابة تدريب (الدرس الأول: مظاهر سطح وطننا العربي)



السؤال الأول:

- ١- (خطأ)
٤- (صواب)

- ٢- (خطأ)
٥- (خطأ)

- ٣- (صواب)

- ٢- التوائية، انكسارية

- ٥- دجلة، الفرات

- ٨- السهول الفيضية

- ٧- التعرية الهوائية

- ١٠- المياه الجوفية

- ١١- الشتوية

السؤال الثالث:

- ١- الأطلنطي
٤- الهضاب

- ٢- عسير
٥- السعودية

- ٣- البحر الأحمر
٦- مصر والسودان

السؤال الرابع:

- ١- جبال التوائية

- ٢- جبال انكسارية

السؤال الخامس:

- ١- البحر الأحمر
٤- أطلس

- ٢- نجد
٥- المتوسط

- ٣- النيل
٦- دجلة والفرات

- ٨- اليمن

السؤال السادس:

- ١- بسبب قيام الزراعة اعتماداً على المياه الجوفية.
٢- تستخدم كطرق للمواصلات أو للحصول على المياه الجوفية.
٣- كونتها الأنهار عن طريق ترسب المواد العالقة بمياهها.
٤- بسبب: تميز سواحل المحيط الأطلنطي بمطاراتها الشتوية وسهولة الانتقال على طول امتدادها.

السؤال السابع:

- ١- قيام الزراعة ويعيش فيها بعض السكان.
٢- تكون تربة تعد من أخصب أنواع الأراضي.
٣- كونت بجزر الرمال العظيم والكثبان الرملية.

إجابة أسئلة امتحانات الإدارات



السؤال الأول:

- ١- بادية الشام
٤- الكفرة

- ٢- جبال البحر الأحمر
٣- أطلس

السؤال الثاني:

- ١- (خطأ)
٤- (صواب)

- ٢- (صواب)
٥- (صواب)

السؤال الثالث:

- ١- عُمان

- ٢- الأودية الجافة

السؤال الرابع:

- ١- البحر الميت

- ٢- وادي الدواسر

- ٣- الهضاب

السؤال الخامس:

- ١- بسبب ترسيب الأنهار المواد العالقة بمياهها.
٢- بسبب الحركات الالتوائية التي نشأت نتيجة لحركات باطنية تعرضت لها الأرض.
٣- بسبب التعرية الهوائية.
٤- بسبب الحركات الالتوائية التي نشأت نتيجة لحركات باطنية تعرضت لها الأرض.
٥- تستخدم كطرق للمواصلات أو للحصول على المياه الجوفية.

السؤال السادس:

- سهول البحر الأحمر والخليج العربي غنية بالثروات المعدنية ومصادر الطاقة.

إجابة اختبار نفسك (الدرس الأول)



السؤال الأول:

- ١- الإفريقي

- ٢- السعودية

- ٣- أطلس / كردستان / زاجروس / عمان

- ٤- إفريقيا الشمالية

- ٥- الآسيوي

السؤال الثاني:

- (١) ١- البحر الميت
(ب) ١- ليبيا
٤- السعودية

- ٢- كردستان
٢- الجزائر
٣- مصر

السؤال الثالث:

- (١) ١- تعرية مائية
(ب)

- ٢- الشتاء

- ٣- مصر وليبيا

وجه المقارنة	جبال البحر الأحمر	جبال عُمان
الموقع	الجناح الإفريقي	الجناح الآسيوي
سبب نشأتها	نشأت نتيجة حدوث انكسار في القشرة الأرضية.	نشأت عن حركات باطنية تعرضت لها الأرض.

الدرس الثاني: العوامل المؤثرة في مناخ وطننا العربي

سؤال

- (١) ١- الجنوب

- ٢- الموقع الفلكي ومظاهر السطح / القرب أو البعد عن المسطحات المائية.
(ب) حيث إن: امتداد الوطن في قارة إفريقيا وآسيا واقترابه من أوروبا يعرضه ل: هبوب رياح شديدة البرودة من أوروبا وآسيا شتاءً ورياح حارة من جنوب آسيا صيفاً.
(ج) أدى إلى: ارتفاع درجات الحرارة في المناطق الجنوبية من الوطن العربي - انخفاض درجة الحرارة كلما اتجهنا شمالاً.
لذلك يسود المناخ الحار معظم أجزاء الوطن العربي، بينما يسود المناخ المعتدل في الأجزاء الشمالية.

سؤال

- (١) -١) مظاهر السطح ٢- بخار المياه ٣- لبنان
(ب) لأنه كلما ارتفعنا ١٥٠ مترًا فوق مستوى سطح البحر انخفضت الحرارة درجة واحدة.
(ج) يؤثر اتجاه المرتفعات على كمية المطر حيث: تسقط الأمطار بغزارة على منحدرات الجبال المواجهة للرياح المحملة ببخار الماء بينما تقل أو تنعدم على الجهات الداخلية للمرتفعات.

سؤال

(١) (صواب)

(ب) أدى إلى ارتفاع درجات الحرارة بشكل عام في أرجاء وطننا العربي.

إجابة تدرب (الدرس الثاني: العوامل المؤثرة في مناخ وطننا العربي)

السؤال الأول:

- ١- الشمالية
٤- جنوب

السؤال الثاني:

- ١- الشتاء
٤- الساحلية

السؤال الثالث:

- ١- (خطأ)
٤- (خطأ)

السؤال الرابع:

- ١- آسيا
٤- الصيف

السؤال الخامس:

مدن ساحلية مدن قارية

طرابلس	القاهرة
الرياض	الرياض

السؤال السادس:

- ١- بسبب تأثير الموقع الفلكي حيث يقع الوطن العربي بين دائرتي عرض ٢ جنوبًا و ٣٧ شمالًا - تأثير القرب أو البعد عن المسطحات المائية - تأثير مظاهر السطح.
٢- بسبب مرور دائرة الاستواء جنوب الوطن العربي.
٣- بسبب بعدها عن دائرة الاستواء والقرب من المسطحات المائية.
٤- بسبب امتداد الوطن العربي في قارتي إفريقيا وآسيا واقترابه من أوروبا.
٥- تعمل المسطحات المائية على تلطيف درجة حرارة المناطق القريبة منها.
٦- لأنه كلما ارتفعنا ١٥٠ مترًا فوق سطح البحر انخفضت الحرارة درجة واحدة مئوية.

السؤال السابع:

- ١- أدى ذلك إلى ارتفاع الحرارة في المناطق الجنوبية وانخفاضها كلما اتجهنا شمالًا.
٢- أدى ذلك إلى ارتفاع درجات الحرارة في المناطق الجنوبية من الوطن العربي وانخفاض درجة الحرارة كلما اتجهنا شمالًا.
٣- يؤدي إلى ارتفاع درجات الحرارة بشكل عام في أرجاء الوطن العربي، ويتسم فصل الصيف بالجفاف فيما عدا مرتفعات اليمن ومرتفعات عسير وجنوب موريتانيا وأجزاء من الصومال حيث تسقط أمطار موسمية على هذه المناطق.
٤- يؤدي أحيانًا إلى تأجيل أو إلغاء الرحلات الجوية.
٥- أدى ذلك إلى قلة تأثيرها على الوطن العربي.

السؤال الثامن:

- ١- يؤدي سوء الأحوال الجوية إلى تأجيل أو إلغاء الرحلات الجوية.
٢- تنخفض الحرارة درجة واحدة كلما ارتفعنا ١٥٠ مترًا فوق مستوى سطح البحر وتسقط الأمطار بغزارة على منحدرات الجبال المواجهة للرياح المحملة ببخار الماء.

إجابة أسئلة امتحانات الإدارات

السؤال الأول:

- ١- (صواب)
٤- (صواب)
٢- (صواب)
٥- (صواب)
٣- (صواب)
٦- (صواب)

السؤال الثاني:

- ١- السرطان ٢- اليمن / عسير ٣- الاستواء

السؤال الثالث:

- ١- الشمالية ٢- مدار السرطان ٣- جنوب
٤- الصيف ٥- مدار الجدي ٦- الصومال

السؤال الرابع:

- ١- بسبب ضيق مساحتها وعدم توغل تأثيرها إلى الداخل لوجود صحارى ومرتفعات قريبة من السواحل.
٢- المسطحات المائية (تلطف درجة الحرارة - تزيد من فرص سقوط الأمطار).
٣- يؤدي إلى حدوث الصيف في الوطن العربي وارتفاع درجات الحرارة بشكل عام في أرجاء وطننا العربي والجفاف فيما عدا مرتفعات اليمن ومرتفعات عسير وأجزاء من الصومال وجنوب موريتانيا حيث تسقط أمطار موسمية على هذه المناطق.

إجابة اختبار نفسك (تراكمي)

السؤال الأول:

- (١) -١) مظاهر السطح. ٢- سقوط الأمطار.
٣- لأنها جهات داخلية للمرتفعات.

- (ب) ١- تقوم الزراعة في الواحات ويعيش بها بعض السكان.
٢- أدت إلى تكون التجمعات الرملية مثل بحر الرمال العظيم بين مصر وليبيا.

السؤال الثاني:

- (١) -١) السهول ٢- إفريقيا الشمالية ٣- الصحراء
(ب) ١- بسبب مرور دائرة الاستواء جنوب الوطن العربي.
٢- بسبب قربها من المسطحات المائية.

السؤال الثالث:

- ١- (خطأ) ٢- (صواب) ٣- (صواب)
٤- (خطأ) ٥- (خطأ)

الدرس الثالث: الأقاليم المناخية والنباتية في وطننا العربي

سؤال

- (١) (الصبار.
(ب) ترى عليها الماعز والأغنام.

سؤال

- (١) -١) اليمن ٢- الأردن
٣- الرعي الجائر - الصيد الجائر / التلوث البيئي
(ب) بسبب تعرض الحياة البرية لمخاطر - تدهور النباتات الطبيعية - انقراض أنواع عديدة من الحيوانات البرية.
(ج) ١- الحفاظ على الحياة البرية - تنشيط السياحة - تحقيق التوازن البيئي والحد من التلوث تحقيقًا للتنمية المستدامة.
٢- تفعيل القوانين والتوعية بأهمية المحميات الطبيعية.

إجابة تدرب (الدرس الثالث: الأقاليم المناخية والنباتية في وطننا العربي)

السؤال الأول:

- ١- (صواب) ٢- (صواب) ٣- (خطأ)
٤- (خطأ)

السؤال الثاني:

- ١- ثلاث.
٢- بلاد المغرب العربي ومصر / ليبيا / فلسطين / لبنان / معظم سوريا.
٣- الشتاء. ٤- لبنان.
٥- الأرز والزيتون / الصنوبر ٦- الإقليم المداري.
٧- تدهور النباتات الطبيعية - انقراض أنواع عديدة من الحيوانات البرية.

السؤال الثالث:

- ١- فلسطين ولبنان
٢- مصر
٣- البحر المتوسط
٤- جنوب
٥- الصحراوي
٦- المدارى

السؤال الرابع:

- ١- إقليم البحر المتوسط
٢- الإقليم المدارى
٣- الإقليم الصحراوي

السؤال الخامس:

- ١- البحر المتوسط
٢- الأردن
٣- المدارى
٤- المدارى

السؤال السادس:

- ١- البحر المتوسط
٢- السعودية
٣- الصحراوي
٤- موريتانيا
٥- المدارى
٦- الهندي

السؤال السابع:

- ١- بسبب الحفاظ على الحياة البرية بما تضمنه من النباتات الطبيعية - وحيوانات برية وتنشيط السياحة.
٢- الحفاظ على الحياة البرية وتنشيط السياحة وتحقيق التوازن البيئي والحد من التلوث تحفيقاً للتنمية المستدامة.

السؤال الثامن:

- ١- أدى إلى تنوع النباتات الطبيعية والحيوانات البرية.
٢- أدت إلى دفع دول الوطن العربي إلى إقامة العديد من المحميات الطبيعية.

السؤال التاسع:

- ١- إن وطننا العربي يمتاز بتنوع أقاليمه المناخية، مما أدى إلى تنوع النباتات الطبيعية والحيوانات البرية.
٢- اتخذت معظم الدول العربية إجراءات مثل تفعيل القوانين والتوعية بأهمية المحميات الطبيعية.

السؤال العاشر:

- ١- تتعرض المحميات إلى تهديدات بشرية منها: الرعي، والصيد الجائر، والتلوث البيئي.
٢- أنشأ الوطن العربي المحميات الطبيعية منذ بدايات القرن العشرين، ومن أشهر المحميات: محمية أرز الشوف في لبنان - محمية ضانا في الأردن - محمية الدندر في السودان - محمية رأس محمد ومحمية جبل علبة في مصر.

السؤال الحادي عشر:

وجه المقارنة	إقليم البحر المتوسط	الإقليم الصحراوي
الموقع الفلكي	يقع في الأطراف الشمالية من الوطن العربي بين دائرتي عرض ٣٠ و ٣٧ شمالاً.	يشغل معظم الوطن العربي، إذ يمتد بين دائرتي عرض ١٥ و ٣٠ شمالاً.
أهم الدول	بلاد المغرب العربي، مصر، ليبيا، فلسطين، لبنان، معظم سوريا.	يقع من الخليج العربي شرقاً حتى ساحل موريتانيا غرباً ليشمل النطاق من الساحل من الصومال.

إجابة أسئلة امتحانات الإدارات

السؤال الأول:

- ١- الهندي
٢- البحر المتوسط
٣- مدارى
٤- هرمز

السؤال الثاني:

- ١- (صواب)
٢- (خطأ)
٣- (خطأ)
٤- (خطأ)
٥- (خطأ)
٦- (خطأ)

السؤال الثالث:

- ١- لبنان
٢- الصحراوي
٣- البحر المتوسط

السؤال الرابع:

- ١- الإقليم المدارى
٢- الإقليم المناخى

السؤال الخامس:

- ١- الشتاء
٢- الصحراوي الحار
٣- البحر المتوسط
٤- لبنان

السؤال السادس:

- ١- محمية أرز الشوف.
٢- لأنها في نطاق الإقليم المدارى الذى يتميز بشتاء معتدل جاف وصيف حار ممطر.
٣- تنتشر فيه بعض النباتات التى لها القدرة على تحمل الجفاف والحرارة مثل نبات الصبار.
٤- لن يتم الحفاظ على الحياة البرية وتتعرض أنواع عديدة منها للانقراض.
٥- لن تنمو أشجار الأرز والزيتون والصنوبر.
٦- تتعرض المحميات إلى تهديدات بشرية منها: الرعى الجائر، والصيد الجائر، والتلوث البيئي.

إجابة اختبر نفسك (تراكمي)



السؤال الأول:

- (أ) ١- البحر المتوسط
٢- المدارى
٣- الصحراوي
٤- المتوسط
(ب) منطقة جغرافية من سطح الأرض تتسم بخصائص مناخية تميزها عن غيرها.

السؤال الثاني:

- ١- مصر والسودان
٢- لبنان
٣- البحر المتوسط
٤- الزواحف
٥- جبل علبة

السؤال الثالث:

- (أ) ١- (خطأ)
٢- (خطأ)
٣- (خطأ)
(ب) ١- تساعد على تنشيط السياحة.
٢- بسبب مرور دائرة الاستواء جنوب الوطن العربي.

الدرس الرابع : المشكلات البيئية فى وطننا العربى

سؤال

- (أ) ١- الجفاف
٢- التصحر
(ب) ١- بسبب تزايد معدلات استهلاك المياه

- ٢- بسبب استخدام طرق الري التقليدية - زحف الكثبان الرملية - التوسع العمرانى - الإفراط فى استخدام الأسمدة الكيماوية والمبيدات الحشرية - تناقص مخزون المياه الجوفية - الرعى الجائر للحيوانات وإزالة الغابات.
(ج) تهديد صحة المواطن العربي وحياته - إعاقة تنفيذ الخطط التنموية فى الدول العربية - تدمير الحياة النباتية والحيوانية فى كثير من المناطق فى الوطن العربي.

سؤال

- (أ) ١- (خطأ)
٢- (خطأ)
(ب) تفعيل قوانين تجرم قطع العشوائى للأشجار، استخدام مصادر طاقة نظيفة.

إجابة تدرب (الدرس الرابع: المشكلات البيئية فى وطننا العربى)



السؤال الأول:

- ١- (صواب)
٢- (خطأ)
٣- (خطأ)
٤- (خطأ)
٥- (صواب)
٦- (خطأ)
٧- (خطأ)

السؤال الثاني:

- ١- الأمطار
٢- الصحراوي
٣- الجفاف وندرة المياه والتصحر
٤- نيوم الخضراء
٥- العذبة

السؤال الثالث:

- ١- الجفاف
٢- التصحر

السؤال الرابع:

- ١- الصومال
٢- ثلثي
٣- السعودية
٤- مصر
٥- التصحر

إجابة اختبار نفسك (تراكمي)



السؤال الأول:

- ١- الصحراوي الحار ٢- السعودية ٣- البحر الميت
٤- الصيف ٥- لبنان

السؤال الثاني:

- (أ) ١- الإقليم المناخي ٢- التصحر ٣- الصومال
(ب) ١- حدوث مشكلة ندرة المياه العذبة.
٢- حدوث مشكلة التصحر.

السؤال الثالث:

- (أ) ١- (صواب) ٢- (خطأ) ٣- (صواب)
(ب) تؤدي المشكلات البيئية التي تعاني منها الدول العربية إلى تهديد صحة المواطن العربي وحياته.

إجابة اختبار الأضواء (أ) على الوحدة الثانية



السؤال الأول:

- (أ) ١- البحريات ٢- الاستواء ٣- البحر المتوسط
٤- أطلس

(ب) تنوع مظاهر سطح وطننا العربي ساعد على تنوع الأنشطة الاقتصادية.

السؤال الثاني:

- (أ) ١- السعودية ٢- الصيف ٣- الصحراوي
٤- مصر

(ب) بسبب الإفراط في استخدام الأسمدة الكيماوية والمبيدات الحشرية - استخدام طرق الري التقليدية - الرعي الجائر للحيوانات، وإزالة الغابات - تناقص مخزون المياه الجوفية - زحف الكثبان الرملية - التوسع العمراني.

السؤال الثالث:

- (أ) ١- (صواب) ٢- (خطأ) ٣- (خطأ)
٤- (صواب)
(ب) تزايد مشكلة ندرة المياه العذبة.

إجابة اختبار الأضواء (ب) على الوحدة الثانية



السؤال الأول:

- (أ) ١- للأشجار ٢- الاستواء ٣- الفيضية
٤- هضبة إفريقيا الشمالية

(ب) يؤدي إلى:
ارتفاع درجات الحرارة بشكل عام في أرجاء وطننا العربي، والجفاف فيما عدا مرتفعات اليمن ومرتفعات عسير وجنوب موريتانيا وأجزاء من الصومال.

السؤال الثاني:

- (أ) ١- الصومال ٢- الشمالية ٣- الجدي
(ب)

وجه المقارنة	الإقليم المداري	الإقليم الصحراوي
الخصائص المناخية	يتميز بشتاء معتدل جاف وصيف حار ممطر	- يتسم بندرة الأمطار طوال السنة والتي قد تسقط على هيئة سيول في بعض المناطق. - يتسم فصل الصيف بشدة الحرارة التي تصل إلى أكثر من ٥٠ درجة مئوية. - يتسم فصل الشتاء بأنه معتدل نهاراً وبارد جداً ليلاً؛ حيث تصل درجة الحرارة إلى ما دون الصفر المئوي في بعض المناطق.
النباتات بكل إقليم	تنمو فيه حشائش السافانا	تنتشر فيه بعض النباتات التي لها القدرة على تحمل الجفاف والحرارة مثل نبات الصبار.

السؤال الثالث:

- (أ) ١- السهول الفيضية - كونتها الأنهار عن طريق ترسب المادة العالقة بمياهها.
٢- السهول الساحلية - هي السهول التي تقع على البحار والمحيطات.

السؤال الخامس:

- ١- الجفاف.
٢- نقص كمية الأمطار في بعض السنوات بما لا يسمح بالزراعة أو نمو الحشائش.
٣- تعمل الدول العربية على البحث عن مصادر جديدة للمياه العذبة - تفعيل قوانين تجرم القطع العشوائي للأشجار - استخدام مصادر الطاقة النظيفة - إنشاء المدن الذكية لتقليل انبعاثات الغازات الدفيئة - تعمل على زيادة المساحات الخضراء.

السؤال السادس:

- ١- بسبب تزايد معدلات استهلاك المياه.
٢- بسبب: النمو السكاني المتزايد - التوسع المستمر في الزراعة.
٣- بسبب: الإفراط في استخدام الأسمدة الكيماوية والمبيدات الحشرية - استخدام طرق الري التقليدية - الرعي الجائر للحيوانات، وإزالة الغابات - تناقص مخزون المياه الجوفية - زحف الكثبان الرملية - التوسع العمراني.
٤- لتقليل انبعاثات الغازات الدفيئة.

السؤال السابع:

- ١- حدوث التصحر.
٢- نقص الغذاء وحدوث مجاعة لأكثر من مليون شخص.
٣- تزايد مشكلة ندرة المياه نتيجة تزايد معدلات استهلاك المياه.
٤- حدوث مشكلة التصحر.

السؤال الثامن:

- ١- تعاني معظم الدول العربية من ندرة المياه العذبة بسبب النمو السكاني المتزايد وزيادة معدلات استهلاك المياه.
٢- من جهود دول الوطن العربي لمواجهة المشكلات البيئية زيادة المساحات الخضراء.

السؤال التاسع:

وجه المقارنة	الجفاف	التصحر	ندرة المياه العذبة
أسباب	نقص كمية الأمطار في بعض السنوات	- استخدام طرق الري التقليدية. - زحف الكثبان الرملية. - التوسع العمراني.	- بسبب تزايد معدلات استهلاك المياه.
أسباب	نقص كمية الأمطار في بعض السنوات	- تناقص مخزون المياه الجوفية. - الإفراط في استخدام الأسمدة الكيماوية والمبيدات الحشرية التي - الرعي الجائر للحيوانات، وإزالة الغابات.	- بسبب النمو السكاني المتزايد والتوسع المستمر في الزراعة.

إجابة أسئلة امتحانات الإدارات



السؤال الأول:

- ١- الصومال ٢- المتوسط ٣- الأطلس

السؤال الثاني:

- ١- التصحر ٢- الجفاف ٣- التصحر

السؤال الثالث:

- ١- ثلثي ٢- السعودية ٣- التصحر
٤- الصومال ٥- التصحر

السؤال الرابع:

- ١- التصحر ٢- التصحر ٣- الجفاف

السؤال الخامس:

- ١- أدى إلى أن ثلثي مساحة الوطن العربي يعاني من التصحر وتناقص قدرة الأراضي على الإنتاج.
٢- تعاني الدول العربية من مشكلات تؤثر على البيئة مثل الجفاف والتصحر ونقص المياه العذبة.
٣- نقص كمية الأمطار في بعض السنوات، بما لا يسمح بالزراعة أو نمو الحشائش.

(ب) بسبب وقوع الوطن العربي بين دائرتي عرض ٢° جنوباً و ٣٧° شمالاً وتمردانرة الاستواء بجنوب الوطن العربي.

النماذج الاسترشادية على الشهر الثاني



إجابة النموذج الأول



السؤال الأول:

- (أ) ١- توبقال
٤- كردستان
(ب) تُستخدم كطرق للمواصلات، أو للحصول على المياه الجوفية.

السؤال الثاني:

- (أ) ١- الجنوبية
(ب) تكون الحرارة معتدلة في معظم أجزاء الوطن العربي عدا بعض الأجزاء الشمالية والجبالية فتكون أشد برودة ويكون الشتاء ممطرًا خاصة في المناطق المطلة على البحر المتوسط.

السؤال الثالث:

- (أ) ١- المدارى
٤- الصومال

(ب) حيث أطلقت مصر مبادرة زراعة ١٠٠ مليون شجرة مثمرة كما أطلقت السعودية مبادرة زراعة ٤٥٠ مليون شجرة وأعلنت عن إنشاء مدينة نيوم الخضراء.

إجابة النموذج الثاني



السؤال الأول:

- (أ) صورة (١)
١- التصحر.

٢- بسبب استخدام طرق الري التقليدية والإفراط في استخدام الأسمدة والمبيدات وزحف الكثبان الرملية، وتناقص مخزون المياه الجوفية والتوسع العمراني والرعى الجائر.

- صورة (ب)
١- الجفاف.

٢- بسبب نقص كمية الأمطار في بعض السنوات بما لا يسمح بالزراعة أو نمو الحشائش.

(ب) منطقة جغرافية من سطح الأرض تتسم بخصائص مناخية تميزها عن غيرها.

السؤال الثاني:

- (أ) ١- (صواب)
٤- (خطأ)

(ب) حيث ترتفع درجة الحرارة في المناطق الجنوبية من الوطن العربي القريبة من دائرة الاستواء، وتخفض كلما اتجهنا شمالاً بعيداً عن دائرة الاستواء؛ لذلك يسود المناخ الحار في معظم أجزاء الوطن العربي والمناخ المعتدل يسود في الأجزاء الشمالية منه.

السؤال الثالث:

- (أ) ١- متنوعة
٤- السكاني

(ب) تُقام فيها الزراعة اعتماداً على المياه الجوفية ويعيش فيها بعض السكان.

إجابة بنك الأسئلة على المحور الأول



إجابة تدريبات الأضواء



السؤال الأول:

- ١- الأحمر
٤- المغرب
٧- السويس
١٠- اليمن

السؤال الثاني:

- ١- القديم
٣- الجزائر
٦- الحبشة

- ٩- الجند - المال
١١- خليج عدن والبحر العربي
١٣- جبال البحر الأحمر / جبال الحجاز / عسير / مرتفعات اليمن
١٤- اليمن وعسير
١٥- لبنان

السؤال الثالث:

- ١- إفريقيا
٤- مصر
٧- الرعى
١٠- أبي بكر الصديق
١٢- وسط إفريقيا
١٥- المتوسط
١٨- مصر

السؤال الرابع:

- ١- (صواب)
٤- (صواب)
٧- (خطأ)
١٠- (خطأ)
١٣- (خطأ)
١٦- (خطأ)
١٩- (خطأ)

السؤال الخامس:

- ١- دار الندوة
٤- التقويم الهجري
٦- هضبة إفريقيا الشمالية
٩- إقليم مناخ

السؤال السادس:

- ١- المصرية القديمة
٤- السبئية

السؤال السابع:

- ١- النجاشي
٤- عثمان بن عفان

السؤال الثامن:

- ١- يشرف على مسطحات مائية مهمة مثل البحر الأحمر والبحر المتوسط والخليج العربي، بالإضافة إلى تحكمه في ممرات بحرية مهمة وهي: مضيق هرمز، ومضيق باب المندب، ومضيق جبل طارق، بالإضافة إلى قناة السويس، مما أدى إلى تحكمه في أهم الطرق التجارية العالمية.
٢- لتجنب أذى قريش.

٣- بسبب اشتداد إيداء قريش للمسلمين.

٤- بسبب تحطيط الرسول ﷺ للهجرة بشكل جيد حيث هاجر في سرية تامة في الليل مع صديقه أبي بكر الصديق ﷺ وسلكا طريقاً غير معروف حتى وصلا إلى يثرب.
٥- لأنه أول من آمن من الرجال، وشاركه في جميع فتوحاته، وجعله الرسول ﷺ إماماً للمسلمين في الصلاة أثناء مرضه.

٦- للحفاظ على أمن وسلامة المواطنين، فعين رئيساً للشرطة أطلق عليه اسم صاحب الشرطة، وعين شرطة لحراسة بيت المال.

٧- تستخدم كطرق للمواصلات أو للحصول على المياه الجوفية.

٨- بسبب وجود المياه الجوفية.

٩- بسبب: ضيق مساحتها - عدم توغل تأثيرها إلى الداخل لوجود صحارٍ ومرتفعات قريبة من السواحل كجبال البحر الأحمر.

١٠- ترى عليها الماعز والأغنام.

١١- ساعد في الحفاظ على الحياة البرية وتنشيط السياحة - تساعد في تحقيق التوازن البيئي والحد من التلوث تحقيقاً للتنمية المستدامة.

السؤال التاسع:

- ١- أدى إلى تحكمه في أهم الطرق التجارية العالمية، وأصبح له أهمية اقتصادية.
٢- إيداء قريش للمسلمين.
٣- لتحديد حقوق وواجبات كل من يعيش في المدينة وكذلك العلاقات مع الجيران والتأكيد على حرية العقيدة بأمن وسلام.
٤- انتصر المسلمون على قريش وحلفائها دون قتال.
٥- مكن هذا الاتفاق الرسول ﷺ من نشر دعوته خارج الجزيرة العربية. فبدأ في إرسال الرسائل إلى الملوك والحكام يدعوهم إلى الإسلام.

- ٦- أرسل أبو بكر الصديق ﷺ عدة جيوش لمحاربة المرتدين ونجحت هذه الجيوش في محاربة المرتدين وعادوا إلى الإسلام.
- ٧- أمر أبو بكر الصديق ﷺ زيد بن ثابت بجمع القرآن.
- ٨- نقل مقر الخلافة إلى الكوفة في العراق بدلاً من المدينة: ليسهل عليه الانتقال بين أرجاء الدولة الإسلامية.
- ٩- هبوب رياح شديدة البرودة من أوروبا وآسيا شتاءً على الوطن العربي ورياح حارة من جنوب آسيا صيفاً.
- ١٠- تنوع النباتات الطبيعية والحيوانات البرية.
- ١١- تنتشر فيه بعض النباتات التي لها القدرة على تحمل الجفاف والحرارة مثل نبات الصبار وتعيش فيه حيوانات مثل ثعلب الصحراء والزواحف.
- ١٢- تزايد معدلات استهلاك المياه العذبة في الوطن العربي.

السؤال العاشر:

- ١- هو موطن الديانات السماوية (اليهودية ، المسيحية ، الإسلام) . كما قامت على أرضه أقدم الحضارات في العالم مثل الحضارة المصرية القديمة ، وحضارة بلاد العراق القديم .
- ٢- حيث يقع الوطن العربي وسط قارات العالم القديم الثلاث ، وتمتد أراضيه عبر قارتي آسيا وإفريقيا ، ويحده من الشمال البحر المتوسط وجبال طوروس ، ومن الجنوب المحيط الهندي والبحر العربي والصحراء الكبرى ، أما من الشرق فيحده الخليج العربي وخليج عمان وجبال زاغروس ، ومن الغرب المحيط الأطلنطي .
- ٣- أدركت قريش خطورة تجمع المسلمين على مصالحها ، فحاولت منع النبي ﷺ من الهجرة ، فاجتمع زعماء قريش في دار الندوة ، وتأمروا على قتله .
- ٤- عمل الرسول ﷺ على المؤاخاة بين المهاجرين والأنصار لإقامة مجتمع متماسك يسوده المحبة والتعاون والإيثار .
- ٥- إرسال جيش أسامة بن زيد ، الذي جهزه الرسول ﷺ قبل وفاته ، إلى الشام ، لمحاربة الروم وتأمين حدود الدولة الإسلامية كما قام بمحاربة المرتدين وأمر زيد ابن ثابت بجمع القرآن كما قام بإرسال الجيوش الإسلامية خارج شبه الجزيرة العربية لنشر الإسلام وتأمين حدود الدولة الإسلامية .
- ٦- حيث خصص يوماً للنظري في مظالم الناس .
- ٧- تتنوع مظاهر السطح في الوطن العربي مما بين أعلى نقطة في جبل توبقال في المغرب وأدنى نقطة في الوطن العربي بل وفي العالم وهي البحر الميت في الأردن تحت مستوى سطح البحر .
- ٨- تتعرض المحميات إلى تهديدات بشرية منها: الرعي ، والصيد الجائر ، والتلوث البيئي .

السؤال الحادي عشر:

- ١- لم يكن للوطن العربي أهمية دينية .
- ٢- لم يكن للوطن العربي أهمية اقتصادية .
- ٣- عدم اشتهاً أهل مكة بالتجارة .

إجابة أسئلة امتحانات الإدارات



السؤال الأول:

- ١- التجارة العالمية
٤- الدواسر
٧- اليمن وعسير
- ٢- الحبشة
٥- البحر الميت
٨- الجفاف
- ٣- سلمان الفارسي
٦- السرطان

السؤال الثاني:

- ١- الأطلنطي
٤- عمر بن الخطاب ﷺ
٧- اليمن
- ٢- الرعي
٥- الأودية الجافة
- ٣- يثرب
٦- مدار الجدي

السؤال الثالث:

- ١- (صواب)
٤- (صواب)
٧- (خطأ)
١٠- (خطأ)
- ٢- (خطأ)
٥- (صواب)
٨- (خطأ)
- ٣- (صواب)
٦- (صواب)
٩- (صواب)

السؤال الرابع:

- ١- التصحر
٤- صلح الحديبية
- ٢- الجفاف
٥- عثمان بن عفان ﷺ
- ٣- الجزائر
٦- الإقليم المداري

السؤال الخامس:

- ١- شمال
٤- الشتاء
- ٢- القبلي
٣- الخندق

السؤال السادس:

- ١- لأنه يشرف على مسطحات مائية مهمة مثل: البحر الأحمر والبحر المتوسط والخليج العربي ويتحكم في ممرات مائية مهمة وهي (مضيق هرمز ، ومضيق باب المندب ، ومضيق جبل طارق ، بالإضافة لقناة السويس) .
- ٢- لأن فيها ملكاً عادلاً يلقب بالنجاشي .
- ٣- بسبب مخالفة الرماة أوامر النبي ﷺ ، وترك مواقعهم فوق جبل أحد ، ونزولهم لجمع الغنائم .
- ٤- لأنه أول من أسلم من الرجال وشارك الرسول ﷺ في جميع غزواته وجعله الرسول ﷺ إماماً للمسلمين في الصلاة أثناء مرضه .
- ٥- بسبب ترسب المواد العالقة بمياه النهر .
- ٦- ضيق مساحتها وعدم توغل تأثيرها إلى الداخل لوجود صحارى ومرتفعات قريبة من السواحل كجبال البحر الأحمر .
- ٧- لأنها تقع ضمن الإقليم المداري .

السؤال السابع:

- ١- أمر الرسول ﷺ أصحابه بالهجرة إلى يثرب .
- ٢- تأمين سواحل مصر والشام من هجمات الروم .
- ٣- يكون الوطن العربي في فصل الصيف وارتفاع درجات الحرارة بشكل عام في أرجاء وطننا العربي الجفاف فيما عدا مرتفعات اليمن ومرتفعات عسير وأجزاء من الصومال وجنوب موريتانيا حيث تسقط أمطار موسمية على هذه المناطق .
- ٤- يعانى منها ثلثا مساحة الوطن العربي وتتناقص قدرة الأرض على الإنتاج .

السؤال الثامن:

- ١- فتح الرسول ﷺ مكة دون قتال و عفا عن أهلها وأعطاهم الأمان رغم إيدانهم له ولأصحابه ، وقال لهم : « اذهبوا فأنتم الطلقاء » .
- ٢- غنية بالثروات المعدنية ومصادر الطاقة .
- ٣- تنتشر فيه بعض النباتات التي لها القدرة على تحمل الجفاف والحرارة مثل نبات الصبار .

إجابة مراجعة الكتاب المدرسى على المحور الأول

- ١- (أ) السهول الساحلية هي السهول المطلة على البحار والمحيطات ، والسهول الفيضية هي السهول التي كونتها الأنهار عن طريق ترسب المادة العالقة بمياهها .
- (ب) المهاجرون : هم الذين هاجروا من مكة إلى المدينة ، والأنصار هم سكان المدينة الذين نصروا الرسول ﷺ في دعوته .
- (ج) التصحر : تناقص قدرة الأراضي الزراعية على الإنتاج . والجفاف : نقص كمية الأمطار في بعض السنوات بما لا يسمح بالزراعة أو نمو الحشائش .
- ٢- (أ) ١- الأطلنطي ٢- باب المندب ٣- الأحمر ٤- الصومال ٥- السعودية ٦- البحر المتوسط ٧- أطلس ٨- المداري
- (ب) تتمثل أهمية الوطن العربي الاقتصادية في : وقوعه على بحار ذات أهمية تجارية ، مثل : البحر الأحمر والبحر المتوسط والخليج العربي . - تحكمه في ممرات بحرية مهمة وهي (مضيق هرمز ، ومضيق باب المندب ، ومضيق جبل طارق ، بالإضافة لقناة السويس) - تحكمه في أهم الطرق التجارية العالمية .
- ٣- (أ) ١- تحكمه في أهم الطرق التجارية العالمية وزادت أهمية الوطن العربي الاقتصادية . ٢- بدأ الناس يأتون أفواجا إلى الرسول ﷺ ليدخلوا الإسلام . ٣- تؤثر مظاهر السطح المتنوعة في الوطن العربي على الأنشطة الاقتصادية .
- (ب) ١- تعد صحيفة المدينة أول وثيقة لحقوق الإنسان : فقد حدد فيها النبي محمد ﷺ حقوق وواجبات كل من يعيش في المدينة ، وقد تضمنت بنوداً تؤكد حرية العقيدة والعيش بأمن وسلام . ٢- بسبب إيذاء قريش للمسلمين . ٣- ليسهل عليه الانتقال بين أرجاء الدولة الإسلامية خاصة بعد اتساعها . ٤- بسبب الإفراط في استخدام الأسمدة الكيماوية والمبيدات الحشرية - استخدام طرق الري التقليدية - الرعي الجائر للحيوانات ، وإزالة الغابات - تناقص مخزون المياه الجوفية - زحف الكثبان الرملية - التوسع العمراني . ٥- لأن المسطحات المائية (تلتطف درجة الحرارة - تزيد من فرص سقوط الأمطار) . ٦- تستخدم كطرق للمواصلات أو للحصول على المياه الجوفية .
- (ج) ١- حيث عفا عن أهل مكة وأعطاهم الأمان رغم إيدانهم له ولأصحابه ، وقال لهم : « اذهبوا فأنتم الطلقاء » . ٢- بدأ الرسول ﷺ في الدعوة للدين الإسلامي وقيمه وتعاليمه السمحة وأدى ذلك إلى تغير حياة سكان شبه الجزيرة العربية للأفضل . ٣- قامت على أرضه أقدم الحضارات في العالم ، مثل : الحضارة المصرية القديمة - حضارة بلاد العراق القديم .

(د) ١- تؤثر مظاهر السطح في مناخ الوطن العربي حيث تؤثر المرتفعات كالتالي: كلما ارتفعنا ١٥٠ متراً فوق سطح البحر انخفضت الحرارة درجة واحدة ويؤثر اتجاه سلاسل المرتفعات على كمية المطر حيث: تسقط الأمطار بغزارة على منحدرات الجبال المواجهة للرياح المحملة ببخار الماء، بينما تقل أو تنعدم على الجهات الداخلية للمرتفعات.

٢- نشأت عن حركات باطنية تعرضت لها الأرض مثل: جبال أطلس وجبال كردستان و زاغروس و عُمان.

٤- يوجد في الوطن العربي نوعان من الجبال تكونا من الحركات الالتوائية والانكسارية؛ ولذلك عرفت بالجبال الالتوائية والجبال الانكسارية، مثل: جبال كردستان و زاغروس و عُمان - سلاسل جبال الحجاز وعسير ومرتفعات اليمن في شبه الجزيرة العربية - جبال أطلس - جبال البحر الأحمر في مصر والسودان، والهضاب مثل هضبة إفريقيا الشمالية - هضبة بادية الشام - هضبة نجد - هضبة حضر موت، والسهول الساحلية التي تطل على البحار والمحيطات والسهول الفيضية مثل سهول نهر النيل في مصر والسودان.

- كان الرسول ﷺ يحلو بنفسه في غار حراء ليفكر ويتأمل في الكون وقدره الله سبحانه وتعالى، واستمر على ذلك حتى نزل عليه الوحي، وكانت أول كلمة يتلقاها منه هي «اقرأ»، نزل جبريل عليه السلام برسالة الإسلام على سيدنا محمد ﷺ عندما كان يتعبد في غار حراء. ومرت الدعوة إلى الإسلام بأربع مراحل: المرحلتان الأولى والثانية الدعوة السرية والدعوة الجهرية والمرحلتان الثالثة والرابعة مرحلة بناء الدولة وصد أدى المشركين ومرحلة الفتح والدعوة العالمية للإسلام.

٥- يمكنك الإجابة بالاستعانة بدرس لمحات من حياة الخلفاء الراشدين.

المحور الثاني: الموارد والتنمية

الوحدة الثالثة: الموارد والأنشطة الاقتصادية في وطننا العربي

الدرس الأول: الزراعة في وطننا العربي

سؤال

(أ) ١- التربة الخصبة، تنوع المناخ ٢- الأول
(ب) يساعد على إقامة المشروعات الزراعية وشراء الآلات الزراعية والبذور والأسمدة.

إجابة تدرب (الدرس الأول: الزراعة في وطننا العربي)



السؤال الأول:

١- (صواب) ٢- (خطأ) ٣- (صواب) ٤- (صواب) ٥- (خطأ) ٦- (صواب)

السؤال الثاني:

١- الطبيعية ٢- النخيل ٣- اليمن ٤- الصناعة ٥- مصر والعراق وفلسطين ٦- وسائل النقل

السؤال الثالث:

١- الإمارات ٢- الجوفية العذبة ٣- البشرية ٤- مصر ٥- الزراعة

السؤال الرابع:

١- سيوة ٢- الآبار والعيون ٣- الأمطار ٤- مصر ٥- الزراعة

السؤال الخامس:

١- رأس المال ٢- التربة الخصبة ٣- وسائل النقل ٤- الإمارات ٥- فلسطين ٦- العراق ٧- موريتانيا

السؤال السادس:

١- بسبب سقوط الأمطار الشتوية. ٢- تعد من أحد المقومات الطبيعية لقيام الزراعة. ٣- توفر المنتجات الغذائية للسكان وكذلك للحيوانات - توفر فرص عمل لسكان وطننا العربي - توفر المواد الخام اللازمة للصناعة. ٤- لمواجهة مشكلة ندرة المياه العذبة وتوفير المياه واستخدامها في الزراعة وتحقيق التنمية الزراعية. ٥- لتحقيق الأمن الغذائي للمواطنين والحفاظ على الموارد الطبيعية.

السؤال السابع:

١- بسبب سقوط الأمطار الشتوية. ٢- تعد من أحد المقومات الطبيعية لقيام الزراعة. ٣- توفر المنتجات الغذائية للسكان وكذلك للحيوانات - توفر فرص عمل لسكان وطننا العربي - توفر المواد الخام اللازمة للصناعة. ٤- لمواجهة مشكلة ندرة المياه العذبة وتوفير المياه واستخدامها في الزراعة وتحقيق التنمية الزراعية. ٥- لتحقيق الأمن الغذائي للمواطنين والحفاظ على الموارد الطبيعية.

السؤال الثامن:

١- تنوع المحاصيل الزراعية. ٢- أدى إلى قيام الزراعة في الأجزاء الشمالية في وطننا العربي.

السؤال التاسع:

١- إنشاء السدود والخزانات - تحلية مياه البحر - معالجة مياه الصرف الصحي - استصلاح الأراضي الصحراوية.

٢- تطویر الأنشطة المتعلقة بالتنمية الزراعية على المستوى العربي - تحقيق التكامل الزراعي العربي - الوفاء باحتياجات الدول العربية من السلع الزراعية - العمل على رفع كفاءة المنتجات الزراعية العربية للمنافسة في الأسواق العالمية.

٣- تنوع المناخ: الذي يؤدي إلى تنوع المحاصيل الزراعية.

الأيدي العاملة: توافر الأيدي العاملة المدربة.

إجابة أسئلة امتحانات الإدارات



السؤال الأول:

١- المتوسط ٢- السودان ٣- مصر ٤- اليمن

السؤال الثاني:

١- الذرة ٢- الأيدي العاملة ٣- تنوع المناخ ٤- البن ٥- النخيل ٦- اليمن ٧- السودان

السؤال الثالث:

١- (خطأ) ٢- (صواب) ٣- (صواب) ٤- (خطأ)

السؤال الرابع:

١- النخيل ٢- الأمطار

السؤال الخامس:

١- يؤدي إلى تنوع المحاصيل الزراعية. ٢- بسبب ندرة المياه العذبة - تذبذب كمية الأمطار - التصحر - زحف الرمال - الجفاف. ٣- بسبب وفرة المياه الجوفية العذبة (الآبار والعيون).

إجابة اختر نفسك (الدرس الأول)



السؤال الأول:

(أ) ١- مصر ٢- العراق ٣- السودان ٤- اليمن (ب) حيث يوجد في الوطن العربي الأنهار والمياه الجوفية ومياه الأمطار.

السؤال الثاني:

(أ) ١- القمح ٢- رؤوس الأموال ٣- المناخ (ب)

مقومات بشرية	مقومات طبيعية
- الأسواق	- المناخ
- رؤوس الأموال	- موارد المياه
- وسائل النقل	- التربة

السؤال الثالث:

(أ) ١- (صواب) ٢- (خطأ) ٣- (صواب) (ب) توفر المنتجات الغذائية للسكان وكذلك للحيوانات - توفر المواد الخام الزراعية اللازمة للصناعة - توفر فرص عمل لسكان وطننا العربي - مصدر أساسي للدخل القومي لبعض الدول العربية.

الدرس الثاني: الثروة الحيوانية والسمكية في وطننا العربي

سؤال

(أ) ١- مصر ٢- ثلث (ب) توفير البروتين الحيواني - المواد الخام الحيوانية اللازمة للصناعة - تستخدم بعض الحيوانات في الريف في أعمال الحقل والنقل.

٢- يؤثر التغير المناخي على الثروة السمكية حيث إنه يتسبب في ارتفاع درجة حرارة المسطحات المائية ونقص الأكسجين فيها وبالتالي موت كثير من أنواع الكائنات البحرية.

إجابة أسئلة امتحانات الإدارات



السؤال الأول:	١- مصر	٢- الصومال	٣- السودان
السؤال الثاني:	١- مصر	٢- المغرب	٣- الإبل
٤- المحيط الأطلنطي			
السؤال الثالث:	١- (صواب)	٢- (خطأ)	٣- (خطأ)
	٤- (خطأ)	٥- (صواب)	٦- (صواب)
	٧- (خطأ)	٨- (خطأ)	
السؤال الرابع:	١- المصايد	٢- المغرب	٣- مصر
٤- الإبل			
السؤال الخامس:	١- الزراعة الفيضية	٢- المغرب	

١- التغيرات المناخية تتسبب في ارتفاع درجة حرارة المسطحات المائية ونقص الأكسجين فيها، وبالتالي موت كثير من الكائنات البحرية.
٢- لن يحدث اكتشاف لسكان الوطن العربي من البروتين الحيواني والأسماك.

إجابة اختبر نفسك (تراكم)



السؤال الأول:	١- (١) المغرب	٢- السودان	٣- العراق
	٤- الصومال		
(ب) لسد العجز من اللحوم الحمراء			
السؤال الثاني:	١- (١) المزارع السمكية	٢- الألياف	٣- الحيوانية
٤- المغرب			
(ب) قلة المراعى الطبيعية في الوطن العربي			
السؤال الثالث:	١- (خطأ)	٢- (صواب)	٣- (خطأ)
	٤- (صواب)	٥- (خطأ)	

الدرس الثالث: التعدين والصناعة في وطننا العربي



(١) موريتانيا ١- الغاز الطبيعي ٢-
(ب) يُستخدم في كثير من الصناعات الثقيلة والمنشآت والكبارى.

إجابة تدرب الدرس الثالث: التعدين والصناعة في وطننا العربي



السؤال الأول:	١- الصناعة	٢- الحديد	٣- التحويلية
٤- البحث العلمي والتعليم		٥- التنمية المستدامة	
السؤال الثاني:	١- (خطأ)	٢- (خطأ)	٣- (صواب)
٤- (خطأ)		٥- (صواب)	٦- (صواب)
السؤال الثالث:	١- الذهب	٢- السودان	٣- الفوسفات
٤- الغاز الطبيعي		٥- الصناعة	
السؤال الرابع:	١- موريتانيا	٢- الأسمدة والمبيدات	٣- الفوسفات
٤- البترول		٥- الاستخراجية	٦- مصر
٧- سلبيا			

(ج) التغيرات المناخية وما يصاحبها من قلة الأمطار وانتشار الجفاف والتصحر تؤثر تأثيراً سلبياً على أعداد الحيوانات.



(١) ١- (خطأ) ٢- (صواب) ٣- (صواب)
(ب) ١- لسد العجز من اللحوم الحمراء.

٢- نظراً لطول سواحلها على البحر المتوسط والمحيط الأطلنطي،
(ج) التوسع في مشروعات الاستزراع السمكي - تفعيل القوانين الخاصة بالصيد - توفير وسائل ومعدات الصيد الحديثة وتدريب الصيادين على استخدامها.

إجابة تدرب الدرس الثاني: الثروة الحيوانية والسمكية في وطننا العربي



السؤال الأول:	١- (صواب)	٢- (صواب)	٣- (خطأ)
٤- (صواب)	٥- (خطأ)	٦- (صواب)	
السؤال الثاني:	١- مصر	٢- الأبقار والأغنام / الماعز والخيول	
	٣- الجلود والألبان واللحوم	٤- الدجاج - البط - الإوز - الحمام	
	٥- البروتين الحيواني	٦- المتوسط - الأطلنطي	
السؤال الثالث:	١- ثلث	٢- أولى	٣- السودان
٤- المغرب		٥- المحيط الأطلنطي	٦- الإبل
السؤال الرابع:	١- الصومال	٢- مصر	٣- السودان
٤- المغرب		٥- الأطلنطي	

١- تطوير المراعى الطبيعية - الاعتماد على الأساليب الحديثة في تربية الحيوانات، وتوفير الرعاية البيطرية والأغلاف - وزيادة أعداد الحيوانات ذات الإنتاجية المرتفعة من اللحوم والألبان.

٢- توفير وسائل ومعدات الصيد الحديثة وتدريب الصيادين على استخدامها، وتفعيل القوانين الخاصة بالصيد، والتوسع في مشروعات الاستزراع السمكي.

السؤال السادس:

١- لوجود البيئة الزراعية الفيضية المناسبة لتربيته.
٢- توفر الثروة الحيوانية البروتين الحيواني لسكان الوطن العربي - توفر المواد الخام الحيوانية اللازمة للصناعة.
٣- لسد العجز من اللحوم الحمراء.
٤- نظراً لطول سواحلها على البحر المتوسط والمحيط الأطلنطي.
٥- تسهم في سد العجز من البروتين الحيواني.

السؤال السابع:

١- كان سبباً في موت أعداد كبيرة من الحيوانات، بالإضافة إلى فقر المراعى في وطننا، والرعى الجائر للحيوانات واتباع أساليب الرعى التقليدية، وقلة الأعلاف.
٢- موت كثير من أنواع الكائنات البحرية.
٣- نقص إنتاج اللحوم والألبان وارتفاع أسعارها.

السؤال الثامن:

١- توفر الثروة الحيوانية البروتين الحيواني لسكان الوطن العربي - توفر المواد الخام الحيوانية اللازمة للصناعة كجلود والألبان واللحوم - تستخدم بعض الحيوانات في الرعي بأعمال الحقل والنقل.

٢- الثروة الحيوانية: التغيرات المناخية وما يصاحبها من قلة الأمطار وانتشار الجفاف والتصحر تعد سبباً في موت أعداد كبيرة من الحيوانات - فقر المراعى - الرعى الجائر للحيوانات - اتباع أساليب الرعى التقليدية - قلة الأعلاف.

الثروة السمكية: التغيرات المناخية تتسبب في ارتفاع درجة حرارة المسطحات المائية ونقص الأكسجين فيها، وبالتالي موت كثير من الكائنات البحرية - تلوث المياه - استخدام وسائل صيد بدائية - الصيد الجائر للأسماك.

٣- تعد المغرب أولى الدول العربية في إنتاج الأسماك من المصايد المائية، نظراً لطول سواحلها على البحر المتوسط والمحيط الأطلنطي.

السؤال التاسع:

١- تعد التغيرات المناخية وما يصاحبها من قلة الأمطار وانتشار الجفاف والتصحر تأثيراً سلبياً على أعداد الحيوانات.

السؤال الخامس:

١- الفوسفات
٤- ريع

السؤال السادس:

١- السعودية
٤- المغرب

السؤال السابع:

- ١- يدخل الذهب في صناعة الخلى كما تستخدم ذرات الذهب في علاج بعض الأمراض.
٢- يستخدم في صناعة الأسمدة والمبيدات.
٣- لأنها تسهم بثالث الدخل القومي، كما أنها توفر فرص عمل حيث يعمل بها نحو ٢٢٪ من إجمالي القوة العاملة في الوطن العربي.
٤- لتقليل من التأثير السلبي للصناعة على الصحة والبيئة.

السؤال الثامن:

- ١- حيث تهتم بالتعليم والبحث العلمي في مجال التعدين والصناعة، وتحديث التجهيزات.
والبنية التحتية وزيادة الاعتماد على مصادر الطاقة النظيفة، وإنشاء مدن ومناطق صناعية ذكية.
٢- الاستثمار الأمثل للموارد المتجددة والحد من المخلفات، والحد من التأثير السلبي على البيئة والصحة.

إجابة أسئلة امتحانات الإدارات



السؤال الأول:

١- السعودية
٤- قطر

السؤال الثاني:

١- الفوسفات
٢- السودان

السؤال الثالث:

١- مصر
٢- السعودية

السؤال الرابع:

١- الحديد
٢- الصناعة الخضراء

السؤال الخامس:

١- الغاز الطبيعي
٢- الذهب

السؤال السادس:

وجه المقارنة	الذهب	الفوسفات
الأهمية الاقتصادية	- يستخدم في صناعة الخلى. - تُستخدم ذرات الذهب في علاج بعض الأمراض.	يُستخدم في صناعة الأسمدة والمبيدات.
أهم الدول المنتجة	السودان مصر	المغرب

السؤال السابع:

- ١- الاهتمام بالتعليم والبحث العلمي في مجال التعدين والصناعة - تحديث البنية التحتية وزيادة الاعتماد على مصادر الطاقة النظيفة - إنشاء مدن ومناطق صناعية ذكية - استخدام التكنولوجيا الحديثة.
٢- صناعة يتم من خلالها تحويل المواد الخام لتصبح منتجات صالحة للاستخدام.

إجابة اختبر نفسك (تراكمي)



السؤال الأول:

١ (أ) - مصر
٤- قطر

السؤال الثاني:

١ (أ) - (صواب)
٤- (خطأ)

السؤال الثالث:

١ (أ) - (صواب)
٢- (خطأ)

السؤال الرابع:

١ (أ) - (صواب)
٢- (خطأ)

(ب)

وجه المقارنة	الحديد	الفوسفات
الأهمية الاقتصادية	يُستخدم في كثير من الصناعات الثقيلة والمنشآت والكاربوري.	يُستخدم في صناعة الأسمدة والمبيدات
أهم الدول المنتجة	موريتانيا	المغرب

الدرس الرابع: السياحة في وطننا العربي

سؤال

(أ) الإمارات والكويت والبحرين

(ب) يساعد على التبادل الثقافي - يوفر العملات الأجنبية.



إجابة تدرب الدرس الرابع: السياحة في وطننا العربي

السؤال الأول:

١- (صواب) ٢- (خطأ) ٣- (خطأ) ٤- (صواب) ٥- (خطأ) ٦- (صواب)

السؤال الثاني:

- ١- الموقع الجغرافي الفريد - تنوع المناطق السياحية والتراثية - مناخه المعتدل شتاءً - توافر شبكة مواصلات متميزة.
٢- القديم ٣- الشتاء
٤- الثقافية - الترفيهية - العلاجية - البيئية - التسوق - المؤتمرات والمهرجانات.
٥- تدمر ٦- دير سانت كاترين - مسار العائلة المقدسة.
٧- شركات الطيران - الفنادق - المطاعم - المتاجر.

السؤال الثالث:

- ١- هي سياحة وتتضمن سياحة السفاري وزيارة المحميات الطبيعية والمناطق الصحراوية.
٢- هي سياحة الهدف منها حضور المسابقات الرياضية المختلفة.

السؤال الرابع:

١- تونس ٢- عين ماعين ٣- الإمارات ٤- الصحراوية ٥- الدوحة

السؤال الخامس:

١- سياحة ترفيهية ٢- سياحة علاجية

السؤال السادس:

١- فلسطين ٢- السعودية ٣- مصر ٤- الأردن

السؤال السابع:

- ١- لوجود الموقع الجغرافي الفريد وتنوع المناطق السياحية والتراثية ومناخه المعتدل شتاءً وتوافر شبكة مواصلات جوية وبرية وبحرية متميزة وتطور الفنادق والقرى السياحية.
٢- حيث تقوم الدول العربية بتطوير البنية التحتية لقطاع السياحة، ورفع جودة الخدمات السياحية للمستوى العالمي، وتأهيل العاملين في السياحة وتكثيف الحملات الإعلامية للترويج للسياحة العربية.

السؤال الثامن:

- ١- يساعد على التبادل الثقافي، ويوفر العملات الأجنبية وفرص عمل في السياحة والقطاعات ذات الصلة.
٢- بسبب قيام السياح بزيارة الشواطئ.
٣- لوجود عيون المياه الكبريتية في سيوة وعيون موسى.
٤- لتقليل التأثير السلبي للنشاط السياحي على البيئة.

السؤال التاسع:

- ١- قيام السياحة العلاجية في مصر.
٢- قيام السياحة البيئية في الوطن العربي.

إجابة أسئلة امتحانات الإدارات



السؤال الأول:

١- كنيسة القيامة ٢- البيئية ٣- ترفيهية ٤- ثقافية ٥- رياضية ٦- دينية ٧- الإسكندرية ٨- الدينية

السؤال الثاني:

١- علاجية ٢- ترفيهية ٣- العلاجية ٤- ثقافية

السؤال الثالث:

١- السياحة الثقافية ٢- السياحة الدينية

السؤال الرابع:

١- (صواب) ٢- (صواب)

السؤال الخامس:

١- حيث يتمتع ب: الموقع الجغرافي الفريد وسط قارات العالم القديم - تنوع المناطق السياحية والتراثية - تطور الفنادق والقرى السياحية - توافر شبكة مواصلات جوية وبرية وبحرية متميزة - مناخ معتدل شتاء
٢- حيث قامت ب: تطوير البنية التحتية لقطاع السياحة - تأهيل العاملين في السياحة - رفع جودة الخدمات السياحية للمستوى العالمي - تكثيف الحملات الإعلامية للترويج للسياحة العربية .

إجابة اختبر نفسك (تراكمي)



السؤال الأول:

١ (١) - دينية

٢- بايل

٣- عيون موسى وعين ماعين

(ب) ١- هي سياحة تقوم على زيارة المواقع الأثرية والتراثية

٢- يتم من خلالها تحويل المواد الخام لتصبح منتجات صالحة للاستخدام .

السؤال الثاني:

١- (خطأ)

٢- (خطأ)

٣- (صواب)

٤- (صواب)

٥- (صواب)

السؤال الثالث:

١ (١) - ترفيهيه

٢- ثلث

٣- السياحة العربية

(ب) ١- حيث يتميز الوطن العربي بالموقع الجغرافي الفريد وتنوع المناطق السياحية والتراثية ومناخه المعتدل شتاء وتوافر شبكة مواصلات جوية وبرية وبحرية متميزة و تطور الفنادق والقرى السياحية .

٢- حيث تقوم بتطوير البنية التحتية لقطاع السياحة ، ورفع جودة الخدمات السياحية للمستوى العالمي ، وتأهيل العاملين في السياحة وتكثيف الحملات الإعلامية للترويج للسياحة العربية .

الدرس الخامس: التجارة فى وطننا العربى

سؤال

١ (١) - (صواب)

٢- (خطأ)

(ب) ١- بسبب التشابه الكبير بين السلع والخدمات التي تنتجها الدول العربية وعدم تنوع الصادرات العربية وضعف التكنولوجيا وجود حواجز جمركية بين الدول العربية .

٢- لتحقيق التعاون بين دول الجامعة العربية في الشؤون الاقتصادية والمالية

(ج) ١- الصادرات والواردات من السلع والخدمات بين الدول العربية .

٢- الصادرات والواردات بين دول الوطن العربي وبإقى دول العالم .

سؤال

١ (١) - للتطور التكنولوجى

٢- الازدحام المرورى .

(ب) • إنشاء الاتحاد العربى للتجارة الإلكترونية والاتحاد العربى للاقتصاد الرقمى .

• زيادة منصات التجارة الإلكترونية .

إجابة تدرب الدرس الخامس: التجارة فى وطننا العربى



السؤال الأول:

١- (خطأ)

٢- (خطأ)

٣- (صواب)

٤- (خطأ)

٥- (صواب)

٦- (خطأ)

٧- (خطأ)

٨- (صواب)

السؤال الثاني:

١- النقد الأجنبى

٢- البصرة - جدة - صنعاء - الإسكندرية

٣- السلع - الخدمات - البحريين

٤- البحريين

٥- الإلكترونية

٦- العديد من التجمعات العربية - المعارض الدائمة أو السنوية

السؤال الثالث:

١- تجارة بينية عربية

٢- تجارة دولية أو خارجية

السؤال الرابع:

١- الأجنبية

٢- التجارة

٣- السودان

السؤال الخامس:

١- اتحاد دول المغرب العربى (موريتانيا - الجزائر) .

٢- مجلس التعاون لدول الخليج العربية (عُمان - البحرين) .

٣- دول اتفاقية أغادير (مصر- الأردن) .

السؤال السادس:

١- السعودية

٢- المغرب

٣- الصومال

السؤال السابع:

١- أسهمت التجارة فى بناء الدولة الإسلامية ونشر الإسلام فى أرجاء العالم .

٢- تعزيز العلاقات بين الدول - تلبية احتياجات السكان من السلع والخدمات - توافر النقد الأجنبى - توافر فرص عمل .

٣- التشابه الكبير بين السلع والخدمات التى تنتجها الدول العربية - عدم تنوع الصادرات العربية - ضعف التكنولوجيا - وجود حواجز جمركية بين الدول العربية - تركيز التبادل العربى مع دول الجوار .

٤- للنهوض بالتجارة البينية العربية .

٥- بسبب التطور التكنولوجى .

٦- تساعد التجارة الإلكترونية فى خفض أسعار السلع والخدمات - تتيح إمكانية الشراء على نطاق أوسع للشركات والأفراد .

السؤال الثامن:

١- حيث تقوم ب: تنوع الصادرات وتنميتها وخاصة غير النفطية - تقليص الجمارك بين الدول العربية - إقامة المعارض الدائمة أو السنوية - الدعاية للمنتجات العربية - إنشاء العديد من التجمعات العربية .

٢- عمليات النصب والاحتيال التى قد يتعرض لها الأفراد والشركات - اختراق خصوصية العميل وسرقة بياناته .

٣- إنشاء الاتحاد العربى للتجارة الإلكترونية والاتحاد العربى للاقتصاد الرقمى - زيادة منصات التجارة الإلكترونية - تشجيع الشركات العربية التى تستخدم التجارة الإلكترونية .

السؤال التاسع:

١- تنسجم التجارة البينية بالضعف بسبب وجود الحواجز الجمركية بين الدول العربية .

٢- العمل على تنوع الصادرات العربية - زيادة الاهتمام بالتكنولوجيا - عدم وجود حواجز جمركية بين الدول العربية - زيادة التبادل العربى مع كل الدول .

إجابة أسئلة امتحانات الإدارات



السؤال الأول:

١- الإسكندرية

٢- تجارة إلكترونية

٣- البينية العربية

السؤال الثاني:

١- جدة / صنعاء / البصرة / الإسكندرية

٢- التجارة البينية العربية

السؤال الثالث:

١- (خطأ)

٢- (صواب)

٣- (صواب)

٤- (صواب)

٥- (صواب)

٦- (صواب)

٧- (صواب)

٨- (خطأ)

السؤال الرابع:

١- التجارة الدولية (خارجية) ٢- التجارة الإلكترونية

السؤال الخامس:

- ضعف التجارة البينية العربية

السؤال السادس:

- تبادل السلع والخدمات باستخدام شبكة المعلومات الدولية (الإنترنت) .

إجابة اختبار نفسك (تراكمي)



السؤال الأول:

- (١) -١ الصومال .
٢- الجمارك بين الدول العربية .
٣- منطقة التجارة الحرة - اتحاد دول المغرب العربي - مجلس التعاون لدول الخليج العربية .
(ب) -١ وجود السياحة العلاجية في بعض الأماكن مثل العيون الكبرى في سيوة وعيون موسى في مصر وعين ماعين في الأردن .
٢- ضعف التجارة البينية بين الدول العربية .

السؤال الثاني:

- (١) -١ الغاز الطبيعي
٢- الأجنبي
٣- الإلكترونية
٤- اليمن
(ب) تعزيز العلاقات بين الدول - تلبية احتياجات السكان من السلع والخدمات - توافر النقد الأجنبي - توافر فرص عمل .

السؤال الثالث:

- ١- تشابه الإنتاج
٢- تقليل الازدحام
٣- الكبارى والمنشآت
٤- الإسكندرية
٥- منطقة التجارة الحرة

إجابة اختبار الأضواء (١) على الوحدة الثالثة



السؤال الأول:

- (١) -١ الأردن
٣- السودان
(ب) هي السياحة القائمة على زيارة أضخم المراكز التجارية .

السؤال الثاني:

- ١- التغير المناخي
٣- الثانية
٥- منطقة التجارة الحرة

السؤال الثالث:

- (١) -١ البحار المتوسط
٢- اليمن
٣- الوقود
٤- الآبار والعيون (الجوفية)
(ب) لسد العجز من اللحوم الحمراء .

إجابة اختبار الأضواء (٢) على الوحدة الثالثة



السؤال الأول:

- ١- المغرب
٤- السعودية
٢- الإمارات
٥- الصومال
٣- السودان

السؤال الثاني:

- (١) -١ (صواب)
٤- (خطأ)
(ب) ضعف التجارة البينية بين الدول العربية .

السؤال الثالث:

- (١) -١ الزراعة
(ب)
٢- التجارة الخارجية
٣- التجارة الإلكترونية

وجه المقارنة	الذهب	الفوسفات
الأهمية الاقتصادية	يستخدم في صناعة الحلى وبعض ذراته تستخدم في علاج بعض الأمراض.	يستخدم في صناعة الأسمدة والمبيدات.
أهم الدول المنتجة	السودان - مصر	المغرب كأول الدول العربية إنتاجاً له.

إجابة بنك الأسئلة على المحور الثاني



إجابة تدريبات الأضواء

السؤال الأول:

- ١- الصومال
٤- مصر
٢- موريتانيا
٥- السودان
٣- اليمن
٦- المغرب

السؤال الثاني:

- ١- الطبيعية
٢- مصر
٣- الموقع الجغرافي وتنوع المناطق السياحية والتراثية
٤- ديرسانت كاترين .
٥- جدة وصنعاء / البصرة / الإسكندرية
٦- مصادر الطاقة النظيفة
٧- شركات الطيران والفنادق والمطاعم والمتاجر
٨- بنية عربية - خارجية (دولية) - الإلكترونية

السؤال الثالث:

- ١- هي الصناعة التي تعتمد على الاستثمار الأمثل للموارد المتجددة والحد من المخلفات، وإعادة التدوير لتقليل من التأثير السلبي للصناعة على الصحة والبيئة .
٢- هي تبادل السلع والخدمات باستخدام شبكة المعلومات الدولية (الإنترنت) .
٣- هي السياحة القائمة على زيارة أضخم المراكز التجارية وأحدثها .

السؤال الرابع:

- ١- الأمطار
٢- ثلث
٣- الفوسفات
٤- رياضية
٥- مصر
٦- الإمارات
٧- الأجنبية
٨- ضعف

السؤال الخامس:

- ١- (خطأ)
٢- (خطأ)
٣- (صواب)
٤- (صواب)
٥- (خطأ)
٦- (صواب)

السؤال السادس:

- ١- الحديد
٢- سياحة المؤتمرات
٣- المغرب

السؤال السابع:

- ١- لوجود البيئة الزراعية الفيزية المناسبة لتربيته .
٢- بسبب سقوط الأمطار الشتوية .
٣- أسهمت التجارة في بناء الدولة الإسلامية ونشر الإسلام في أرجاء العالم .
٤- يساعد على التبادل الثقافي، ويوفر العملات الأجنبية وفرص عمل في السياحة .
٥- تسهم بثلاث دخله القومي، وتوفر فرص عمل حيث يعمل فيها نحو ٢٢٪ من حجم القوة العاملة في الوطن العربي .
٦- توفر المنتجات الغذائية للسكان وكذلك للحيوانات - توفر فرص عمل لسكان وطننا العربي .
٧- تسهم في سد العجز من البروتين الحيواني .
٨- التشابه الكبير بين السلع والخدمات التي تنتجها الدول العربية - عدم تنوع الصادرات العربية - ضعف التكنولوجيا - وجود حواجز جمركية بين الدول العربية - تركيز التبادل العربي مع دول الجوار .
٩- لوجود عيون المياه الكبريتية .

السؤال الثامن:

- ١- تنوع المحاصيل الزراعية .
٢- موت أعداد كبيرة من الحيوانات .
٣- لاستثمار الموارد المتجددة والحد من المخلفات، وإعادة التدوير لتقليل من التأثير السلبي للصناعة على الصحة والبيئة .
٤- قيام السياحة البيئية .
٥- قيام السياحة العلاجية .

السؤال التاسع:

- ١- لوجود السياحة الثقافية والسياحة الترفيهية والسياحة العلاجية والسياحة البيئية وسياحة المؤتمرات وسياحة التسوق .
٢- حيث يتم الحصول على الأسماك من المزارع السمكية ومصائد الأنهار والبحيرات والبحار .

إجابة أسئلة امتحانات الإدارات



السؤال الأول:

- ١- الأمطار
٢- المغرب
٣- التجارة البينية العربية

السؤال الثاني:

- ١- الأيدي العاملة
٢- اليمن
٣- مصر
٤- المغرب
٥- الإسكندرية

السؤال الثالث:

- ١- (صواب)
٢- (صواب)
٣- (صواب)
٤- (خطأ)

السؤال الرابع:

- ١- تجارة دولية (خارجية)
٢- السياحة الدينية
٣- الحديد

السؤال الخامس:

- ١- بسبب: ندرة المياه العذبة - تذبذب كمية الأمطار - التصحر - زحف الرمال - الجفاف.
- ٢- بسبب وجود المياه الجوفية.
- ٣- ضعف التجارة البنينة العربية.

إجابة مراجعة الكتاب المدرسي (على المحور الثاني)

- (١) المقومات الطبيعية تتمثل في (تنوع المناخ - التربة الخصبة - موارد المياه).
- المقومات البشرية تتمثل في (الأيدى العاملة - السوق - رأس المال - وسائل النقل).
- ٢- الصناعة الاستخراجية تتمثل في استخراج المعادن ومصادر الطاقة.
- الصناعة التحويلية يتم من خلالها تحويل المواد الخام لتصبح منتجات صالحة للاستخدام، مثل: صناعة الحديد والصلب.
- ٣- السياحة البنينة تتمثل في (سياحة السفاري - زيارة المحميات الطبيعية والمناطق الصحراوية).
- السياحة العلاجية: تتمثل في (زيارة بعض الأماكن بهدف الاستشفاء والعلاج).
- ٤- التجارة البنينة: يقصد بها الصادرات والواردات من السلع والخدمات بين الدول العربية.
- التجارة الدولية: يقصد بها الصادرات والواردات بين دول الوطن العربي وباقي دول العالم.

(ب) ١- ٢ ٢- ٣ ٣- ٤

(ج) ١- ٢ ٢- ٣ ٣- ٤

- ١- ساعدت على قيام الزراعة.
- ٢- قامت بتطوير البنية التحتية لقطاع السياحة - أهلت العاملين في السياحة - رفعت جودة الخدمات السياحية للمستوى العالمي - تكتيف الحملات الإعلامية للترويج للسياحة العربية.
- ٣- (١) لوجود البيئة الزراعية الفيضية المناسبة لتربيته.
- (ب) بسبب وجود مقومات عديدة لإقامة صناعة عربية مثل (المواد الخام، المعادن، مصادر الطاقة، الأيدى العاملة، شبكات المواصلات، رأس المال، الأسواق).
- (ج) بسبب وجود (العيون الكبريتية في سيوة، عيون موسى) في مصر (عين ماعين) في الأردن.
- (د) ١- يساعد على التبادل الثقافي.
- ٢- يوفر فرص عمل في السياحة والقطاعات ذات الصلة، مثل: شركات الطيران والفنادق والمطاعم والمتاجر.
- (هـ) بسبب: ١- التشابه الكبير بين السلع والخدمات - ٢- عدم تنوع الصادرات.
- ٣- ضعف التكنولوجيا - ٤- وجود حواجز جمركية.
- ٥- تركيز التبادل العربي مع دول الجوار.
- ٤- (١) توفير البروتين الحيواني - المواد الخام اللازمة للصناعة - تستخدم بعض الحيوانات في أعمال الحقل).
- (ب) تنوع الصادرات وتنميتها وخاصة غير النفطية.
- تقليص الجمارك بين الدول العربية.
- إقامة المعارض الدائمة أو السنوية، والدعاية للمنتجات العربية.
- إنشاء العديد من التجمعات العربية.
- ٥- تحلية مياه البحر تعد من جهود الدول العربية لتحقيق التنمية الزراعية.
- ٦- أجب بالاستعانة بالملخصات.
- (د) أجب بالاستعانة بالملخصات.
- (هـ) أجب بالاستعانة بشبكة المعلومات الدولية.

إجابة مراجعة الكتاب المدرسي على الفصل الدراسي الأول

السؤال الأول:

- ١- بناء المسجد - المؤاخاة بين المهاجرين والأنصار.
- ٢- سلمان الفارسي
- ٣- المواقف
- ٤- المتوسط - طوروس
- ٥- التعرية الهوائية
- ٦- إنشاء المدن الذكية - استخدام مصادر طاقة نظيفة
- ٧- حراء
- ٨- إرسال جيش أسامة بن زيد - محاربة المرتدين
- ٩- الجند
- ١٠- الحبيشة
- ١١- مدار السرطان
- ١٢- الصحراوي الحار
- ١٣- الاستخراجية
- ١٤- علاجية

السؤال الثاني:

- ١- (خطأ)
- ٢- (خطأ)
- ٣- (صواب)
- ٤- (صواب)
- ٥- (خطأ)
- ٦- (صواب)
- ٧- (صواب)
- ٨- (صواب)
- ٩- (صواب)
- ١٠- (صواب)
- ١١- (صواب)
- ١٢- (صواب)
- ١٣- (صواب)
- ١٤- (صواب)

السؤال الثالث:

- ١- الجزائر
- ٢- أطلس
- ٣- التعرية الهوائية
- ٤- فتح مكة
- ٥- التصحر
- ٦- البحرين
- ٧- التغير المناخي
- ٨- المزارع السمكية
- ٩- السرية
- ١٠- اليمن
- ١١- محاربة المرتدين
- ١٢- الروم
- ١٣- مدار الجدي
- ١٤- البترول
- ١٥- التشابه الكبير بين المنتجات العربية

السؤال الرابع:

- ١- فهو موطن الديانات السماوية (اليهودية، المسيحية، الإسلامية)، كما قامت على أرضه أقدم الحضارات في العالم مثل الحضارة المصرية القديمة، وحضارة بلاد العراق القديم، ويضم أماكن مقدسة مثل: الكعبة المشرفة في السعودية، وكنيسة القيامة في فلسطين، والأزهر الشريف في مصر.
- ٢- تكونت نتيجة حدوث انكسارات في القشرة الأرضية.
- ٣- لإقامة مجتمع متماسك تسوده المحبة والتعاون والإيثار.
- ٤- ليكون مقراً للحكم وإدارة شئون الدولة الداخلية والخارجية ومركزاً للعبادة وتعليم أصول الدين.
- ٥- بسبب نقص كمية الأمطار في بعض السنوات بما لا يسمح بالزراعة أو نمو حشائش الرعي.
- ٦- توفر الثروة الحيوانية البروتين الحيواني لسكان الوطن العربي، كما توفر المواد الخام الحيوانية اللازمة للصناعة كالجلود والألبان واللحوم، وتستخدم بعض الحيوانات في الريف بأعمال الحقل والنقل.
- ٧- خوفاً على مكانتهم بين القبائل.
- ٨- ليسهل عليه الانتقال بين أرجاء الدولة الإسلامية خاصة بعد اتساعها.
- ٩- لتجنب أذى قريش.
- ١٠- بسبب أن ارتدت بعض القبائل عن الإسلام، كما رفضت دفع الزكاة، وادعى البعض النبوة مثل مسيلمة الكذاب.
- ١١- بسبب استشهاد عدد كبير من حفظة القرآن في حرب المرتدين.
- ١٢- لضيق مساحتها وعدم توغل تأثيرها إلى الداخل ووجود صحارى ومرتفعات قريبة من السواحل كجبال البحر الأحمر.
- ١٣- بسبب تعامد الشمس على مدار السرطان صيفاً.
- ١٤- تساعد في الحفاظ على الحياة البرية بما تتضمنه من نباتات طبيعية وحيوانات برية، كما تعد مناطق جذب سياحي، وتساعد في تحقيق التوازن البيئي والحد من التلوث تحقيقاً للتنمية المستدامة.
- ١٥- لأنها تساعد على التبادل الثقافي - توفير العملات الأجنبية - توفير فرص عمل في السياحة والقطاعات ذات الصلة.

السؤال الخامس:

- ١- أدى إلى تحكمه في أهم الطرق التجارية العالمية.
- ٢- أدى إلى قيام الزراعة بها وتركز السكان في الواحات.
- ٣- أدى ذلك إلى أمر الرسول ﷺ لبعض أصحابه بالهجرة إلى الحبيشة.
- ٤- بدأت مرحلة نشر الدعوة الإسلامية عالمياً.
- ٥- تهدد هذه المشكلات صحة المواطن العربي وحياته، كما تعوق تنفيذ الخطط التنموية في الدول العربية، وكذلك تؤدي إلى تدمير الحياة النباتية والحيوانية وفقدان التنوع البيولوجي في المناطق الجافة وشبه الجافة في الوطن العربي.
- ٦- أدى ذلك إلى قيام أبي بكر ﷺ بمحاربتهم فقام بإرسال عدة جيوش لمحاربة المرتدين وعادوا إلى الإسلام.
- ٧- أدى ذلك إلى انتهاء العادات السيئة والدعوة لعبادة الله الواحد الأحد وأداء الأمانة وصلة الرحم والنهي عن الفواحش وقول الزور وأكل مال اليتيم.
- ٨- أدى ذلك إلى تجنب أذى قريش للمسلمين.
- ٩- تأمين حدود مصر والشام من هجمات الروم.
- ١٠- حفظ الأمن وسلامة المواطنين.
- ١١- يؤدي إلى ارتفاع درجات الحرارة بشكل عام في أرجاء الوطن العربي.
- ١٢- أدى ذلك إلى قيام الصناعة.
- ١٣- أدى ذلك إلى زيارة الكثير من السياح إلى تلك المناطق بغرض الاستشفاء من الأمراض.
- ١٤- أدى ذلك إلى ضعف التجارة البنينة.

السؤال السادس:

- 1- حيث عفا عن أهلها وفتحها دون قتال وحطم الأصنام التي كانت حولها وطاف بالكعبة.
- 2- حيث يوجد مصائد مائية متنوعة متمثلة في البحار والمحيطات والأنهار والبحيرات مثل: سواحل البحر المتوسط والمحيط الأطلنطي التي تطل عليها المغرب.
- 3- قاموا بإيذاء المسلمين وفرضوا عليهم الحصار.
- 4- اتجهت بعض الدول لاستخدام نظام الري بالرش لتوفير المياه العذبة كما في مصر والسعودية.
- 5- قام بتنظيم الشرطة للحفاظ على أمن وسلامة المواطنين.

السؤال السابع:

- 1- بدأ الرسول ﷺ بالدعوة السرية لنشر الإسلام خوفاً على المسلمين من إيذاء قريش لهم.
- 2- الثروة الحيوانية وجودها يوفر الأمن الغذائي.
- 3- تؤثر التغيرات المناخية على الثروة الحيوانية سلبياً؛ حيث تتسبب قلة الأمطار وانتشار الجفاف والتصحر في موت الكثير من الحيوانات.
- 4- حيث يؤثر القرب أو البعد عن المسطحات المائية على المناخ، فالمناطق الساحلية القريبة من المسطحات المائية يكون مناخها أكثر اعتدالاً من المناطق الداخلية.
- 5- توافر المواد الخام يساعد على قيام الصناعة.

السؤال الثامن:

- | | | |
|--------------|-------------|------------|
| 1- الصومال | 2- مصر | 3- السودان |
| 4- المغرب | 5- جبل طارق | 6- الجزائر |
| 7- موريتانيا | 8- قطر | 9- الأردن |
| 10- كردستان | | |

إجابة بنك أسئلة الأضواء على الفصل الدراسي الأول



السؤال الأول:

- | | | |
|--------------|------------|-----------|
| 1- مصر | 2- السودان | 3- اليمن |
| 4- المدارى | 5- أطلس | 6- الكبرى |
| 7- المتوسط | 8- الهندى | 9- هرمز |
| 10- السعودية | | |

السؤال الثاني:

- | | | |
|------------------------|---------------------|-----------------|
| 1- الجزائر | 2- إفريقيا | 3- عمان - العري |
| 4- سلمان الفارسي | | 5- الزراعة |
| 6- معتدل جاف - حار مطر | 7- الفاو | 8- مصر والسودان |
| 9- القطن / الكتان | 10- الوقود والمعادن | 11- رياضة |
| 12- الغاز الطبيعي | | |

السؤال الثالث:

- | | | |
|------------|-----------|-----------|
| 1- (خطأ) | 2- (خطأ) | 3- (صواب) |
| 4- (صواب) | 5- (صواب) | 6- (خطأ) |
| 7- (صواب) | 8- (خطأ) | 9- (صواب) |
| 10- (صواب) | 11- (خطأ) | 12- (خطأ) |
| 13- (خطأ) | | |

السؤال الرابع:

- | | | |
|--------------------|-------------------|-------------------|
| 1- الأطلنطي | 2- أربعة | 3- يثرب |
| 4- على بن أبي طالب | 5- الشام | 6- الخندق |
| 7- ثلثى | 8- المدارى | 9- دائرة الاستواء |
| 10- ربع | 11- تشابه الإنتاج | 12- المغرب |
| 13- الأمطار | | |

السؤال الخامس:

- | | | |
|-----------|------------|------------|
| 1- القبلى | 2- حراء | 3- السرية |
| 4- مكة | 5- تختلف | 6- ثقل |
| 7- ثلاث | 8- البيئية | 9- الجاموس |

السؤال السادس:

- | | | |
|------------------------------------|------------|---------------------------|
| 1- السيدة خديجة | 2- الديوان | 3- نظام الشرطة |
| 4- صحيفة المدينة | 5- بدر | 6- الإقليم الصحراوي الحار |
| 7- المياه الجوفية (الآبار والعيون) | | |

السؤال السابع:

- 1- يشرف على مسطحات مائية مهمة مثل: البحر الأحمر والبحر المتوسط والخليج العري ويتحكم في ممرات مائية مهمة وهي (مضيق هرمز، ومضيق باب المندب، ومضيق جبل طارق، بالإضافة لقناة السويس).

2- خوفاً على مكانتها بين القبائل.

3- بسبب تنوع الأقاليم المناخية في الوطن العري.

4- تستخدم كطرق للمواصلات أو للحصول على المياه الجوفية.

5- الحفاظ على الحياة البرية - تنشيط السياحة - تساعد في تحقيق التوازن البيئي والحد من التلوث تحقيقاً للتنمية المستدامة.

6- ترى عليها المعازر والأغنام.

7- للحفاظ على البيئة.

8- تساعد على التبادل الثقافي - توفر العملات الأجنبية - يوفر فرص عمل في السياحة والقطاعات ذات الصلة، مثل: شركات الطيران والفنادق والمطاعم والمتاجر.

9- بسبب وفرة مياه الأمطار.

10- بسبب التشابه الكبير بين السلع والخدمات التي تنتجها الدول العربية - عدم تنوع الصادرات العربية - ضعف التكنولوجيا - وجود حواجز جمركية بين الدول العربية.

السؤال الثامن:

- 1- هبوب رياح شديدة البرودة من أوروبا وآسيا شتاءً - رياح حارة من جنوب آسيا صيفاً.
- 2- ممكن هذا الاتفاق الرسول ﷺ من نشر دعوته خارج الجزيرة العربية، فبدأ في إرسال الرسائل إلى الملوك والحكام يدعوهم إلى الإسلام وبدأت مرحلة نشر الدعوة الإسلامية عالمياً.
- 3- أمر الخليفة أبو بكر الصديق رضي بن ثابت بجمع القرآن.
- 4- تنوع المحاصيل الزراعية.

السؤال التاسع:

- 1- يؤدي سوء الأحوال الجوية أحياناً إلى تأجيل أو إلغاء الرحلات الجوية.
- 2- كانت شبه الجزيرة العربية قبل الإسلام عبارة عن قبائل متفرقة وكان لكل قبيلة شيخ يحكمها.
- 3- إنشاء الاتحاد العري للتجارة الإلكترونية والاتحاد العري للاقتصاد الرقمي - زيادة منصات التجارة الإلكترونية - تشجيع الشركات العربية التي تستخدم التجارة الإلكترونية - اتخاذ التدابير اللازمة لمنع اختراق الحسابات المالية للشركات.
- 4- حيث تتوفر السياحة الثقافية والسياحة الترفيهية والسياحة الدينية وسياحة المؤتمرات والمعارض والسياحة العلاجية والسياحة الرياضية وسياحة التسوق.

إجابة امتحانات المحافظات والإدارات للعام الدراسي 2023-2024

محافظه القاهرة (إدارة حلوان التعليمية)



السؤال الأول:

- | | | |
|--------------------|---------------|------------------------|
| 1- (أ) - الجزائر | 2- باب المندب | 3- إقليم البحر المتوسط |
| 4- نجد | 5- قطر | |
- (ب) بسبب: تحطيط الرسول ﷺ للهجرة بشكل جيد - السرية التامة حيث هاجر ليلاً مع صديقه أبي بكر الصديق

السؤال الثاني:

- | | | |
|------------------|-----------|----------|
| 1- (أ) - (خطأ) | 2- (صواب) | 3- (خطأ) |
| 4- (خطأ) | 5- (صواب) | |
- (ب)

وجه المقارنة	الذهب	الفضوفات
أولى الدول المنتجة	يحتل السودان المرتبة الأولى في الإنتاج عربياً تليه مصر	يعد المغرب أول الدول العربية إنتاجاً له
صناعات يدخل فيها	يستخدم في صناعة الحلى، كما يستخدم في علاج بعض الأمراض	يستخدم في صناعة الأسمدة والمبيدات

السؤال الثالث:

- | | | |
|--------------------------|--------------------|-----------|
| 1- (أ) - الأزهر الشريف | 2- الحديبية | 3- المغرب |
| 4- المدارى | 5- الوقود والمعادن | |

(ب) الاعتماد على الأساليب الحديثة في تربية الحيوانات - تطوير المراعى الطبيعية.

السؤال الرابع:

- | | | |
|--------------------|--------------|-------------------|
| 1- (أ) - إفريقيا | 2- عمان | 3- الاستواء |
| 4- المناخ | 5- عين ماعين | 6- تقليل الازدحام |
- (ب) التغيرات المناخية تتسبب في ارتفاع درجة حرارة المسطحات المائية ونقص الأكسجين فيها وبالتالي موت كثير من الكائنات البحرية.

محافظة الجيزة (إدارة الوراق التعليمية)



السؤال الأول:

- (١) -١ المتوسط
٤- الأطلنطي
(ب) -١ التصحر

السؤال الثاني:

- (١) -١ (خطأ)
٤- (خطأ)
(ب) إقامة مجتمع متماسك تسوده المحبة والتعاون والإيثار.

السؤال الثالث:

- (١) -١ البحرين
٤- نيوم
(ب) -١ أمر الرسول ﷺ أصحابه بالهجرة إلى يثرب.
٢- الحفاظ على أمن وسلامة المواطنين.

السؤال الرابع:

- (١) -١ الانكسارية
٤- استخراجية
(ب) -١ الهوائية
٤- السمكية
٢- مصر
٣- البشرية
٢- الموقع الفلكي
٣- عثمان بن عفان

محافظة الإسكندرية (إدارة غرب التعليمية)



السؤال الأول:

- (١) -١ (٣)
٤- الهندي
٢- جبل طارق
٣- البحر الأحمر

(ب) -١ موطن الديانات السماوية (اليهودية، المسيحية، الإسلامية) - يضم أماكن مقدسة ذات أهمية دينية كبيرة، مثل: الكعبة المشرفة في السعودية - الكعبة المشرفة في السعودية - الأزهر الشريف في مصر.
٢- ندرة المياه العذبة - تذبذب كمية الأمطار - التصحر - زحف الرمال - الجفاف.

السؤال الثاني:

- (١) -١ (خطأ)
(ب) -١ يؤدي سوء الأحوال الجوية أحياناً إلى تأجيل أو إلغاء الرحلات الجوية.
٢- أمر الخليفة أبو بكر الصديق رضي الله عنه عن جمع القرآن بسبب استشهاد عدد كبير من حفظة القرآن في حرب المرتدين.

السؤال الثالث:

- (١) -١ الصومال
٤- سيوة
(ب) -١ لسد العجز من اللحوم الحمراء.
٢- لتأمين سواحل مصر والشام من هجمات الروم.

السؤال الرابع:

- (١) -١ التصحر
(ب) -١ الذهب
٤- السودان
٢- صناعة تحويلية
٣- غزوة بدر
٢- الأسمدة
٣- المبيدات
٥- المغرب

محافظة بورسعيد (إدارة جنوب التعليمية)



السؤال الأول:

- (١) -١ الأطلنطي
٤- المتوسط
(ب) التقويم الهجري.

(ج) تؤثر التغيرات المناخية وما يصاحبها من قلة الأمطار وانتشار الجفاف والتصحر تأثيراً سلبياً على أعداد الحيوانات - فقر المراعى في وطننا العربي - الرعى الجائر للحيوانات.

السؤال الثاني:

- (١) -١ (صواب)
٤- (صواب)
(ب) لأنه أول من أسلم من الرجال - شارك الرسول ﷺ في جميع غزواته - جعله الرسول ﷺ إماماً للمسلمين في الصلاة أثناء مرضه.

السؤال الثالث:

- (١) -١ تحويلية
٤- الأبقار
(ب) تنوع المناخ - التربة الخصبة / موارد المياه العذبة

السؤال الرابع:

- (١) -١ سيوة
٤- رياضة
(ب) ساعد على تنوع الأنشطة الاقتصادية.

محافظة المنيا (توجيه الدراسات الاجتماعية)



السؤال الأول:

- (١) -١ إقليم مناخ البحر المتوسط
٤- كردستان
(ب) -١ بسبب إشرافه على مسطحات مائية مهمة، مثل البحر الأحمر والبحر المتوسط والخليج العربي، بالإضافة إلى تحكمه في ممرات مائية مهمة وهي: مضيق هرمز، ومضيق باب المندب، ومضيق جبل طارق، بالإضافة إلى قناة السويس.
٢- لسد العجز من اللحوم الحمراء

السؤال الثاني:

- (١) -١ (صواب)
٤- (خطأ)
(ب) -١ تنوع المحاصيل الزراعية. -٢ للنهوض بالتجارة البينية العربية.

السؤال الثالث:

- (١) -١ الحديد
٤- الشام
(ب) -١ الصناعة المستدامة
٢- السياحة الثقافية

السؤال الرابع:

- (١) -١ مصر
٤- الاستواء
(ب) -١ أبو بكر الصديق رضي الله عنه
٢- التجارة الإلكترونية
٣- المدارى

رقم الإيداع: ٢٠٢٤/٩٣١٣

خدمة العملاء، 16766



جميع الحقوق محفوظة © لدار نهضة مصر للنشر

يحظر طبع أو نشر أو تصوير أو تخزين أي جزء من هذا الكتاب بأية وسيلة إلكترونية أو ميكانيكية أو بالتصوير أو خلاف ذلك إلا بإذن كتابي صريح من الناشر.



معك الكتاب معك APP



نزّل تطبيق الأضواء



1 استمتع برحلة
تعليمية تفاعلية



2 احجز دروسك
على سنتر الأضواء



3 راجع إجاباتك من
خلال 100% إجابات

بداخل الكتاب



- المراجعة النهائية
- النماذج الاسترشادية
- المهام الأدائية
- الإجابات النموذجية

احرص على اقتناء الأضواء في:

- اللغة العربية
- الرياضيات
- العلوم
- التربية الإسلامية

ALADWAA «GEM» in:

- Connect (اللغة الإنجليزية)

16766

